



# 趣味数学





- 一只青蛙一张嘴，两只眼睛四条腿，扑通掉下水；
- 两只青蛙两张嘴，四只眼睛八条腿，扑通扑通掉下水；
- 三只青蛙三张嘴，六只眼睛十二条腿，扑通扑通扑通掉下水；
- 四只青蛙（四）张嘴，（八）只眼睛（十六）条腿，扑通扑通扑通扑通掉下水。



# 谁在说谎



小明去钓鱼，但却不知道去鱼塘的路怎么走，他在路上遇到张三，李四和王五三个人，于是便向他们问路

谁知三个人各有各的说法，而且，他们又都叮嘱小明不要相信别人的话。

张三说：李四在说谎；

李四说：王五在说谎；

王五说：张三、李四都在说谎！

请问三个人中到底谁在说真话，谁在说假话呢？

**张三说假话，王五说假话，而李四是说真话。**



体育队有**17**人，合唱队有**45**人。舞蹈队人数比体育队和合唱队总人数少**4**人。舞蹈队有多少人？




# 可怜喜羊羊，雁过拔毛



村长叫我去买糖，结果买了一大把，数不清了。

饿死了，喜羊羊，分我二分之一吧。

好东西要见者有份哦。给我6颗吧。



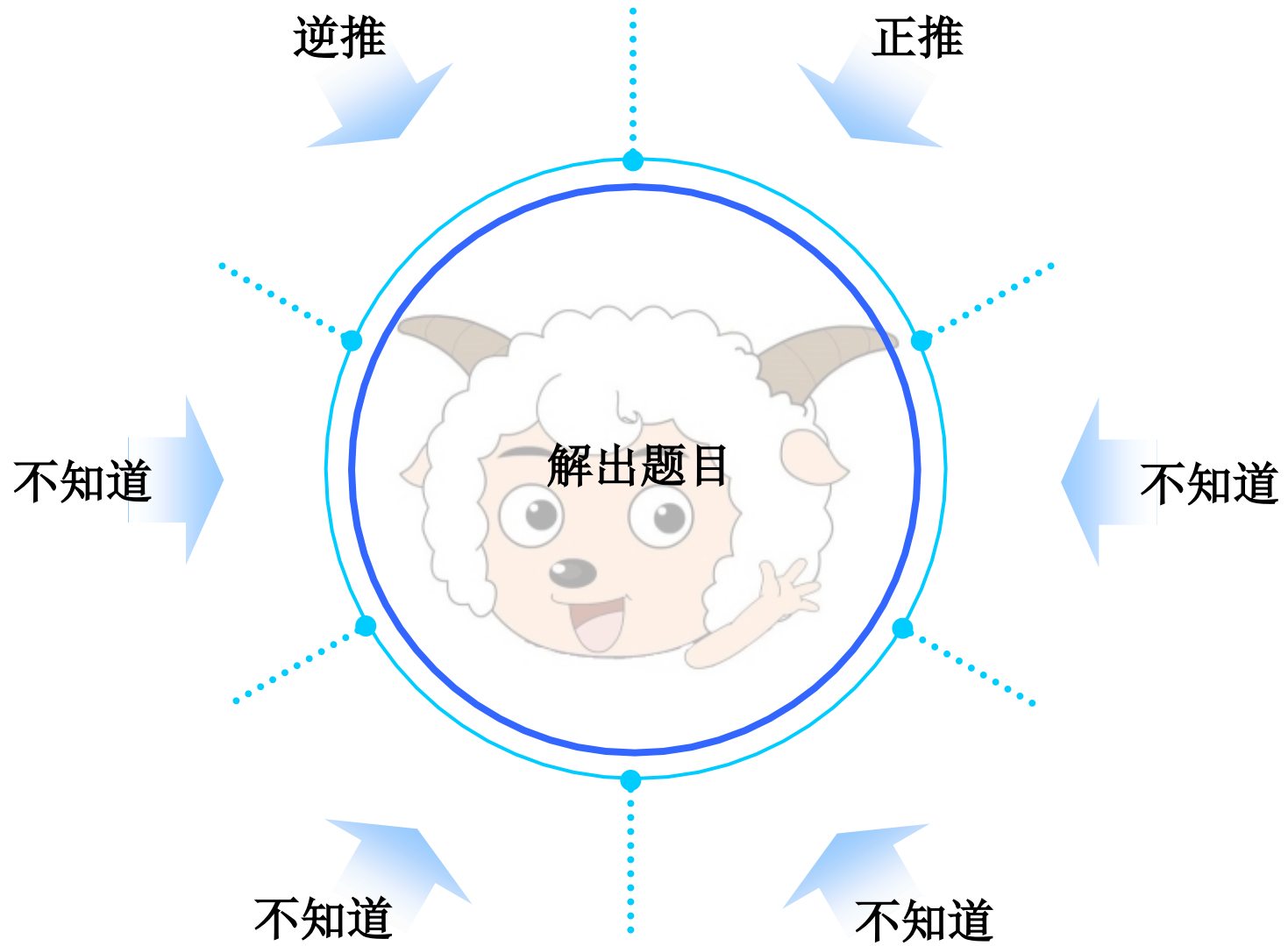
叫你买多点，你怎么就买了7颗回来啊，你是不是偷吃了啊！




行行好帮帮忙吧，分我二分之一吧，不然红太郎又要拿锅子拍我头上了。




# 解题有很多方法



# 四只腿？两只腿？




好多只



好多只

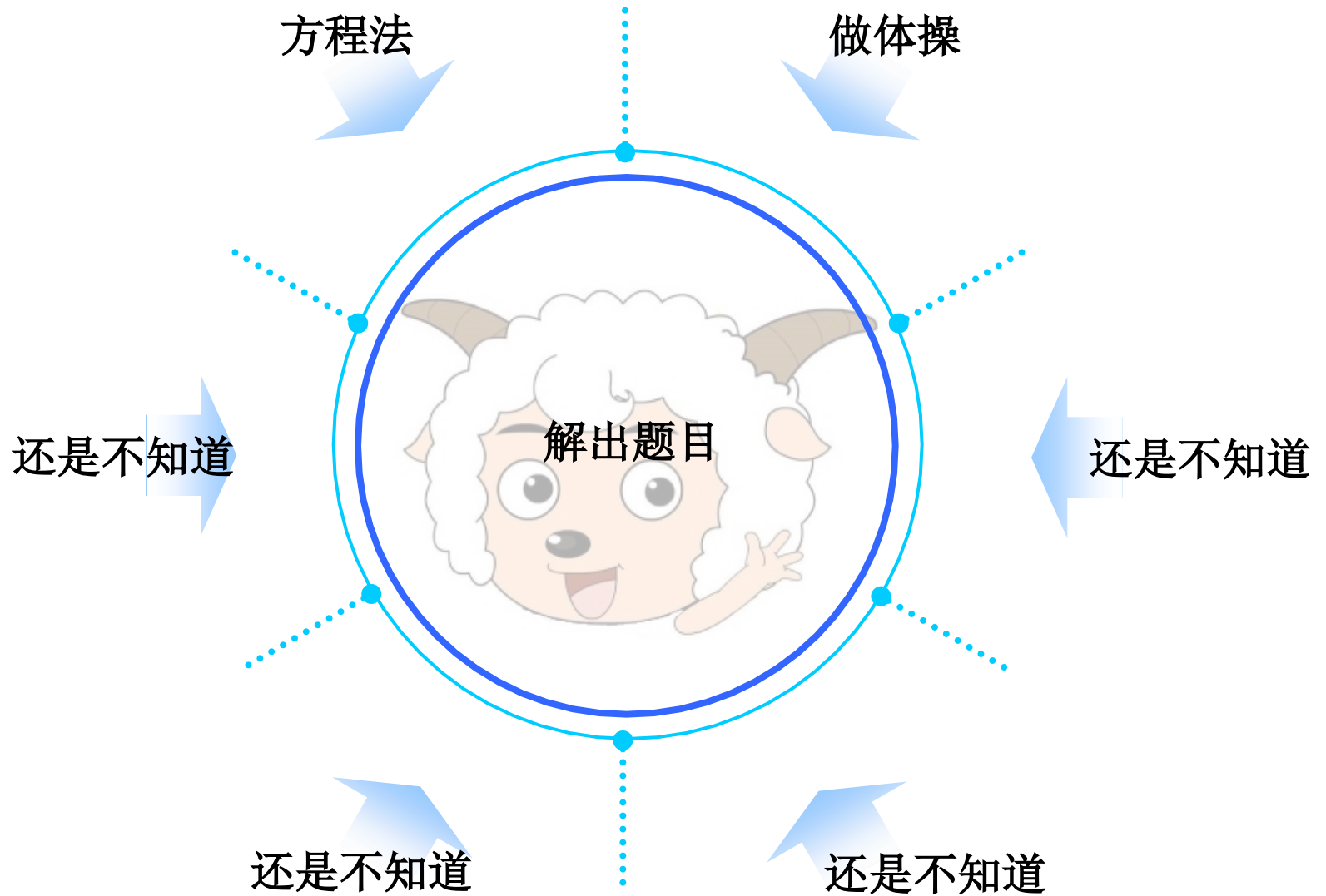
唉呀，不小心把刚买回来鸡和兔弄混了，怎么办啊。



唉哟，笼子中间挡住了。只看到一共24个头。  
80只脚OR爪子啊，怎么办？到底今天买了多少鸡多少兔子啊？



# 解题有很多方法

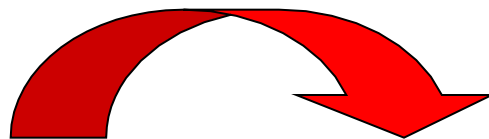




# 我养乌龟呢？



诶呀，掉村头井里了...



买了只宠物小乌龟，回去显摆显摆。

村长说过，这井得有**10米**深，卖乌龟告诉我，这小乌龟天天白天爬井能爬**3米**，不过晚上得睡觉啊，就滑下去**2米**了，那我得过几天来找我小乌龟呢？

沸羊羊，可别想当然哦！  
！！




# 我练习本还有多少？



喜羊羊在学校发了  
68本练习本

用去47本



美羊羊又送给  
喜羊羊35本



问：现在喜羊羊还有多少  
联络本啊？






体育队有**17**人，合唱队有**45**人。舞蹈队人数比体育队和合唱队总人数少**4**人。舞蹈队有多少人？





奶奶养了**24**只鸡，养鸭只数比鸡多**16**只。养鹅只数比鸭少**8**只。奶奶养了几只鹅？鸡鸭鹅总共养了多少只？





**18.**小东有**248**张画片，送给小方**39**张，送给小明**73**张。  
小东还剩多少张画片？假如小东，小方，小明再各买**54**  
张画片，那么他们总共有多少张卡片？





学校买粉笔，白粉笔比彩色粉笔多**42**盒，彩色粉笔买了**39**盒，问学校总共买了多少盒粉笔？





经过这些数学应用题要锻炼同学们：

- 灵活思维和动脑筋能力
- 计算加减法又快有准确能力
- 利用数学知识处理实际问题能力





# 找规律

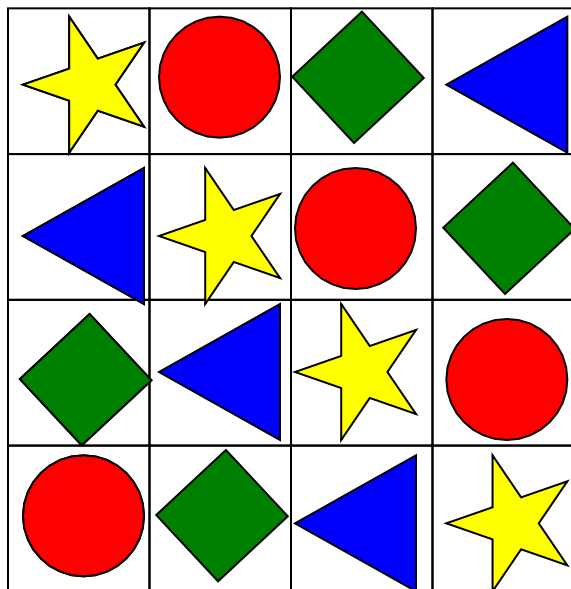




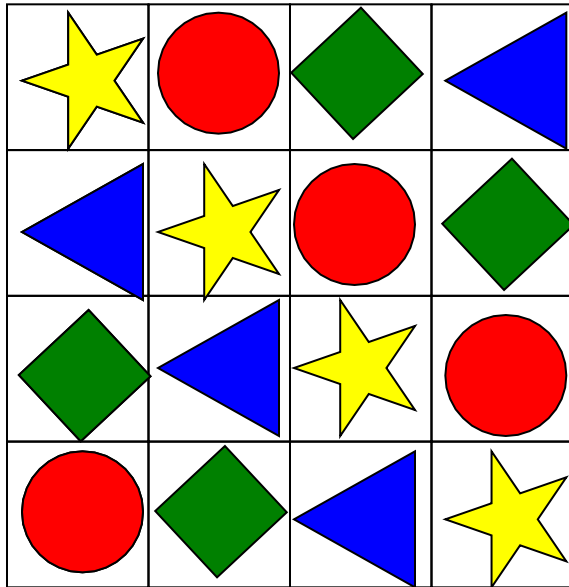
# 小强家 厨房



# 墙 砖

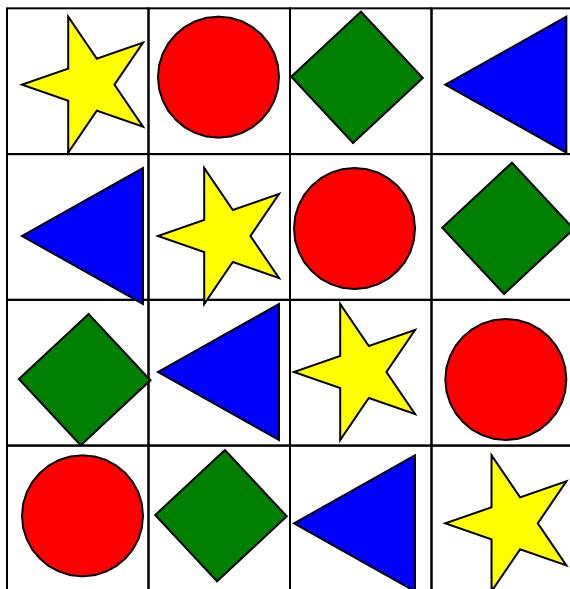
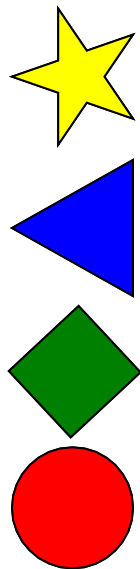


# 墙 砖







# 墙 砖





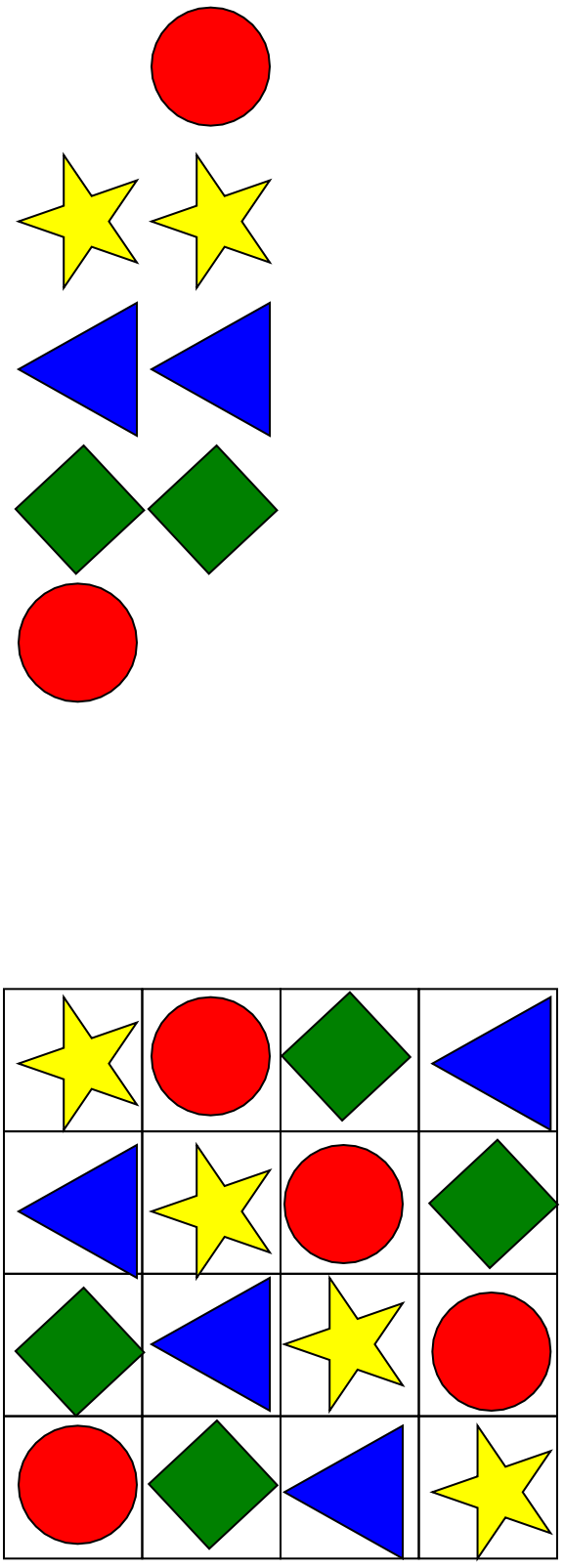
墙

砖



# 砖

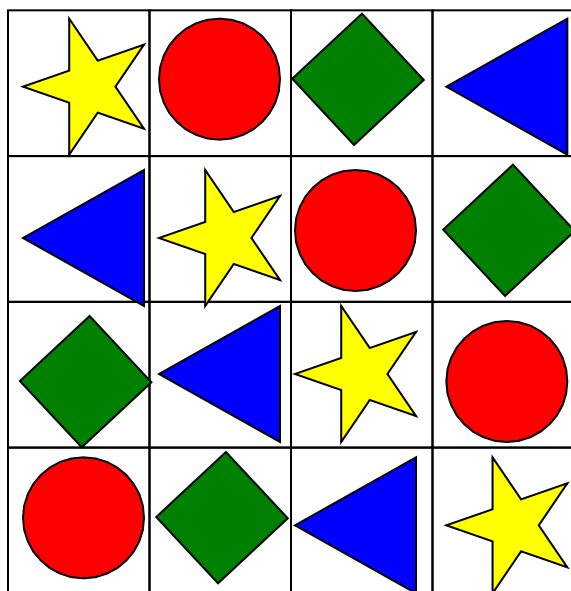

# 墙





墙

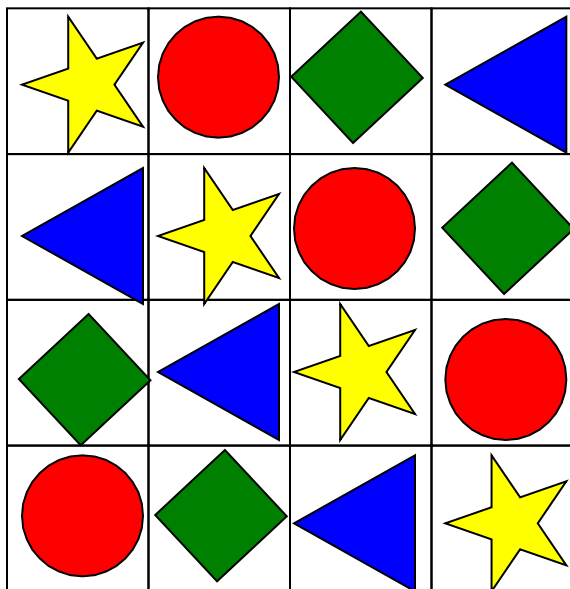

砖





墙

砖

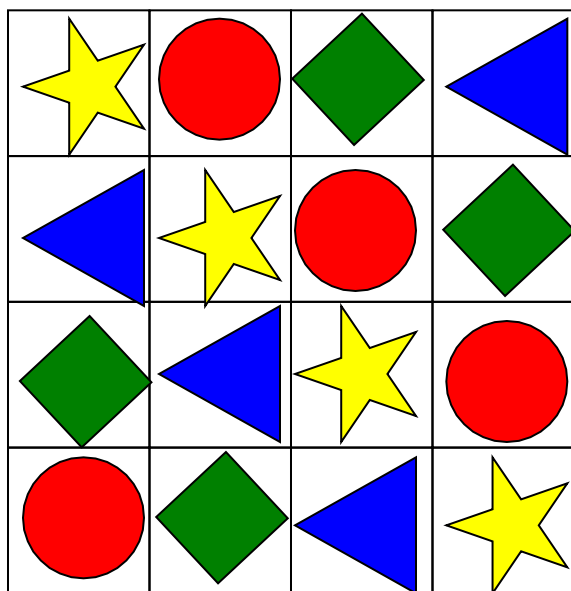







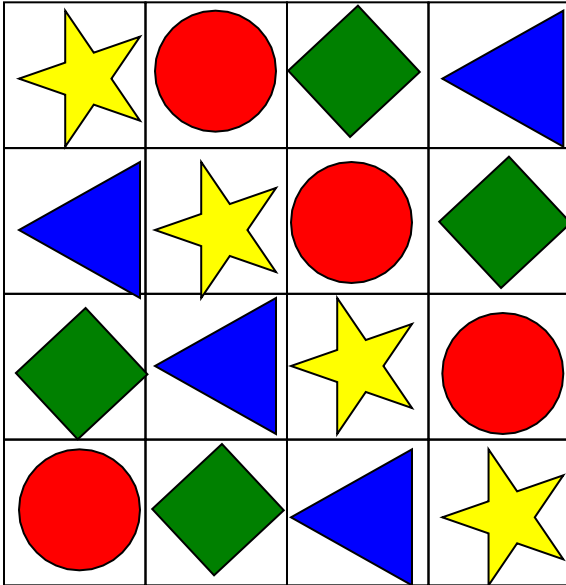

墙

砖





墙

砖



# 墙

# 砖



以上内容仅为本文档的试下载部分，为可阅读页数的一半内容。如要下载或阅读全文，请访问：<https://d.book118.com/005023230034011141>