

七年级上册地理期末模拟试卷及答案人教版

一、选择题(50分)

1. (2016·期末·天津天津市红桥区) 雾霾, 是雾和霾的组合词, 下列天气符号中, 表示雾的是 ()

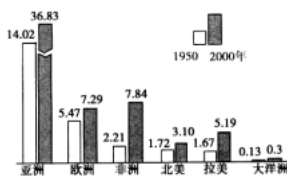
- A.  B.  C.  D. 

2. (2019·专项) 下列亚洲国家中, 人口没有超过 1 亿的是

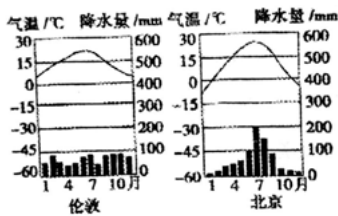
- A. 中国 B. 朝鲜 C. 印度 D. 日本

3. (2018·期中·广东深圳市宝安区) 下图为 1950 年—2000 年

世界各大洲或地区人口数量的增长图, 以下说法正确的是_____



- A. 人口增长速度最快的是亚洲
 B. 人口增长速度最慢的是欧洲
 C. 大洋洲的人口已经停止增长
 D. 经济发达地区人口增长速度快于经济欠发达地区
4. (2016·期末·天津天津市红桥区) 读伦敦、北京两地气候数据图, 对两地气候描述正确的是 ()




- A. 两地气温年较差较大的是伦敦
 B. 北京夏季降水多
 C. 两地降水都集中在夏季
 D. 伦敦全年少雨
5. (2020·模拟·北京北京市房山区) 地球仪是我们学习地理的重要工具。铠铠借助不同的地球仪学习时_____



- A. 在“普通地球仪”上可以观察到海陆分布状况
 B. 利用“经纬网格地球仪”可以演示地球上存在昼夜之分
 C. 在“磁悬浮地球仪”上可以找到地轴

D. 三个地球仪都能准确地反映地球真实形状和大小

6. (2019·学业·天津天津市和平区) 在去水上公园的路上, 同学拍下了远处的烟囱, 从照片可知当日的天气_____



7. (2018·期末·广东深圳市福田区) 海尔洗衣机品牌全球销量第一, 张裕葡萄酒是融合中、美、意、葡多国资本与技术共同打造的, 日本地震使美国汽车商面临零件短缺之苦, 这些实例说明 ()

A. 国际合作与经济全球化
B. 国际商业竞争越来越激烈
C. 国家之间和平共处
D. 国家之间的经济发展独成一体

8. (2019·期中·天津天津市) 下列天津著名建筑中与基督教文化相关的是



D.



9. (2017·期中·天津天津市红桥区) 由于地球自转造成的自然现象是 ()

A. 天气变化现象
B. 季节变化现象
C. 昼夜长短的变化现象
D. 昼夜更替现象

10. (2017·期中·天津天津市红桥区) 20世纪80年代至今, 日本在美国投资已达1万亿美元, 雇佣了近7万美国人, 涉及到钢铁、汽车、电力及电子等工业部门. 对日本采取这种发展方式原因的描述, 不正确的是 ()

A. 日本国内资源贫乏
B. 日本土地供应紧张, 国内需求减少
C. 日本人口老龄化严重, 劳动力短缺
D. 美国劳动力资源丰富, 价格低廉

11. (2020·单元测试·广东广州市) 以乌拉尔山-乌拉尔河-里海-大高加索山-黑海-土耳其海峡为界划分的两洲是 ()

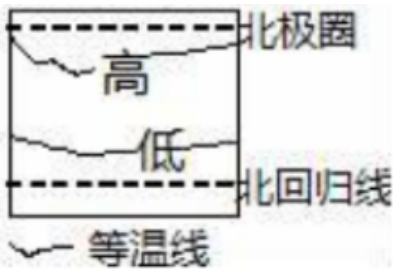
A. 亚洲、欧洲
B. 南美洲、北美洲
C. 亚洲、非洲
D. 亚洲、北美洲

12. (2019·模拟·云南昆明市) 2018年5月18

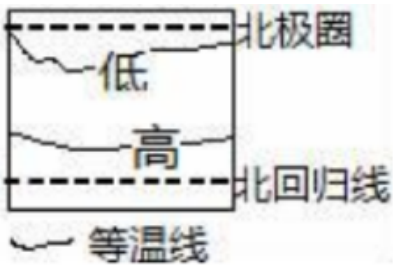
日, 强沙尘暴袭击新疆南部的阿拉尔市, 给当地生产生活带来严重影响. 下列天气符号中, 表示沙尘暴的是



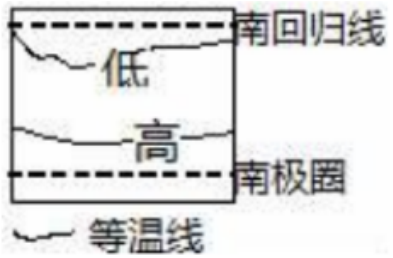
13. (2020·同步练习) 人口自然增长率在世界各大洲中居首位的大洲是 ()
 A. 亚洲 B. 欧洲 C. 北美洲 D. 非洲
14. (2018·模拟·云南昆明市盘龙区) 下列关于世界气温分布图示正确的是



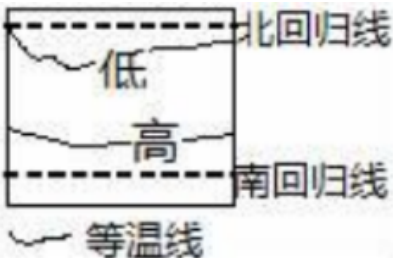
A.



B.

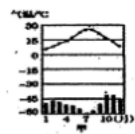


C.

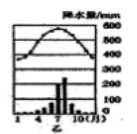


D.


15. (2018·模拟·云南昆明市西山区) 聚落的形成深受自然环境和人文环境的影响, 在发展过程中形成了不同的建筑风格。中东地区“厚墙加小窗”的特色民居主要分布在下列哪一种气候区内




A.



B.

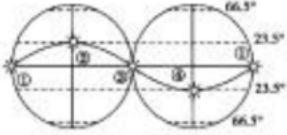


C.

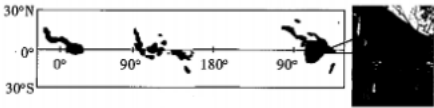


D.

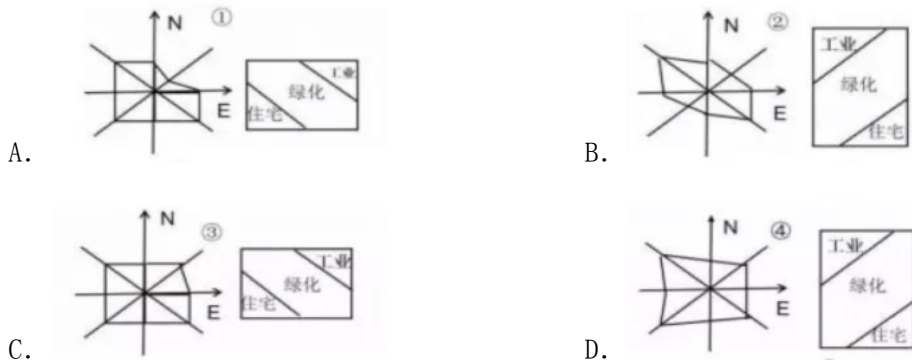
16. (2019·单元测试·天津天津市南开区) 中国共产党第十九次全国代表大会于 2017 年 10 月 18 日至 10 月 24 日在北京召开。读太阳直射点在南北回归线之间往返路径示意图, 完成本题。党的十九召开期间, 太阳直射点运行至_____




- A. ①~②之间 B. ②~③之间 C. ③~④之间
D. ④~①之间
17. (2019·模拟·云南昆明市) 如图为某气候类型分布示意图及该气候区某地的典型传统建筑。据图推断阴影区域最可能是_____



- A. 热带季风气候 B. 热带雨林气候 C. 热带沙漠气候
D. 热带草原气候
18. (2019·模拟·云南昆明市) 下列有关世界人口、语言与宗教的叙述, 正确的是
- A. 青藏地区的人口分布较为稀疏 B. 美洲的印第安人属于白色人种
C. 阿拉伯语是印度的通用语言 D. 基督教主要分布在西亚地区
19. (2019·真题) 以下地区风向频率和城市分布合理的是

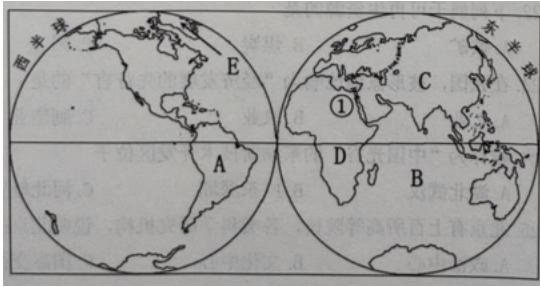


20. (2018·期末·广东深圳市罗湖区) 下面四幅景观图片中, 属于城市聚落的是 ()



二、复合题 (48分)

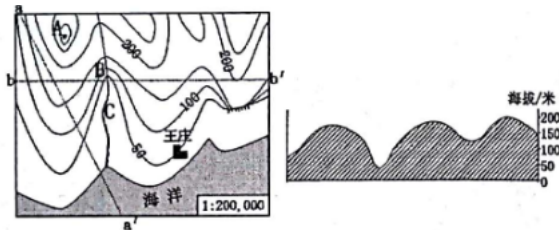
21. (2020·真题·黑龙江绥化市) 读大洲和大洋的分布图, 回答下列问题。



- (1) 世界海陆分布很不均匀，根据计算，陆地仅占地球表面____（填 29% 或 71%）
- (2) 北美洲和 A____
洲主要分布在西半球。
- (3) 全部位于东半球的大洋 B 是_
洋。
- (4) C 大洲与 D 大洲的分界线①是____运河。
- (5) 世界上面积最大的岛屿 E 是_
岛。

22. （2017·期末·天津天津市和平区）

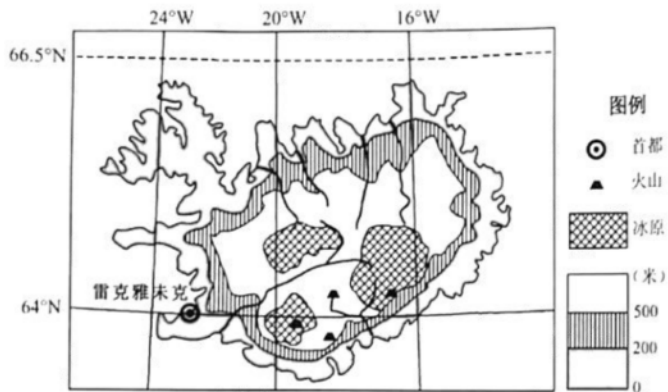
如图为某区域等高线地形图，和某同学绘制的地形剖面图。读图完成下列各题。



- (1) 地形部位名称：A 是____，B 是____。图中王庄的海拔为____米。
- (2) A 地位于王庄的____方向；若两地图上直线距离为 4 厘米，则实地水平距离为____千米。
- (3) 剖面图是沿左图中 bb' 剖面线绘制而成的，可以看出沿线地势____（起伏较大/平坦）。
- (4) B、C 两处河段，流速较快的是____，判断理由是____。

23. （2020·真题·广东广州市）阅读图文材料，完成下列问题。

冰岛境内冰川和火山大范围并存，温泉广布，85%的人口利用地热取暖，被称为“冰与火之国”。如图是冰岛地形示意图。



- (1) 冰岛地处五带中的____带；____（经线）穿过，地跨东西半球。
- (2) 冰岛因____高，气温低，____广布。
- (3) 冰岛位于板块张裂地带，多火山、温泉，____（能源）丰富。
- (4) 冰岛是欧洲人口密度最小的国家之一，分析其原因。____。
- (5) 与热带海岛相比，分析冰岛旅游的特色。

答案

一、选择题

1. 【答案】C

【解析】【分析】在天气预报图上，我们可以看到一些符号，这些符号都是用来表示天气状况的，他们都有特定的含义。我们只有认识各种天气符号，才能看懂天气预报，才能为我们的生活和生产服务。

【解析】解：读图可知：A表示的天气是雨夹雪，B表示的天气是多云，C表示的天气是雾，D表示的天气是霾。

故选：C。

【点评】本题主要考查常用的天气预报符号的解读，牢记即可。

【知识点】常用的天气符号

2. 【答案】B

【知识点】世界人口的分布特点、亚洲的位置与范围

3. 【答案】A

【解析】由图可知，人口增长速度最快的是非洲；人口增长速度最慢的是欧洲；大洋洲的人口仍然还在增长；经济发达地区人口增长速度慢于经济欠发达地区，故选 A。

【知识点】人口统计图表的判读

4. 【答案】B

【解析】【分析】在气温和降水量变化示意图中，横坐标轴表示月份，纵坐标轴左侧表示气温，右侧表示降水量，气温年变化用平滑的曲线表示，降水年变化用长方形柱状表示。观察气温曲线图，可以知道气温最高月和气温最低月，气温最高值和气温最低值，观察降水柱状图，可以知道降水集中的月份和各月降水量。

【解析】解：气温年较差是一年中最高月平均气温减去一年中最冷月平均气温，读图可得，两地气温年较差较大的是北京，故A错误；

图中所示北京夏季降水较多，故B正确；

伦敦终年湿润，故CD错误；

故选：B。

【点评】本题考查气候资料图的判读，读图解答即可。

【知识点】降水量及其柱状图的判读、绘制、气温变化曲线图的判读和绘制

5. 【答案】A

【解析】在“普通地球仪”上，能用不同的颜色来观察到海陆分布状况，故 A 正确；“经纬网格地球仪”只标有经度和纬度，是透明的，不能演示地球上存在昼夜之分，故 B 错；在“磁悬浮地球仪”上不能够找到地轴，故 C 错；三个地球仪都不能准确地反映地球的真实形状和大小，故 D 错；所以该题的答案选 A。

【知识点】地球表面海陆分布概况、地球的模式-地球仪

6. 【答案】B

【知识点】常用的天气符号

7. 【答案】A

【解析】【分析】随着知识经济和信息时代的来临，国家与国家之间各成体系、相对封闭的经济格局已被打破。资源、技术、人才、信息等逐渐成为全球共享的财富，各国各地区的经济联系越来越紧密，产品生产的分工协作越来越显著。大量跨国公司和

全球性的经济贸易组织的出现，使各国的经济更加相互依赖，相互融合，并朝着经济全球化的方向发展。

【解析】解：根据题意正是说明了资源、技术、人才、信息等逐渐成为全球共享的财富，各国间的经济联系越来越紧密，产品生产的分工协作越来越显著。

使各国的经济呈现更加相互依赖，相互融合，并朝着经济全球化的方向发展。

故选：A。

【点评】此题考查的属于基础性的知识，对于此类型的题目就要多结合教材熟练记忆。

【知识点】国际经济合作的原因

8. 【答案】A

【解析】基督教的宗教建筑是教堂，伊斯兰教的宗教建筑是清真寺，佛教的宗教建筑是寺庙，由图可知，图中 A 是天津望海楼教堂，属于与基督教文化相关的建筑，故选 A。

【知识点】三大宗教的建筑景观

9. 【答案】D

【解析】【分析】地球绕着地轴不停地旋转叫地球自转，地球自转的方向为自西向东，地球自转产生的地理现象是昼夜交替和时间差异。

【解析】解：天气变化与地球自转关系不大，季节变化现象、昼夜长短的变化现象都是地球公转造成的自然现象，而昼夜更替现象是地球自转造成的自然现象。

故选：D。

【点评】本题主要考查地球自转产生的现象。日月星辰东升西落也是地球自转产生的现象。

【知识点】昼夜长短的变化规律

10. 【答案】D

【解析】【分析】美国是世界上的农业大国，是世界上主要的农产品生产国和出口国，并且实现了农业生产专门化，机械化水平高，效率高，产量大。美国工农业生产总值居世界首位，是世界上第一经济强国。

【解析】解：日本的工业多面向国际市场，很多工业分布在美国等国家，主要原因是日本国内资源缺乏、土地面积狭小，国内市场小，且日本的人口老龄化严重，劳动力缺乏，美国是世界上最发达的国家，劳动力资源比较丰富，但价格比较高。

故选：D。

【点评】本题考查日本和美国的经济，理解解答即可。

【知识点】国家和地区的差异及其关系

11. 【答案】A

【解析】【分析】大洲之间往往以山脉、河流、湖泊、运河、海峡等地理事物为分界线。亚洲与欧洲分界线是乌拉尔山脉、乌拉尔河、里海、大高加索山脉、黑海、土耳其海峡。

【解析】解：亚洲与欧洲分界线是乌拉尔山脉、乌拉尔河、里海、大高加索山脉、黑海、土耳其海峡。

故选：A。

【点评】本题考查知识点简单，牢记即可。

【知识点】大洲分界线

12. 【答案】D

【知识点】常用的天气符号

13. 【答案】D

【解析】【分析】人口自然增长率与经济发展水平有密切关系。一般来说，经济发展水平高的国家和地区，人口的自然增长较慢；经济发展水平低的国家和地区，人口的自然增长率较高。

【解析】解：非洲、亚洲和拉丁美洲人口的自然增长较快。其中，非洲是世界上人口自然增长率最高的大洲。

故选：D。

【点评】本题考查了世界人口增长的知识点。这是一道基础性题目。

【知识点】人口问题

14. 【答案】B

【解析】世界气温的分布规律是：从低纬度向高纬度逐渐降低，在北半球气温从南往北逐渐降低；南半球正好相反。读图可知，ACD 所示气温分布规律错误，故 B 符合题意。

【知识点】世界年平均气温的分布规律

15. 【答案】D

【知识点】气候统计图的判读方法

16. 【答案】C

【知识点】太阳直射点的移动规律

17. 【答案】B

【知识点】世界气候类型的分布

18. 【答案】A

【知识点】世界的主要语言及其分布、世界三大宗教及其特点、世界的人种及其分布

19. 【答案】A

【知识点】风向和风级的判读

20. 【答案】B

【解析】【分析】人们集中地居住在一起，就形成了聚落。从规模上看，聚落有大有小，大到人口上千万的巨型都市，小到只有几十个人的村庄。聚落的主要形式包括城市和乡村，它们具有不同的景观特色。

【解析】解：城市是人口达到一定规模，主要从事非农业生产活动的居民聚居地。城市和乡村景观有明显的差别，城市自然景观变化快，道路纵横，网线密集，人口密度大，商店学校较多，读图可得，B图所示的是城市聚落，其楼房林立，交通线密集。

故选：B。

【点评】本题考查城市与乡村聚落，读图理解解答即可

【知识点】乡村聚落与城市聚落的区别

二、复合题

21. 【答案】

(1) 29%；

(2) 南美；

(3) 印度；

(4) 苏伊士；

(5) 格陵兰；

【知识点】大洲分界线、东西半球和南北半球的划分、世界之最、地球表面海陆分布概况、大洲大洋名称、位置、轮廓

22. 【答案】

- (1) 山峰；山谷；50；
- (2) 西北；8；
- (3) 起伏较大；
- (4) B；B 处坡度较 C 处陡，水流急；

【知识点】山体地形部位的判读、地形剖面图的读取和应用、坡度大小的判断、一般定向法、海拔和相对高度及其计算

23. 【答案】

- (1) 北温；北极圈；
- (2) 纬度；冰川；
- (3) 地热；
- (4) 气候寒冷
- (5)

位于（美洲板块和亚欧板块）生长边界，火山地貌广布，温泉众多；纬度高，气温低，且降水量大，冰川地貌广布。

【解析】

(1)

冰岛共和国，简称冰岛，是北大西洋中的一个岛国；读“冰岛地形示意图”可知，冰岛的经纬度范围约为： $14^{\circ} W-26^{\circ} W$ 、 $64^{\circ} N-$

$66^{\circ} 34'$ 。可判定，其跨东西半球、地处北温带，北极圈穿过领土北部。

(2) 冰岛纬度较高，海拔较高，气温低，冰川广布，所以冰岛被称为“冰火之国”。

(3) 冰岛位于板块张裂地带，多火山、温泉，地热丰富。

(4)

冰岛因纬度较高，气候寒冷，人口密度小，城市集中分布在岛屿边缘的沿海地带。

(5)

由于冰岛纬度高，降水丰富，冰川地貌广布；另一方面主要由于位于（美洲板块和亚欧板块）生长边界，火山地貌广布，温泉众多。

【知识点】影响人口分布的主要因素、影响气温的因素、板块运动及产生的现象、特殊的纬线、地图上的图例、五带的划分及特点、地方文化特色对旅游业的影响

一、选择题(60分)

24. （2019·学业·天津天津市东丽区）下列选项中可以说明地球的形状为球体的是（ ）

①月食②卫星照片③欲穷千里目，更上一层楼

④流星现象⑤昼夜更替⑥环太平洋地带多火山地震

A. ③④⑤

B. ②③⑥

C. ①②⑥

D. ①②③

25. （2017·期末·上海上海市）描述气候特征的基本要素是

A. 降水和温度

B. 气温和降水

C. 气压和气温

D. 湿度和气压

26. （2020·真题·上海上海市）连接地中海和大西洋的海峡是

A. 土耳其海峡

B. 直布罗陀海峡

C. 马六甲海峡

D. 英吉利海峡

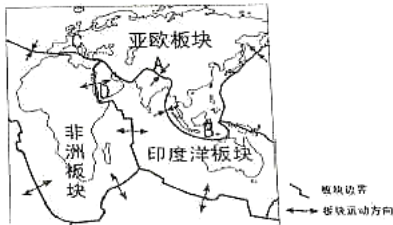
27. （2020·真题·黑龙江双鸭山市）某一地点位于东半球、北半球、中纬度，则该地是

- A. 20°N 120°E
- B. 40°N 165°E
- C. 30°N 90°E
- D. 50°N 15°W

28. (2019·学业·天津天津市和平区) 老师组织学生使用手机的电子地图去水上公园实践。电子地图的好处是

- A. 可以改变比例尺大小
- B. 可以改变图幅大小
- C. 不需要图例和注记
- D. 无需确定方向

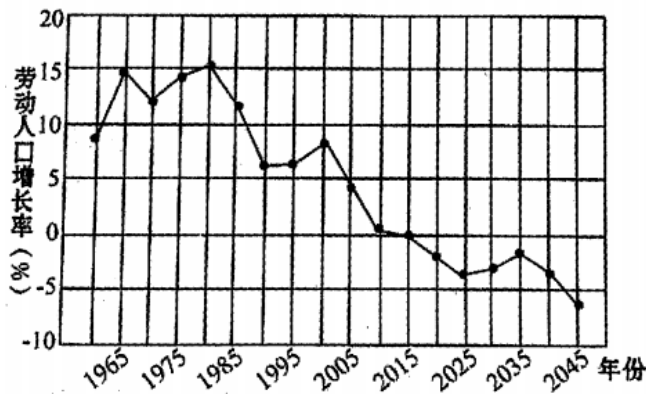
29. (2019·期中·云南昆明市官渡区) 如图关于板块运动, 说法正确的是_____



- A. A 高原的形成是亚欧板块与非洲板块的挤压
- B. B 处多火山地震的原因是位于板块交界地带
- C. C 山脉的形成是亚欧板块与非洲板块的张裂
- D. D 海域缩小是非洲板块与印度洋板块的挤压

30. (2019·模拟·云南昆明市) 读“我国 1960—2045

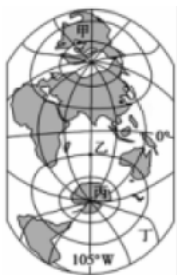
年劳动人口增长率变化图(含预测)”, 根据目前劳动人口增长率的变化趋势, 下列说法正确的是_____



- A. 目前我国人口基数比较大, 未来不会出现劳动力短缺的问题
- B. 2045 年我国可以从国外引进大量的劳动力
- C. 我国可以鼓励劳动人口到国外就业, 缓解国内就业压力
- D. 当前我国应继续实施“二孩政策”

31. (2019·模拟·云南昆明市) 竖版世界地图是由中科院武汉测量与地球物理研究所的

研究员赫晓光绘制的, 于 2013 年 9 月以地势图的形式出版了第一张竖版地图(即南半球版)。这幅在寻常人眼中极其“另类”的地图, 在航空航天、科学考察、军事等领域却有着至关重要的作用。读“竖版世界地图”, 判断下列说法正确的是_____



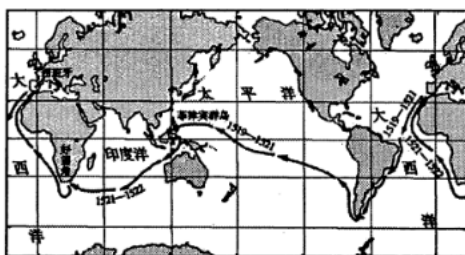
- A. 甲位于亚洲 B. 乙位于大西洋 C. 丙位于南美洲
D. 丁位于太平洋
32. (2018·模拟·云南昆明市五华区) 成语“南辕北辙”，指要到南方去，却驾着车往北走，比喻行动和目的相反，最后不能到达目的地。如果“东辕西辙”理论上可以到达目的地，解释其原因正确的是_____
- ①经线等长，纬线不等长
②经线指示南北方向，纬线指示东西方向
③经线是圆，纬线是半圆
④经线是半圆，纬线是圆
- A. ②③ B. ①④ C. ②④ D. ①③
33. (2020·真题·广西贵港市) 2019年4月25日至27日，中国在北京主办第二届“一带一路”国际高峰论坛。在论坛筹备进程中和举办期间，与会各方达成了283项务实成果，签署了总额640多亿美元的项目合作协议。这个实例体现的意义是
- A. 不利于各国经济的独立发展 B. 国家之间的和平共处
C. 国家之间经济发展极不平衡 D. 国际合作和经济全球化
34. (2020·真题·贵州铜仁市) 气候的两大基本要素是
- A. 湿度、风力 B. 气温、降水 C. 气压、风力
D. 风力、降水
35. (2019·单元测试·天津天津市南开区) 如图为“地球仪上的经纬网图”，图中既位于北半球又位于东半球的点是_____



- A. 甲 B. 乙 C. 丙 D. 丁
36. (2019·单元测试·天津天津市南开区) 下列有关地球自转方向的图示，正确的是

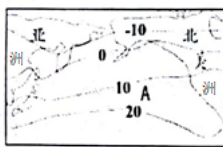


37. (2018·模拟·云南昆明市西山区) 1519年9月麦哲伦率领船队从西班牙出发开始环球航行, 于1522年9月回到欧洲, 首次完成了人类环球航行的壮举。图为麦哲伦环球航行线路图。麦哲伦



船队的这次航行证明了_____

- A. 天圆地方
B. 天如斗笠, 地如棋盘
C. 陆地是中心, 大海是陆地的边缘
D. 地球是个球体
38. (2017·期末·天津天津市红桥区) 关于此区域年平均气温分布图, 所述正确的是 ()



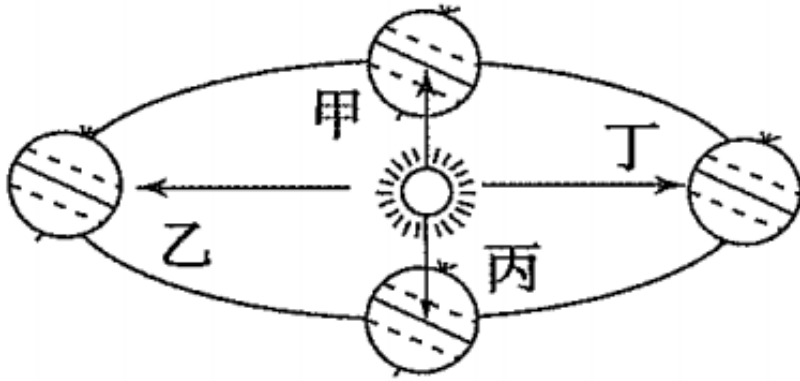
- A. 图示地区气温分布的总趋势是由南向北逐渐增高
B. 图示地区气温分布的总趋势是由南向北先增后减
C. 纬度位置是影响此区域气温分布总趋势的主要因素
D. 图中A所在的大洋是印度洋
39. (2019·模拟·云南昆明市) 读“昆明市3月28日~4月1日的天气预报图”, 判断下列说法正确的是_____



- A. 昆明市3月28日的天气状况是多云
B. 昆明市3月29日的温差是18°C
C. 周六天气晴朗, 适合去昆明动物园(圆通山)春游
D. 3月31日和4月1日有中到大雨, 外出需带雨伞
40. (2019·单元测试·天津天津市南开区) 图中这种现象产生的原因是_____



- A. 地球公转 B. 地球自转 C. 五带划分 D. 季节变化
41. (2019·专项) 下列经纬线中，通过英国伦敦格林尼治天文台旧址的是
A. 0° 纬线 B. 116° 经线 C. 0° 经线 D. 20° 经线
42. (2019·专项) 天津市某中学生小明到黑龙江漠河去旅游，他观察到：这一天太阳挂在空中的时间很短，只有不足 7 个小时，这一天最有可能是图中的_____



- A. 甲 B. 乙 C. 丙 D. 丁
43. (2020·单元测试) 1999 年夏季，我国首次派遣一艘科学考察船对北冰洋进行考察。下列叙述正确的是
A. 考察船经马六甲海峡进入北冰洋
B. 考察船经亚洲、非洲分界线的苏伊士运河进入北冰洋
C. 考察船经太平洋、白令海峡进入北冰洋
D. 考察船经太平洋、巴拿马运河、大西洋进入北冰洋

二、复合题 (40分)

44. (2016·期末·天津天津市和平区)

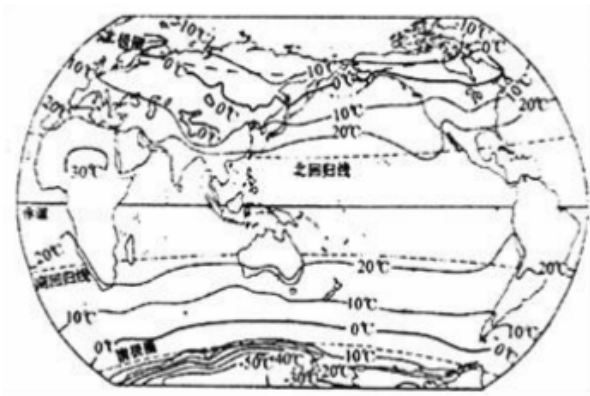
世界不同地区在各个方面存在着明显的差异，读“世界灯光分布影像图”，回答下列两小题。



- (1) 从图中分析，灯光亮度大的地区主要分布在
A. 中纬度 B. 高纬度 C. 南半球
D. 内陆地区
- (2) 灯光亮度的差异可直接反映的地区差异是

- A. 城市发展水平
- B. 医疗水平
- C. 教育水平
- D. 国防水平

45. (2016·期末·天津天津市红桥区) 读世界年平均气温分布图, 回答下列问题。



- (1) 图中年平均气温高于 20°C 的地区与五带中____带的范围大体一致, 年平均气温低于 - 10°C 的地区与五带中____带的范围大体一致。
- (2) 世界年平均气温分布大致由低纬向高纬_____。
- (3) 气温随海拔升高而____, 通常每升高 100 米, 气温变化约°C。
- (4) 图中南半球等温线比北半球平直, 原因是南半球
 - A. 地势低平
 - B. 平原面积广阔
 - C. 海洋广阔
 - D. 受太阳光热均匀

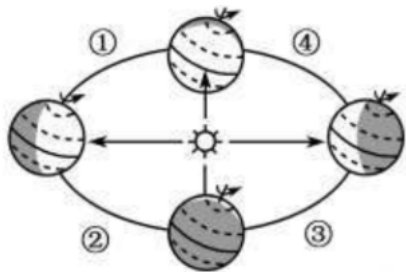
46. (2016·期末·天津天津市和平区)

地图是学习地理的重要工具, 学会正确选择和使用地图, 可以方便我们的生活。仔细阅读下面的材料, 回答更好列两小题。

- ①小强的爸爸去云南旅游, 小强查阅了“中国政区图”想知道云南在哪里
- ②玲玲想了解北京故宫在什么位置, 她查阅了“北京城区图”
- ③小伟要去美国探访朋友, 要了解美国的交通线, 他查阅了世界地形图
- ④兰兰去黄山旅游, 她参考了“黄山导游图”

- (1) 上面材料中的四位同学对地图选择不正确的是
 - A. 小强
 - B. 玲玲
 - C. 小伟
 - D. 兰兰
- (2) 上面四位同学查阅的地图, 如果图幅相同, 比例尺最小的是
 - A. 中国政区图
 - B. 北京城区图
 - C. 世界政区图
 - D. 黄山导游图

47. (2020·真题·山东德州市) 椰风拂碧海，神箭冲九霄。北京时间 2020 年 5 月 5 日 18 时，我国长征五号 B 运载火箭从文昌航天发射场点火升空，正式拉开我国载人航天工程“第三步”任务的序幕。读图完成下面的题。



- (1) 长征五号 B 运载火箭于北京时间（东八区）2020 年 5 月 5 日 18 时点火升空，此时开罗（东二区）是
- | | |
|-----------------|--------------|
| A. 5 月 5 日 8 时 | B. 5 月 6 日零时 |
| C. 5 月 5 日 12 时 | D. 5 月 5 日零时 |
- (2) 长征五号 B 运载火箭发射时，下列地理现象描述正确的是
- | | |
|-----------------|----------------|
| A. 北半球昼长夜短，白昼渐短 | B. 地球位于公转轨道的①段 |
| C. 华北平原上正在收割小麦 | D. 太阳直射点开始向南移动 |

答案

一、选择题

1. 【答案】D

【解析】【分析】地球是一个巨大的球体。今天，人们通过从宇宙空间发回的地球卫星照片，就能看清地球的真实形状。但是，在此之前，由于科学技术条件的限制，人们无法看到地球的全貌。对地球形状的认识，经历了漫长而艰难的探索过程。

【解析】解：能证明地球形状是球体的例子很多，如乘船出海时，港口的灯塔会从下到上依次从视野中消失，离岸的船总是船身先消失，桅杆后消失、站得高，才能看得远、世界不同地区，看北极星的仰角不同、月食时，阴影始终是弧形的、麦哲伦环球航行、人造卫星拍摄的地球照片，人越往山上爬，看到的地平圈就越大（或站在大地上，无论向那个方向走，永远也走不到地平线）等。

故选：D。

【点评】在学习中要注意积累。同时还要注意各自然现象的本质。

【知识点】认识地球形状的过程

2. 【答案】B

【知识点】气候的两大要素

3. 【答案】B

【解析】大洲之间往往以山脉、河流、湖泊、运河、海峡等地理事物为分界线，直布罗陀海峡是非洲和欧洲的分界线，沟通了地中海和大西洋，土耳其海峡黑海和地中海，马六甲海峡沟通太平洋和印度洋，英吉利海峡沟通北海和大西洋。故选 B。

【知识点】世界上重要的海峡

4. 【答案】D

【解析】东西半球分界线是 $20^{\circ}W$ 和 $160^{\circ}E$ 组成的经线圈， $20^{\circ}W$ 以东、 $160^{\circ}E$ 以西为东半球， $20^{\circ}W$ 以西、 $160^{\circ}E$ 以东为西半球。南北半球的划分是以 0° 纬线即赤道为界，赤道以北为北半球，以南为南半球。纬度划分， $0^{\circ} \sim 30^{\circ}$ 为低纬度地区， $30^{\circ} \sim 60^{\circ}$ 为中纬度地区， $60^{\circ} \sim 90^{\circ}$ 为高纬度地区。可判定，A 位于东半球、北半球、低纬度；B 位于西半球、北半球、中纬度；C 位于东半球、北半球、低中纬度分界线上；D 位于东半球、北半球、中纬度，D 正确。故选 D。

【知识点】东西半球和南北半球的划分、纬度的划分

5. 【答案】A

【知识点】地图的应用——选择合适的地图

6. 【答案】B

【解析】A. 青藏高原的形成是亚欧板块与印度洋板块的挤压，故 A 错误；B. 马来群岛多火山、地震的原因是位于板块交界地带，地壳不稳定，故 B 正确；C. 阿尔卑斯山脉的形成是亚欧板块与非洲板块的碰撞挤压形成的，故 C 错误；D. 红海位于印度洋板块与非洲板块之间，因为印度洋板块和非洲板块正不断发生张裂运动，因此红海的面积应不断扩大，形成新的大洋，故 D 错误；故选 B。

【知识点】板块运动及产生的现象

7. 【答案】D

【知识点】人口增长过快产生的问题及对策、人口统计图表的判读、人口增长过慢产生的问题及对策

8. 【答案】D

【知识点】大洲大洋名称、位置、轮廓

9. 【答案】C

【知识点】纬线的特点

10. 【答案】D

【解析】中国在论坛筹备进程中和举办期间，与会各方达成了 283 项务实成果，签署了总额 640

多亿美元的项目合作协议，使中国与世界各国的经济相互融合，并朝着经济全球化的方向发展，它有利于在世界范围内配置资源，有利于资本和产品的全球性流动，有利于各国经济与技术密切合作，有利于世界经济的发展；根据题意，结合选项。故选：D。

【知识点】国际合作的重要性

11. 【答案】B

【解析】气候的两大基本要素是气温和降水，气温的单位是℃，降水的单位是毫米。故选：B。

【知识点】气候的两大要素

12. 【答案】B

【知识点】东西半球和南北半球的划分

13. 【答案】A

【知识点】地球自转的特征

14. 【答案】D

【知识点】认识地球形状的过程

15. 【答案】C

【解析】【分析】世界气温分布规律有三条：①从纬度位置看：从低纬度向两极气温逐渐降低；②从海陆位置看：同纬度的海洋和陆地气温并不一样，夏季陆地气温高，冬季海洋气温高；③从海拔高度看：地势越高气温越低，海拔每升高100米气温下降0.6℃。

影响气候的因素主要有纬度因素、海陆因素、洋流、地形地势因素和人类活动等。

【解析】解：由于纬度因素影响，对于北半球来说，纬度越高，气温越低。图中的等温线分布来看从低纬度向高纬度逐渐降低，故选项C符合题意。

故选：C。

【点评】此题考查影响气候的因素，记忆回答即可。

【知识点】影响气候的主要因素

16. 【答案】C

【知识点】常用的天气符号、天气预报的主要内容

17. 【答案】B

【解析】地球自转是地球绕地轴自西向东转动的运动方式，其周期为一天。我们每天经历的昼夜更替，看到日月星辰的东升西落，时区的差异（东部的时刻早于西部），主要是由于地球自转运动所产生的地理现象。故造成图中美国和中国时差的原因是地球自转。

【知识点】正午太阳高度及其变化规律

18. 【答案】C

【知识点】特殊的经线

19. 【答案】D

【知识点】二分二至日

20. 【答案】C

【解析】白令海峡是北冰洋与太平洋之间的唯一通道，1999年夏季，我国首次对北冰洋进行考察，考察船经太平洋、白令海峡进入北冰洋。

【知识点】世界上重要的海峡

二、复合题

21. 【答案】

(1) A

(2) A

【解析】

(1)

世界上绝大多数人居住在中低纬度地区，而在气候温和、降水较多的平原和盆地地区，人口更为集中。中低纬度的临海平原地带往往形成人口稠密地区，比如亚洲的东部和南部，欧洲的西部，北美洲和南美洲的东部等。从图中分析，灯光亮度大的地区（人口多）主要分布在中低纬度的临海平原地带。

(2)

世界上绝大多数人居住在中低纬度地区，而在气候温和、降水较多的平原和盆地地区，人口更为集中。中低纬度的临海地带往往形成人口稠密地区，灯光亮度的差异反映了人口密度的差异。灯光亮的地区人口密集，城市发展水平高。

【知识点】世界人口的分布特点、纬度的划分

22. 【答案】

(1) 热；寒；

(2) 逐渐降低；

(3) 降低；0.6；

(4) C

【解析】

(1) 图中年平均气温高于

20℃的地区与五带中热带的范围大体一致，年平均气温低于-10℃的地区与五带中寒带的范围大体一致。

(2) 世界年平均气温分布大致由低纬向高纬逐渐降低。

(3) 气温随海拔升高而降低，通常每升高100米，气温下降约0.6℃。

(4) 图中南半球等温线比北半球平直，原因是南半球地形单一，海洋面积广阔。

【知识点】五带的划分及特点、影响气温的因素、世界年平均气温的分布规律

23. 【答案】

(1) C

(2) C

【解析】

(1)

在庞大的地图家族中，有自然地图和社会经济地图。自然地图包括地形图、气候图、水文图、植被图等，社会经济地图包括工业图、农业图、商业图、交通图、人口分布图等。日常生活中，我们应根据实际需要选择合适的地图。①小强的爸爸去云南旅游，小强查阅了“中国政区图”想知道云南在哪里，正确；②玲玲想了解北京故宫在什么位置，她查阅了“北京城区图”，正确；③小伟要去美国探访朋友，要了解美国的交通线，他查阅了世界地形图，错误，应该查阅美国交通图；④兰兰去黄山旅游，她参考了“黄山导游图”，正确；故选项C符合题意。

(2)

相同图幅，范围越大比例尺越小，内容越简略；范围越小比例尺越大，内容越详细。选项中的四幅地图按照范围从大到小排列为：世界政区图>中国政区图>北京城区图>黄山导游图。则比例尺从大到小依次是：黄山导游图>北京城区图>中国政区图>世界政区图。

【知识点】比例尺与内容详略、范围大小的关系

24. 【答案】

(1) A

(2) D

【解析】

(1)

在有经纬网的地图上，用经纬网定向，纬线指示东西方向，经线指示南北方向；读图分析可知，图中点①位于点③的东北方向。故选：A。

(2) 读图可知，P

气候区主要位于两极地区，由于这里纬度位置高，太阳高度角小，太阳辐射弱，气温低；Q

气候区主要位于赤道地区，由于这里纬度位置低，太阳高度角大，太阳辐射强，气温高。故选项 D 叙述错误。符合题意；ABC 叙述正确。故选：D。

【知识点】影响气温的因素、利用经纬网判方向、大洲大洋名称、位置、轮廓、大洲分界线

25. 【答案】

(1) C

(2) B

【知识点】时差计算、二分二至日

以上内容仅为本文档的试下载部分，为可阅读页数的一半内容。如要下载或阅读全文，请访问：<https://d.book118.com/007146144200006125>