





最新人教版一年级数学上册单元测试题全套带答案

教材过关卷(1)



准备课

一、照样子，看图圈数。(12分)



			
① 2 3	4 6 7	8 9 10	7 8 9

二、比一比，我能行。(每题3分，共9分)



1. 在少的后面画“○”。

	<input type="checkbox"/>
	<input type="checkbox"/>

2. 在多的后面画“√”。



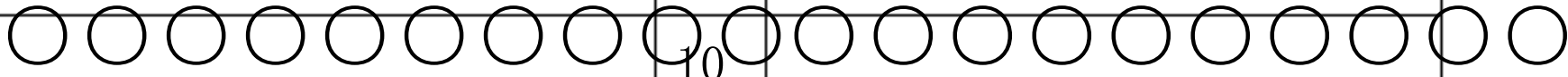

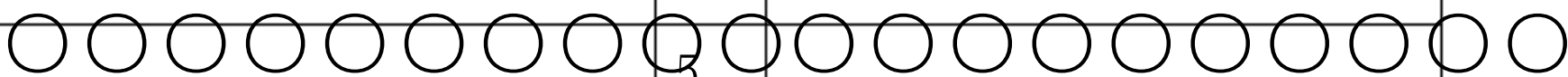

	<input type="checkbox"/>
	<input type="checkbox"/>

3. 在同样多的后面画“△”。

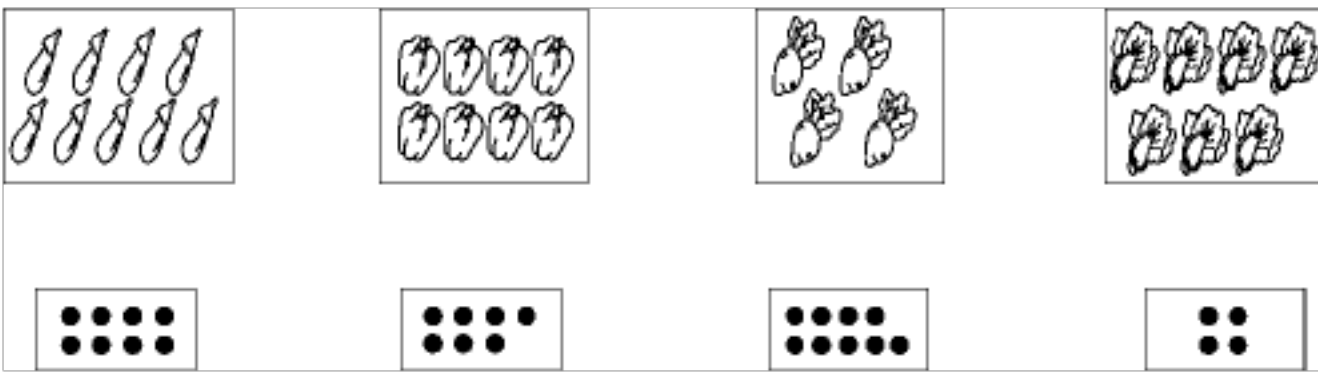
	<input type="checkbox"/>		<input type="checkbox"/>
			

三、动手做一做。(1题18分，2题8分，共26分)

1. 看数涂上自己喜欢的颜色。

3		7	
6		10	
9		5	

2. 把物体和数量相同的“●”连起来。




四、画一画。(每题5分, 共10分)

1. 画△, 比少。



2. 画, 比多。

五、数一数, 涂一涂。(每题5分, 共15分)

1. 数出2个, 涂上你喜欢的颜色。



2. 数出3个, 涂上你喜欢的颜色。



3. 数出4个, 涂上你喜欢的颜色。

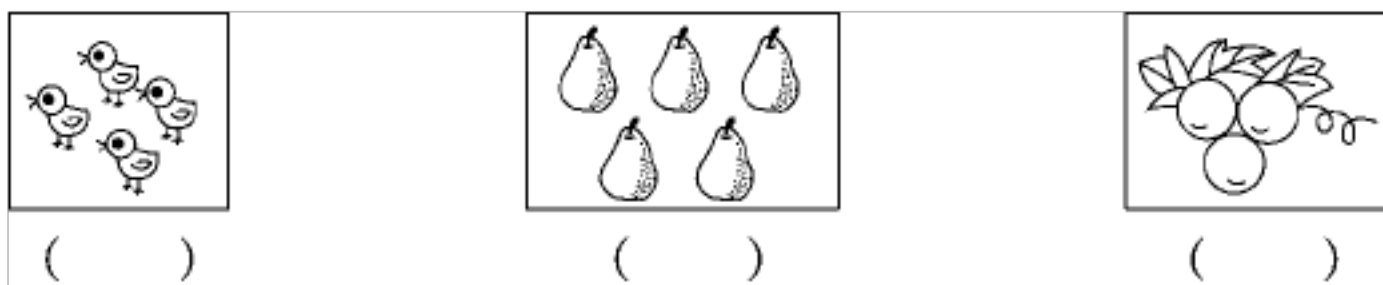


六、数一数, 比一比。(每题5分, 共10分)

1. 哪盘最少? 在下面画“√”



2. 哪组数量最多? 在下面画“○”。



七、把缺少的  画出来。(18分)

5:  _____

3:  _____

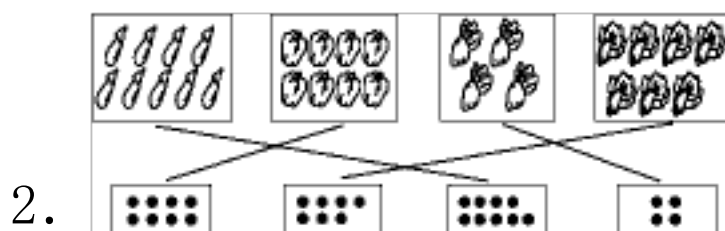
6:  _____

答案

一、

二、 1. 2. 3.

三、 1. 略。



四、 1. $\triangle \triangle$ (答案不唯一)

2. (答案不唯一)


五、 1. 

2. 

3. 

六、 1. () (\checkmark) ()

2. () (\bigcirc) ()

七、 5: 


3: 

6: 

教材过关卷(2)

位置

一、看一看，圈一圈。(每题9分，共18分)

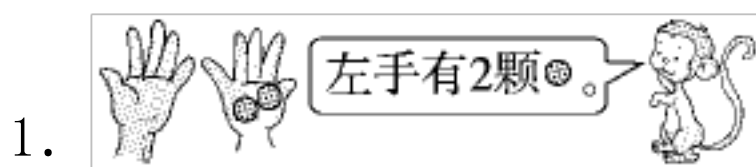


- (1)书在桌子的(上 下)面。
- (2)猫在桌子的(上 下)面。
- (3)花瓶在台灯的(左 右)边。



- (1)游在最前面的是(小林 小佳)。
- (2)(小伟 小佳)在小军的前面。
- (3)小芳的前面有(2 3)人。


二、辨一辨，对的画“√”，错的画“×”(每题5分，共20分)




()

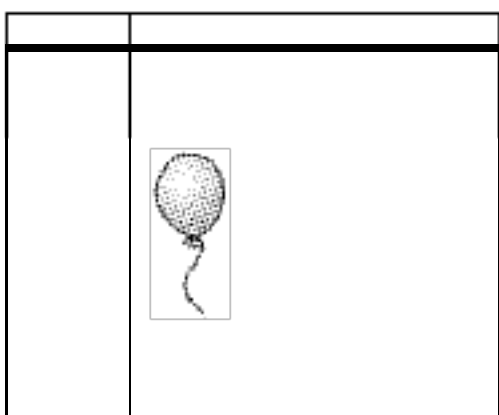



()


3.  ()

4.  ()

三、按要求画一画。(16分)



 在上面画一个△;
在△的左边画一个○;


 的右边画一个□;
在□的下面画一个☆。

四、填一填。(1题12分, 2题18分, 共30分)

1.

(1)  在  的()面, 在  的()面。

(2)  在  的()面。

(3)  的右边是()。

2.

(1) 小兔要吃到萝卜, 要先向()走, 再向()走。

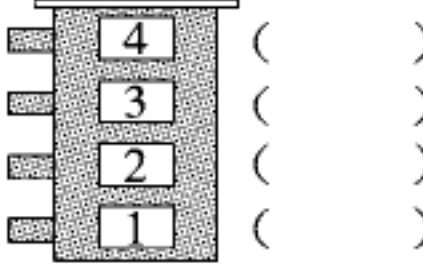
(2) 小猫要吃到鱼, 要先向()走, 再向()走。

(3) 小狗要吃到鱼, 要先向()走, 再向()走。

五、解决问题。(16分)

帮小朋友找到他们的家，在()里写上名字。

小红住在最下面，小明住在最上面，小方住在小兰的上面。




答案

一、

1. (1) 上 (2) 下 (3) 右
 2. (1) 小林 (2) 小伟
 (3) 2

二、1. × 2. √ 3. × 4. √

三、

○	△	
		□
		☆

四、1. (1)下 上 (2)下 (3)桃子

2. (1)上 右(2)下 右(3)右 上

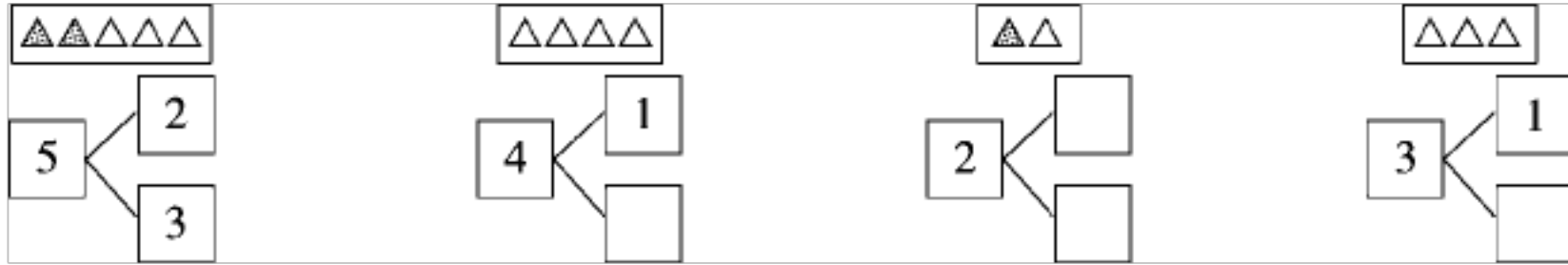
五、小明 小方 小兰 小红

教材过关卷(3)

一、数一数，先画“○”再写数。(9分)

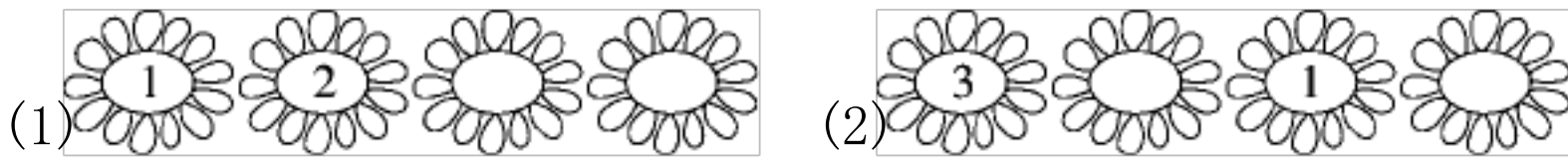


二、照样子，涂一涂，填一填。(16分)



三、填一填。(每空1分，共19分)

1. 按顺序填数。



2. 在 \bigcirc 里填上 “>” “<” 或 “=”。

4 \bigcirc 5 4 \bigcirc 3 2 \bigcirc 5 3 \bigcirc 0 2 \bigcirc 2 0 \bigcirc 1

3. 在 \square 里填上合适的数。

$\square < 4$ $3 < \square$ $1 > \square$ $2 > \square \square = 0$ $4 < \square$

4. \bigcirc 比 \triangle (), () 比 () 多。


四、按要求填一填。(每题8分，共16分)

1. 买票。


(1) 有 () 人排队， 排第 ()，他前面有 () 人，后面有 () 人。

(2) 把左边的3个人圈起来，把从右数第4个同学的衣服涂色。


2. 小鸡回家。(连一连)



五、看图列式计算。(每题5分，共20分)




$$\square - \square = \square$$



$$\square + \square = \square$$



$$\square \bigcirc \square = \square$$



$$\square \bigcirc \square = \square$$

六、解决生活问题。(每题10分，共20分)

1. 在正确的答案后面画“√”



2. 分雨伞。



答案

一、○○○④ ○ 1○○○○⑤

二、涂一涂略。3 1 1 2


三、1. (1)3 4 (2)2 0

2. < > < > = <

3. 2 4 0 1 0 5 (部分空答案不唯一)

4. 少 △ ○

四、1. (1)5 4 3 1 (2)略。



五、1. $4-2=2$ 2. $2+3=5$

3. $0+5=5$ 4. $5-2=3$

六、1. 够

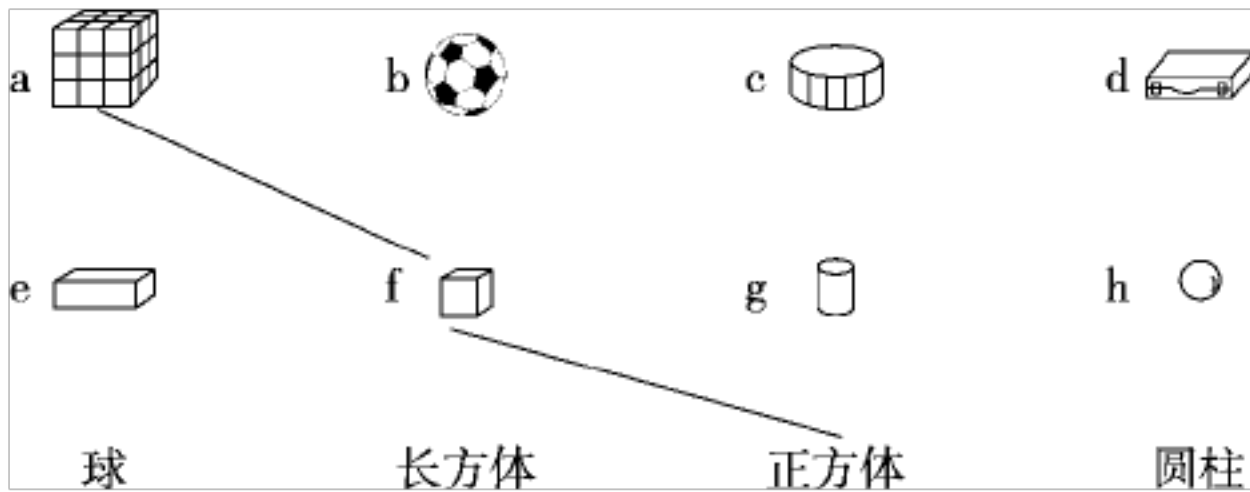
[点拨]因为足球有4个，小朋友有3个，一人一个足球，还多

个足球，所以够。

2. 3

教材过关卷

一、照样子，连一连。(分)



二、圈一圈。(每题3分，共9分)

1. 不能滚动的图形是：



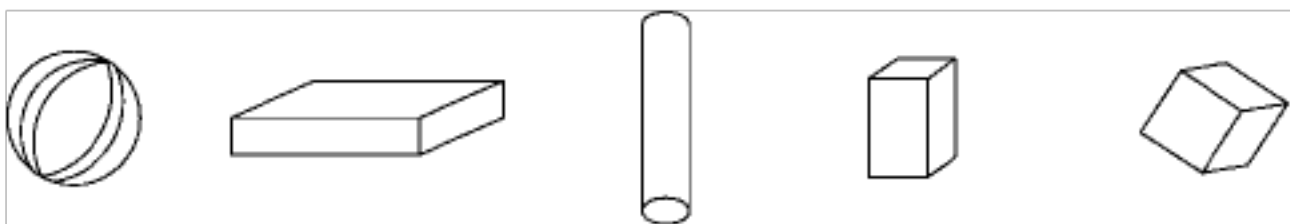
2. 可以滚动，还可以立起来的是：



3. 最容易滚动的图形是：



三、填一填。(3题6分，其余每题4分，共14分)



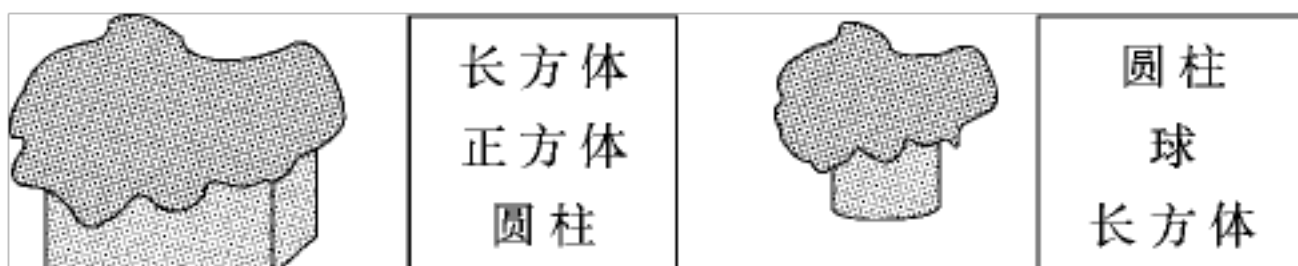
1. 从左边数圆柱是第()个，球是第()个。

2. 长方体有()个，正方体有()个。

3. 把从右数第5个图形圈起来，把左边第3个图形涂上红色。

四、按要求做一做。(每题8分，共16分)

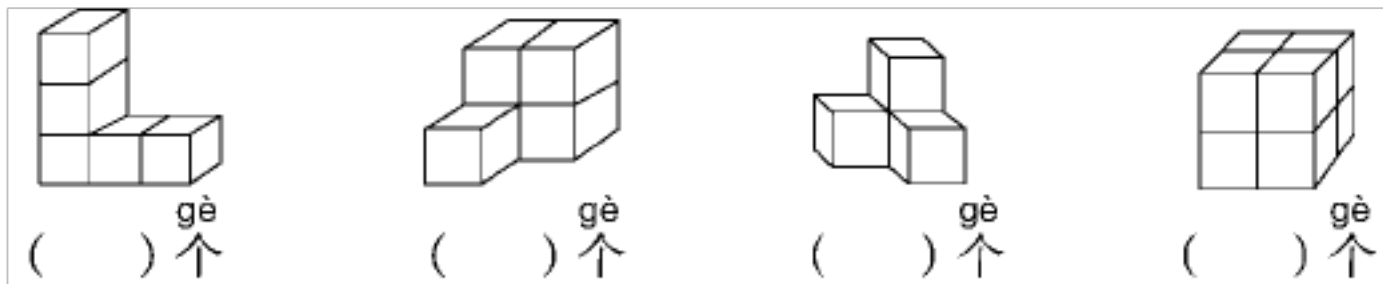
1. 猜一猜，用布盖着的物体分别是什么形状的？请圈出它们的名称。









圈一圈，把每组中形状不同的一个物体圈出来。



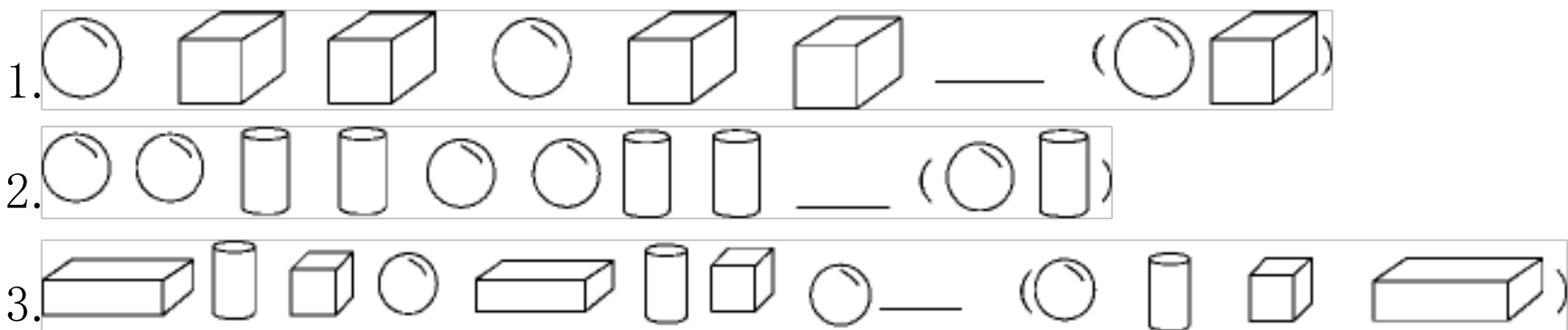
五、数一数，下面各图是由几个小正方体组成的？ (分)





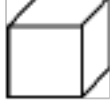
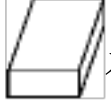
六、先摆一个 ，在  的左边摆一个 ，再在  的上面摆一个 。在正确图形下面的 里画“√”(12分)




七、找规律，接着摆什么？圈出正确答案。(每题3分，共9分)

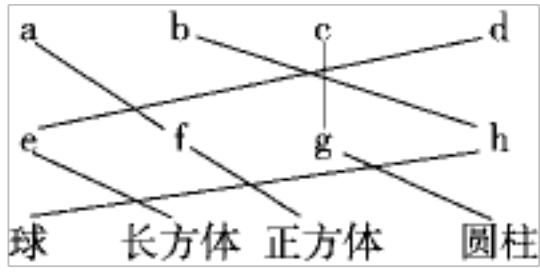


八、机器人。(12分)

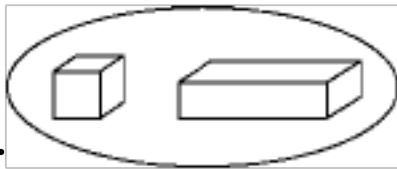
 有 () 个，  有 () 个，
 有 () 个，  有 () 个。



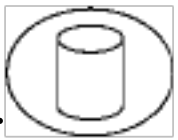
一、



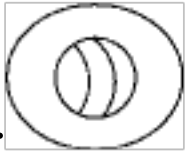
二、1.



2.



3.



三、1. 3 1 2. 2 1

3.



四、1.



2. (1)圈第2个物体。

(2)圈第2个物体。

五、5 5 4 8

六、第4幅图

七、1.圈球

2. 圈球

3. 圈长方体

八、5 4 3 1

以上内容仅为本文档的试下载部分，为可阅读页数的一半内容。如要下载或阅读全文，请访问：<https://d.book118.com/008010002113006051>