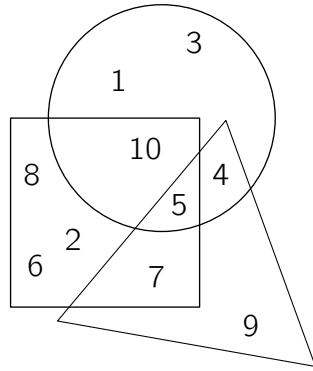


3 points

1. Which number is inside the triangle, the square and the circle?

qǐng wèn nǎ ge shù zì tóng shí wèi yú sān jiǎo xíng zhèng fāng xíng hé yuán xíng zhōng
 请 问 哪 个 数 字 同 时 位 于 三 角 形、 正 方 形 和 圆 形 中?



(A) 1

(B) 4

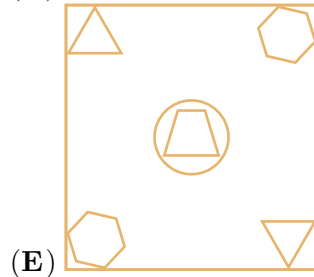
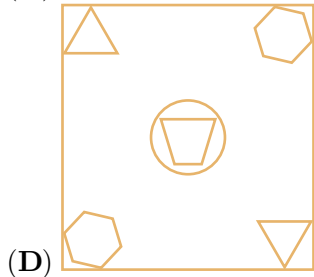
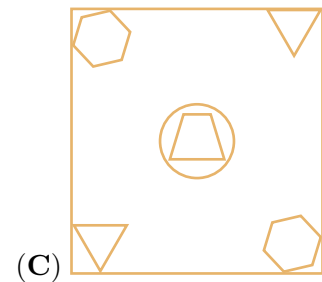
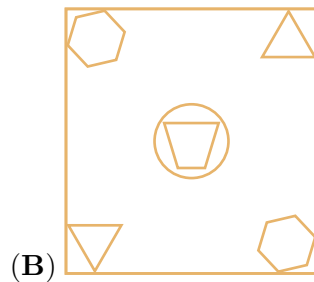
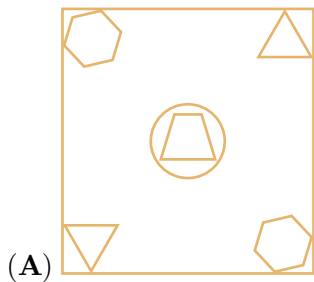
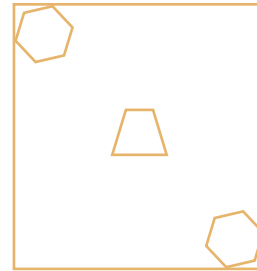
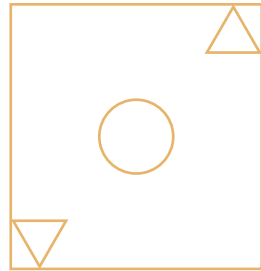
(C) 5

(D) 9

(E) 12

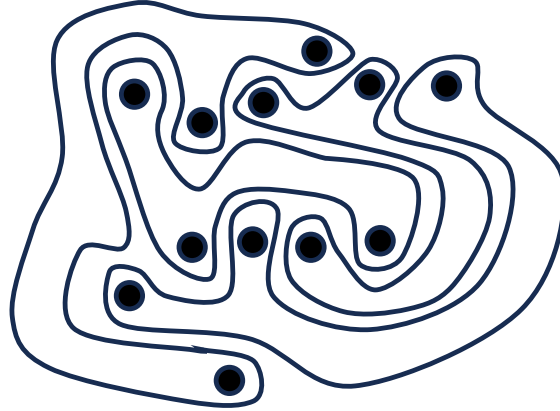
2. Some shapes are printed on 2 pieces of glass. Anna places one on top of the other, without turning either piece. What does she see?

rú tú suǒ shì, 2 kuài bō li shàng yìn yǒu yì xiē tú àn xiǎo ān bǎ qí zhōng yí
 如 图 所 示, 2 块 玻 璃 上 印 有 一 些 图 案。 小 安 把 其 中 一
 kuài bō li fàng zài lìng yí kuài de shàng miàn rú guǒ bù zhuǎn dòng bō li qǐng wèn xiǎo
 块 玻 璃 放 在 另 一 块 的 上 面。 如 果 不 转 动 玻 璃, 请 问 小
 ān huì kàn dào shén me tú àn
 安 会 看 到 什 么 图 案?



3. The picture shows 4 strange shapes. How many shapes have 3 dots inside?

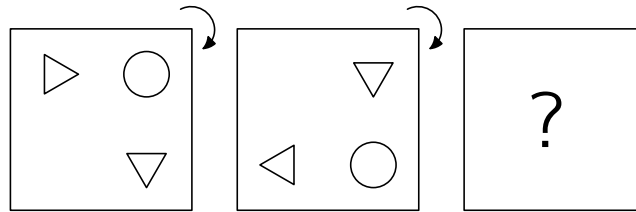
tú zhōng yǒu 4 gè qí guài de tú xíng qǐng wèn yǒu jǐ gè tú xíng lǐ miàn bāo hán
 图 中 有 4 个 奇 怪 的 图 形 ， 请 问 有 几 个 图 形 里 面 包 含
 3 个 点 ？



- (A) 0 (B) 1 (C) 2 (D) 3 (E) 4

4. Kevin the kangaroo puts a picture on the table.

dài shǔ xiǎo kǎi bǎ yí fú huà fàng zài zhuō zi shàng
 袋 鼠 小 凯 把 一 幅 画 放 在 桌 子 上 。



He rotates the picture through a quarter turn, as shown. He then does the same rotation again.

What does Kevin see now?

rú tú suǒ shì tā jiāng zhè fú huà xuán zhuǎn le sì fēn zhī yī quān rán hòu tā
 如 图 所 示 ， 他 将 这 幅 画 旋 转 了 四 分 之 一 圈 。 然 后 他
 yòu zuò le yí cì tóng yàng de xuán zhuǎn qǐng wèn xiǎo kǎi xiàn zài kàn dào de shì
 又 做 了 一 次 同 样 的 旋 转 。 请 问 小 凯 现 在 看 到 的 是
 xià liè nǎ ge xuǎn xiàng
 下 列 哪 个 选 项 ？

- (A) (B) (C) (D) (E)

以上内容仅为本文档的试下载部分，为可阅读页数的一半内容。如要下载或阅读全文，请访问：<https://d.book118.com/008120024054007010>