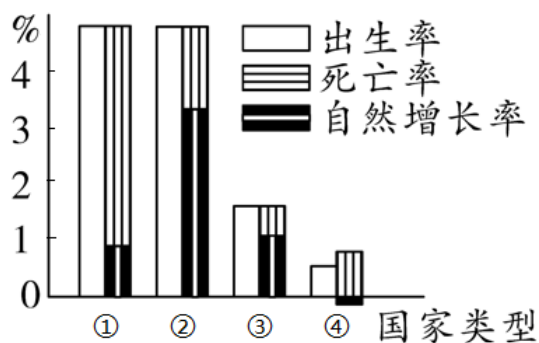


七年级上册地理第四章试卷及答案B卷人教版

一、选择题（本题包括20个小题。每题三分，共60分。每小题只有一个选项符合题意，请将正确答案填入题后括号中）

读图，完成下面小题。



1. 图中四类国家容最易出现劳动力短缺，国防兵员不足问题的是（ ）

- A. ① B. ② C. ③ D. ④

2. 关于四类国家分布说法正确的是（ ）

- A. ①主要分布在欧洲，经济水平高，人口稀少
B. ②主要分布在北美洲，经济水平较低，人口稠密
C. ③主要分布在非洲，人口出生率高，经济落后
D. ④主要分布在欧洲，经济发达，人口稠密

【答案】1. D 2. D

【解析】1. 图中，①类国家属于高出生率、高死亡率、低自然增长率，属于原始型的国家；②类国家属于高出生率、低死亡率、高自然增长率，属于传统型的国家；③类国家属于低出生率、低死亡率、低自然增长率，属于现代型的国家；④类国家属于低出生率、高死亡率、自然增长率出现负增长，属于现代型的部分国家；其中，④类国家年轻劳动力少，老龄化严重，最易出现劳动力短缺，国防兵员不足的问题，D正确，ABC错误，故选D。

2. ①属于原始型的国家；很少国家属于原始型，只有太平洋的一些岛国等，A错误。②主要分布在非洲、南美洲等，经济水平较低，人口稠密，B错误。③主要分布在欧洲、北美洲等，人口出生率低，经济发达，C错误。④主要分布在欧洲，例如德国、瑞士等，经济发达，人口稠密，D正确。故选D。

【点睛】在欧盟国家中，德国、意大利、瑞典出现人口负增长的情况严峻，英国的人口增长亦出现停滞，并有下滑的趋势。日本步入人口负增长型社会，俄罗斯人口负增长，国家面临危机。

3. 读甲、乙两个国家的领土面积和人口数据表判断，关于甲、乙两个国家的叙述，正确的是（ ）

国家	领土面积（万平方千米）	2010年人口（万人）	人口出生率（%）	人口死亡率（%）
甲国	58.2	3010	4.2	1.8
乙国	35.7	8209	0.62	0.63

- A. 甲国可能面临劳动力短缺
B. 甲国比乙国人口稠密
C. 乙国可能位于欧洲西部
D. 乙国可能面临就业压力过大

【答案】C

【解析】甲国的人口自然增长率是：4.2%-

1.8%=2.4%，乙国的人口自然增长率是0.62%-0.63%=-

0.01%，从人口自然增长率看出，甲国人口增长迅速，面临就业压力大，是发展中国家；

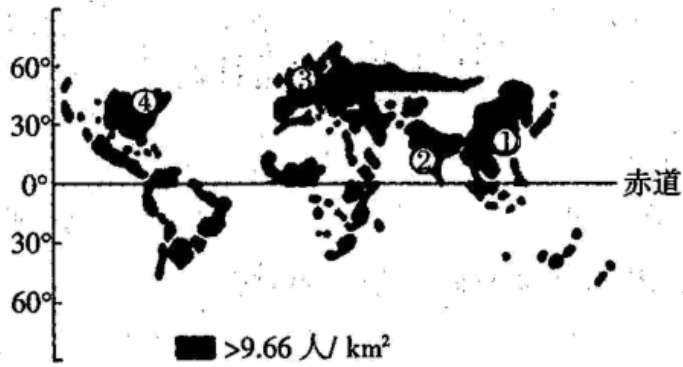
乙国人口出现负增长，可能面临劳动力短缺，应该是发达国家。C正确、AD错误。根据甲、

乙两个国家的领土面积和人口数据表中的数据可知，甲国的人口密度是 $30100000 \div 582000 =$

51.7人/km²，乙国的人口密度是： $82090000 \div 357000 = 229.9$ 人/km²，甲国人口密度小于乙国

，B错误。答案选C。

著名学者邦奇为揭示世界人口分布问题，在地图上取消陆地和海洋，仅画出人类密集的地区，人类密集区称为“人类大陆”。读人类大陆图，完成下面小题。



4. 在人类大陆图上，世界人口密集区（ ）
- A. 高纬度比低纬度多 B. 南半球比北半球多
- C. 低纬高原比平原多 D. 西半球比东半球多
5. 图中区域以黄色人种为主的是（ ）
- A. ①地 B. ②地 C. ③地 D. ④地

【答案】4. C

5. A

【解析】4. 在人类大陆图上，世界人口密集区：高纬度气温低，不适合人居住，比低纬度少；南半球海洋面积大，人口密集区比北半球少；低纬高原气候比较凉爽，比闷热平原多；西半球开发历史比东半球晚，地广人稀，人口密度比东半球小。C正确，ABD错误，故选C。

5. 根据位置、轮廓及人口密度判断，①是中国，是黄色人种，②是印度，主体是白色人种，③是欧洲西部，是白色人种，④是北美洲，白色人种为主。A正确，BCD错误，故选A。

【点睛】低纬度地区的平原，例如亚马孙平原，气候闷热，不适合人居住，低纬度的高原气候比较凉爽，例如巴西高原，非洲高原等，人口比较稠密。

读下图“不堪重负的地球”图，完成下列各题。



6. 该漫画反映了当前世界上存在着严重的（ ）

- A. 人口问题 B. 环境问题 C. 资源问题 D. 水污染问题

7. 漫画反映的问题主要出现在下列哪些大洲（ ）

①亚洲②欧洲③非洲④北美洲⑤南美洲⑥大洋洲

- A. ①②③ B. ④⑤⑥ C. ①③⑤ D. ②④⑥

8. 漫画所反映的问题可能产生的后果是（ ）

- A. 劳动力普遍短缺 B. 自然资源短缺
C. 国防兵员不足 D. 全球人口老龄化严重

【答案】6. A 7. C 8. B

【解析】6. 该漫画名为“不堪重负的地球”，通过观察图片可知，该漫画反映的世界上存在的人口问题，人口过多，地球已经不堪重负。故A正确。

7. 该漫画反映世界人口增长速度快，人口过多问题。就全球而言，亚洲、非洲、南美洲这些大洲人口增长速度较快，存在人口增长过快问题，故C正确；欧洲、北美洲、大洋洲人口增长缓慢，不符合题意。故选C。

8. 根据上题可知，该漫画反映的是人口增长过快，人口过多问题，人口过多会导致环境污染、自然资源短缺、交通堵塞、住房困难等问题，故B正确；劳动力短缺，国防兵员不足，人口老龄化严重等是人口增长过慢带来的问题，故ACD错误。故选B。

【点睛】本题考查世界人口问题的分布及产生的影响。

随着社会的发展，人类与北极的关系越来越密切。北极地区土著居民以因纽特人为主，他们长期生活在冰天雪地之中，过着渔猎生活。读图，完成下面小题。



9. 因纽特人属于（ ）

- A. 白色人种 B. 黄色人种 C. 黑色人种 D. 混血人种

10. 因纽特人居住的冰屋低矮而厚实，原因可能是（ ）

- A. 抵御暴雨 B. 抗寒保暖 C. 利于散热 D. 通风透气

【答案】9. B10. B

【解析】9. 划分人种的主要依据是肤色、眼色、毛发、头型、脸型等体质特征，黄种人主要分布在亚洲东部，北美洲北冰洋沿岸的因纽特人和南美洲的印第安人也属于黄种人。故A CD错误、B正确，根据题意，故选B。

10. 北极地因纽特人居住的冰屋，反映了当地纬度高、气候寒冷，冰层低矮而厚实正是为了抗寒保暖，北极地区气候寒冷，不用担心暴雨的影响，也不是为了散热和通风透气。故A CD错误、B正确，根据题意，故选B。

【点睛】按照肤色差异，世界人口可以分为三大人种，即黄色人种、白色人种、黑色人种，其中白色人种是目前分布最广泛的人种，白种人主要分布在欧洲、北美洲、大洋洲、亚洲的西部和南部、非洲的北部，黄色人种主要分布在亚洲，非洲以黑色人种为主。

小明假期跟随父母到某地旅游，他发现这里的居民皮肤白、波状发，色浅、鼻梁高、嘴唇薄，游览过程中可见到规模宏大的尖顶宗教建筑，如图所示。据此回答下列问题。



11. 小明旅游的地方最有可能是（ ）

- A. 亚洲中部 B. 非洲南部
C. 欧洲西部 D. 亚洲东部

12. 旅游地居民大多属于（ ）

- A. 黄种人 B. 黑种人
C. 混血种人 D. 白种人

13. 旅游地居民的语言是（ ）

- A. 英语 B. 汉语
C. 阿拉伯语 D. 日语

14. 由宗教建筑可以判断当地居民主要信奉（ ）

- A. 佛教
B. 伊斯兰教
C. 基督教
D. 喇嘛教

【答案】11. C 12. D 13. A 14. C

【解析】11. 根据居民的外形可断定该地方的人种是白色人种，白色的宗教建筑“教堂”是基督教堂，可以得出为欧洲西部。故选C。

12. 据图文可知，白种人的体质特征是：肤色多呈浅淡色；发呈金黄；眼色碧蓝或灰褐色；发形呈波状或直状；唇型为薄唇；鼻狭而高；颧骨不高突；体毛和胡须较发达等。选D。

13. 欧洲西部的人种是白色人种，大部分信仰基督教，主要讲英语。故选A。

14. 由图知，尖顶的宗教建筑“教堂”，是基督教的宗教建筑。故选C。

【点睛】划分人种的主要依据是肤色、眼色、毛发、头型、脸型等体质特征，其中白色人种是目前分布最广的人种，黄色人种主要分布在亚洲，欧洲以白色人种为主，非洲以黑色人种为主。

15. 谷爱凌夺得北京冬奥会自由式滑雪女子大跳台金牌。接受采访时，她流利的说着两种不同的语言，其中一种是世界上使用人数最多的，另一种是使用最普遍的，它们分别是（ ）

- A. 汉语、英语 B. 法语、汉语 C. 汉语、俄语 D. 汉语、西班牙语

【答案】A

【详解】根据所学可知，汉语是世界上使用人数最多的语言，超过13亿人使用。英语是世界上使用最普遍的语言，由于历史上英国的殖民地遍及全球，英语的影响也遍及世界，所以A符合题意。排除BCD，故选A。

16. 沙特阿拉伯将于2020年11月21~22日在利雅得举办第15届G20领导人峰会。通过担任主席国，沙特旨在进一步加强与其他G20成员的关系，并就首脑会议的议题达成国际共识。这将是第一次在阿拉伯世界举办的G20峰会。沙特阿拉伯居民属于什么人种，主要使用什么语言（ ）

- A. 黑种人、阿拉伯语 B. 白种人、阿拉伯语 C. 黄种人、英语 D. 黄种人、西班牙语

【答案】B

【详解】沙特阿拉伯的居民多使用阿拉伯语，信仰伊斯兰教，属于白色人种。故选B。

17. 《桃花源记》中这样描写桃花源：“土地平旷，屋舍俨然，有良田美池桑竹之属。阡陌交通（田间小路交错相通），鸡犬相闻……”“桃花源”的聚落类型及判断的最主要理由是（ ）

- A. 城市，这里“阡陌交通” B. 乡村，这里“屋舍俨然”
C. 乡村，这里“良田美池桑竹之属” D. 城市，这里“土地平旷”

【答案】C

【解析】聚落是人们集中的居住在一起所形成的，其规模有大有小，主要形式包括城市和乡村。乡村是人口规模不大，主要从事农业生产活动的居民聚居地，城市是人口达到一定规模，主要从事非农业生产活动的居民聚居地。由题目可知，“桃花源”有“良田美池桑竹之属”，说明人们从事的是农业生产活动，描述的聚落类型是乡村，结合题意，故选C。

碉房是藏族传统民居，大多依山坡而建，背风向阳，墙壁用石头垒砌，墙体厚，窗口很小。读青海省碉房景观图（下图），完成下面小题。



18. 传统碉房墙体厚、窗口小的主要目的是（ ）
A. 阻挡沙暴 B. 稳固墙体 C. 防风避寒 D. 防止雨水
19. 影响图示碉房分布形态的主要自然因素是（ ）
A. 水源 B. 气温 C. 降水 D. 地形

【答案】18. C

19. D

【解析】18. 根据材料“大多依山坡而建，背风向阳”可以推测，当地风力较大，气温较低，进而得知，传统碉房墙体厚、窗口小有利于防风避寒，C正确。藏族人主要生活在青藏高原，受青藏高原北部山脉的阻挡，沙暴对青藏地区的影响较小，A错误。墙体厚、窗口小有利于稳固墙体，防止雨水，但是这些都不是其主要目的，B、D错误。故选C。

19. 材料指出，碉房大多依山坡而建，可知当地地形不平坦，因此主要影响因素是地形，与水源、气温、降水等因素关系不大，D正确，ABC错误。故选D。

【点睛】最具代表性的藏族民居是碉房。碉房多为石木结构，外形端庄稳固，风格古朴粗犷。外墙向上收缩，依山而建者，内坡仍为垂直。碉房一般分两层，以柱计算房间数。底层为牧畜圈和贮藏室，层高较低；二层为居住层，大间作堂屋、卧室、厨房，小间为储物室或楼梯间。若有第三层，则多作经堂和晒台之用。因其外部很像碉堡，故称碉房。碉房具有坚实稳固、结构严密、楼角整齐的特点，既利于防风避寒，又便于御敌防盗。

20. 我国某地民居就地取材，用竹木扎制屋架，茅草覆顶，建造的传统民居远看像船底，被称为船形屋。该民居所在地的气候特点是（ ）



- A. 全年高温，分早雨两季
- B. 全年温和湿润
- C. 全年高温，分干湿两季
- D. 终年炎热干燥

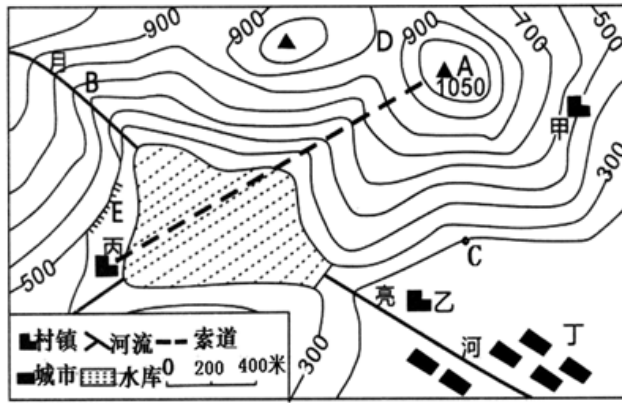
【答案】A

【详解】读图分析可知，该地的民居的材料是竹木，竹子主要分布在我国南方地区，民居分两层，下层不住人，是为了防潮，反映了该地区潮湿，茅草覆盖，说明当地气温高。全年高温，分早雨两季是热带季风气候的特点，我国海南省属于热带季风气候。全年温和湿润是温带海洋性气候的特点，我国没有温带海洋性气候，全年高温，一年分干湿两季，是热带草原气候，我国也没有热带草原气候，终年炎热干燥是热带沙漠气候的特点，我国没有热带沙漠气候。所以A符合题意。BCD不符合题意。故选A。

二、简答题（本题包括4个小题。每题10分，共40分。）

21. 阅读图文材料，完成下列问题。

某中学地理兴趣小组到学校附近开展野外考察活动，读“考察区域的等高线地形图”，完成下列问题。



- (1) D地形部位的名称是_____，月亮河的流向大致为_____。
- (2) 甲村与C地的相对高度是_____米。在图中量得丙村与A山顶之间的索道图上距离约5cm，则实际长约_____米。该区域中，C处的桃花正在怒放着，而D地的桃花仍含苞待放，造成这种差异的主要影响因素是_____。
- (3) 分析丁地发展为城市聚落的自然条件有哪些。
- (4) 为增加当地居民收入，创建生态文明新农村，请你为本区域的经济的发展提出合理化的建议。

【答案】(1) 鞍部 自西北流向东南

(2) 300 1000 地形地势

(3) ①海拔在200米以下，地形以平原为主，平坦开阔，土壤肥沃；②有河流流经，水源充足，利于灌溉。

(4) ①可发展旅游业：如E处开发攀岩运动；索道观光旅游业；B处山谷，可开展漂流吸引游客；②丘陵缓坡地形可开发梯田，③山地面积广，山坡上可以开展林果业，种植果树，增加收入。④沿河、水库可以发展渔业

【解析】本大题以考察区域的等高线地形图为材料，设置四道小题。涉及山体部位的判别、地势对河流流向的影响、相对高度及比例尺的计算、海拔对气温的影响、聚落形成的有利条件等相关知识，考查学生对相关知识的掌握程度。

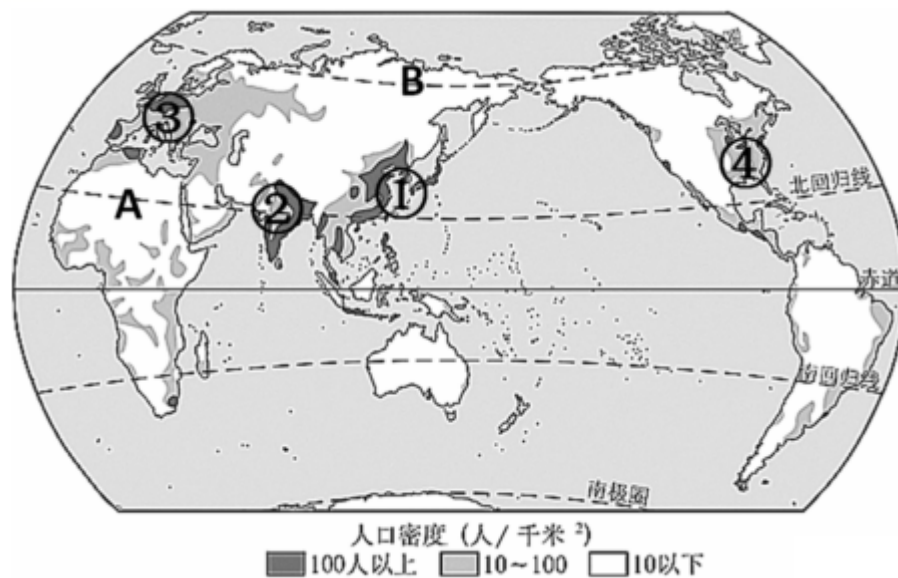
(1) 根据所学知识可知，两个山峰之间的平缓地带为鞍部，因此地地形部位的名称为鞍部；读图可知，月亮河所在地区地形为山谷，其西北部地势高，东南部地势低，河流自高向低流，因此月亮河的流向大致为自西北向东南。

(2) 相对高度是指某一地点高出另一地点的垂直距离，读图可知，该等高线地形图中的等高距为100米，甲村的海拔为500米，C地所在的海拔为200米，因此甲村与C地的相对高度为300米；根据所学知识可知，图例代表图上距离/实地距离。读图可知，图中图例为图上1厘米代表实地距离200米，即20000厘米，而丙村于a山顶之间的索道图上距离约为5厘米，可得实际长约1000米；读图可知，C处海拔为200米，D处海拔位于700米至900米之间，因此D处海拔更高，温度更低，因此花开的晚。造成两地桃花盛开时间早晚的原因为地形地势。

(3) 读图可知，丁地所在地区的海拔小于200米，并且地势较为平坦，因此其地形以平原为主，平坦开阔；读图可知，丁地位于月亮河附近，因此，月亮河为其生产生活提供了充足的水源。

(4) 读图可知，图示乡村所在的地形为山地，因此可发展旅游业，带动经济发展；E处为陡崖，可开展攀岩运动；B处等高线弯曲部分由低处向高处凸出为山谷，并且有河流经过，可开展水上漂流；读图可知，该地区平原面积较小，因此可以将丘陵等缓坡地带开发成梯田，进行种植业，增加经济收入；根据所学知识可知，山地可利于种植树木和水果，发展林业和果业，可为其增加收入；读图可知，该地区有河流经过，并且在丙村附近有建有水库，因此可发展渔业，增加经济收入。

22. 读“世界人口分布图”，完成下列小题。



(1) 世界人口分布有四大稠密地区，其中①在_____东部，②在_____洲南部，③在_____洲，④在_____洲东部，这四大人口稠密区主要位于_____半球的中、_____纬度地区。

(2) A处的人口很稀少是因为该地区为_____气候(填气候类型)

;B处的人口很稀少是因为气候_____

(3) 世界人口的增长速度,通常用人口_____来表示,其数值的高低取决于人口的出生率和死亡率。

(4) 人口增长过快,会出现_____、_____等问题;人口增长过慢也会出现人口问题,如_____、_____等。

(5) 人口的增长要与社会、_____的发展相适应,与_____利用、环境保护相协调。

【答案】 亚州 亚 欧 北美 北 低 热带沙漠
终年严寒 自然增长率 交通拥挤 住房紧张等 劳动力短缺
国防兵源不足等 经济 资源

【解析】世界人口的地理分布很不均匀,有的地方人口稠密,有的地方人口稀疏,人口的分布状况与地理环境有着密切联系;世界上绝大多数人居住在中低纬度地区,而在气候温和、降水较多的平原和盆地地区,人口更为集中。

(1) 从图中看出,世界人口稠密地区有④北美洲东部、②亚洲南部、③欧洲西部、①亚洲的东部。大多数人居住在北半球中低纬度地区,而在气候温和、降水较多的平原和盆地地区,人口更为集中。

(2) A处的人口很稀少是因全年炎热干燥造成的,该处位于非洲北部,为热带沙漠气候;B处的人口很稀少是因为处在高纬度地区,气候终年严寒。

(3) 世界人口的增长速度,通常用人口自然增长率来表示,其数值的高低取决于人口的出生率和死亡率。

(4) 人口增长过快,会出现交通拥挤,就业困难,住房紧张等,人口增长过慢也会出现人口问题,劳动力短缺,国防兵源不足,人口老龄化等。

(5) 人口的增长要与社会、经济的发展相适应,与资源利用、环境保护相协调。

【点睛】 本题考查世界人口的分布特点状况。

23. 谷岳、刘畅6月8日从北京出发,采用沿途搭车的方式,历时3个月,最终到达德国柏林。图1是“世界主要气候类型分布图”,图2是北京气温曲线和降水量柱状图。读图,回答下列问题。

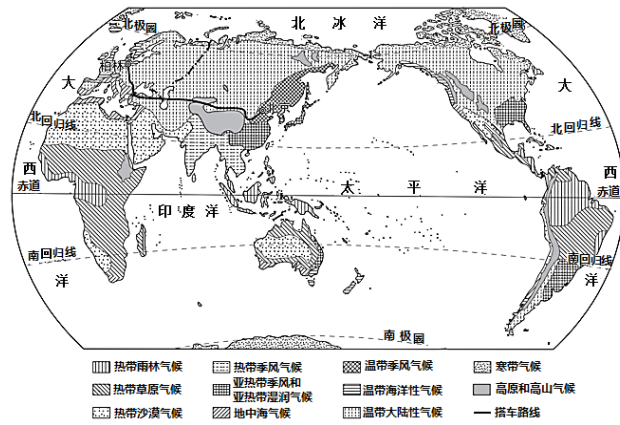


图1

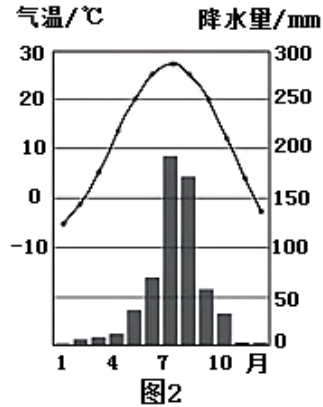


图2

- (1) 出发时，北京月均温是____℃，月降水量是____毫米，该季节气候的特点是_____。
- (2) 谷岳、刘畅两个人“搭车去柏林”，一路经过的主要是____气候分布区，受____因素的影响，沿线降水量呈现出的变化特点是_____。
- (3) 他们沿途拍下了许多照片，请你据此作出判断。



照片中是他们参观的著名景点，属于____（自然/人文）景观，是____教清真寺。



“大拇指朝上”的手势表示要搭顺风车。从纸上文字可以推测，他们已到达____洲，在这里应使用____（汉/英）语与当地交流。

- 【答案】** (1) 26 70 高温多雨
- (2) 温带大陆性 海陆分布 先减少再增多
- (3) 人文 伊斯兰 欧 英

【解析】 本题以世界多地自然和人文景观为背景材料，考查世界的气候相关知识，学科素养方面注重考查区域认知和地理实践力。

(1) 根据图中的气温年变化曲线可知，6月8日出发时为北半球的夏季，北京6月均温约26℃，6月降水量约70毫米。北京为温带季风气候，夏季高温多雨。

以上内容仅为本文档的试下载部分，为可阅读页数的一半内容。
。如要下载或阅读全文，请访问：<https://d.book118.com/026202011242010152>