
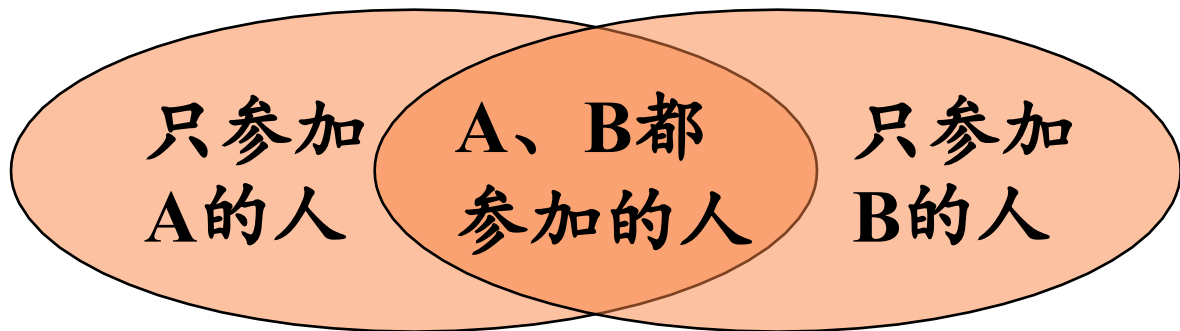




练习课





解题方法：

只参加A的人数+只参加B的人数+A、B都参加的人=总人数


参加A的人数+参加B的人数-A、B都参加的人=总人数

拓展练习




1. 【课本P106页练习二十三第1题】

昨天进的水果品种



今天进的水果品种




(1) 商店两天一共进了几种水果？

昨天进的水果品种

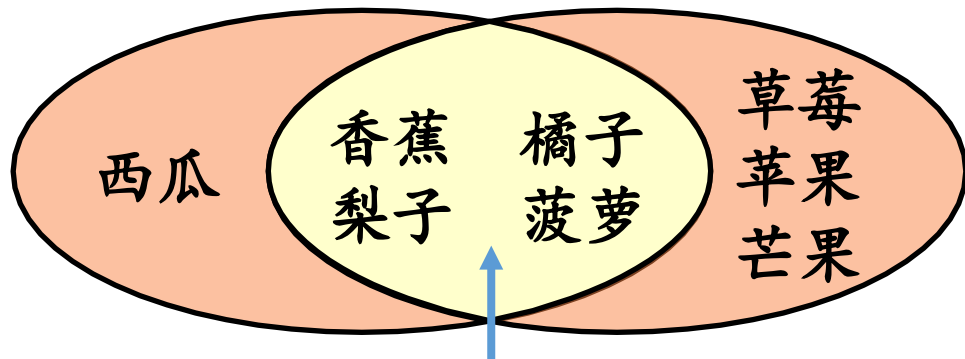


今天进的水果品种



昨天进的水果品种

今天进的水果品种



两天都进的水果品种

(1) 商店两天一共进了几种水果？

$1+4+3=8$ (种) 答：商店两天一共进了8种水果。

拓展练习



1. 【课本P106页练习二十三第1题】




(2) 你能提出其他数学问题并解答吗？

例：今天进的水果品种比昨天多多少？

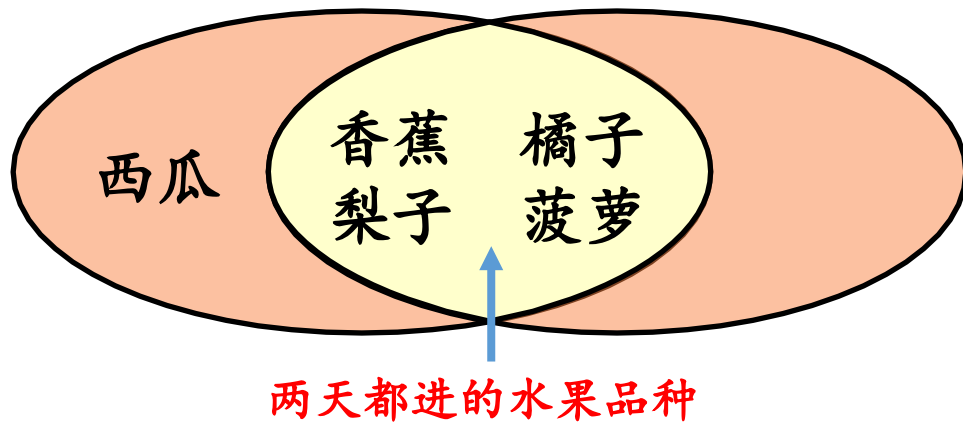
昨天进的水果品种



今天进的水果品种



昨天进的水果品种 今天进的水果品种



例：今天进的水果品种比昨天多多少？

$7-5=2$ （种）答：今天进的水果品种比昨天多2种。

拓展练习



2. 在下面的圈中填上合适的数。

【课本P106页练习二十三第2题】

大于50小于70

大于60小于80

51 52 53 54

55 56 57 58 59 60

61 62 63 64 65 66

67 68 69

61 62 63 64

65 66 67 68 69 70

71 72 73 74 75 76

77 78 79

(1) 两个圈里都出现的数有多少个？请你用画图的方法表示出来。

拓展练习



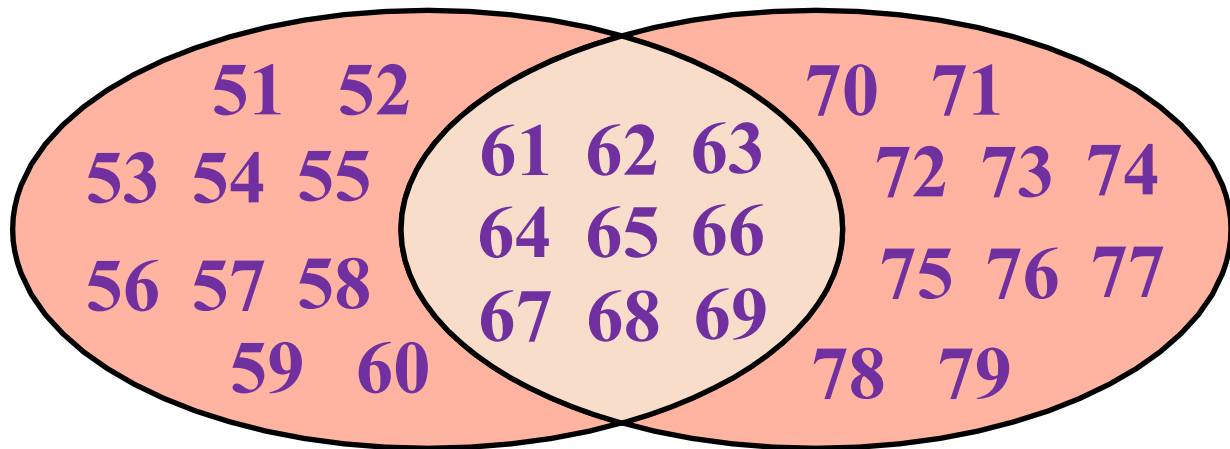
2. 在下面的圈中填上合适的数。

【课本P106页练习二十三第2题】

(1) 两个圈里都出现的数有多少个？请你用画图的方法表示出来。

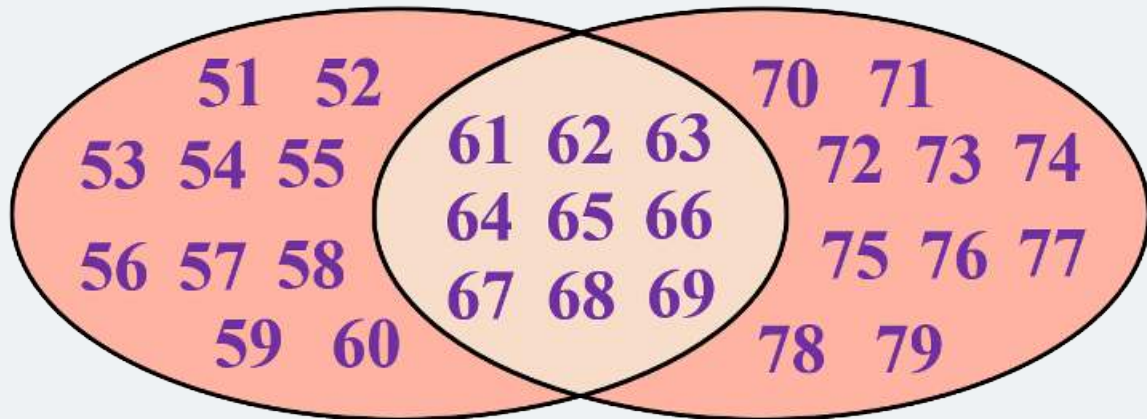
大于50小于70

大于60小于80



大于50小于70

大于60小于80



(2) 你还能提出其他数学问题并解答吗?

大于50小于80的数有多少个?

$$10+10+9=29 \text{ (个)}$$

答: 大于50小于80的数有29个。

能力提升



1.小明一家去采摘。爷爷、爸爸、外公、舅妈、小明、叔叔6人采摘了西红柿，奶奶、妈妈、爷爷、小明4人采摘了草莓，姑姑、舅舅、外婆3人采摘了黄瓜。

【课本P106页练习二十三第3题】

采摘西红柿



采摘草莓



采摘黄瓜



以上内容仅为本文档的试下载部分，为可阅读页数的一半内容。如要下载或阅读全文，请访问：<https://d.book118.com/046125025013011005>