

考试总分：90分 考试时间：120分钟

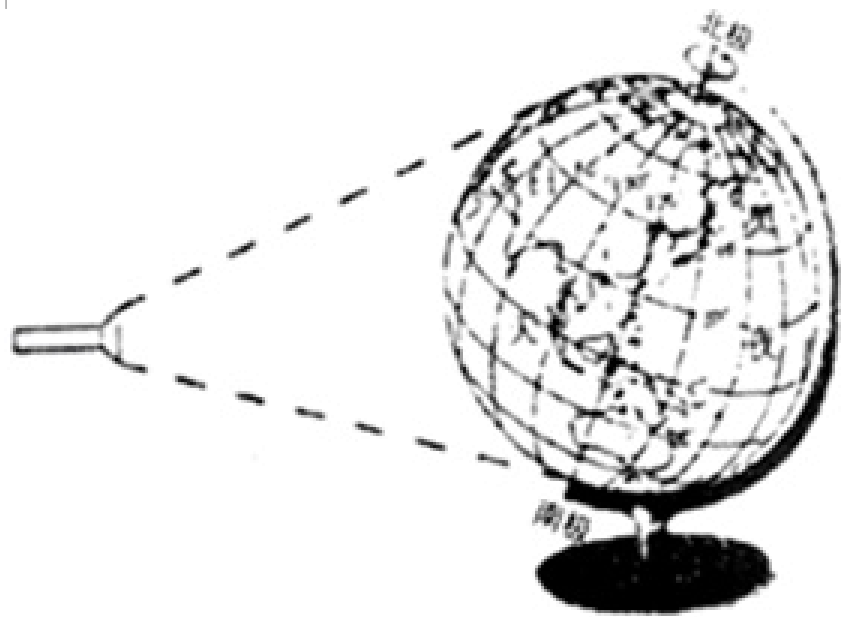
学校：_____ 班级：_____ 姓名：_____ 考号：_____

一、选择题（本题共计 21小题，每题 2分，共计42分）

1. 有“人类之家”之称的是（ ）

- A. 地球
- B. 水星
- C. 火星
- D. 太阳

2. 如下图用地球仪演示地球自转，据此完成（1）～（2）题。



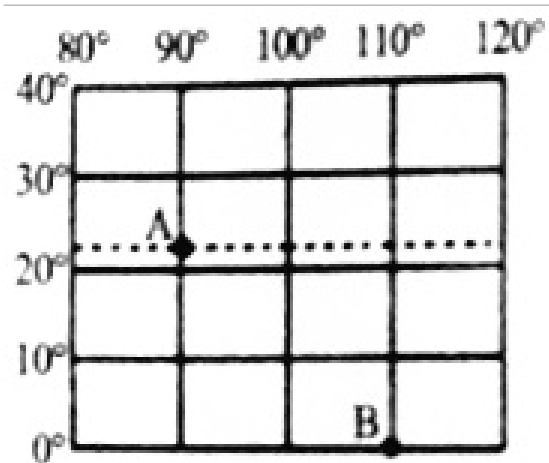
（1）关于实验过程，叙述正确的是（ ）

- A. 自东向西拨动地球仪
- B. 摆放地球仪时，北极指向北极星
- C. 灯光能照亮地球仪的大部分
- D. 此时，光线直射北回归线

（2）观察实验：用打开的手电筒模拟“太阳”，将地球仪放置在手电筒前方，拨动地球仪，演示地球自转，此实验能较好地演示（ ）

- A. 四季变化
- B. 五带的形成
- C. 昼夜交替
- D. 影子长短的变化


3. 读图，完成（1）～（2）题。



图中B (0°, 110° E)点在A (23.5°, N90° E)点的正确方位是 ()

- A. 西南
- B. 东南
- C. 东北
- D. 西北

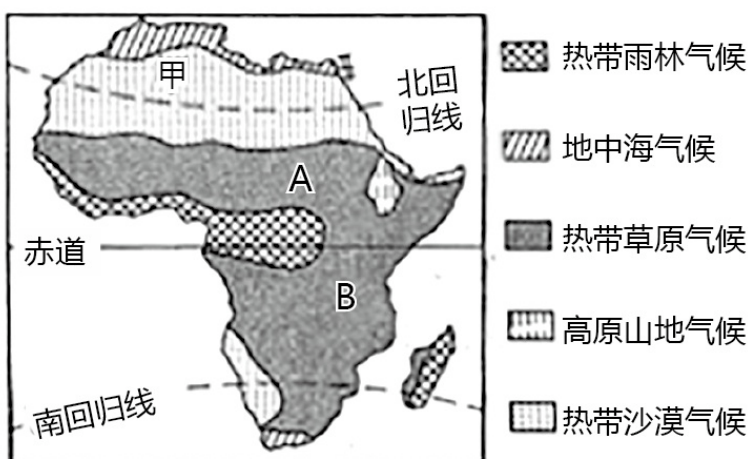
4. 下列四幅地图比例尺, 最大的是 ()

- A. 1:3000
- B. 图上1厘米代表实地距离400千米
- C. 1:30000000
- D.  4千米

5. 下列气候类型中, 亚洲没有的是 ()

- A. 地中海气候
- B. 热带雨林气候
- C. 温带海洋性气候
- D. 苔原气候

6. 读下图, 根据所学知识回答下列小题。



(1) 非洲热带草原野生动物迁徙方向及时间是 ()

- A. 6月份, 从A区开始向南迁徙
- B. 6月份, 从B区开始向南迁徙
- C. 12月至次年4月, 动物集中在A区域活动
- D. 12月至次年4月, 动物集中在B区域活动

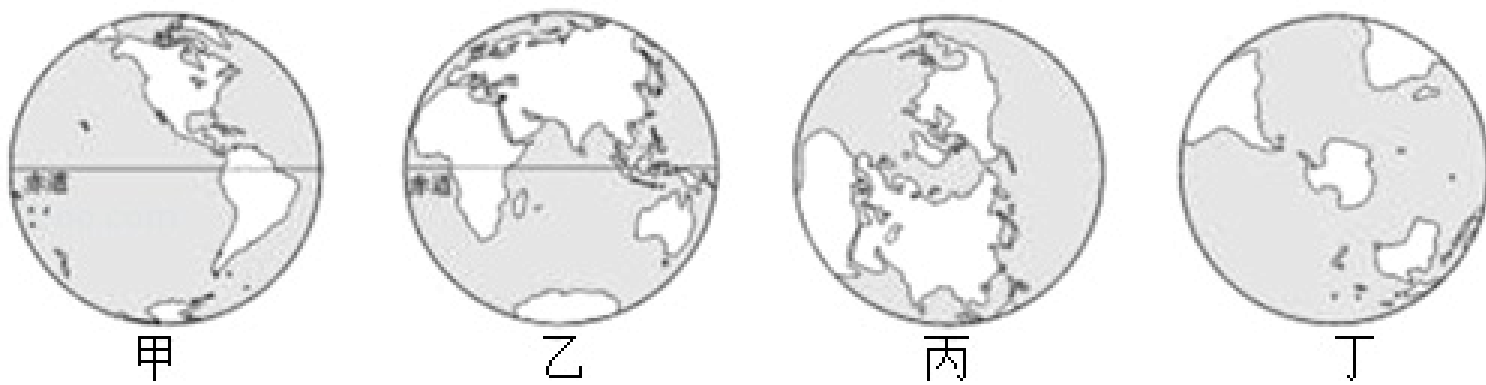
(2) 非洲热带草原动物周期性迁徙的主要原因是 ()

- A. 躲避天敌
- B. 追逐水源和食物
- C. 躲避炎热天气
- D. 保护草原生态环境

(3) 下列有关非洲的说法, 正确的是 ()

- A. 地形以高原为主, 被称为“高原大陆”
- B. 气候炎热, 主要以热带雨林气候为主
- C. 煤矿的产量和出口量居世界首位
- D. 大部分国家已成为经济发达国家

7. 人类对地球海陆面貌的认识, 经历了极其漫长的过程。直到近代, 人类才有了正确反映地球海陆面貌的世界地图。读图, 完成(1)~(3)题。



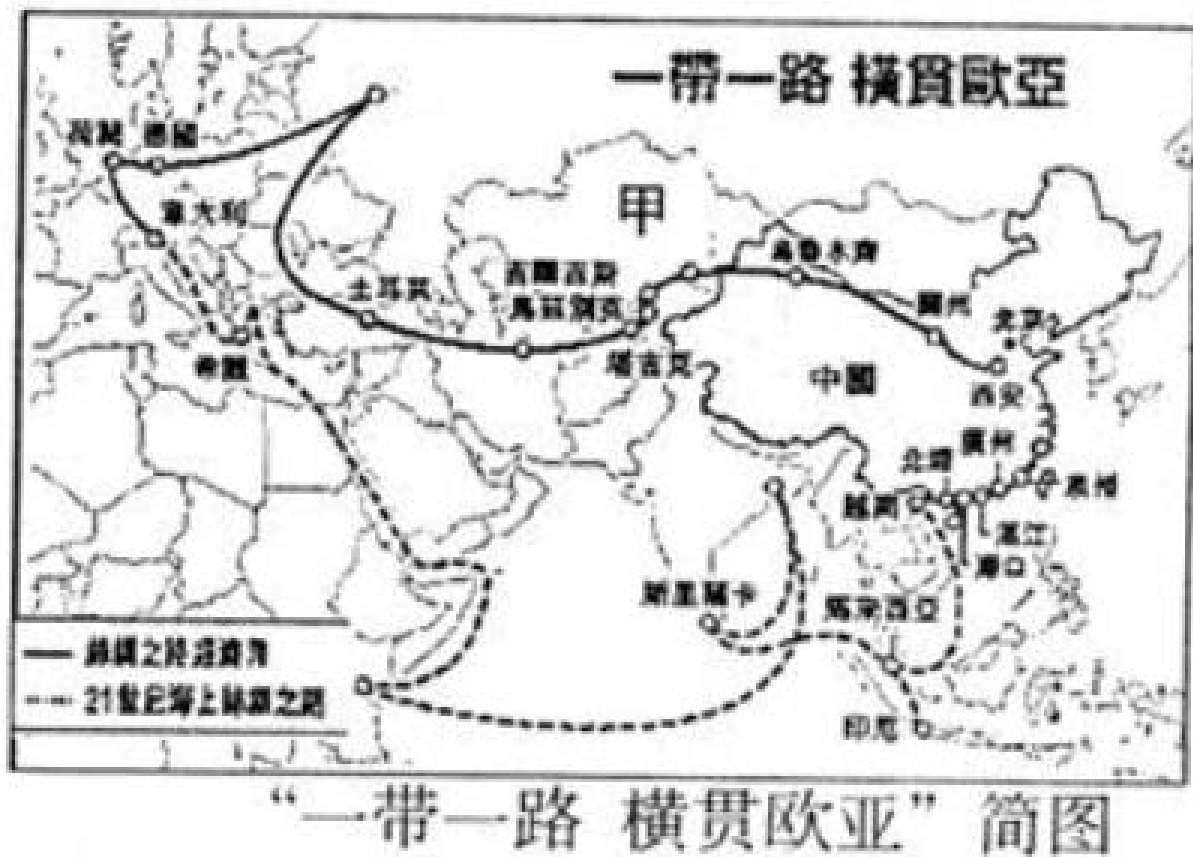
图丁所示半球中, 被三大洋包围的是 ()

- A. 南美洲
- B. 大洋洲
- C. 南极大陆
- D. 非洲大陆

8. 甲城市位于 20°N 110° , E乙城市位于 40°N 116° , E乙城市位于甲城市的 ()

- A. 东北方
- B. 西北方
- C. 东南方

9. 读下图，回答以下小题。



(1) 邻国甲是 ()

- A. 蒙古
- B. 朝鲜
- C. 俄罗斯
- D. 哈萨克斯坦

(2) 关于我国疆域说法正确的是 ()

- A. 大部分为热带，没有寒带
- B. 最东端至帕米尔高原
- C. 最大的岛屿是海南岛
- D. 北京比乌鲁木齐先看到日出

(3) 关于我国海陆位置优越性描述正确的是 ()

- A. 气候适宜，可以发展多种农业
- B. 便于和东部的诸多邻国陆上交往
- C. 利于发展海洋事业和海外贸易
- D. 疆域辽阔，自然风光多样

(4) “21世纪海上丝绸之路”主要的交通方式是 ()

- A. 铁路运输
- B. 管道运输

C. 航空运输

D. 海洋运输

10. 下图是我国某少数民族盛会图，据图回答下列各题。



(1) 该少数民族是 ()

A. 蒙古族

B. 回族

C. 傣族

D. 藏族

(2) 该少数民族主要生活在 ()

A. 内蒙古高原

B. 寒温带

C. 湿润地区

D. 高原气候区

11. 长江流域图，完成下列小题。



长江流域图

(1) 下列关于长江各河段水文特征的叙述，正确的是 ()

A. 甲河段水流平缓，航运发达

B. 乙河段水量锐减，水能丰富

C. 丙河段江阔水深，航运价值高

D. 长江流域支流稀少

(2) 治理长江的主要措施是 ()

①修建水库 ②围湖造田 ③疏通河道 ④清除蓄洪区

- A. ①③
- B. ②③
- C. ①②
- D. ②④

12. 读我国土地资源分布及利用类型示意图，回答以下小题。



(1) 上述四幅图表示出了我国土地利用类型的分布，其中表示耕地的是 ()

- A. ①②
- B. ②③
- C. ③④
- D. ①③

(2) 土地资源④主要分布的地形类型是 ()

- A. 平原
- B. 山地
- C. 丘陵
- D. 高原

(3) 影响我国耕地类型南北差异的主要因素是 ()

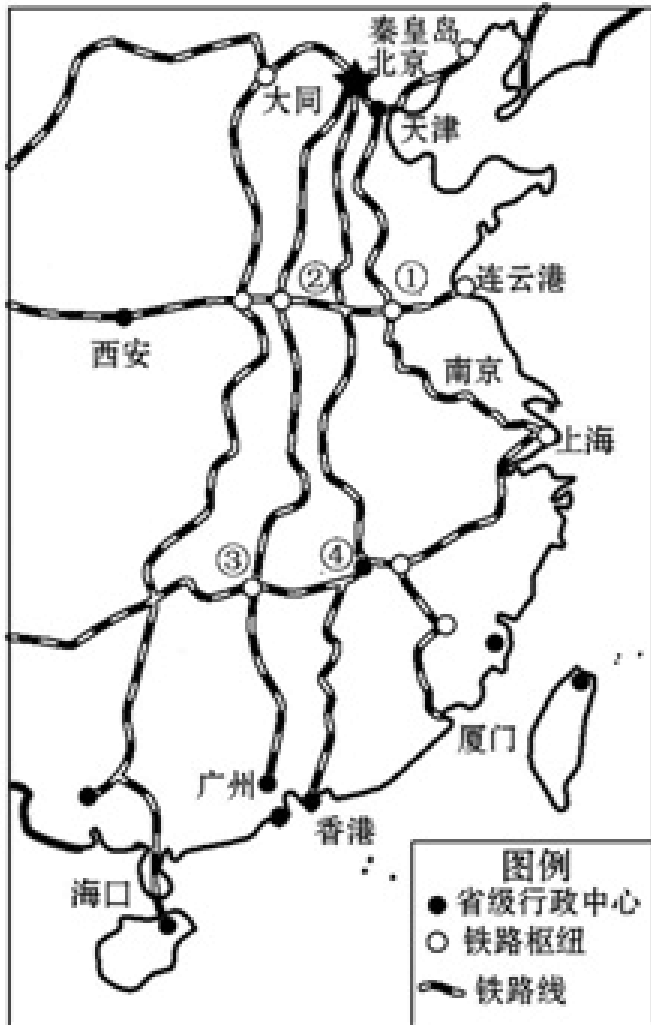
- A. 地形
- B. 科技水平
- C. 气候
- D. 生活习惯

13. 某外商要在我国投资建制糖企业，下列地区最适宜的是 ()

- A. 华北平原
- B. 东北平原
- C. 青藏高原
- D. 长江中下游平原

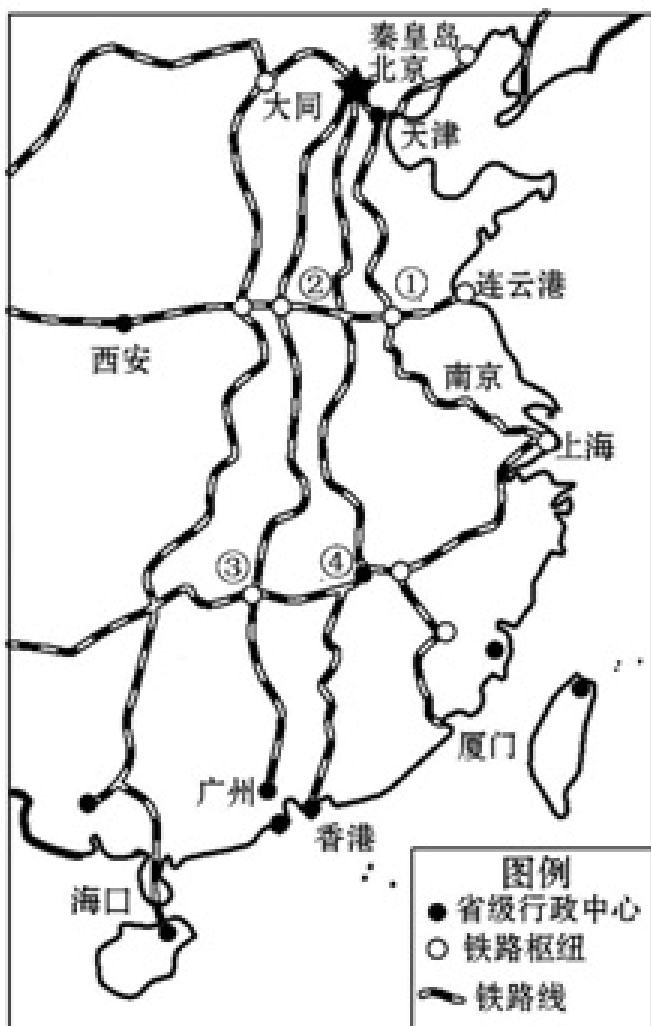
14.随着京沪、京广高铁相继通车，我国铁路发展迈入世界先进行列。我国沿海港口众多，海运也极为发达。读图我国东部地区铁路、港口分布图，回答(1)~(2)题。

(1)关于铁路运输的特点，正确的是()



- A. 机动灵活、适应性强
- B. 投资省、运费最低
- C. 连续性强、安全可靠
- D. 速度较快、运费较低

(2)图中铁路枢纽及交汇的铁路线，对应正确的是()



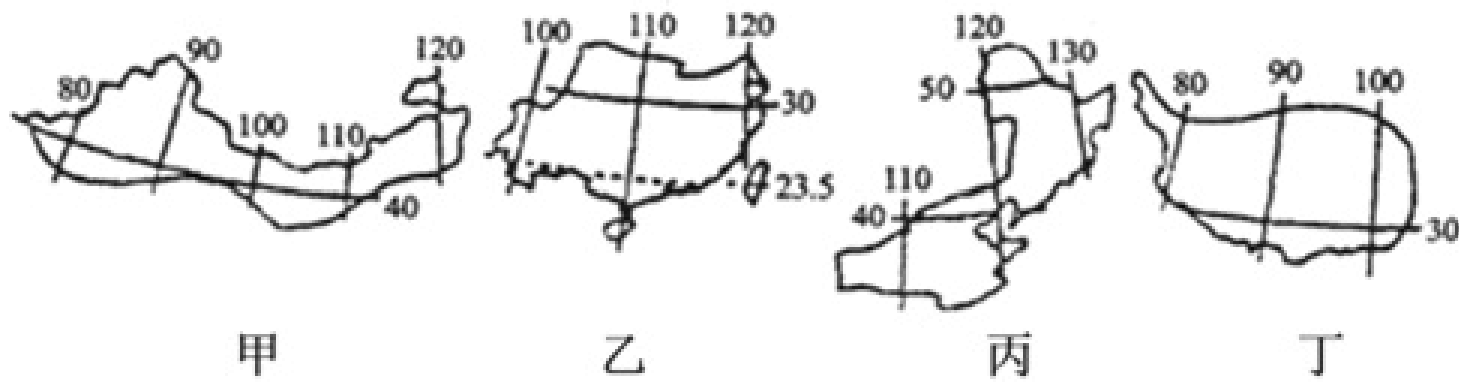
- A. ① - 徐州 - 陇海线与京沪线

B.② - 兰州 - 陇海线与京广线

C.③ - 南昌 - 京广线与沪昆线

D.④ - 贵阳 - 沪昆线与京广线

15.读中国四大地理区域图，回答(1)~(4)题。



(1) 下列关于四大地理区域的叙述，正确的是 ()

A. 甲为南方地区

B. 乙为青藏地区

C. 丙为北方地区

D. 丁为西北地区

(2) 四大地理区域中，唯一濒临南海的是 ()

A. 甲

B. 乙

C. 丙

D. 丁

(3) 丁地区与其他地区划分的主导因素是 ()

A. 气温

B. 地形

C. 人类活动

D. 降水

(4) 下列景观属于甲地区的是 ()

A. 大漠黄沙驼铃响

B. 甘蔗扯起青纱帐

C. 青稞美酒锅庄舞

D. 旱地麦浪泛金黄

16.为了减少雾霾现象的发生,我们应提倡下列哪种行为()

- A.开车上下班
- B.工厂的废气直接排放
- C.骑自行车代步
- D.焚烧秸秆

17.在香港与内地的经济合作中,祖国内地的优势在于()

- ①技术先进
- ②能源充足
- ③管理经验丰富
- ④市场广阔
- ⑤劳动力廉价
- ⑥资金雄厚

- A.①⑥
- B.②④⑤
- C.①③⑤
- D.③④⑥

18.读北京市略图,判断下列说法正确的是()



- ①北京市北依太行山脉,西邻燕山
- ②北京的地势特点是西北高,东南低
- ③离北京最近的出海口是北戴河
- ④流经北京市的河流有永定河、潮白河等

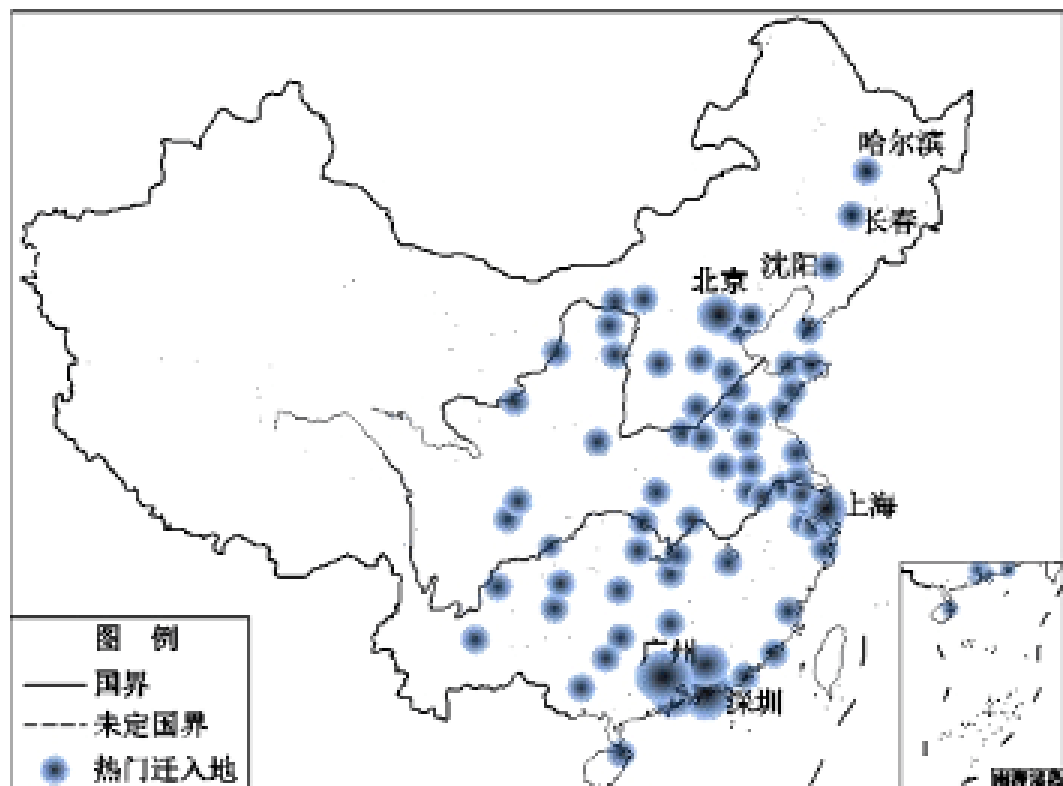
- A.①②

B. ③④

C. ②④

D. ①③

19. 2020年2月，许多城市迎来了最早的一批返工人潮。下图是根据百度迁徙数据制成的“2月9日全国热门迁入目的地分布图”（圆点大小代表热力程度）。读图，完成下列小题。



(1) 据图显示，全国最热门返工区域是（ ）

A. 辽中南工业基地

B. 京津唐工业基地

C. 沪宁杭工业基地

D. 珠三角工业基地

(2) 上图显示的人口迁入特点和我国人口分布特点大致相似，即东南和西北半壁疏密悬殊。如果在图中画出一条递变分界线，则与此线大致吻合的是（ ）

A. 黑河—腾冲一线

B. 秦岭—淮河一线

C. 800毫米年等降水量线

D. 第二、三级阶梯分界线

20. 2014年12月12日，历时11年建设的南水北调中线工程正式通水，通水后，每年可向北方疏送95亿立方米的水量，该工程（ ）

A. 从根本上解决了受水地区的缺水问题

B. 缓解了我国水资源空间分布不均的问题

C. 缓和了华北地区的洪涝灾害

D. 消除了京津地区水污染问题

21. 云南省元阳县境内全是崇山峻岭，当地的哈尼族人从隋唐时起就已在这里的山坡上开垦梯田。盘山梯田层层升高，淙淙流水渗入农田。读元阳梯田图片如图，完成下列小题。



(1) 云南省的农作物一年两熟到三熟，主要影响因素是 ()

- A. 热量
- B. 降水
- C. 地形
- D. 河流

(2) 修筑梯田主要是受 ()

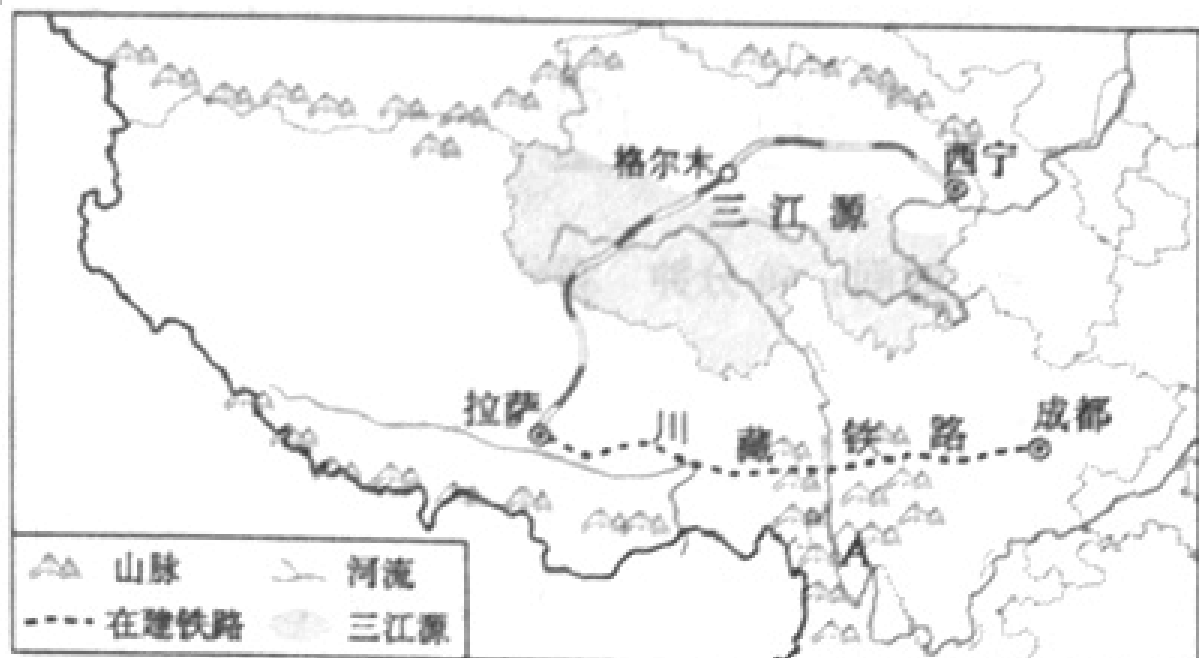
- A. 气温影响
- B. 降水影响
- C. 河流影响
- D. 地形影响

(3) 梯田上种植的农作物最可能是 ()

- A. 水稻
- B. 小麦
- C. 玉米
- D. 棉花

二、填空题 (本题共计 1 小题，共计 6 分)

22. (6分) 读青藏地区示意图，据所学知识完成下列各题。



(1) 写出山脉A的走向：_____。

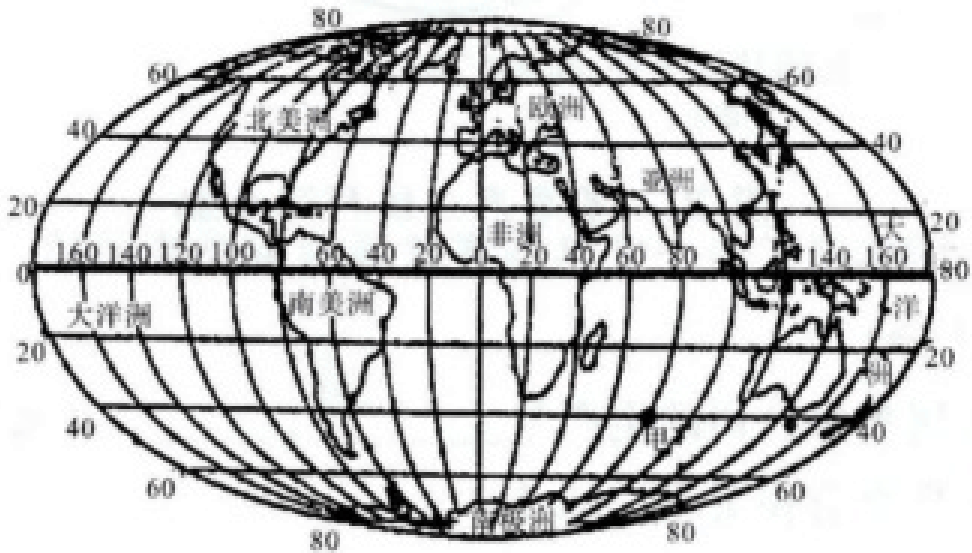
(2) 该区海拔高，空气稀薄，太阳辐射强，有丰富的_____资源。（填能源名称）

(3) 该区的三江源自然保护区是长江、黄河、澜沧江等河流的发源地，它们的水源来自_____。如果过度放牧、乱采滥挖等不合理的人类活动，会造成_____等生态问题。

(4) 川藏铁路在修建过程中可能遇到的地质灾害有_____、_____。

三、解答题（本题共计7小题，每题6分，共计42分）

23. 读图，完成下列各题。



(1) 图中甲点的经纬度为_____，_____，该点位于东、西半球中的_____半球，南、北半球中的_____半球，五带中的_____带。

(2) 经线指示_____方向。

(3) 在图中80°W—120°W, 20°N—60°N之间的地区是_____（大洲）。

(4) 亚洲与非洲的分界线是_____。

(5) 跨经度最广的大洋是_____。

24. 海外异地亲情

明明的妈妈在墨西哥工作，明明和爸爸打算2020年暑假一同前往墨西哥看望妈妈。临行前，他计划用课上学习的地理知识认识一下这个陌生的国度。下左图为墨西哥图。墨西哥菜是世界五大菜系之一，除原产于此地的玉米和种类繁多的辣椒之外，仙人掌、龙舌兰两种食材更是别具一格。龙舌兰酒采用龙舌兰草心发酵、蒸馏而成，是世界六大烈酒之一，被称为“墨西哥的国酒”，因最早生产于特基拉小镇，又名“特基拉酒”。图1为明明从网上查找到的龙舌兰、仙人掌两种植物的生长习性植物挂牌，图2为特基拉气候资料。阅读图文资料，回答下列问题。

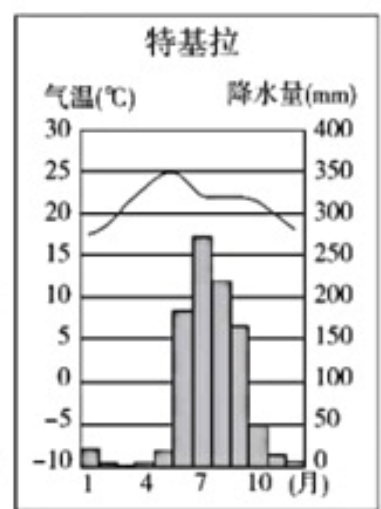
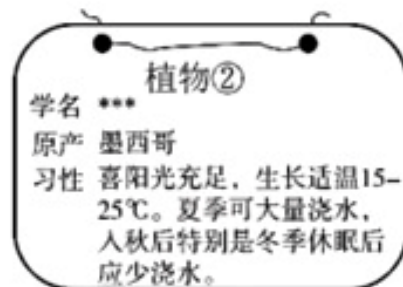
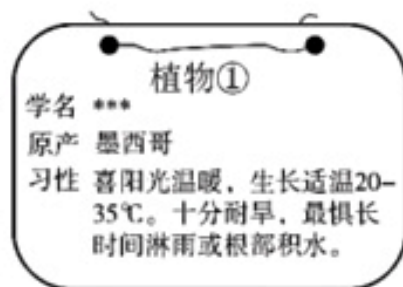
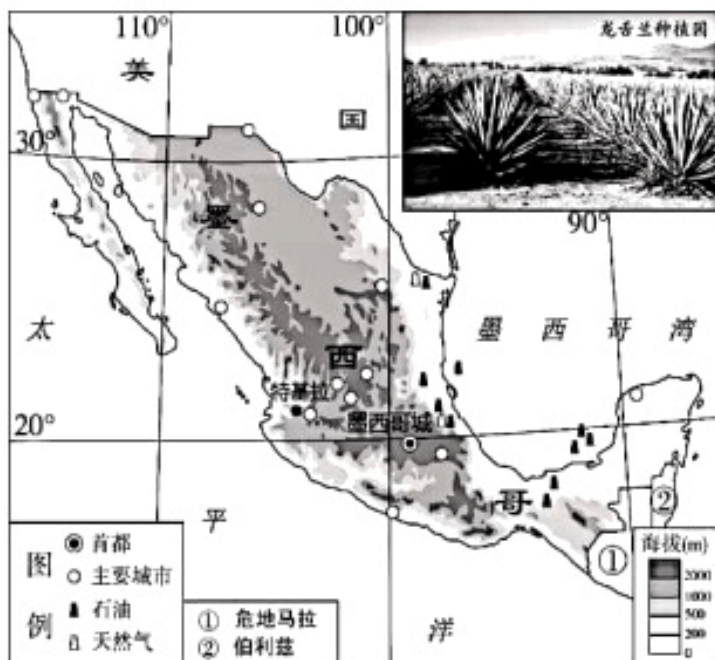


图1

图2

(1) 首先，明明对中国和墨西哥的地理位置进行了比较，其中描述正确的是_____。

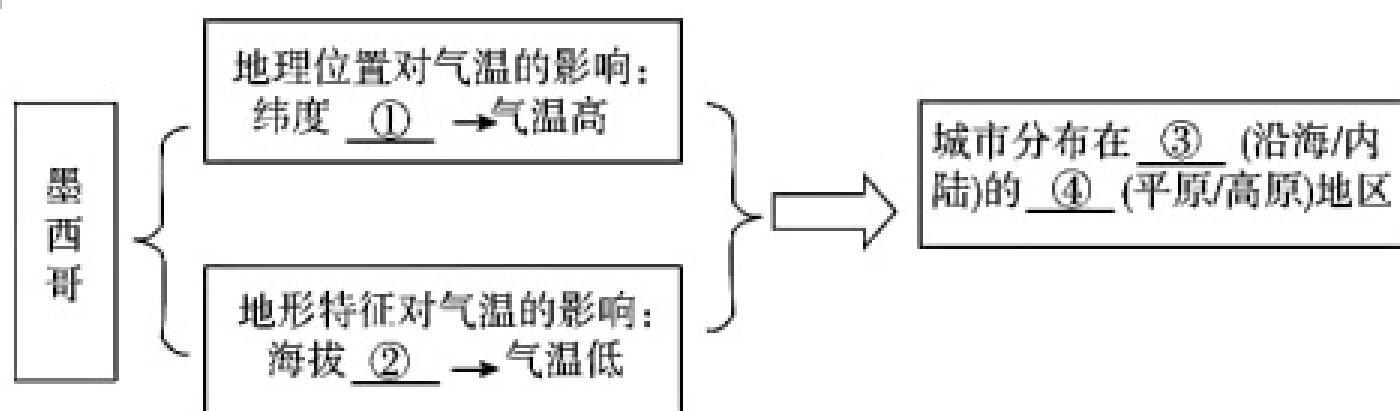
- A. 两国都位于太平洋西岸
- B. 两国都位于北半球
- C. 两国都属于海陆兼备的国家
- D. 两国都与美国隔海相望

北京时间1月17日10时07分许，墨西哥南部（北纬16.6°，西经95°）发生5.3级地震，明明立刻微信视频向妈妈发去问候。

(2) 视频后明明在日记中记录了这件事，请你从中挑选出两处有明显错误的语句并抄写下来。本次地震发生在墨西哥城西南方向，地震发生时妈妈正在准备午饭，她是从收音机中获得此次地震的消息的。妈妈说：“由于墨西哥地处太平洋板块的内部，地壳运动活跃，因此经常发生地震。”

错误1: _____; 错误2: _____。

(3) 墨西哥是世界人口第十一大国，请你结合资料帮明明完成下列关于墨西哥城市分布的知识框图。（在框图下序号后填写恰当内容）



① _____, ② _____, ③ _____, ④ _____。

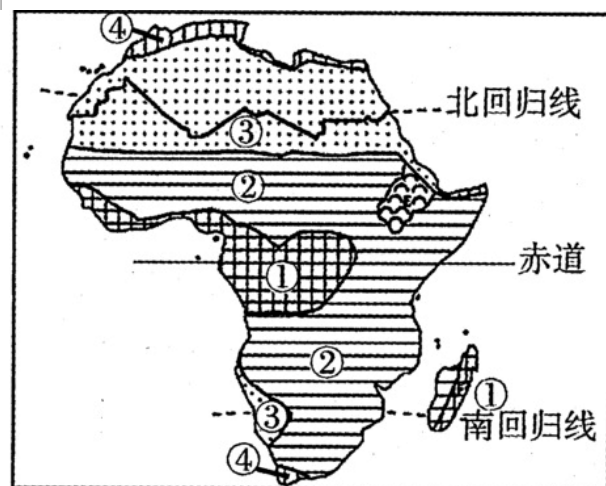
(4) 图1中最符合龙舌兰的是植物_____ (①/②)，请说明你的判断理由: _____。

墨西哥是美洲印第安文明的重要起源地之一，世界遗产数量居世界第七，其经济实力排名世界第十三，拥有现代化的工业与农业。近些年，墨西哥政府缩减了石油生产和出口量，一方面继续发挥商用汽车制造的优势，另一方面大力支持发展旅游业，目前墨西哥已经成为全球第七大汽车制造国、第六大旅游目的地国。

(5) 下面是明明针对墨西哥石油出口、汽车制造业和旅游业的一些论述，请将这些论述和其相对应的产业名称用线连起来。

油气资源集中在墨西哥湾沿岸，海运便利	旅游业
劳动力资源丰富，北邻美国，市场需求大	汽车制造业
世界遗产众多，政策倾斜，对外交通便捷	石油出口

25. 读图，回答下列问题。



(1) 非洲的气候类型以某条纬线为中轴呈现南北对称分布，这条纬线是 ()

- A. 北回归线
- B. 赤道
- C. 南回归线

D. 南极圈

(2) 写出图中数字所代表的气候类型:

- ①_____气候,
- ②_____气候,
- ③_____气候,
- ④_____气候。

(3) 撒哈拉以南非洲气候分布最广的是_____气候, 该气候存在明显的_____两季, 全年气温较高。

26. 巴西原为印第安人居住地。16世纪初沦为葡萄牙殖民地。1822年9月7日建立巴西帝国, 1889年推翻帝制成立共和国, 1891年建立合众国。1967年改为现国名。结合图片完成以下问题。

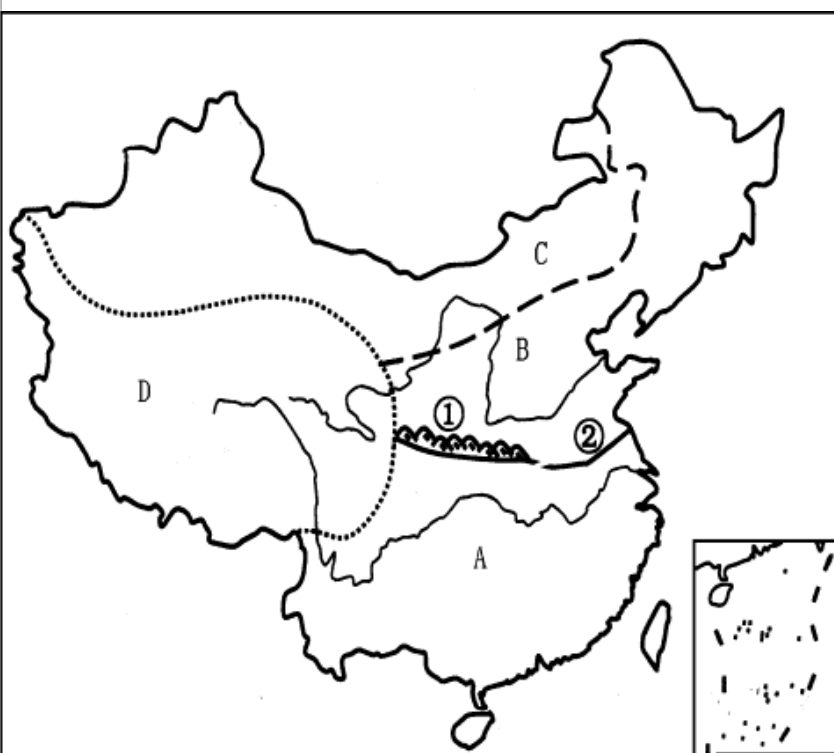


(1) 由于该国绝大部分处于热带地区因此又被称为“热带王国”, 同样处于热带地区有“沙漠王国”之称的国家是_____ (填名称)。

(2) 其首都是图中的_____ (填序号), 全国最大的城市是_____ (填名称), 它们所在地区的气候类型为_____, 图中④是巴西与巴拉圭共同建立的_____水电站。

(3) 这里有世界第一_____河 (填“长”或“大”), 其所在的地形区为_____, ③所在区域的气候类型为_____。

27. 读我国四大地理区域, 回答下列问题。

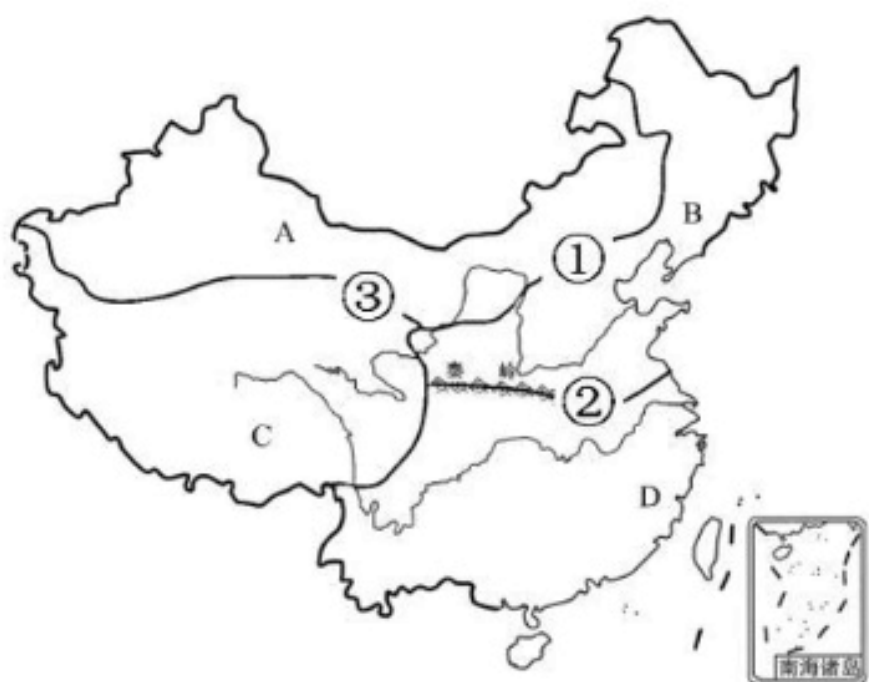


(1) 将图中的代码所表示的区域名称填在横线上A_____, D_____, 山脉①_____, 河流②_____。

(2) ①②是我国非常重要的一条地理分界线, 它是我国冬季_____等温线, 降水量_____年等降水量线, 温度带中_____和_____的分界线。

(3) A区域种植的粮食作物是_____, 农作物的熟制为_____。

28.读“我国的四大地理区域图”，回答下列问题。



(1) 请将图中的字母所表示的区域名称填在横线上：
区域：A _____ B _____ C _____ D _____

(2) 北方地区与西北地区的分界线①，是_____毫米年等降水量线，主导因素是降水。北方地区与南方地区分界线②，是秦岭—淮河一线，主导因素是_____。青藏地区和其他三大地区分界线③，是第一、二级阶梯分界线，主导因素是_____。

(3) A区域的塔里木盆地边缘，分布着星星点点的_____，其水源主要来自山地降水和_____，是当地人口、城镇和交通线的主要分布地区。由于这里油气资源丰富，国家已建设了十几座大型的油气田，并通过_____工程将这里的天然气运送到我国东部地区。

(4) B区域的黄土高原地区水土流失依然严重，给当地带来严重的生态危害，这里的人们采取_____等生物措施与建_____、修挡土坝等工程措施相结合，治理水土流失。B区域的华北平原地区春季正值冬小麦返青，气温回升快，降水较少，灌溉水源不足，（气象灾害）_____严重。目前采取南水北调、发展节水农业等措施来缓解。

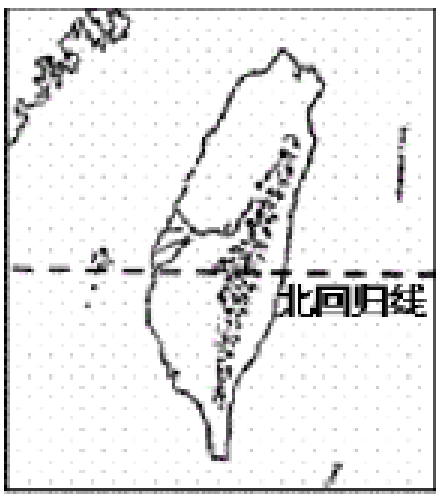
(5) C区域的_____高原是世界上最高的高原，有“世界屋脊”之称。由于海拔高，许多山峰终年积雪，冰川广布，是黄河、_____、澜沧江，雅鲁藏布江等众多大江大河的发源地。这里独特的生活习性、民族风情，令人神往；传统服装_____主要是为了适应独特的高寒气候特征之一的气温日较差大而设计的；这里的居民为了抵御严寒，都爱喝青稞酒，日常主食是_____。

(6) D区域大部分属于湿热的_____气候，发展农业的水热条件优越，耕地多为水田，主要种植_____，也种植小麦，棉花，油菜等。这里的_____地区，地处江海交汇之地，经济发展水平最高。上海是这里的核心城市，随着上海_____新区的开发，其辐射带动作用进一步增强。这里依托发达的高速铁路和高速公路，人们往返于不同城市之间，就像是生活在同一座城市一样，这叫做“_____”。

29.结合材料和图，回答下列问题。

材料一 台湾岛约有 $\frac{2}{3}$ 为山地。山脉隆起的年代较晚，山势巍峨，群峰挺秀。台湾中部的山区，由几条平行山脉组成，呈东北—西南走向，纵贯全岛。西部有较宽阔的平原。岛上河流短急，水能蕴藏量大，最长河流为浊水溪，全长186千米。日月潭是本岛最大的湖泊，为风光秀丽的旅游胜地。

材料二 连战、宋楚瑜大陆之行，开创了“海峡两岸”关系的新纪元，为促进两岸关系的和解、对话、和平和双赢开启了历史性的契机……



- (1) 台湾岛为我国第_____大岛，与祖国大陆上的_____省相距最近。
- (2) 台湾岛地形以_____为主，台湾山脉呈_____走向。
- (3) 岛上最长的河流是_____，最大的湖泊是_____。
- (4) 台湾岛位于_____洋西岸，因_____线从岛的中南部穿过，故兼跨_____和亚热带。
- (5) 材料中提到的“海峡两岸”中的海峡是指_____。

以上内容仅为本文档的试下载部分，为可阅读页数的一半内容。如要下载或阅读全文，请访问：<https://d.book118.com/046233002115011005>