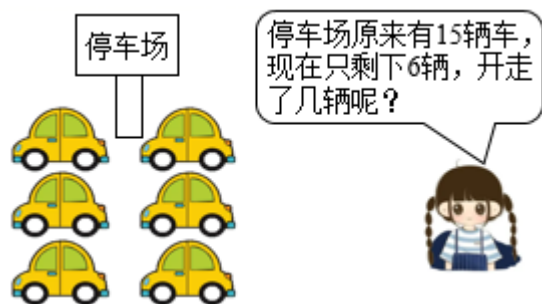


一年级下册数学解决问题 100 道

一. 解答题(共 100 题, 共 575 分)

1. “六一”儿童节一年级有 13 个节目要表演, 已经表演了 8 个节目, 还要表演几个节目?
2. 元旦到了, 王老师准备了 15 份礼物, 已经送出了 8 份, 小红得到了 2 份, 还剩多少份礼物没有送出?
3. 妈妈去物美超市, 买了 1 箱牛奶 32 元, 买了一瓶果汁 7 元, 又买了 20 元水果. 妈妈只带了 50 元, 买这些物品够吗?
4. 鱼缸里有 13 条金鱼, 黑的有 7 条, 红的有多少条?
5. 红红买了 14 本课外书和 13 个笔记本, 课外书中有 5 本故事书, 其它课外书有几本?
6. 树上原来有 25 只小鸟, 先往东边飞走 8 只, 后又往西边飞走 15 只, 一共飞走了多少只?
7. 小丽要做 12 个五角星, 做好了 7 个, 还要做多少个?
8. 我家有 14 只鸡和 6 只鸭, 公鸡有 7 只, 母鸡有多少只?
9. 一个加数是 45, 另一个加数比它多 5, 另一个加数是多少?
10. 一共有 12 个西瓜, 卖掉一些后还剩 5 个, 已经卖掉了多少个?
11. 一年级三班有男生 30 人, 女生和男生的人数相同, 这个班一共有多少人?
12. 有 20 名运动员和 6 名教练, 一箱矿泉水共有 24, 每人 1 瓶, 够吗?
13. 解答题。



$$\square \bigcirc \square = \square \text{ (辆)}$$

答: 开走了 () 辆。

14. 小猫妈妈带着小猫宝宝去钓鱼, 它们一共钓了 38 条鱼, 小猫宝宝吃了 8 条. 它们还剩下多少条鱼?
15. 妈妈拿 80 元, 买了一双鞋, 还剩 20 元, 这双鞋多少元?

16. 衬衣：47 元 帽子：8 元 裤子：54 元 鞋子：28 元

①爸爸给小明买了一顶帽子和一双鞋，一共用了多少钱？

②衬衣比裤子便宜多少钱？

③爸爸买一件衬衣，付出 50 元，应找回多少钱？

17. 小军做了 30 个，小华做了 37 个，小军再做多少个就和小华同样多？

18. 小明有 16 枝彩色笔，小新借走了 8 枝，小明还有几枝？

19. 考试有一道难题，小华做这道题花了 11 分钟，小红花了 8 分钟，小丽花了 7 分钟。


(1) 小华比小红多花几分钟？

(2) 小丽比小华少花几分钟？

20. 根据下面的条件，你能提出什么问题并解答。



21. 解决生活中的问题。



一盒笔多少钱？

22. 明明买了两本书，第一本书 30 元，第二本书 40 元，一共花了多少元？

23. 小明比小红少折多少只纸鹤？



24. 明明和笑笑看一本书，笑笑看来 37 页，明明看了 15 页，谁看的多？

25. 停车场里有小汽车 35 辆，公交车比小汽车多 13 辆，大卡车比小汽车少 6 辆，有多少辆公交车？多少辆大卡车？

26. 妈妈买了一箱苹果，她付给售货员 1 张 50 元和 1 张 20 元，找回了 3 元 4 角，买苹果花了多少钱？

27. 小明家有 15 只鸡和 4 只鸭。公鸡有 9 只，母鸡有几只？

28. 原来有 17 个气球，被吹走的 8 个，还剩下多少个？

29. 图书馆里有 15 本《数学故事》，借走了 8 本。还剩多少本？

30. 小明有 14 个 ，吃了 6 个后，和小云同样多，小云有几个？

31. 老师留了 16 道计算题，小红还要做 7 道才能完成作业，猜一猜小红已经做了几道？

32. 看图列算式，填一填。



35 元



40 元

(1) 买一个足球一个篮球共多少钱？

(2) 足球比篮球贵多少钱?

(3) 用 50 块钱去买一个篮球, 应该找回多少钱?

33. 妈妈要洗 12 只苹果, 已经洗好 5 只, 还要洗多少只?

34. 有 18 个小朋友跳绳, 其中女生有 8 人, 男生有多少人?

35. 小朋友们在植树节集体去种树, 一共要种 15 棵树, 已经种了 6 棵。还需要种多少棵树?



36. 小伟有 4 元 3 角钱, 买了 1 本书用去 2 元 4 角, 还剩多少钱?

37. 逛超市。



3 元 5 角



1 元 2 角






5 元



3 元

(1) 买一瓶  和一根  一共需要多少钱?

(2) 一盒  比一瓶  便宜多少钱?

(3) 买一个 , 付给售货员 10 元, 应找回多少钱?

(4) 你还能提出什么数学问题?

38. 妈妈拿 80 元, 买了一双鞋, 还剩 20 元, 这双鞋多少元?

39. 图书馆有 13 本《数学大王》, 已经借走了 5 本。还有多少本?

40. 一(1)班男生有 28 人, 女生比男生少 8 人, 女生有多少人?

41. 买东西。



70 元





60 元



26 元



(1) 如果小华要买一副  和一辆  , 一共需要多少元?

$\square \circ \square = \square$ (元)

(2) 小亮用 80 元钱买了一个  , 找回 6 元, 一个  多少元?


$\square \circ \square = \square$ (元)

42. 作业一共要写 16 页, 小明写了 7 页, 请问他还需要写多少页?

43. 货车比客车多多少辆?



44. 李老师送一队小朋友去上学，这一队小朋友共有 27 人，小明的前面有 19 人，他的后面有几人？



45.

50元



20元

30元

60元

88元

(1)  比  贵多少元？

(2)  便宜多少钱就和  的价钱同样多？

(3) 丽丽付了 90 元钱正好买了两件衣服，她买了哪两件衣服？

46. 小文和小东比踢毽子，小文踢了 18 下，小东踢了 9 下。

(1) 小文比小东多踢了多少下？

(2) 小东比小文少踢了多少下？

47. 逛超市。



①5元



②10元



③22元

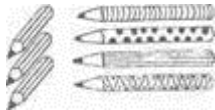


④20元

(1) 买①和④玩具一共需要多少元?

(2) 你还能提出其他什么数学问题, 并列式解答。

48. 商店里有 42 支铅笔, 第一天卖出 8 支, 第二天卖出 12 支。



(1) 两天一共卖出多少支铅笔? 商店里还剩几支铅笔?

(2) 1 支铅笔 5 角钱, 我有 1 张 1 元和 3 张 2 角, 最多可买几支铅笔? 还剩多少钱?

49. 看图回答问题。



爸爸今年35岁

我今年9岁



(1) 我和爸爸一共多少岁?

(2) 我比爸爸小多少岁?

50. 爸爸、妈妈、王明和 62 岁的奶奶到森林公园游玩, 门票价格是: 成人每张 5 元, 儿童半价, 60 岁的上老人凭老年证免票, 他们购门票共用多少钱?

51. 积极参加课外活动。

合唱队	舞蹈队	田径队	足球队
47人	30人	20人	24人

(1) 合唱队与舞蹈队一共有多少人?

(2) 舞蹈队比合唱队少多少人?

(3) 田径队和足球队一共有多少人?

(4) 足球队比田径队多多少人?

52. 一支铅笔 9 角, 一支钢笔 5 元 9 角。小明买一支铅笔和一支钢笔, 一共花了多少钱?

53. 停车场原来有 17 辆汽车, 开走了 9 辆, 过一会儿, 又开来了 6 辆, 现在停车场里有多少辆汽车?

54. 跳绳。



(1) 小明和小奇一共跳了多少下?

$$\square \bigcirc \square = \square \text{ (下)}$$

答: 小明和小奇一共跳了_____下。

(2) 小青和小奇谁跳的比较多? 多多少下?

$$\square \bigcirc \square = \square \text{ (下)}$$

答: _____跳的比较多, 多_____下。

55. 一个筐里装着 52 个苹果, 另一个筐里装着一些梨。如果取走 30 个梨, 那么梨就比苹果少 10 个。原来有多少个梨?

56. 萝卜有 12 筐, 土豆比萝卜少 3 筐。土豆有多少筐?

57. 一共有多少人乘车?

以上内容仅为本文档的试下载部分, 为可阅读页数的一半内容。如要下载或阅读全文, 请访问:

<https://d.book118.com/056223010223010132>