

高二—人教版—地理选择性必修2—第一章

“区域与区域发展” 经典题目解析



学习目标：

通过分析“区域与区域发展”的经典题目，学会运用区域的方法分析和解决问题，能够分析给定区域的情境，从地理环境整体性和区域关联的角度，比较不同区域发展的异同，说明因地制宜对于区域发展的重要意义。

选择题组



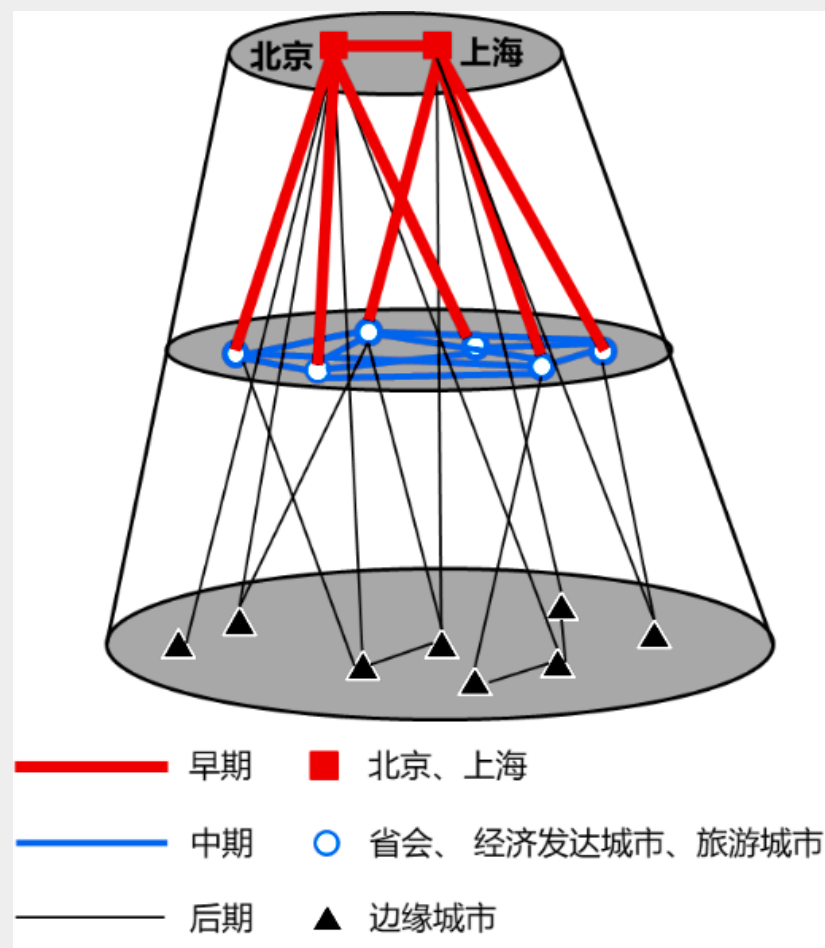
(2021, 广东) 随着我国高铁与民航快速发展, 两城市互通高铁直达列车和航空航班的现象越来越普遍, 形成日趋复杂的高铁—民航竞争网络。下图示意我国高铁—民航竞争网络空间拓展模式。据此完成下面小题。

1. 我国高铁—民航竞争网络空间演变特征为 (**B**)

- A. 空间竞争由分散到集中
- B. 空间竞争范围由小变大
- C. 空间网络趋向于双极化
- D. 边缘城市参与机会渐少

2. 该拓展模式主要体现了地理事物空间扩张的 (**D**)

- A. 均衡性
- B. 集中性
- C. 临近性
- D. 等级性



(2021, 浙江) 下表为2019年全国及四大地区人口增长幅度
(与2012年相比)、三次产业结构统计表。完成下面小题。

地区		全国	甲	乙	丙	丁
人口增长幅度 (%)		3.4	-1.7	4.5	2.6	4.2
三次产业结构 (%)	第一产业	7.2	13.2	4.6	8.2	11.0
	第二产业	39.1	34.4	38.9	41.8	37.9
	第三产业	53.7	52.4	56.5	50.0	51.1

1. 甲是 (**D**)

A. 东部地区 B. 中部地区 C. 西部地区 D. 东北地区

2. 四大地区中 (**B**)

A. 主导丁地区发展的因素是高科技

B. 乙地区是人口增幅最大的地区, 城市化水平最高

C. 吸纳外资能力由强到弱依次为丙、甲、丁、乙

D. 乙、丙地区第二产业比重较高, 以重型工业为主

(2022, 河北) 中国瑞丽市和缅甸木姐市山川相连、语言相通、习俗相近;

两市城区同处瑞丽江河谷, 东西狭长, 南北隔江相望, 口岸交流频繁。

瑞丽市经济以二、三产业为主, 木姐市经济以农业为主。近年来, 密切的经济合作推动着两市协同发展。据此完成下面小题。

1. 影响两市城区形态和扩展方向的根本因素为 (A)

A. 地形条件 B. 经济产业 C. 交通设施 D. 口岸发展

2. 两市经济协同发展主要得益于 (D)

①风俗习惯相近

②产业结构优势互补

③资源禀赋相似

④交通设施互联互通

A. ①③

B. ①④

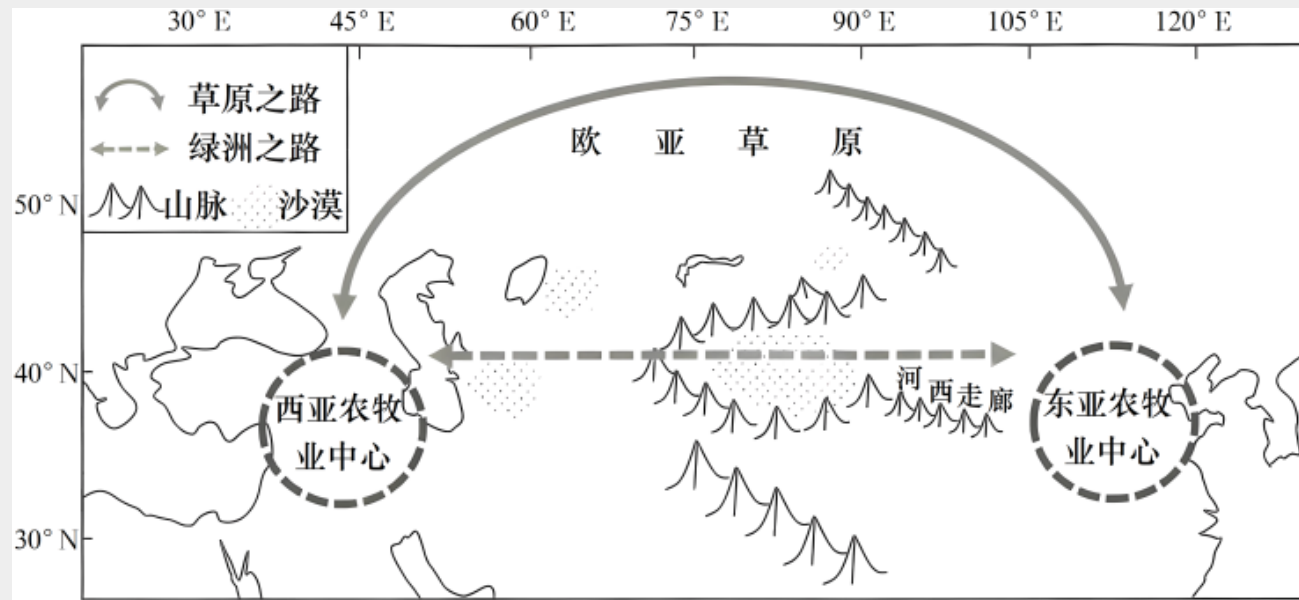
C. ②③

D. ②④

(2023, 江苏) 考古研究发现, 从距今6000年到距今2200多年, 欧亚大陆东西方交流和农牧业扩散先后形成了“草原之路”和“绿洲之路”两个主要通道。下图为“欧亚大陆农牧业扩散路径示意图”。据此完成下面小题。

1. 距今4000多年以前, “草原之路”成为东西方农牧业扩散主要通道的原因是其 (**D**)

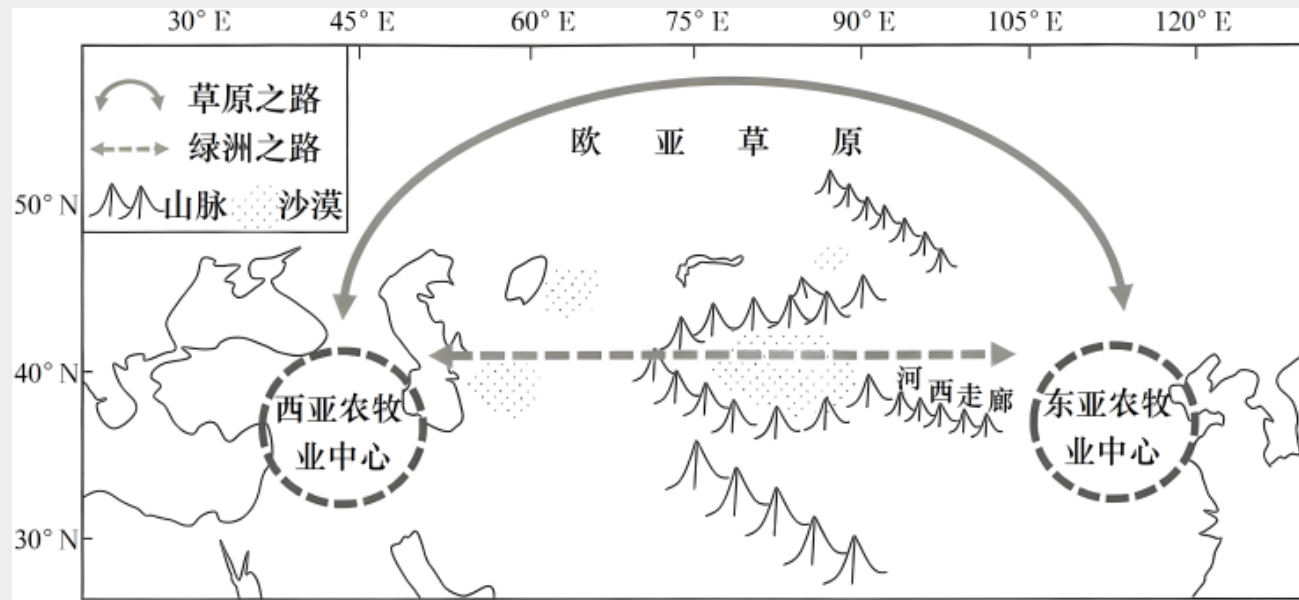
- A. 地广人稀有利于东西方农牧业扩散
- B. 距离东亚和西亚农牧业中心位置近
- C. 与东西方农牧业中心生产条件相似
- D. 环境对东西方农牧业扩散的阻碍小



(2023, 江苏) 考古研究发现, 从距今6000年到距今2200多年, 欧亚大陆东西方交流和农收业扩散先后形成了“草原之路”和“绿洲之路”两个主要通道。下图为“欧亚大陆农牧业扩散路径示意图”。据此完成下面小题。

2. 距今2200年以前, 随着“绿洲之路”贯通, 东西方农牧业进一步交融。据此可推断出 (**B**)

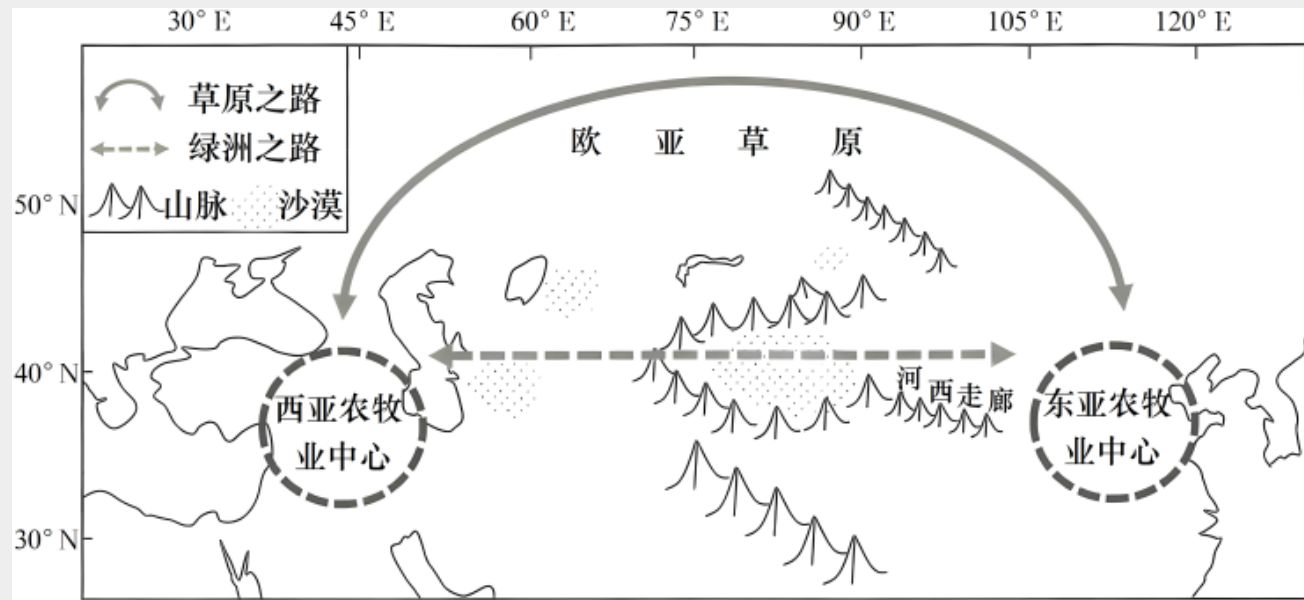
- A. “草原之路”农业生产规模达到极限
- B. 河西走廊以东农业生产模式更加多样
- C. 中亚地区的适农生产区域整体向东移
- D. 西亚种植业规模超过畜牧业生产规模



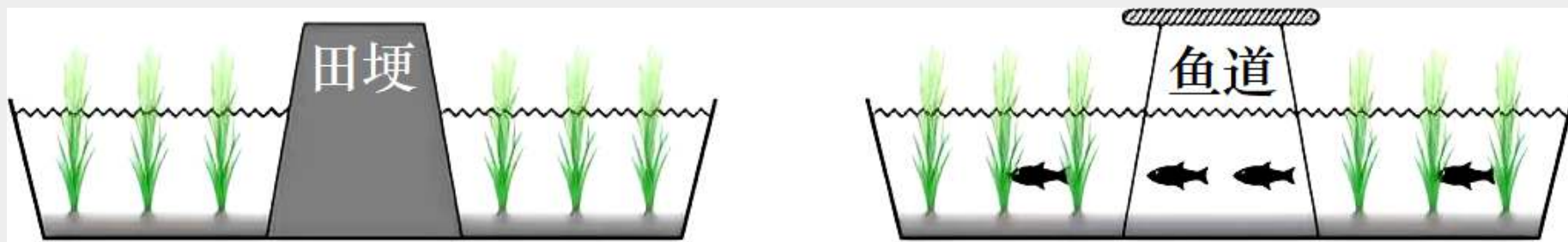
(2023, 江苏) 考古研究发现, 从距今6000年到距今2200多年, 欧亚大陆东西方交流和农收业扩散先后形成了“草原之路”和“绿洲之路”两个主要通道。下图为“欧亚大陆农牧业扩散路径示意图”。据此完成下面小题。

3. 早期农牧文明交融过程中, “草原之路”和“绿洲之路”沿线人地关系演变的主要驱动力是 (A)

- A. 人口扩散迁移
- B. 交通工具变化
- C. 文化语言交流
- D. 聚落规模扩大



(2023, 浙江) 某城市公园引入稻鱼生态系统, 将原来分割稻田的田埂用架空木栈道修建成鱼道, 取得了良好效益。下图为改造前后田埂和鱼道的示意图。完成下面小题。



1. 修建鱼道的主要生态作用是 (**B**)

A. 扩大水稻播种

B. 拓展生物通道

C. 保障游客安全

D. 增加雨水下渗

2. 下列地区最适合引进稻鱼生态系统的是 (**A**)

A. 江南丘陵

B. 黄土高原

C. 河西走廊

D. 华北平原

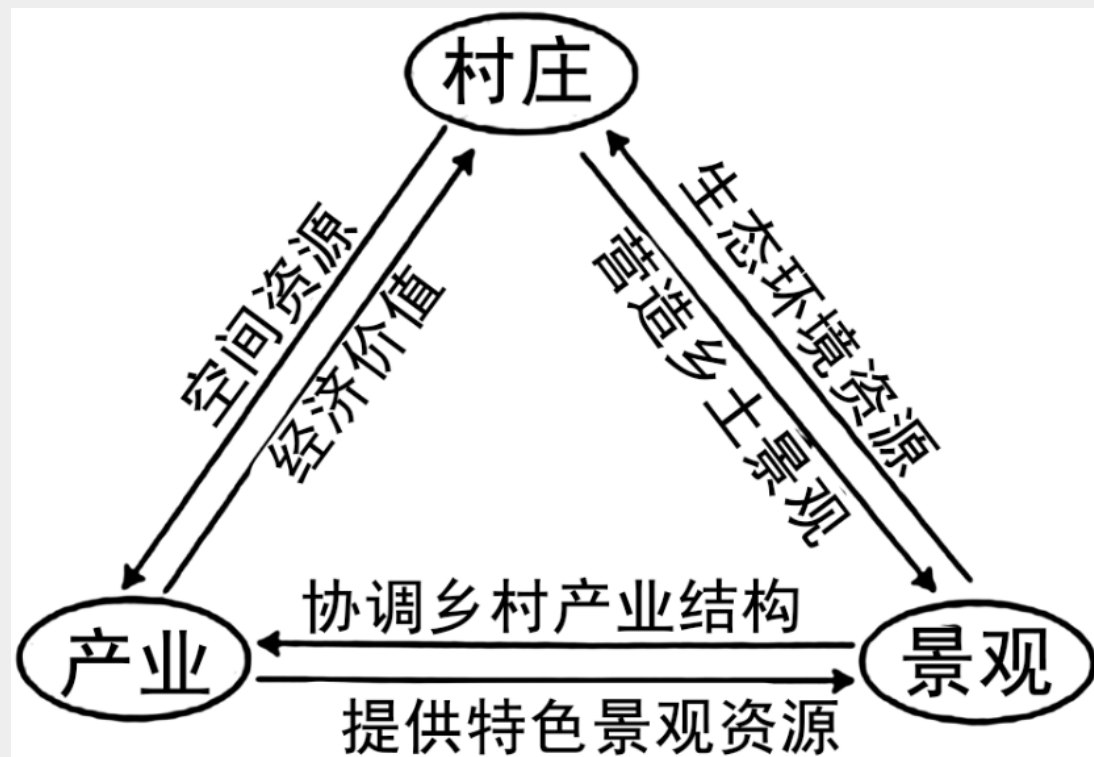
(2023, 湖北) “产村景”一体化融合是我国乡村振兴过程中形成的一种具有地域特色的发展模式。下图示意该模式中“产、村、景”各要素之间的互动关系。完成下面小题。

1. 该模式发展的基础是 (**D**)

- A. 人口规模
- B. 基础设施
- C. 生产水平
- D. 资源禀赋

2. “产、村、景”各要素融合的主要途径是 (**A**)

- A. 乡村旅游开发
- B. 生态环境建设
- C. 农副产品加工
- D. 电子商务推广



以上内容仅为本文档的试下载部分，为可阅读页数的一半内容。如要下载或阅读全文，请访问：
<https://d.book118.com/067032010044010006>