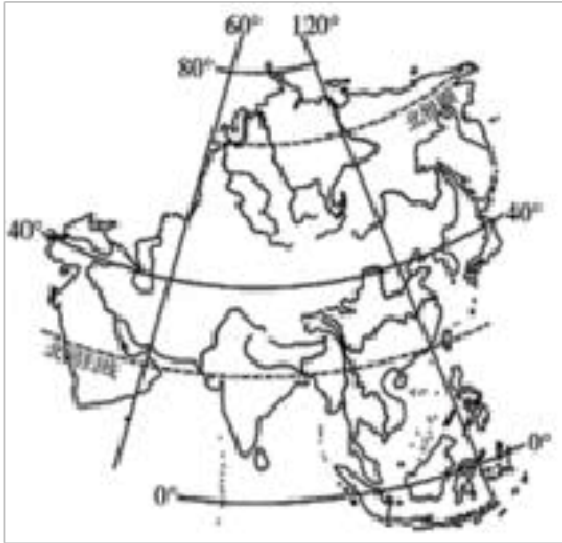


中图版（北京）七年级下册地理期中试卷

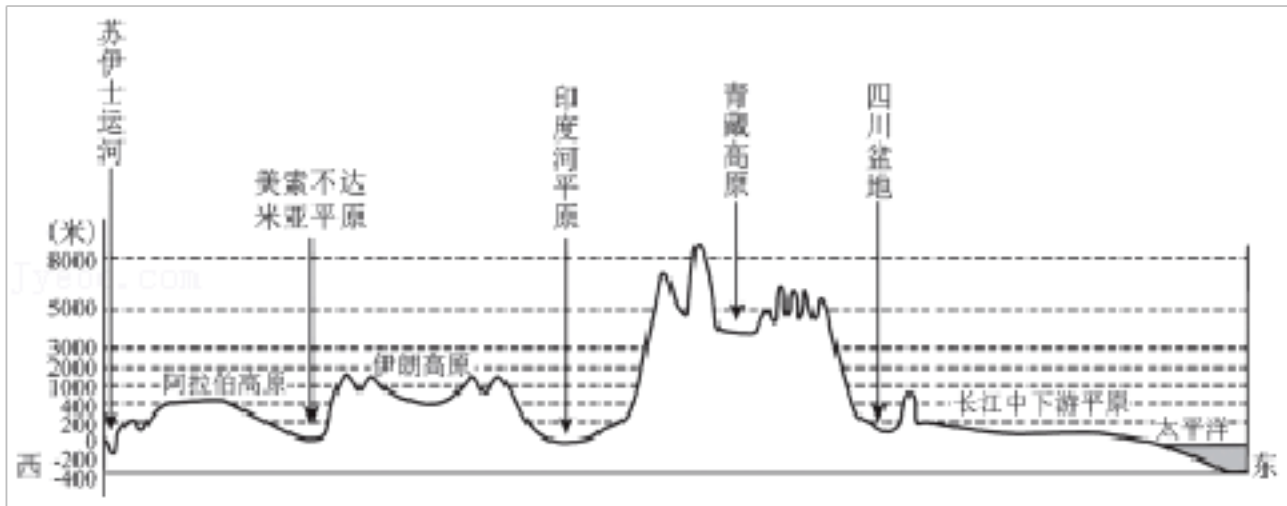
一、单项选择题（每小题 6 分，共 50 分）

如图为亚洲的位置和范围图。读图，完成 1~3 题。



1. 亚洲自然地理环境复杂多样，这是因为（ ）
①纬度范围广，经度跨度大
②四面均濒临海洋
③地形复杂多样，地势起伏大
④大部分地处高纬度地区
A. ①② B. ①③ C. ③④ D. ②④
2. 亚洲人文地理环境地域差异显著。下列组合正确的是（ ）
A. 东亚 - - 季风气候 - - 食品单一
B. 西亚 - - 炎热少雨 - - 黑色人种
C. 南亚 - - 恒河三角洲 - - 捕鱼为生
D. 北亚 - - 纬度较高 - - 民居墙壁薄
3. 亚洲季风气候显著的主要原因是（ ）
A. 东西距离最长的大洲
B. 地形起伏最大的大洲
C. 地处面积最大的大陆、面向世界最大的洋
D. 地跨纬度最广的大洲

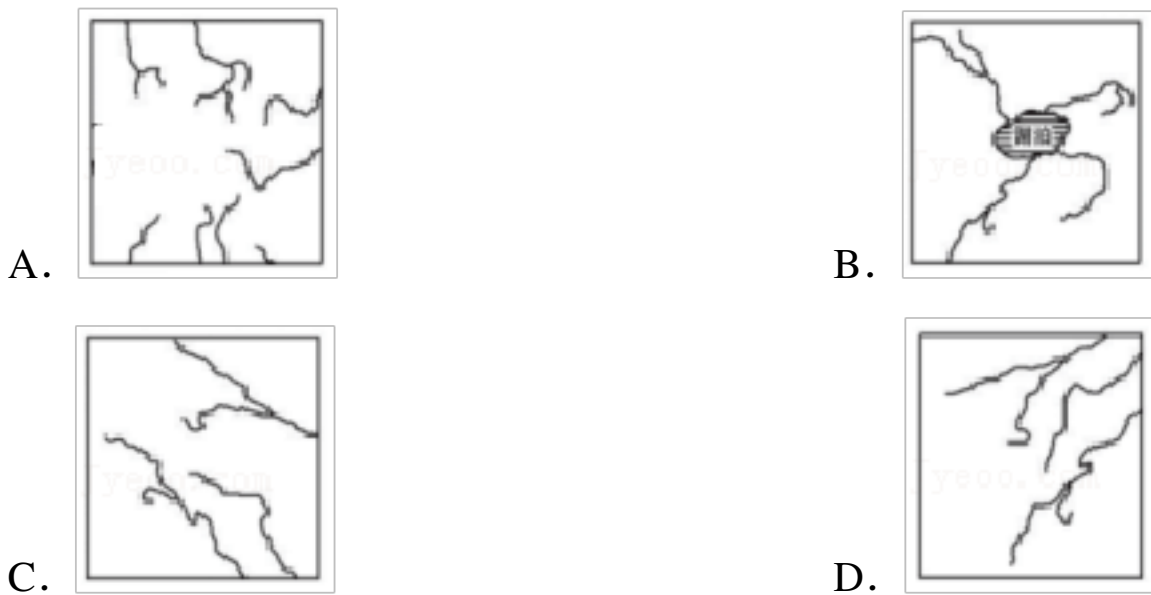
如图为某大洲沿 30° N 的地形剖面图。读图，完成 4~6 题。



4. 图示区域位于 ()
- A. 北美洲 B. 亚洲 C. 大洋洲 D. 非洲
5. 图示地区的地势特征是 ()
- A. 中间低, 南北高 B. 中间高, 东西低
- C. 西高东低, 呈阶梯状 D. 中部低, 四周高
6. 与青藏高原相比, 长江中下游平原 ()
- A. 纬度低, 降水多 B. 地势低, 气温高
- C. 面积大, 耕地少 D. 距海远, 河流少

地形与河流之间有密切的关系, 地形能影响河流的流向和流速, 河流也能塑造局部地区的地形, 回答 7~8 题。

7. 下列示意图能够正确反映亚洲河流流向的是 ()



8. 决定亚洲河流流向的主要原因是 ()
- A. 地势东西高, 中部低 B. 地势中部高, 四周低
- C. 气候复杂多样 D. 温带大陆性气候分布广

第 22 届夏季奥林匹克运动会将于 2021 年 7 月在日本东京举行。如图为本州岛地图。读图, 完成 9~11 题。

以上内容仅为本文档的试下载部分，为可阅读页数的一半内容。如要下载或阅读全文，请访问：<https://d.book118.com/068000012124006027>