

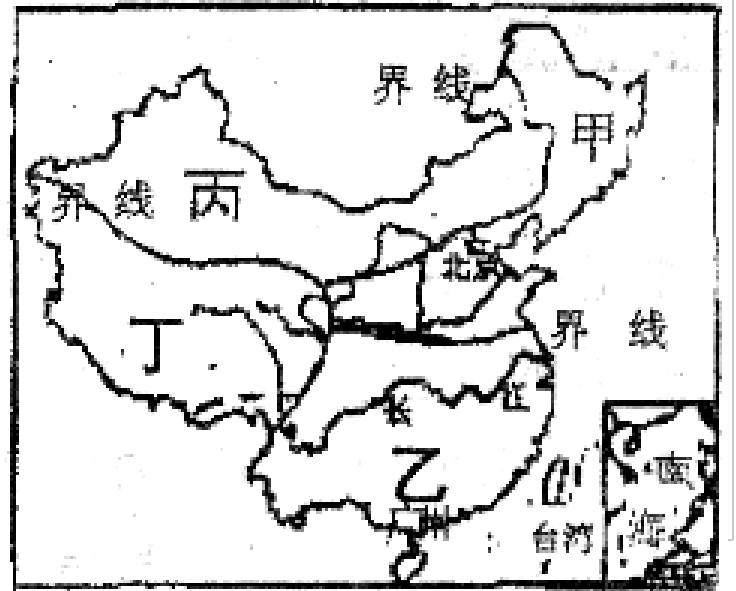
考试总分：100分 考试时间：120分钟

学校：_____ 班级：_____ 姓名：_____ 考号：_____

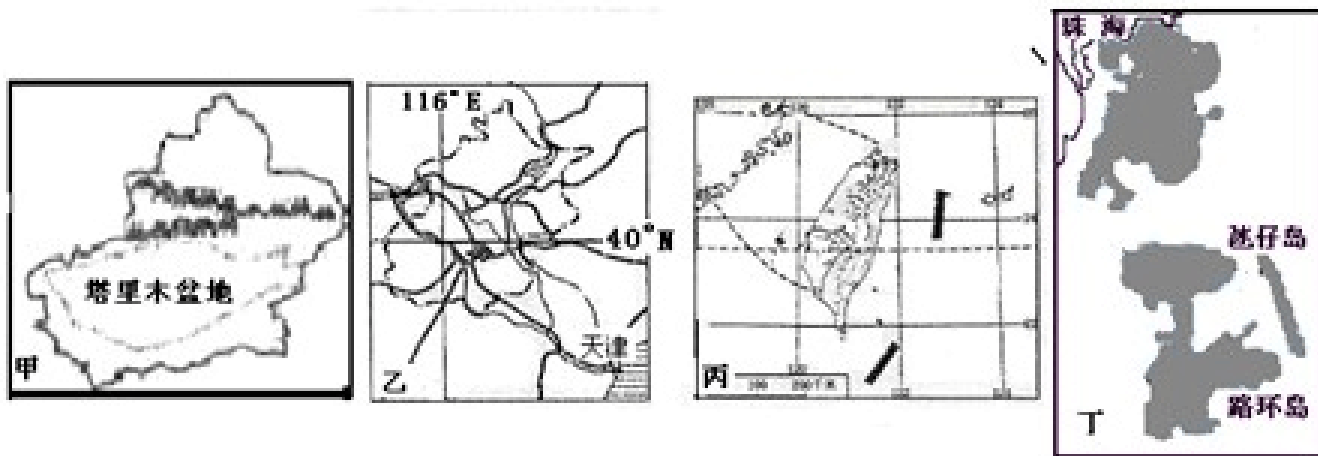
一、选择题（本题共计 11 小题，每题 5 分，共计 55 分）

1. 读地理区域图，关于下面四位同学的说法，谁的话可信（ ）

- A. 甲地区的同学说：我们这里种的甘蔗又大又甜
- B. 乙地区的同学说：我们的屋顶坡度小，墙体厚
- C. 丙地区的同学说：我们这里的黄梅戏可好听了
- D. 丁地区的同学说：我们这里的青稞酒真好喝



2. 关于下列省级区域的叙述，正确的是（ ）



- ① ‘地下万里长城’坎儿井是甲地区的著名水利工程
- ② 乙地区今后的发展方向是大力发展高新技术产业
- ③ 丙地区经济以初级产品出口为主
- ④ 丁地区经济发展的重要支柱产业是博彩旅游业。

- A. ①②③
- B. ②③④
- C. ①③④
- D. ①②④

3. 我国国土辽阔，区域差异大。读东北三省和青藏地区图，完成 (1) ~ (2) 题。



东北三省



青藏地区

关于两地区地理特征的叙述，正确的是（ ）

- A. “山环水绕”概括了东三省的山河大势；“高、寒”是青藏地区显著的自然特征
- B. 东北三省气候冷湿，辽东半岛长冬无夏；青藏地区光照强，气温日较差大
- C. 与东北三省相比青藏地区铁路线稀疏，气候是造成这种差异的最重要因素
- D. 东北三省煤、石油等传统能源丰富，青藏地区有丰富的新能源如太阳能、水能

4. 读图，完成（1）～（2）题。



（1）甲、乙两地分别位于我国的（ ）

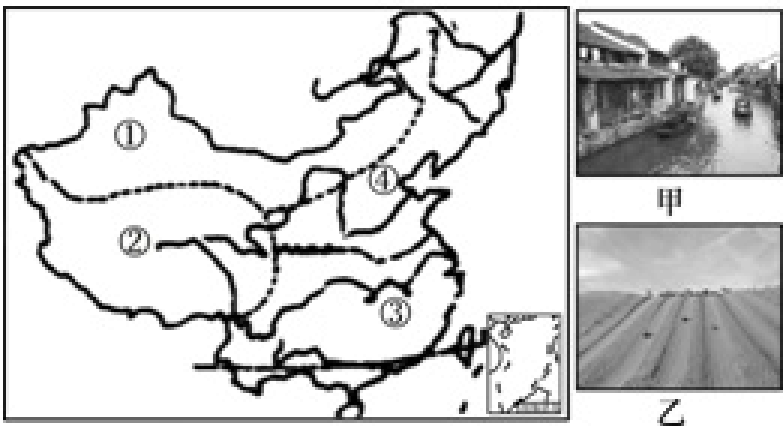
- A. 北方地区和南方地区
- B. 西北地区和青藏地区
- C. 青藏地区和南方地区
- D. 北方地区和西北地区

（2）与甲地相比，乙地具有小桥流水人家的特点。关于这里自然环境特征的叙述，不正确的是（ ）

- A. 降水丰富、地形平坦
- B. 河流众多，水网密布
- C. 地势坡度大，河流水量大、水流水急
- D. 地处亚热带，冬季温和少雨

5. 如图为我国四大地理单元及部分代表性景观照片示意图，读图完成（1）～（4）题。

(1) 照片甲、乙所示景观分别多见于图中的 ()



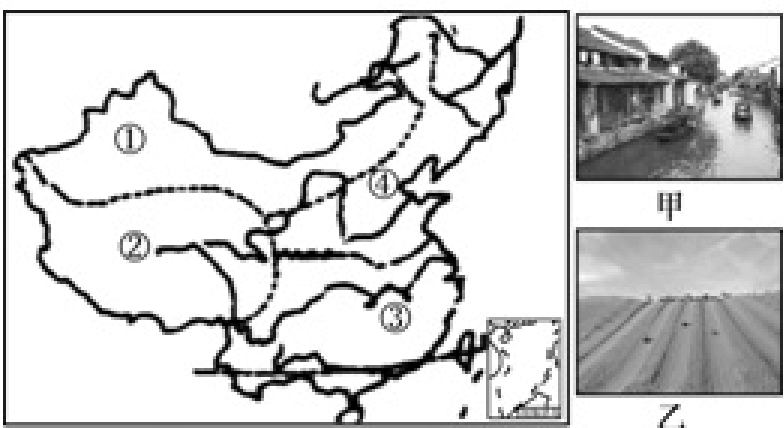
A. ①②

B. ②③

C. ③④

D. ④②

(2) 导致照片甲、乙所示景观差异的决定性因素是 ()



A. 水文

B. 气候

C. 植被

D. 地形

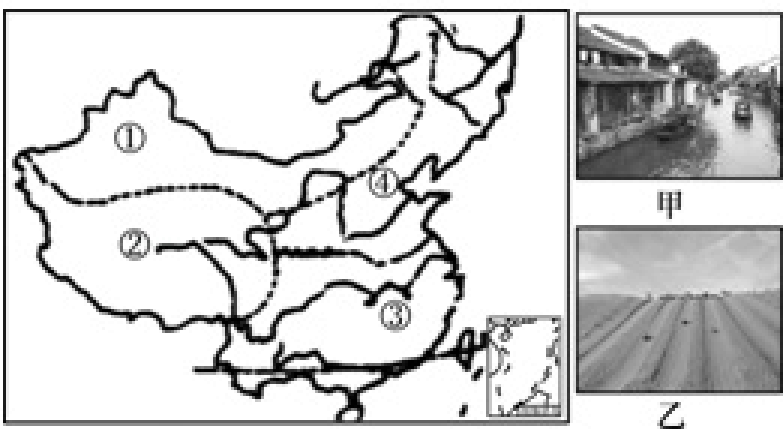
(3) 关于③④地区分界线的叙述, 正确的是 ()

①年平均气温 0°C 等温线

②湿润区与半湿润区的分界线

③亚热带与暖温带的分界线

④内流区与外流区的分界线



A. ①②

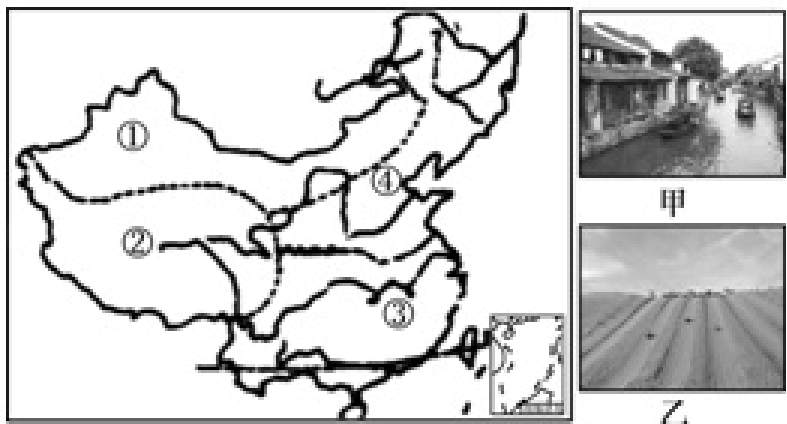
B. ②③

C. ③④

D. ①④

(4) 下列地理环境的特点, 属于③地区的有 ()

- ①气候温暖湿润
- ②耕地以水田为主
- ③河网密集, 水运便利
- ④民居屋顶坡度较小, 墙体较厚



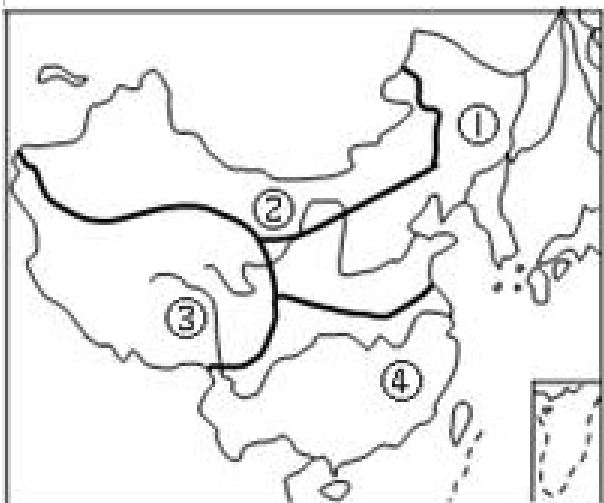
A. ①②③

B. ②③④

C. ①③④

D. ①②④

6. 读我国地理区域示意图, 完成下列小题。



(1) 与①、④两大地理区域分界线, 大致吻合的是 ()

- ①内流区与外流区的分界线
- ②湿润地区与半湿润地区的分界线
- ③1月0°C等温线
- ④第一阶梯和第二阶梯的分界线
- ⑤800毫米年等降水量线

A. ①③④

B. ②④⑤

C. ①④⑤

D. ②③⑤

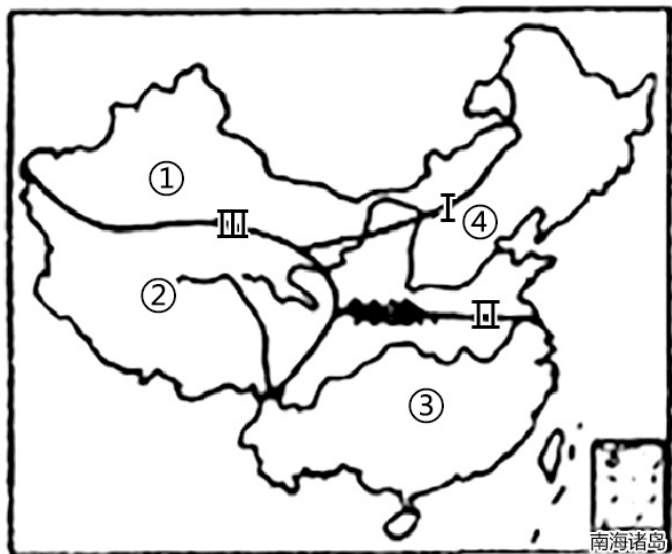
(2) 关于四大地理区域优势能源的叙述, 正确的是 ()

- A. 区域①主要是煤炭和石油
- B. 区域②主要是石油和水能

C. 区域③主要是地热能和核能

D. 区域④主要是水能和石油

7. 读中国地理四大分区图，完成下列小题。



(1) 关于图中 I II III 三条界线的说法正确的是 ()

A. 确定 I 线的主导因素是地势

B. 确定界线 II 的主导因素是夏季风

C. III 线与二、三阶梯的界线相一致

D. I 线与 II 线分别与 400mm、800mm 等降水量线相一致

(2) 关于图中四地区的说法正确的是 ()

A. ①地区是我国许多大江大河的发源地

B. ②地区不受冬、夏季风的影响




C. ③地区水稻、油菜、甜菜广泛分布

D. ④地区的河流流量大、汛期长

8. 如图示意某大学自行车队“重走丝绸之路活动”路线，读图完成下列小题。



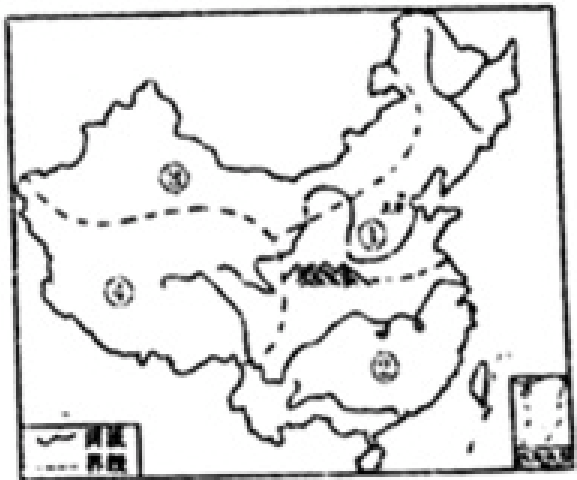
(1) 下列四个少数民族中，聚居于活动路线沿途的是 ()



(2) 关于自行车队从济南到乌鲁木齐的沿途经历，下列说法可信的是 ()

- A. 森林覆盖率越来越高
- B. 人口越来越稀疏
- C. 河流越来越多
- D. 少数民族越来越少

9. 读“中国四大地理区域示意图”，完成(1)~(5)题。



(1) 我国不同的区域，自然及人文地理环境有所不同，下列说法正确的是 ()

- A. ①地区的传统主食是白米饭
- B. 烤全羊是②地区的特色美食
- C. ③地区的河流全部是内流河
- D. 我国藏族主要集中在④地区

(2) 我国夏季最热的地方位于 ()

- A. ①

A. ①

B. ②

C. ③

D. ④

(3) 下列描述与图中①、③区域分界线有关的是 ()

A. 山北黄牛下地，山南水牛犁田

B. 岭东稻麦飘香，岭西牛羊成群

C. 山北沙漠广布，山的雪山连绵

D. 橘生淮南为橘，橘生淮北为枳

(4) 我国牧区主要分布在 ()

A. ①②

B. ②③

C. ③④

D. ①④

(5) 下列图片中的景观最可能出现在③地区的是 ()




A.



B.



C.



D.

10. 我国东西横跨5200多千米，南北纵贯5500多千米，呈现出显著的区域地理差异，读我国四大地理分区示意图，完成1~4题。



著名歌手韩红唱道“那是一条神奇的天路耶，带我们走近人间天堂，青稞酒酥油茶，会更加香甜，幸福的歌声传遍四方”，她所唱的地区是（ ）

- A. 甲地区
- B. 乙地区
- C. 丙地区
- D. 丁地区

11. “一方水土养一方人。”受自然环境的影响，我国北方地区、南方地区的人们在生产 and 生活方式上有很大的差异。回答（1）—（3）题。

（1）下列人文景观中，主要位于南方地区的是（ ）

A.



水乡人家

B.



窑洞

C.



晾晒葡萄干的“阴房”

D.



蒙古包

(2) 北方人喜面食，南方人喜食米饭，造成这一差异的主导因素是 ()

- A. 地形因素
- B. 气候因素
- C. 海陆位置
- D. 人类活动

(3) 下列叙述中，与北方地区相符的是 ()

- ①农田以旱地为主
- ②作物熟制一年两熟、两年三熟或一年一熟
- ③赛龙舟为传统的运动项目
- ④以种植小麦、大豆为主
- ⑤民居屋顶坡度较大，墙体较厚.

- A. ①②⑤
- B. ③④⑤
- C. ①②④
- D. ①③⑤

二、填空题 (本题共计 2 小题，每题 5 分，共计 10 分)

12. 图1为我国南方地区图，图2为新疆维吾尔自治区图，读图完成下表 (如表)。

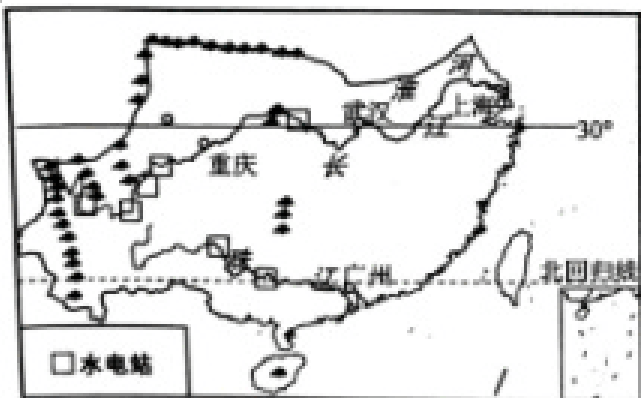


图1

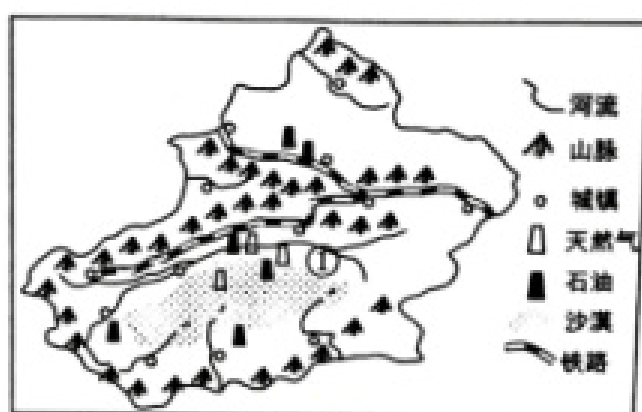


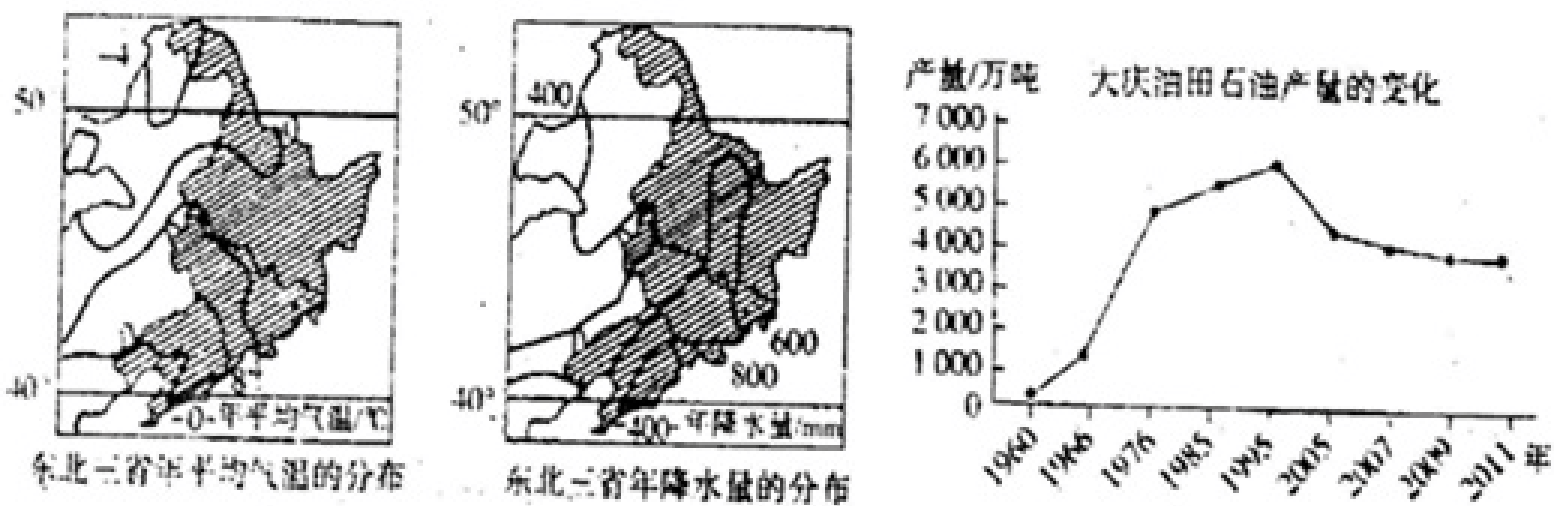
图2

区域内容	南方地区	新疆维吾尔自治区	
区域差异	地形差异	平原、丘陵、高原等。	(1) 山地和_____。
	能源差异	(2) 有丰富的_____，属可再生资源。	石油和天然气，属非可再生资源。
	河流差异	河流径流量大，属于外流河。	(3) ①为_____河，属于内流河。
区域联系	(4) 连接南方地区和新疆维吾尔自治区的能源调配工程是_____，该工程对南方地区产生的积极意义有_____。		

13. 议一议，可以从哪些方面来描述一个地区的地理特征。_____。

三、解答题（本题共计 7 小题，每题 5 分，共计 35 分）

14. 东北三省是“北大仓”，是新中国工业的摇篮”。阅读图文材料，回答下列问题。



(1) 东北三省地处亚洲东部，纬度位置较高，大部分地区年均温在 8°C 以下（填“上”或“下”），年降水量在400毫米以上，气候具有_____特征，农作物可一年_____熟，河流_____（填“有”或“无”）结冰期

(2) 东北平原发育了肥沃的_____色土壤，这里人口约占全国的8%，粮食产量却占全国的16%，是我国最大的_____生产基地。在春秋季节，当地农业生产主要面临_____带来的低温冻害。

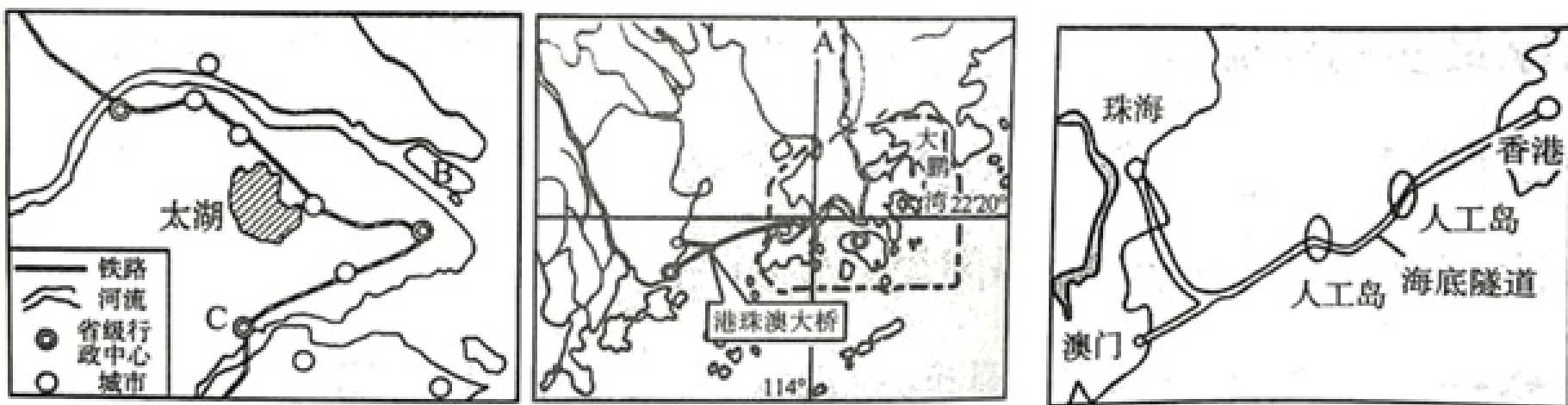
(3) 湿地被称为“地球之肾”。由于过度开荒，东北三省湿地锐减，导致生态环境恶化，为了保护环境、恢复生态，国家坚定停止开荒，建立一批_____。

(4) 东北三省依托丰富的煤、铁、石油资源发展为我国最大的_____工业基地，本区石油储量约占全国的14，但产量（如图以大庆为例）从20世纪90年代后逐渐_____。

15. 读图文材料，回答问题。

材料一：港珠澳大桥通车后，极大缩短了珠海、香港、澳门三地之间的时空距离。

材料二：长江三角洲地区图、珠江三角洲地区简图和港珠澳大桥简图。



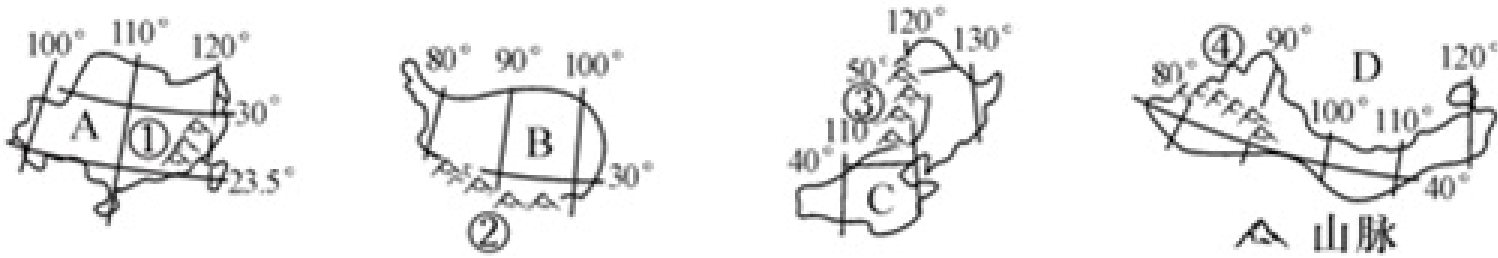
(1) 填出图中字母代表的地理事物名称：铁路：A_____ 岛屿：B_____ 城市：C_____。

(2) 港珠澳大桥联系了我国的三个省级行政区，分别是港、澳、_____（填简称），夏秋季节大桥建设时可能遇到的气象灾害是_____。

(3) 请运用简洁的语言，描述长江三角洲区域内外联系所具备的优势条件。

(4) 短缺限制了珠三角和长三角两地区的经济发展，试从“开源”角度列举解决措施。。

16. 如图是我国的四大地理区域略图，读图回答下列问题。



(1) 在以上四大地理区域中，以干旱为主要自然特征的是_____。（填字母）

(2) A和C两大地理区域的分界线是_____。

(3) 我国最大的盆地位于山脉_____的一侧。（填序号）

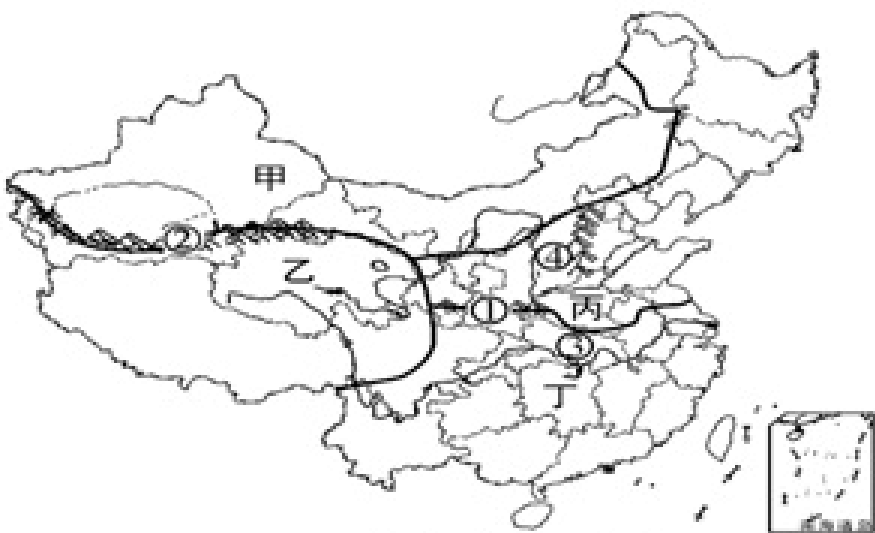
(4) 区域A所属的干湿地区主要是_____。

(5) 建立有湿地保护区的区域有_____。（填字母）

(6) B区域主要粮食作物是_____，其发展种植业不利条件是_____。

17. 我国幅员辽阔，区域差异显著。阅读下列图文材料，回答问题。

材料一：中国四大地区略图



中国四大地区略图

材料二：乙地区有着独特的自然和人文环境，成为旅游热点之一。在地理课上，老师建议：去乙地旅游时间最好是7、8月；带上墨镜、遮阳帽、防晒品、羽绒服等；有心、肺、脑血管系统疾病的患者需携带吸氧用具等。

(1) 图中山脉①、②中，属于我国南、北方地理分界线的是_____（填数字代号）。

(2) 甲地区最突出的自然环境特征是_____，该地区有我国最大的沙漠是_____沙漠。

(3) 河流③是世界第三长河，该河流域已建成的世界最大水电站是_____。

(4) 四位外国小朋友到图中四地区旅游后，交流各自见闻，其中说法错误的是（ ）

A. 法国小朋友说：“我在甲地区的蒙古包内，品尝了牧民自己酿制的青稞酒，让我想起了家乡的葡萄酒。”

B. 澳大利亚小朋友说：“我在乙地区看见牦牛，而我国中部有成群的绵羊。”

C. 日本小朋友说：“我在丙地区看到了成片的麦田，我的家乡主要种水稻。”

D. 埃及小朋友说：“我在丁地区看见了水乡景观，而我的祖国是一个沙漠之国。”

(5) 阅读材料二中老师的建议，请结合所学的地理知识加以解释_____。

18. 读“中国四大地理区域”分布图并回答下列问题。

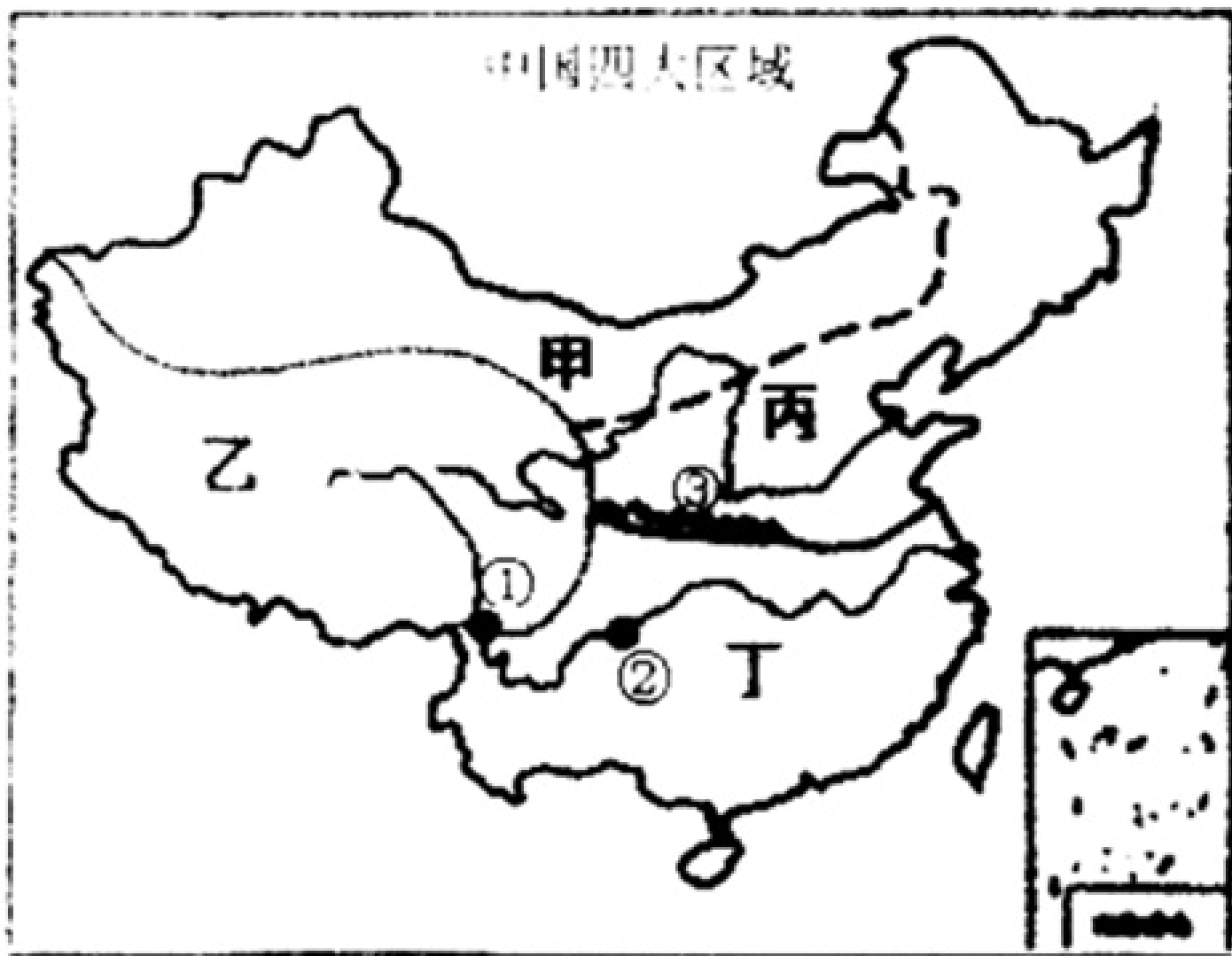


图1




图2

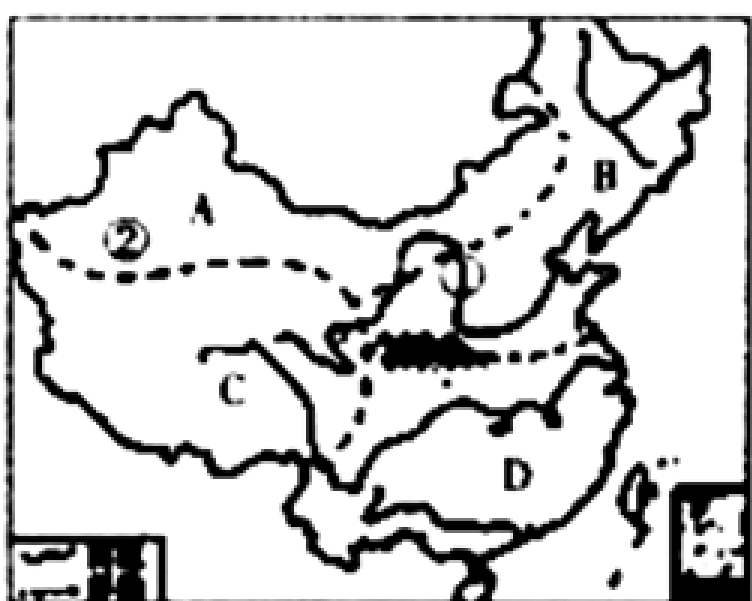
(1) 青藏地区和其他三个地区的分界线_____。

(2) ①和②相比，水能资源丰富的是_____（填序号），判断依据是_____。

(3) 图中③处山脉是我国一条重要的地理分界线，此山以北耕地类型多为_____，此山以南作物熟制是_____。

(4) 下列各图中可能属于乙区域的景观是_____。

19. 读“四大地理区域图”完成



(1) 我国划分为四大地理区域，分别是A_____； B_____； C_____； D_____；

(2) 图中A_____地区最为突出的自然环境特征是_____;

(3) 图中C地区有被称为“世界屋脊”的_____高原, 位于我国地势第_____阶梯上;

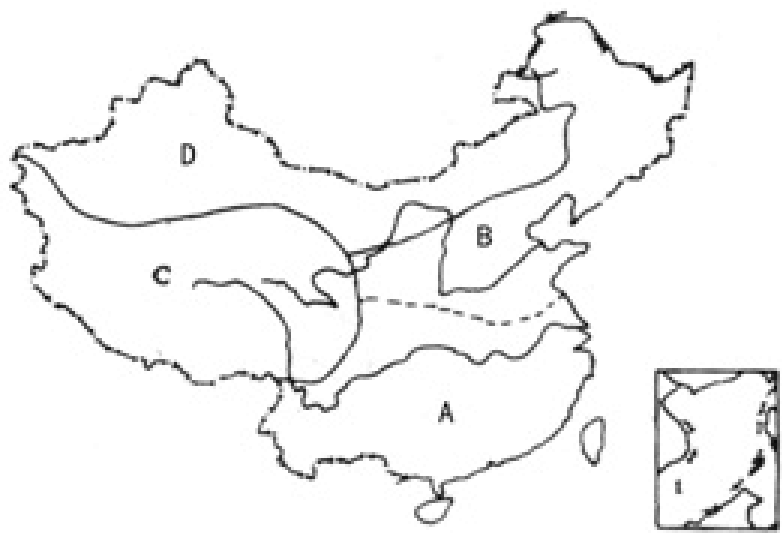
(4) 图中C地区突出的自然环境特征是_____;

(5) 图中②是_____盆地, 该盆地中的_____沙漠是我国面积最大的沙漠;

(6) B和D两地区地理差异明显: 耕地类型B地区以旱地为主, D地区以_____为主;

(7) 主要粮食作物B地区以_____为主, D地区以水稻为主。

20. 读图回答



(1) 将图中英文字母代表的地理事物填在右侧相对应的括号内。

地区 图中字母代号

北方地区_____

南方地区_____

西北地区_____

青藏地区_____

(2) 图中B地区主要的粮食作物是_____。

以上内容仅为本文档的试下载部分，为可阅读页数的一半内容。如要下载或阅读全文，请访问：<https://d.book118.com/078140043076006111>