

# 2011年4月24日公务员联考《行测》试卷

(贵州、四川、福建、黑龙江、湖北、山西、重庆、辽宁、海南、江西、天津、陕西、云南、广西、山东、湖南、江苏)十七省

绿色版完整版

## 第一部分 言语理解与表达

1. 文化的本性在于创造,其使命与一切墨守成规、刻板一致、千篇一律都是不相容的,创造性必然导致多样性,在文化领域,只有\_\_\_\_\_才会使文化丰富多彩和具有生机勃勃的活力,而统一性必然窒息文化。

填入划横线部分最恰当的一项是( )

- A. 不拘一格            B. 独树一帜            C. 推陈出新            D. 别出心裁

2. 近年来志愿者活动\_\_\_\_\_，说明我国经济获得长足发展之后，已经有了推行志愿者运动的\_\_\_\_\_，尽管初始稚步，但既然开始了，且方向是正确的，总会逐渐成熟。

依次填入划横线部分最恰当的是( )

- A. 悄然兴起    条件                    B. 方兴未艾    机制  
C. 欣欣向荣    实力                    D. 如火如荼    资本

3. 卡夫卡生活在世界形势激烈动荡的时期,他看到西方社会的内在危机,但无法找到解决这些危机的出路。他孤独、苦恼,\_\_\_\_\_，心情矛盾,他的小说大多描写人的孤独和犯罪心理,或人在重重压迫下不了自己的命运以致异化的现象,内容\_\_\_\_\_。

依次填入划横线部分最恰当的一项是( )

- A. 自怨自艾    怪诞离奇                B. 垂头丧气    荒谬绝伦  
C. 怨天尤人    光怪陆离                D. 愤世嫉俗    荒诞不经

4. 事业的成败往往不只取决于人才的\_\_\_\_\_，还在于人才的有效使用，世界上只有\_\_\_\_\_的人，而没有无用的人，问题的关键在于如何使用人才。

依次填入划横线部分最恰当的一项是( )

- A. 多寡    失意                    B. 得失    错位                    C. 优劣    失败                    D. 高低    误用

5. 英国经济学家哥尔柏说:“税收这种技术,就是拔最高的鹅毛,听最少的鹅叫。”此话不免有几分\_\_\_\_\_，但却形象地说明,制定税收政策必须寻找一个合适的\_\_\_\_\_点。

依次填入划横线部分最恰当的一项是( )

- A. 戏谑    切入                    B. 夸张    落脚                    C. 揶揄    平衡                    D. 幽默    增长

6. 知识,不是静止的,知识人总是与他的时代发生千丝万缕的联系。在看似\_\_\_\_\_的书斋生活的背后,精神世界的丰富图景却使任何“一言以蔽之”的企图成为\_\_\_\_\_。

依次填入划横线部分最恰当的一项是( )

- A. 平淡    空谈                    B. 雷同    徒劳                    C. 普通    泡影                    D. 相同    可能

7. 酒主要以液态形式存在。在古代缺乏严密容器的条件下是很难\_\_\_\_\_保存的,因此出土的古酒就十分\_\_\_\_\_。

依次填入划横线部分最恰当的一项是( )

- A. 长期    罕见                    B. 完好    珍贵                    C. 妥善    难得                    D. 大量    稀少

8. 和基础教育一样， 医疗卫生\_\_\_\_\_地拥有公共产品的属性。 但在市场化的改革中， 他们都曾经\_\_\_\_\_了公共性质， 也因而带来了种种矛盾。

依次填入划横线部分最恰当的一项是（ ）

- A. 与生俱来 丧失  
B. 理所当然 摒弃  
C. 毋庸置疑 偏离  
D. 责无旁贷 扭曲

9. 茶艺是一种综合性的生活艺术， 但对于“茶艺”的\_\_\_\_\_诠释究竟是什么？ 却众说纷纭， 即使开茶艺馆的人， 也多半\_\_\_\_\_。

依次填入划横线部分最恰当的一项是（ ）

- A. 合理 人云亦云  
B. 准确 语焉不详  
C. 精确 各执己见  
D. 全面 一知半解

10. 当人们常常感叹于艺术的功利化和庸俗化倾向， 这已是有目共睹的现实。 这种倾向的本质正在于画家选美精神和文化品格的\_\_\_\_\_。 在油画创作中， 技巧固然重要， 但这毕竟只是\_\_\_\_\_， 实质起作用的还是画家自身的审美精神和文化品格。

依次填入划横线部分最恰当的一项是（ ）

- A. 意识性 外表  
B. 趋向性 铺垫  
C. 鄙俗化 方法（重复）  
D. 贫乏化 基础

11. 中国古代官员普遍好读书， 这是一个悠久的良性传统。 在古代， 官员的读书是\_\_\_\_\_的现象， 大凡为官一生，“致仕”（退休） 时一般也要“刻部稿”， 期盼给后代留下一点\_\_\_\_\_。

依次填入划横线部分最恰当的一项是（ ）

- A. 广泛性 流风余韵  
B. 官场化 星星之火  
C. 持续性 雪泥鸿爪  
D. 社会化 前车之鉴

12. 不管日益严峻的交通问题对你来说认为这是什么， 如果能\_\_\_\_\_的各种交通问题和交通本身一样古老， 你就多少会感到\_\_\_\_\_。 自从人类开始依靠自身的努力向前发展， 这个社会就会一直在努力追求运动的意义， 社会和技术依据新的需求不断做出\_\_\_\_\_。

依次填入划横线部分最恰当的一项是（ ）

- A. 意识 轻松 调整  
B. 联想 失落 更新  
C. 认识 欣慰 反映  
D. 考虑 遗憾 让步

13. 毫无疑问， 睡眠对于每个人都必不可少， 但在一些\_\_\_\_\_情况下， 我们需要抛开生物节律的\_\_\_\_\_。 长时间保持清醒状态。 头悬梁、 锥刺股固然可行， 但过于\_\_\_\_\_。 这时人们就不得不借助一些促清醒的药物。

依次填入划横线部分最恰当的一项是（ ）

- A. 意外 局限 得不偿失  
B. 非常 限制 矫揉造作  
C. 特殊 安排 强人所难  
D. 极端 束缚 触目惊心

14. 当前一些城市\_\_\_\_\_于表面繁荣、 豪华的发展模式， \_\_\_\_\_对于百姓的服务功能： 一些城市不顾自身经济承受能力， 急于建设华而不实的新城； 城市形象\_\_\_\_\_求新、 求大、 求洋， 在推土机的轰鸣中， 许多并未达到使用寿命的建筑纷纷倒地。 这种城市化建设中的“贵族化”倾向必须\_\_\_\_\_。

依次填入划横线部分最恰当的一项是（ ）

- A. 陶醉 轻视 过分 警觉  
B. 倾向 漠视 注重 截止  
C. 热衷 忽视 过度 警惕  
D. 致力 注重 极度 警醒

15. 在经过一段急速的发展后，三维动画技术在最近两年进入一个\_\_\_\_\_期。不是因为技术本身无法再\_\_\_\_\_，而是技术前进的脚步太快，人们需要停下思考一下应该如何\_\_\_\_\_这些技术。

依次填入划线部分最恰当的一项是（ ）(细心细心再细心)

- A. 平台 革新 应用  
B. 瓶颈 创新 驾驭  
C. 停滞 突破 消化  
D. 平稳 发展 适应

16. 根据美国《发现》杂志最新\_\_\_\_\_，一项新研究发现成年人出汗时皮肤发出的刺鼻气味在动物王国堪称\_\_\_\_\_。这是人类成为世界上最臭的动物这种臭味也成为吸引蚊子叮咬的主要原因。

依次填入划线部分最恰当的一项是（ ）

- A. 报导 史无前例  
B. 报道 独一无二  
C. 报料 独树一帜  
D. 报告 绝无仅有

17. 微软前技术总监纳森·梅尔沃德 2001 年组建“智力风险”公司，雇佣一群最聪明的人\_\_\_\_\_生产技术专利，迄今已申请了价值八千万美元的专利，这证明“想法”并不\_\_\_\_\_，到处都是，我们以为发明所必须具备的天才、专心、灵感和机缘巧合并不是\_\_\_\_\_

依次填入划线部分最恰当的一项是（ ）

- A. 集体 虚幻 千载难逢  
B. 合作 遥远 遥不可及  
C. 批量 稀罕 必不可少  
D. 专门 离奇 不可替代

18. 合作是新形势下实现共同发展的必由之路，唯有合作我们才能\_\_\_\_\_矛盾，唯有合作我们才能不断\_\_\_\_\_共同利益；唯有合作我们才能有效应对各种挑战\_\_\_\_\_共赢的彼岸。

依次填入括号最恰当的一项是（ ）

- A. 弱化 维护 通向  
B. 消除 加深 到达  
C. 搁置 拥有 驶向  
D. 超越 扩大 抵达

19. 随着时代变迁，摩天大楼能耗过大，维护成本过高影响环境等多种弊端，促使人们重新\_\_\_\_\_超高建筑的必要性和合理性，世界上许多著名城市都对建设超高建筑保持\_\_\_\_\_态度，并用严格的规划控制城市建筑高度，力求制定更为科学合理的城市规划，\_\_\_\_\_绿色宜居可持续发展的城市发展理念。

依次填入括号最恰当的一项是（ ）

- A. 审视 谨慎 践行  
B. 论证 反对 坚持  
C. 反思 消极 扩大  
D. 批判 保守 发展

20. 事实上任何一个不可避免的危害原本就是社会人口因素与生态系统中潜在的破坏性因素相结合的产物。就舟曲泥石流而言，人类活动的\_\_\_\_\_和社会管理\_\_\_\_\_显然是灾害的要素之一，但在地质专家们看来，这些原因还远不足以将舟曲之灾\_\_\_\_\_为人祸之故。

依次填入括号最恰当的一项是（ ）

- A. 加速 疏忽 断言  
B. 破坏 漏洞 归咎  
C. 频繁 忽略 断定  
D. 加剧 疏漏 妄定

21. 北极海域浮冰面积逐渐减小，总计缩小达 20%左右，使北极熊难以在浮冰上长久立足，加之某些国家对海豹大量捕杀，使本来就不多的北极海豹越来越少，北极熊更难在浮冰上捕食海豹，我们来到北极斯匹兹卑尔根岛西北海岸北纬 80 度附近一海湾时，惊讶地拍摄了北极熊捕鱼的全过程，我们看到北极熊改变了以捕食海豹为生和“不下水”的习性开始跳下冰冷的海水抓鱼为食。

这段文字充分表明（ ）

- A. 北极环境日益恶劣  
B. 物竞天择，适者生存  
C. 聪明的物种更难适应环境  
D. 环境变化改变了北极熊的生活习性

22. 科幻小说大师阿瑟·克拉克说：“如果一个德高望重的老科学家说这件事情是可能的”那他可能是正确的；但如果他说“某件事情是不可能的”那他也许是非常错误的。

阿瑟·克拉克想说的是（ ）

- A. 科技进步永无止境  
B. 想得到就能做得到  
C. 未来可能远远超出想象  
D. 迷信权威会阻碍前进的步伐

23. 有个教授把学生分成几组，发给每组一些拼图碎片，并且计时，看看哪一组能够最先完成。其实，每片拼图背面都按顺序标注了数字只需要按照这些数字的顺序拼接，很快就能拼出整个画面，不过很少有哪组注意到这一点，有的拼了很长时间才发现背面有数字标记，有的压根就没看到。

这段文字意在说明（ ）

- A. 细致的观察更有利于成功  
B. 注意正反两面才能全面了解事物  
C. 机会只给有准备的人  
D. 磨刀不误砍柴工

24. 调查现实少儿图书在 2007 年的销售量同比增长近 25%，成为继经管、学术文化类图书后的又一高速增长模块。在 2007 年全国图书零售市场中，少儿图书所占的比重达到 11%以上；本土原创儿童文学作品销量更是呈井喷之势，在各大书店的少儿图书畅销排行榜上，往往占据至少一半以上的席位。

符合原文意思的是（ ）

- A. 少儿图书销量超过学术文化图书  
B. 图书市场整体结构发生较大变化  
C. 少儿图书销量占零售市场的两成以上  
D. 畅销儿童文学作品有本土原创化的倾向

25. 网络成瘾的心理机制比较复杂，有需要、动机等动力因素和抑郁、孤独、自制力等差人格特殊因素，专家认为，体育锻炼的人有较强的自制力。（题目内容缺失）

由此可知（ ）

- A. 评论体育锻炼对人格培养的重要意义  
B. 指出体育锻炼作为网络替代品可能性  
C. 阐述体育锻炼对治疗网络成瘾的价值  
D. 说明体育锻炼具有促进心理健康的基本功能

26. 好的散文不会让读者感到与作者生疏，作品在描摹眼中世界的同时也在清晰地勾画着自身的影像。实际上，无论作品本身是优是劣，\_\_\_\_\_，“作者形象”并不等同于作家的自画像，它是作家灵魂的投影，是展现在文字中的一种人生境界，是写作视角和阅读视角综合的结果。

填入划横线处最恰当的依据是（ ）

- A. 写作是一种意味深长的印记  
B. 作品传达的是作者独有的情感体验  
C. 没有一部作品不在描绘着“作者形象”  
D. 每一篇散文都是人文情怀与精神价值的融合

27. 法国人谈起中国人心目中的法国文学，总忍不住用一种轻蔑的口吻说：“你们喜欢《茶花女》。”在法国人眼里，喜欢大仲马还算有些品味毕竟他有一部《基督山伯爵》，有《三个火枪手》，小仲马有什么呢？

只不过写了一个交际花而已，法国文学是法国人的骄傲，在世界文学中有着举足轻重的地位。仅喜欢《茶花女》，显而易见是对法国文学的不尊重，《茶花女》在中国成为一种流行，差不多是一百多年前的事情，当时正赶上戊戌变法失败，人心沮丧，改良的路行不通，大家只好将就看胡乱小说，“茶花女”在中国本土的诞生，是生逢其时。

这段文字意在说明（ ）

- A. 《茶花女》在中国的流行有一定的社会背景
- B. 对文学作品的喜好能反映出一个人的品味
- C. 评价文学作品要结合其诞生的时代背景
- D. 中国人和法国人的文学审美现存在区别

28. 细小的火山灰中含有二氧化硅，这种化合物的熔点是 1100 摄氏度。而目前大部分飞机的涡轮发动机工作温度为 1400 摄氏度，一旦火山灰被吸入引擎的内部，二氧化硅溶化后就会吸附在涡轮叶片和涡轮导向叶片上，导致灾难性后果。1982 年，两架飞机曾经从印度尼西亚西爪哇省加隆贡火山喷发的火山灰中穿过，两架飞机的八个引擎全部停转，在从 11000 米高空滑翔至 400 米高度后才重新启动得以紧急迫降。

这段文字主要介绍（ ）

- A. 火山灰对飞机飞行有严重影响
- B. 二氧化硅是火山灰的主要成分
- C. 降温能使飞机有效避免火山灰的危害
- D. 历史上火山喷发曾险些导致飞行事故

29. 从羊皮纸、竹筒到纸张、活字印刷术的发明，从莫尔斯电码、二进制代码到影像的数字化，文化产品的载体，越来越轻盈，精神产品的传播也越来越迅捷。特别是互联网的发明和应用正好打破了文化的内容传播的时空界限，让文字、视频、音乐也可以在瞬间传到地球上的任何一个角落。同时，借助科技创新的种种新工具，人们可以以更快捷的速度，制作精彩纷呈的动漫游戏、数字影视、手机报纸、网络出版、有声读物等等，并由此创造出一个个全新的文化产业。

这段文字主要说明了（ ）

- A. 文化的进步包含科技的发展和创新
- B. 科技创新使文化创新的潜力变得无穷
- C. 科技创新大大推进了文化创新的进程
- D. 科技创新为文化创新提供了工具和载体

30. 一战后，不仅仅是自然科学，德国整个学术文化都呈现出一片繁荣景象，海德格尔在哲学史上的地位无需赘述，马克思，韦伯名震整个社会科学史，施密特是影响现代宪政最终的人物之一；心理学方面，格式塔学派也悄然兴起，在文学上，霍普特曼和托马斯曼两位诺贝尔得主双星闪耀，雷马克的《西线无战事》是上个世纪最有名的作品之一；戏剧、电影和音乐亦都迅速进入黄金时代，风格变的迷人而多样化，德国似乎要把它在政治和经济上所失去的，从科学和文化上赢回来，对于当时内外交困，14 年间更迭了多次内阁的政权来说，这样的繁荣，也算是一个小小的奇迹。

下列说法和这段文字相符的是（ ）

- A. 一战后德国在学术文化方面引领世界
- B. 德国政府历来十分重视科技的发展与进步
- C. 学术文化和政治经济的发展不一定是同步的

D. 自然科学与社会科学的发展往往是相互促进的

31. 网络时代是一个“信息过剩而注意力稀缺”的时代，以网络为基础的当代经济本质是“注意力经济”，在这种经济形态中，最重要的资源是注意力，因此在互联网上如何吸引注意力成为一个非常重要的问题。网络时代对注意力的经济价值的强调无疑是必须的但如果忽视了对吸引注意力的道德评价和精神意义，却会导致对注意力缺乏应有的人文关怀和起码的尊重，以至于会有人利用网络手段的便捷性和隐匿性，通过不实和不良信息去浪费、污染、践踏他人的注意力，这无疑也是一种严重的精神伤害。

根据这段文字，可以看出作者的意图是（ ）

- A. 呼吁网络时代要善用注意力，珍视其精神和文化价值
- B. 强调网络时代如何吸引注意力是创造经济价值的关键
- C. 强调网络时代忽略了对吸引注意力的道德评价
- D. 呼吁应加强对网络注意力污染和扭曲的管理(未提到)

32. 早在 1990 年第一辆电动汽车就已经上路。尽管近些年一些知名汽车厂商先后推出了各自的纯电动概念车，但这并未拉近电动汽车与现实生活之间的距离。究其原因，电动汽车的研发并非只是将传统发动机更换为电动机这般简单，而是一个庞大的研究课题，仅车用电池就存在电池容量，存储能力、稳定性等诸多问题。此外，用电动机代替传统发动机后，车身设计、传统系统、电器系统都会产生颠覆性的变化。解决这一系列问题，需要汽车厂家具备雄厚的研发能力。（中心句）

这段文字意在说明（ ）

- A. 电动汽车研发的瓶颈是蓄电池的问题
- B. 电动汽车广泛应用于实际生活尚需时日
- C. 电动汽车已成为汽车工业研究发展的新方向
- D. 电动汽车的研发进程取决于厂家的研发实力

33. 从我国古代文献看，商代甲骨文中已有“稻”字出现，在《诗经》中已有将黍、稻并提，春秋以前，因我国北方种稻量少，水稻被列为五谷“禾、稷、菽、麦、稻”；而至宋代，便因种植数量多而升级了，民间更流传着“苏湖熟，天下足”的说法；到了明代，更有“稻居廿七”之说，稻米成为我国的主要粮食。

以下说法与文意相符的是（ ）

- A. 水稻从商代开始种植
- B. 春秋时期，北方不产水稻
- C. 宋代人以稻米为主要粮食
- D. 水稻在我国古代长期为五谷之一

34. 美国农业部的数据库里有常见食物的各种维生素含量，有人统计了各种食物在“生”和“熟”状态下的数据，剔除含水量变化的影响得出了各种维生素通过加热之后的损失比例，虽然这些数据不一定非常准确，但是足够我们得到一个有意义的印象：维生素 A 和 E 受温度影响不大，食物加工为熟食之后损失为 10%左右，维生素 C 的损失是 16%，而维生素 B 最不稳定，损失为 26%，其他的维生素也基本上在这个范围之内，总体而言，把食物加热做成熟食之后，维生素的损失大致在 10% ~ 25%之间。

这段文字主要强调的是（ ）

- A. 生食与熟食的维生素含量没有差异
- B. 食物中不同维生素受温度影响不同
- C. 加热对食物中维生素的破坏是有限的

D. 加热后的食物中维生素损失比例

35. ①无论从事什么职业，处于什么岗位

②思维能力在人的成功过程中起着举足轻重的作用(观点)

③著名科学家霍金说过：有一个聪明的大脑，你会比别人更接近成功(引用)

④没有思维活动的参与，人类的任何发明创造都是根本不可能完成的

⑤都是快速走向成功的有利资本

⑥拥有较高的智商、活跃的思维

上述句子按语序排列组合，最连贯的一项是（ ）③是引用，②为观点，一般情况下引用放在句首。

A. ②①⑥⑤④③

B. ②⑥①⑤③④

C. ③②④①⑥⑤

D. ③④⑥①⑤②

36. (1) 每年清明节期间，新茶初出，最适合参斗

(2) 斗茶，即比赛茶的优劣，又名斗茗、茗战，始于唐，盛于宋，是古代有钱有闲人的雅玩

(3) 斗茶的场所，多选在有规模的茶叶店，前后二进，前期扩大为店面，后天狭小，兼有厨房便于煮茶

(4) 在古代，斗茶可谓风靡一时，如同西班牙斗牛一般惹人眷爱，但不同的是，斗茶要文雅的多，其文化内涵也十足丰富

(5) 有些人家，有比较雅洁的内室或花木扶疏的庭院，或临水，或清幽，都是斗茶的好场所

(6) 宋代是一个极讲究茶道的时代，宋徽宗、赵佶撰《大观茶论》，蔡襄《茶录》，黄儒撰《品茶要录》，可见宋代斗茶之风极盛

上述句子按语序排列组合，最连贯的一项是（ ）

A. ⑥③⑤②①④

B. ④②⑥①③⑤

C. ②①③⑤④⑥

D. ①②⑥③⑤④

37. 近年来，在经济发展，（缺失）

在基于实际考虑，开始实行战略性收缩，以其回笼资金

金融危机的冲击，与此同时，另一些跨国公司基于对未来的判断，提高了新兴市场和新兴产业在战略中的比重，抢占下一个繁荣的先机，例如：自国际金融危机发生以来，某跨国公司在全球裁员数以千计的情况下，通过各种渠道向亚太地区提供了 7.4 亿欧元的资金发展新业务。

这段文字主要说明（ ）

A. 跨国公司在应对金融危机时，采取了不同策略

B. 亚太地区已经成为全球经济体系中的一个重点

C. 金融危机迫使很多跨国公司进行局部性的战略收缩

D. 发展新兴市场和行业是经济复苏的一条捷径

38. 尽管“负面新闻”关注的是体现冲突、对抗、不和谐的负面题材，报道者对题材的使用角度的表现方式却可能不尽相同，优秀的报道者往往在负面题材中发现积极的因素，即使发现不了积极的因素，也会以建设性的态度处理消极因素，给人以警醒、反思；而蹩脚的报道者面对某些负面题材，会以猎奇把玩的心态进行报道，使人徘徊于感官的刺激当中，难以获得精神的震撼，洗礼与反思，反而会扩大人们对社会的恐惧与不安全感，造成极坏的影响。

这段文字意在说明（ ）

A. 即使负面题材也包含着可供挖掘的积极因素

B. 报道者是否优秀主要体现在对负面题材的挖掘深度

C. 对负面题材的处理方式是影响新闻效果的关键因素

D. 优秀的新闻工作者应该以更为积极的视角处理负面题材

39. 历史证明每一轮经济危机都伴随着一场深刻的技术革命然后逐渐走出低谷，并开始复苏。不得不承认，金融危机让“中国制造”遭遇空前危机，这造成的直接结果是各地区都在抓产业升级，但同时新的问题出现了，在“抓大放小”的惯性思维下，不少人认为产业升级是大企业的事，与中小企业没有多大干系，显然这是一种误读，产业升级的核心动力是科技创新，而中小企业是科技创新最为活跃的力量。

这段文字主要说明了（ ）

- A. 产业升级过程中，中国企业面临的新问题
- B. 产业升级过程中，离不开中小企业的参与
- C. 技术变革是企业度过金融危机的最好手段
- D. 产业升级是使“中国制造”度过金融危机的关键

40. 加拿大研究人员对北美不同地区平均年龄 29 岁的 308 位志愿者（其中 198 位是女性）进行了调查，结果发现，50.7% 的人有互联网拖延症而且上网时间的 47% 不是用来工作，而是用来拖延工作，研究表明：白领的拖延情况，比蓝领更严重，被雇佣白领比自由经营的白领更严重，雇佣情况下，下级比上级拖延情况更严重，如果人们对成功的确定性大或者容易转移注意力就更容易拖延，而令人愉悦的工作更直接的回报，更大的机会，会让人有动力完成的更快。

根据这段文字以下最不容易患互联网拖延症的一项是（ ）

- A. 较少的体力付出
- B. 丰厚的薪酬
- C. 有趣的工作内容
- D. 明确的人生

## 第二部分 数量关系

41. 刘女士今年 48 岁，她说：“我有两个女儿，当妹妹长到姐姐现在的年龄时，姐妹俩的年龄之和比我到那时的年龄还大 2 岁。”问姐姐今年多少岁（ ）

- A. 24
- B. 23
- C. 25
- D. 不确定

42. 某单位招待所有若干间房间，现在安排一支考察队的队员住宿，若每间住 3 人则有 2 人无房可住；若每间住 4 人，则有一间房间不空也不满，则该招待所的房间最多有（ ）

- A. 4 间
- B. 5 间
- C. 6 间
- D. 7 间

43. 某单位招录了 10 名新员工，按其应聘成绩排名 1 到 10，并用 10 个连续的四位自然数依次作为他们的工号，凑巧的是每个人的工号都能被他们的成绩排名整除，问排名第三的员工工号所有数字之和是多少（ ）

- A. 12
- B. 9
- C. 15
- D. 18

44. 小王开车上班需经过 4 个交通路口，假设经过每个路口遇到红灯的概率分别为 0.1，0.2，0.25，0.4，他上班经过 4 个路口至少有一处遇到绿灯的概率是（ ）

- A. 0.988
- B. 0.899
- C. 0.989
- D. 0.998

45. 把一个正四面体的每个表面都分成 9 个相同的等边三角形，用任意颜色给这些小三角形上色，要求有公共边的小三角形颜色不同，问最多有多少个小三角形颜色相同（ ）

- A. 15
- B. 12
- C. 16
- D. 18

46. 10 个箱子总重 100 公斤，且重量排在前三位数的箱子总重不超过重量排在后三位的箱子总重的 1.5 倍，问最重的箱子重量最多是多少公斤（ ）



- A.  $\frac{500}{23}$                       B.  $\frac{200}{11}$                       C. 20                      D. 25

47. 一条环形赛道前半段为上坡，后段为下坡，上坡和下坡的长度相等，两辆车同时从赛道起点出发同向行驶，其中 A 车上、下坡时速相等，而 B 车上坡时速比 A 车慢 20%，下坡时速比 A 车快 20%，问 A 车跑到第几圈时两车再次齐头并进（ ）

- A. 23                      B. 22                      C. 24                      D. 25

48. 某公司要买 100 本便签纸和 100 支胶棒，附近有两家超市。A 超市的便签纸 0.8 元一本，胶棒 2 元一支且买 2 送 1。B 超市的便签纸 1 元一本且买 3 送 1，胶棒 1.5 元一支，如果公司采购员要在这两家超市买这些物品，他至少要花多少元钱（ ）

- A. 183.5                      B. 208.5                      C. 225                      D. 230

49. 有甲、乙、丙三辆公交车于上午 8:00 同时从公交总站出发，三辆车再次回到公交总站所用的时间分别为 40 分钟、25 分钟和 50 分钟，假设这三辆公交车中途不休息，请问它们下次同时到达公交总站将会是几点（ ）

- A. 11 点整                      B. 11 点 20 分                      C. 11 点 40 分                      D. 12 点整

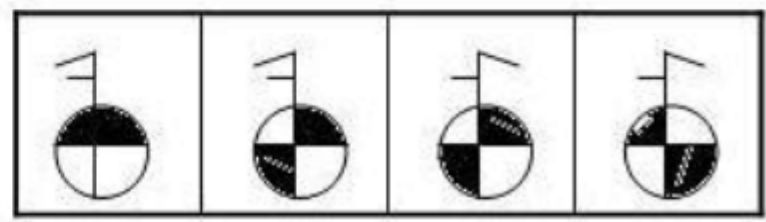
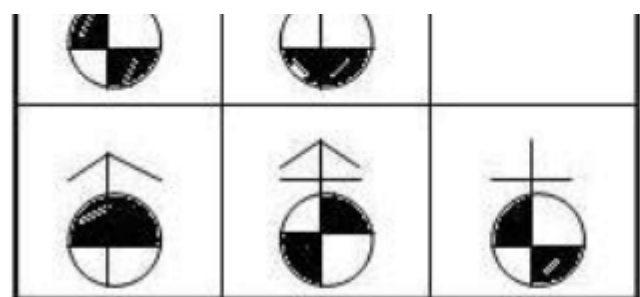
50. 一条路上依次有 A、B、C 三个站点，加油站 M 恰好位于 A、C 的中点，加油站 N 恰好位于 B、C 的中点，若想知道 M 和 N 两个加油站之间的距离，只需知道哪两点之间的距离（ ）

- A. B、C                      B. C、N                      C. A、M                      D. A、B

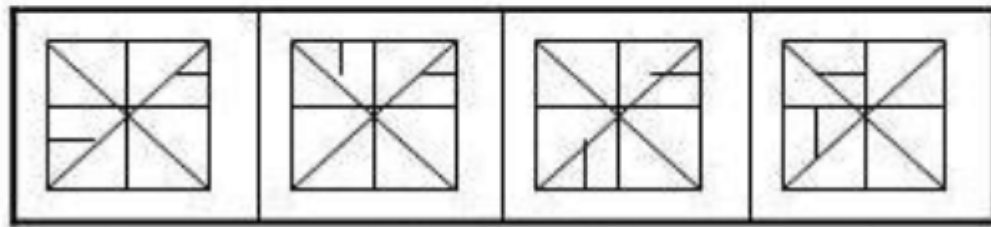
### 第三部分 判断推理



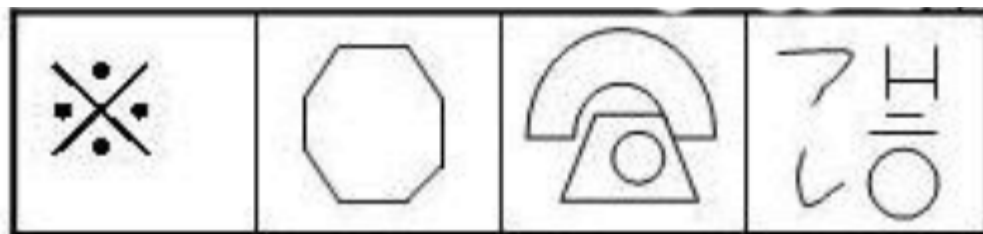
- A                      B                      C                      D



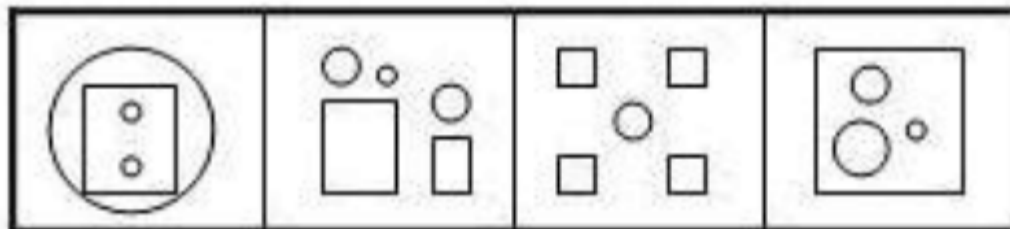
- A                      B                      C                      D



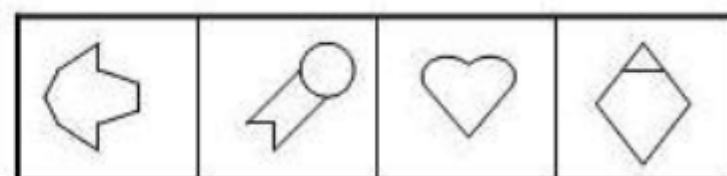
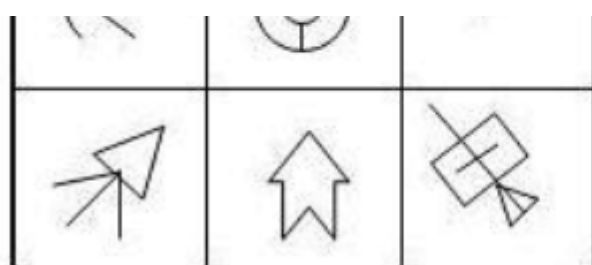
A B C D



A B C D


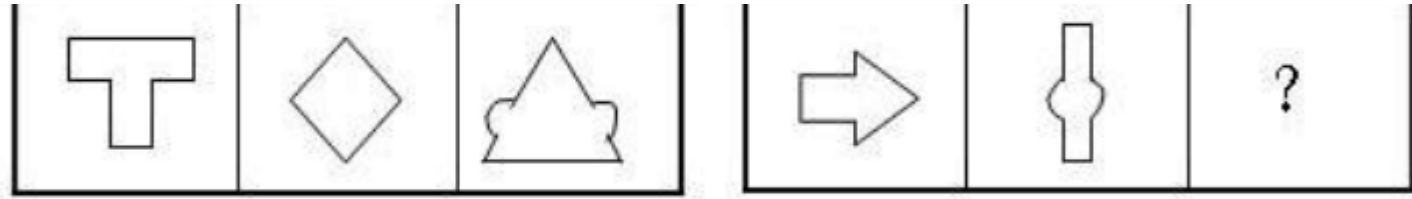


A B C D



A B C D

58.



A

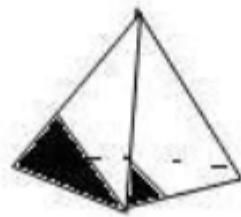
B

C

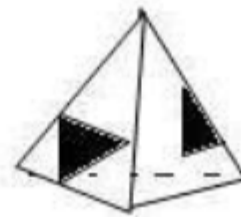
D



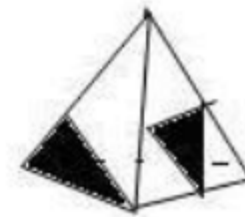
A



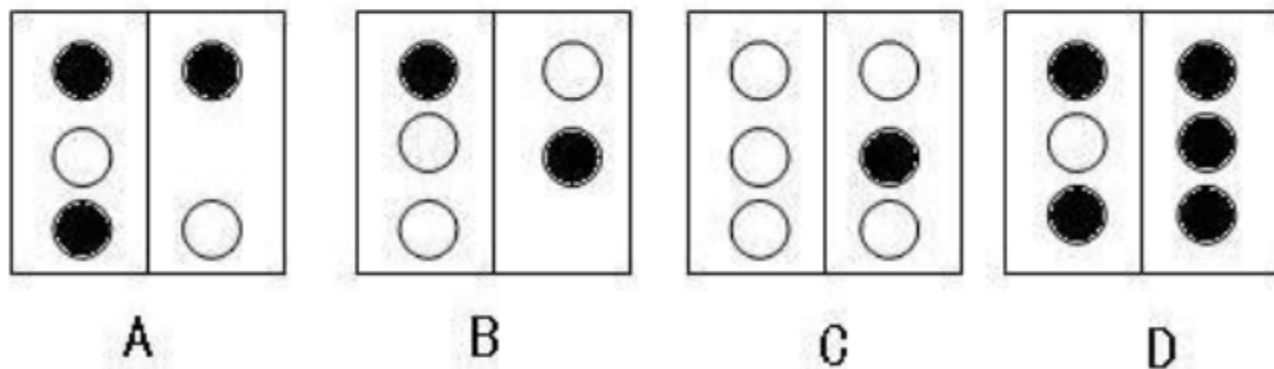
B



C



D



61. 低碳经济是在可持续发展理论指导下，通过技术创新、制度创新产业转型、新能源开发等多种手段，尽可能地减少煤炭、石油高碳能源消耗，减少温室气体排放，达到社会经济发展与生态环境保护双赢的一种经济发展形态。

根据上述定义，下列不符合低碳经济理念的是（ ）

- A. 某粮油食品公司大力推广绿色食品(农药/化肥)
- B. 某小区住房都安装了太阳能电池板
- C. 某空调公司引进了低能耗空调生产线
- D. 在荒山、滩头、草甸兴建风力发电站

62. 如果概念 B 所表达的对象均在概念 A 所表达的范围之内，概念 A 所表达的对象有些在概念 B 所表达的范围之内，有些在概念 A 与概念 B 之间存在真包含关系。

根据上述定义，下列哪项中加点的两个概念是真包含关系（ ）

- A. 榕树在很多城市被作为行道树
- B. 启明星就是金星
- C. 植物有时候也会表现出类似动物的行为
- D. 科学包括多种学科，例如气象学、遗传学等

63. 沉没成本是指已经付出且不可收回的成本。沉没成本是由过去的决策或环境决定的，它所造成的成本是不能由现在或将来的任何决策而改变的。

根据上述定义，下列不涉及沉没成本的是（ ）

- A. 小李花 100 美元买了一台二手台式电脑，回国进由于无法携带，只好忍痛将电脑丢弃
- B. 某煤矿的煤炭已经开采完，矿井里的一些采掘设备由于无法取出，只好被废弃
- C. 小陈如果在承包的山林中放养野鸡，比放养野兔的年收益更多，但管理更多，于是他选择了放养野兔
- D. 小张准备约小丽一起去看电影，因为小丽临时加班，又不能退票，小张只好将两张电影票充当了留言条

64. 学习障碍是指从发育的早期阶段起，儿童获得学习技能的正常方式方法受损。这种损害不是单纯缺乏学习机会的结果，不是智力的发展迟缓的结果，也不是后天的脑外伤或疾病的结果，这种障碍来源于认知处理过程的异常，表现在阅读、拼写、计算等方面有特殊的障碍。

根据上述定义，下列属于学习障碍的是（ ）

- A. 九岁的小强刚从国外回来，不能识别简体字，在阅读学习材料时面临不少困难
- B. 小华原来学习优秀，随父母移居国外后由于听课困难，学习成绩大幅下降
- C. 小明的成绩不好，三年级时接受了专业的智力的测验，结果发现他的智力只相当于六岁只相当于六岁儿童的水平
- D. 小红聪明可爱，但上学之后读书是常出现跳行跳字的现象，虽然老师多次引正但她仍然难以改正

65. 行政赔偿是指行政机关及其工作人员**违法行使职权**，侵犯了公民，法人或其他组织的全法权益并造成损害，由国家承担赔偿责任的制度。

根据上述定义，下列各项要求中属于行政赔偿范围的是（ ）

- A. 某区政府工作人员王某驾驶区政府车辆外出办事途中顺路回家探亲，因超速行驶撞伤村民张某，张某要求该区政府进行损害赔偿
- B. 交通警察孙某与出租车司机李某素有嫌隙，孙某诬陷李某违反交通规则，并吊销其驾照，李某要求交通管理部门赔偿其损失**(并非行使职权)**
- C. 某市工商局发现某公司涉嫌销售假冒伪劣产品而将其产品扣押其财产给该公司造成损失为由要求赔偿
- D. 公安局销毁了一片非法种植的罂粟，种植者老刘认为他种植罂粟的目的是为母亲治病，公安机关不应销毁，要求公安部门赔偿其损失

66. 绿色公关是指企业以生态与经济可持续发展观念影响公关，选择具有“绿色”特征的媒体开展传播活动，以“绿色”为特色塑造企业形象，赢得公众的信任与支持，给企业带来更多便利和竞争优势的一系列公关活动。

根据上述定义，下列属于绿色公关的是（ ）

- A. 某软件公司推出一款绿色软件，无需安装即可使用，移除后也不会有任残留记录留在电脑里，受到了很多用户的欢迎
- B. 某快餐企业推出了“种植一棵树”的宣传活动，并倡导减少包装以节约资源，创造了良好的经营环境和社会氛围
- C. 某小区居委会按照当地政府的要求进行垃圾分类宣传，在小区举办垃圾分类知识竞赛，现场发放不同颜色的垃圾袋供居民使用，受到大家的欢迎
- D. 人民网举办了以“发展低碳经济引领绿色潮流”为主题的“2010 首届低碳中国年度创新论坛”，揭晓了 2010 年低碳中国领军人物，领军品牌，十大创新技术产品等十多个奖项

67. 敌意性归因偏差是指在情景不明的情况下，会将对方的动机或意图视为有敌意的倾向。

根据上述定义，下列属于敌意性归因偏差的是（ ）

- A. 小刘在社团主席竞选中败得很惨，当小王劝他再参加学生会将要进行的主席选举时，他觉得小王是故意来挖苦他的
- B. 领导看到小张在晋升前的民主评议中得票很低，就断定他人品不好，打消了提升他的念头
- C. 王老师班上的学生陈强一向表现平平，却在最近的学科竞赛上获得了全校最好成绩，王老师觉得陈强在竞赛中存在作弊行为
- D. 某公司赵总一直不同意李总提出的年底奖金分配方案，李总多次与之沟通收效甚微，李总认为赵总过于维护自己部门的利益

68. 食品污染物指不是有意加入食品中，而是在生产，制造，加工，调制，处理，填充，包装，运输和贮藏等过程中带入食品中，或是由于环境污染带入食品中的任何物质。（ABC 都是有意加入）

根据上述定义，下列属于食品污染物的是（ ）

- A. “三鹿奶粉”事件中“问题奶粉”含有三聚氰胺成分
- B. 对肉质进行嫩化改良而使用的水瓜蛋白酶成分
- C. 油炸食品在加工过程中由于加入增多剂而产生的铝成分
- D. 食品腌制中，使用的添加剂中含有的对人体有害的亚硝酸盐

69. 范围经济是由厂商的经营范围而非规模带来的经济，是批同时生产两种产品的费用低于分别生产第种产品的费用的经济现象。

根据上述定义，下列属于范围经济的是（ ）

- A. 某啤酒制造厂收购了一个经营亏损的小型啤酒厂，生产线扩大后原料采购成本降低，两个厂区啤酒的生产效益均有提高
- B. 某家具生产厂家实行桌子与衣柜全并生产后，相同的生产过程使成本有效降低
- C. 因为市场需求扩大，布鞋和鞋垫的手工作坊式生产逐渐被机器生产取代，生产成本大幅下降
- D. 某奶制品厂实行奶酪与酸奶一起生产，二者的生产工艺相互借鉴，产品改良，销量大增(未涉及到费用)

70. 自我设限是指个体针对可能到来的失败威胁，事先调协障碍，为失败创造一个合理的借口，从而保护自我价值，维护自我形象。

根据上述定义，下列属于自我设限的是（ ）

- A. 小周和小田一起竞选班长，小田跟朋友说，小周学习好，人缘也好，还在学生社团担任干部，老师都比较喜欢他，自己估计没戏了，最后果然小周当选了班长。
- B. 小王即将参加某公司的面试，但总觉得自己无法通过，面试前一天，他因为突然生病被送进了医院，错过了这次面试
- C. 小李毕业后进入保险公怀做销售代理，第一个月没有签订一单合同，他解释是因为受全球金融危机影响，市场行情很不好
- D. 小明的语文成绩在班上一直名列前茅，每次考试前他都跟同学说，自己状态不好肯定会考砸，但他最后的成绩都在前三名之内

71. 小刘是环保志愿者组织“拯救地球”的成员，由于身患重病，不能到上海做世博会志愿者，而该组织其他成员都是获得了上海世博会志愿者的资格。

由此可以推出（ ）

- A. 小刘是“拯救地球”的成员，但未获得上海世博会志愿者资格
- B. 上海世博会志愿者都是“拯救地球”的成员
- C. 如果有人是上海世博报会志愿者，又是“拯救地球”成员，他一定不是小刘
- D. 如果有人是“拯救地球”的成员，但不是上海世博会志愿者，他一定是小刘

72. 在选购地板时，消费都很关心地板散发的气味，因为地板的刺激性气味强，往往是有毒有害物质超标的一种表现，最近有一种据称是香味环保地板赢得了不少消费者的青睐。销售人员声称地板散发的香味可以消

以上内容仅为本文档的试下载部分，为可阅读页数的一半内容。如要下载或阅读全文，请访问：  
<https://d.book118.com/095210010111011142>