

第1单元综合素质达标

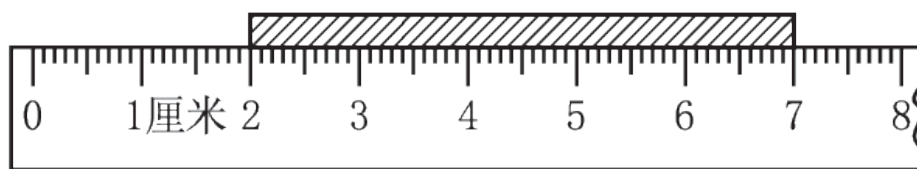
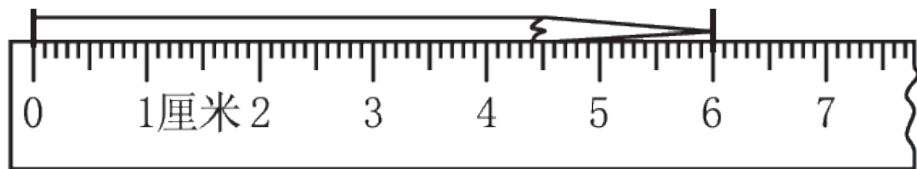


一、我聪明，我会填。(每空1分，共23分)

1. 测量筷子的长度用(**厘米**)作单位，测量床的长度用(**米**)作单位。

2. 学生尺上，从刻度0到6是(**6**)厘米，从刻度4到12是(**8**)厘米。

3.




铅笔长(6)厘米

木条长(5)厘米

4.



由(3)条线段组成,



中有(3)条线段。

点拨: 线段一定是直直的线并有两个端点。

5. 1 米 = (100) 厘米

10 厘米 + 10 厘米 = (20) 厘米

1 米 + 2 米 = (3) 米

1 米 - 50 厘米 = (50) 厘米

6. 在括号里填上“米”或“厘米”。



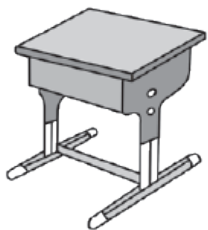
树高约8 (米)



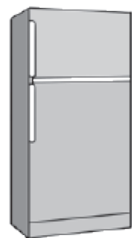
电视机长约100 (厘米)



身高1 (米) 40 (厘米)



课桌高约80 (厘米)

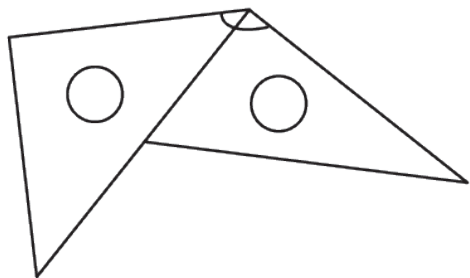


冰箱高约160 (厘米)

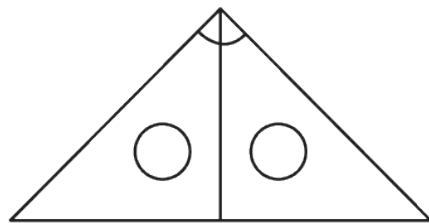


裤子长约1 (米)

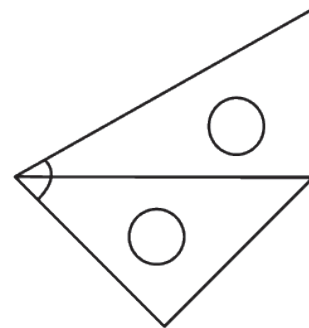
7. 拼一拼，用三角尺拼出的角分别是什么角？



(钝) 角



(直) 角



(锐) 角

8. 右图中一共有(3)条线段。



二、我自信，我会选。(把正确答案的序号填在括号里)

(每题3分，共15分)

1. 下面表述中最接近1厘米的是(③)。

①文具盒的长度

②电视机的高度

③数学书的厚度

2. 典典走一步的长度约(②)。

① 3 厘米

② 33 厘米

③ 3 米

3. 下图是妈妈给同同新买的儿童电话手表，表盘长4厘米，请你估一估，这个儿童电话手表全长约是(②)。

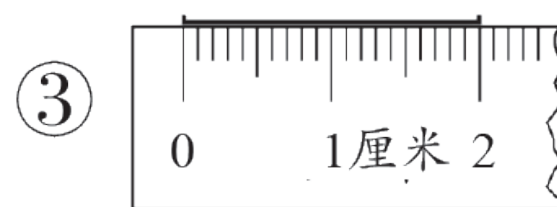
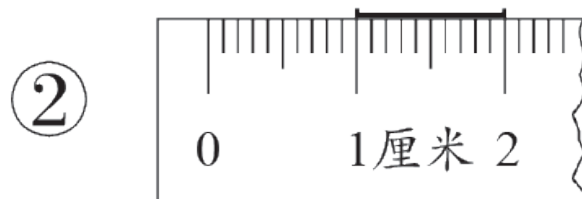
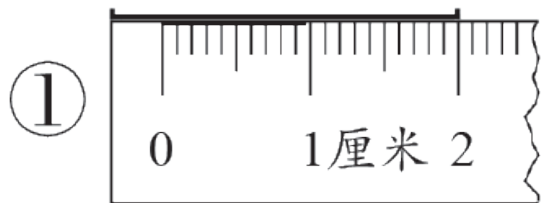


① 8 厘米

② 20 厘米

③ 2 米

4. 蓝蓝想画一条2厘米长的线段，下面画的线段正确的是(③)。



5. 估一估，小猫大约有(③)高。

① 1 米

② 60 厘米

③ 33 厘米



以上内容仅为本文档的试下载部分，为可阅读页数的一半内容。如要下载或阅读全文，请访问：
<https://d.book118.com/098115102116006110>