

2024 届河北省衡水市饶阳县科目一模拟考试 100 题

【有解析答案】

1、以下选项中，车身电子稳定控制系统的英文缩写是什么？

A、GPS

B、ESP

C、LDW

D、ACC

正确答案：B

分析：车身电子稳定系统（ESP），是对旨在提升车辆的操控表现的同时、有效地防止汽车达到其动态极限时失控的系统或程序的通称。电子稳定程序能提升车辆的安全性和操控性。

2、发动机启动仪表板上(如图所示)亮表示什么？



A、发动机机油压力过高

B、发动机主油道堵塞

C、发动机机油压力过低

D、发动机曲轴箱漏气

正确答案：C

分析：像茶壶一样的就是机油的标志，各位记住就是啦。该指示灯用来显示发动机内机油的压力状况。打开钥匙门，车辆开始自检时，指示灯点亮，启动后熄灭。该指示灯常亮，说明该车发动机机油压力低于规定标准，需要维修。

3、驾驶机动车遇有前方交叉路口交通阻塞时怎么办？

A、依次停在路口外等候

B、可借对向车道通过


C、从前车两侧穿插通过

D、进入路口内等候

正确答案：A

分析：选择 A,如遇到的题目是堵塞不能够继续往前进或行驶车辆缓慢的都要依次等候！！

4、这个标志的含义是提醒前方桥面宽度变窄



A、正确

B、错误

正确答案：B

分析：警告标志两侧变窄。用以警告车辆驾驶人注意前方车行道或路面狭窄情况，遇有来车应予减速避让。设在双车道路面宽度缩减为 6m 以下的路段起点前方。

5、这个标志是何含义？



A、允许长时停车

B、允许临时停车

C、禁止长时停车

D、禁止停放车辆

正确答案：D

分析：禁止停放车辆：表示在限定的范围内，禁止一切车辆临时或长时停放。此标志设在禁止车辆停放的地方。禁止车辆停放的时间、车种和范围可用辅助标志说明。

6、同一机动车所有人名下两辆机动车的号牌号码互换，以下说法正确的是什么？

A、同一机动车一年内可以多次互换变更机动车号牌号码

B、申请前两车无未处理的道路交通安全违法和交通事故记录

C、两辆机动车在不同辖区车辆管理所登记可以申请互换

D、两辆机动车使用性质为营运可以申请互换

正确答案：B

分析：《机动车登记规定》规定，同一机动车所有人名下机动车的号牌号码需要互换，符合以下情形的，可以向登记地车辆管理所申请变更登记：（一）两辆机动车在同一辖区车辆管理所登记；（二）两辆机动车属于同一号牌种类；（三）两辆机动车使用性质为非营运。机动车所有人应当确认申请信息，提交机动车所有人身份证明、两辆机动车的登记证书、行驶证、号牌。申请前，应当将两车的道路交通安全违法行为和交通事故处理完毕。车辆管理所应当自受理之日起一日内，审查提交的证明、凭证，在机动车登记证书上签注变更事项，收回两车的号牌、行驶证，重新核发号牌、行驶证和检验合格标志。同一机动车一年内可以互换变更一次机动车号牌号码。

7、在没有交通信号指示的交叉路口，转弯的机动车让直行的车辆和行人先行。

A、正确

B、错误

正确答案：A

分析：转弯让直行，车子让行人，这个道理应该要明白。

8、这个标志是何含义？



- A、不准临时或长时间停、放
- B、可以停下来装卸货物
- C、可以临时停车等待同行的人
- D、可以停下来让同行的人下车

正确答案：A

分析：图中标志表示，不准临时或长时停、放。


9、以下选项中，自适应巡航系统的英文缩写是什么？

- A、ABS
- B、ACC
- C、EBD
- D、GPS

正确答案：B

分析：自适应巡航（ACC）是一项舒适性的辅助驾驶功能。如果车辆前方畅通，自适应巡航（ACC）将保持设定的最大巡航速度向前行驶。如果检测到前方有车辆，自适应巡航（ACC）将根据需要降低车速，与前车保持基于选定时间的距离，直到达到合适的巡航速度。

10、请判断图中这辆逆向行驶的灰色汽车属于什么行为？



- A、违纪行为
- B、违规行为
- C、违法行为
- D、违章行为

正确答案：C

分析：逆向行驶违反道路交通安全法，违反法律法规即为违法行为。

11、如图，在辅路上行驶，遇到一辆机动车从主路进入辅路时，应该怎样做？



- A、减速或停车让主路驶出的车辆先进入辅路
- B、鸣喇叭告知进入辅路的车辆停车让行
- C、只要不影响主路驶出的车辆正常行驶就可加速通过
- D、在辅路行驶的车辆有优先通行权，不用减速行驶

正确答案：A

分析：根据道路交通安全法，辅路车应当让主路车先行。

12、图中驾驶人的这种违法行为会被记多少分？



A、记6分

B、记12分

C、记3分

D、记24分

正确答案：B

分析：饮酒驾驶机动车辆，罚款1000元—2000元、记12分并暂扣驾照6个月；饮酒驾驶营运机动车，罚款5000元，记12分，处以15日以下拘留，并且5年内不得重新获得驾照。

13、这个标志是何含义？



A、禁止在路口掉头

B、禁止向左向右变道

C、禁止车辆直行

D、禁止向左向右转弯

正确答案：D

分析：禁止向左向右转弯：表示前方路口禁止一切车辆向左向右转弯。此标志设在禁止向左向右转弯的路口前适当位置。

14、这属于哪一类标志？



A、指路标志

B、指示标志

C、禁令标志

D、警告标志

正确答案：A

分析：指路标志指示市镇村的境界、目的地的方向和距离、高速公路出入口、著名地点所在等，用以传递道路方向，地点，距离信息。题中从左至右依次为交叉路口预告标志，国道编号，预告地点距离。

15、夜间行车，驾驶人的视野受限，很难观察到灯光照射区域以外的交通情况，因此要减速行驶。

A、正确

B、错误

正确答案：A

分析：晚上开车的时候受到光线暗的局限，相对观察事物的距离也就受到局限，所以视距比较短，因此很难观察到灯光照射区域以外的交通情况。为了安全考虑，减速行驶是必须的。

16、上路行驶的机动车未随车携带身份证的，交通警察可依法扣留机动车。

A、正确

B、错误

正确答案：B

分析：上路行驶的机动车未随车携带机动车行驶证的，交通警察可依法扣留机动车。

17、驾驶机动车要选择绿色箭头灯亮的车道行驶。



A、正确

B、错误

正确答案：A

分析：绿灯行，没有问题。

18、驾驶机动车在高速公路上车辆发生故障，需要停车排除故障时，若能将机动车移至应急车道内，则不需要开启危险报警闪光灯。

A、正确

B、错误

正确答案：B

分析：车辆发生故障了，为了提醒后来车辆注意避免事故发生，都应该开启危险报警闪光灯。

19、在同向4车道高速公路上行车，车速高于每小时110公里的车辆应在哪条车道上行驶？

A、最左侧

B、第二条

C、第三条

D、最右侧

正确答案：A

分析：交通安全法实施条例第七十八条规定了同向两车道、三车道的限速规范：二车道左侧车道最低限速 100，三车道左到右依次 110、90、60。同向四车道记着培训老师讲的：左到右最低限速依次 110、90、90、60。

20、因质量问题退车的，机动车所有人应当向哪个车辆管理所申请注销登记？

A、登记地

B、居住地


C、暂住地

D、户籍地

正确答案：A

分析：《机动车登记规定》规定，机动车有下列情形之一的，机动车所有人应当向登记地车辆管理所申请注销登记：（一）机动车已达到国家强制报废标准的；（二）机动车未达到国家强制报废标准，机动车所有人自愿报废的；（三）因自然灾害、失火、交通事故等造成机动车灭失的；（四）机动车因故不在我国境内使用的；（五）因质量问题退车的。属于第一款第四项、第五项规定情形的，机动车所有人申请注销登记前，应当将涉及该车的道路交通安全违法行为和交通事故处理完毕。属于二手车出口符合第一款第四项规定情形的，二手车出口企业应当在机动车办理海关出口通关手续后二个月内申请注销登记。

21、这个路面标记是何含义？



A、最低限速为 80 公里/小时

B、平均速度为 80 公里/小时

C、解除 80 公里/小时限速

D、最高限速为 80 公里/小时

正确答案：A

分析：so easy，白色的是最低限速，黄色的是最高限速

22、夜间驾驶机动车在窄路、窄桥会车时正确的做法是使用远光灯。

A、正确

B、错误

正确答案：B

分析：记住，只有在没有路灯或者没有照明的情况下才能用远光灯，一般都用近光灯。

23、驾驶7座以上载客汽车载人超过核定人数百分之二十以上未达到百分之五十的，一次记多少分？

A、3分

B、12分

C、6分

D、9分

正确答案：C

分析：《道路交通安全违法行为记分管理办法》规定，机动车驾驶人有下列交通违法行为之一，一次记6分：（一）驾驶校车、公路客运汽车、旅游客运汽车载人超过核定人数未达到百分之二十，或者驾驶7座以上载客汽车载人超过核定人数百分之二十以上未达到百分之五十，或者驾驶其他载客汽车载人超过核定人数百分之五十以上未达到百分之百的；（二）驾驶校车、中型以上载客载货汽车、危险物品运输车辆在高速公路、城市快速路上行驶超过规定时速未达到百分之二十，或者在高速公路、城市快速路以外的道路上行驶超过规定时速百分之二十以上未达到百分之五十的；（三）驾驶校车、中型以上载客载货汽车、危险物品运输车辆以外的机动车在高速公路、城市快速路上行驶超过规定时速百分之二十以上未达到百分之五十，或者在高速公路、城市快速路以外的道路上行驶超过规定时速百分之五十以上的；（四）驾驶载货汽车载物超过最大允许总质量百分之五十以上的；（五）驾驶机动车载运爆炸物品、易燃易爆化学物品以及剧毒、放射性等危险物品，未按指定的时间、路线、速度行驶或者未悬挂警示标志并采取必要的安全措施的；（六）驾驶机动车运载超限的不可解体的物品，未按指定的时间、路线、速度行驶或者未悬挂警示标志的；（七）驾驶机动车运输危险化学品，未经批准进入危险化学品运输车辆限制通行的区域的；（八）驾驶机动车不按交通信号灯指示通行的；（九）机动车驾驶证被暂扣或者扣留期间驾驶机动车的；（十）造成致人轻微伤或者财产损失的交通事故后逃逸，尚不构成犯罪的；（十一）驾驶机动车在高速公路或者城市快速路上违法占用应急车道行驶的。

24、行人参与道路交通的主要特点是什么？

- A、行动迟缓
- B、喜欢聚集、围观
- C、稳定性差
- D、行走随意性大，方向多变

正确答案：D

分析：行人不带转向灯无号牌，如果没有分透出对方的轨迹那就注意行人的 72 变化【所谓行者孙】

25、这个标志是何含义？



- A、注意横风
- B、风向标
- C、隧道入口
- D、气象台

正确答案：A

分析：注意横风：此标志设在经常有很强的侧风并有必要引起注意的路段前适当位置。

26、驾驶机动车前，以下说法错误的是什么？

- A、调整驾驶座椅，保证踩踏踏板舒适
- B、调整安全带的松紧与高低
- C、调整适合驾驶的方向盘位置

D、调整安全头枕高度，使头枕正对驾驶人的颈椎

正确答案：D

分析：驾驶机动车前，需要：调整驾驶座椅，保证踩踏踏板舒适；调整安全带的松紧与高低；调整适合驾驶的方向盘位置。

27、初次申领机动车驾驶证的，可以申请轻型牵引挂车。

A、正确

B、错误

正确答案：B

分析：《机动车驾驶证申领和使用规定》规定：初次申领机动车驾驶证的，可以申请准驾车型为城市公交车、大型货车、小型汽车、小型自动挡汽车、低速载货汽车、三轮汽车、残疾人专用小型自动挡载客汽车、普通三轮摩托车、普通二轮摩托车、轻便摩托车、轮式专用机械车、无轨电车、有轨电车的机动车驾驶证。

28、驾驶人有下列哪种违法行为一次记3分？

A、使用伪造、变造的机动车号牌

B、饮酒后驾驶机动车的

C、驾驶未按规定安装机动车号牌的机动车上道路行驶的

D、驾驶与准驾车型不符的机动车的

正确答案：C

分析：《道路交通安全违法行为记分管理办法》规定，机动车驾驶人有下列交通违法行为之一，一次记3分：（一）驾驶校车、公路客运汽车、旅游客运汽车、7座以上载客汽车以外的其他载客汽车载人超过核定人数百分之二十以上未达到百分之五十的；（二）驾驶校车、中型以上载客载货汽车、危险物品运输车辆以外的机动车在高速公路、城市快速路以外的道路上行驶超过规定时速百分之二十以上未达到百分之五十的；（三）驾驶机动车在高速公路或者城市快速路上不按规定车道行驶的；（四）驾驶机动车不按规定超车、让行，或者在高速公路、城市快速路以外的道路上逆行的；（五）驾驶机动车遇前方机动车停车排队或者缓慢行驶时，借道超车或者占用对面车道、穿插等候车辆的；（六）驾驶机动车有拨打、接听手持电话等妨碍安全驾驶的行为的；（七）驾驶机动车行经人行横道不按规定减速、停车、避让行人的；（八）驾驶机动车不按规定避让校车的；（九）驾驶载货汽车载物超过最大允许总质量百分之三十以上未达到百分之五十的，或者违反规定载客的；（十）驾驶不按规定安装机动车号牌的机动车上道路行驶的；（十一）在道路上车辆发生故障、事故停车后，不按规定使用灯光或者设置警告标志的；（十二）驾驶未按规定定期进行安全技术检验的公路客运汽车、旅游客运汽车、危险物品运输车辆行驶的；（十三）驾驶校车上道路行驶

前，未对校车车况是否符合安全技术要求进行检查，或者驾驶存在安全隐患的校车上道路行驶的；（十四）连续驾驶载货汽车超过 4 小时未停车休息或者停车休息时间少于 20 分钟的；（十五）驾驶机动车在高速公路上行驶低于规定最低时速的。

29、在什么情况下不得行车？

A、车窗没关好

B、车门没关好

C、驾乘人员系好安全带

D、顶窗没关好

正确答案：B

分析：正确答案：B 【车门没关好】的机动车不得行车。

30、驾驶机动车行经漫水路或者漫水桥时，应当停车察明水情。

A、正确

B、错误

正确答案：A

分析：机动车行经漫水路或者漫水桥时，应当停车察明水情，确认安全后，低速通过。

31、非机动车驾驶人、行人故意碰撞机动车造成交通事故的，机动车一方不承担赔偿责任。

A、正确

B、错误

正确答案：A

分析：《中华人民共和国道路交通安全法》第七十六条明确规定交通事故的损失是由非机动车驾驶人、行人故意碰撞机动车造成的，机动车一方不承担赔偿责任。

32、年满 70 岁的驾驶人发生责任交通事故造成人员重伤或者死亡的，应当在本记分周期结束后三十日内到公安机关交通管理部门接受审验。

A、正确

B、错误

正确答案：A

分析：《机动车驾驶证申领和使用规定》规定：机动车驾驶人应当按照法律、行政法规的规定，定期到公安机关交通管理部门接受审验。机动车驾驶人按照本规定第六十三条、第六十四条换领机动车驾驶证时，应当接受公安机关交通管理部门的审验。持有大型客车、重型牵引挂车、城市公交车、中型客车、大型货车驾驶证的驾驶人，应当在每个记分周期结束后三十日内到公安机关交通管理部门接受审验。但在一个记分周期内没有记分记录的，免予本记分周期审验。持有第三款规定以外准驾车型驾驶证的驾驶人，发生交通事故造成人员死亡承担同等以上责任未被吊销机动车驾驶证的，应当在本记分周期结束后三十日内到公安机关交通管理部门接受审验。年龄在70周岁以上的机动车驾驶人发生责任交通事故造成人员重伤或者死亡的，应当在本记分周期结束后三十日内到公安机关交通管理部门接受审验。机动车驾驶人可以在机动车驾驶证核发地或者核发地以外的地方参加审验、提交身体条件证明。


33、醉酒驾驶机动车在道路上行驶会受到什么处罚？

- A、处2年以下徒刑
- B、处拘役，并处罚金
- C、处2年以上徒刑
- D、处管制，并处罚金

正确答案：B

分析：我国《道路交通安全法》第91条明文规定：醉酒后驾驶机动车的，由公安机关交通管理部门约束至酒醒，处十五日以下拘留和暂扣三个月以上六个月以下机动车驾驶证，并处五百元以上二千元以下罚款。 所以选B

34、这辆在高速公路上临时停放的故障车，警告标志应该设置在车后多远处？



- A、150 米以外
- B、50-150 米
- C、50-100 米

D、50 米以内

正确答案：A

分析：亲们注意了，高速公路是 150 米以外，道路是 50-100 米

35、车辆驶入双向行驶隧道前，应开启远光灯。

A、正确

B、错误

正确答案：B

分析：车辆进入双向行驶隧道，一般都应该开启近光灯，而不要开启远光灯。若是隧道本身没有灯光的，可以变换灯光行驶，但是会车前要换成近光灯。

36、车辆在一般道路上发生故障后，应开启危险报警闪光灯，并在车后 50-100 米设置警告标志，如不按规定使用灯光和设置警告标志的，将被一次记多少分？

A、6 分

B、3 分

C、2 分

D、1 分

正确答案：B

分析：根据《机动车驾驶证申领和使用规定》第六十五条，道路交通安全违法行为累积记分周期（即记分周期）为 12 个月，满分为 12 分，从机动车驾驶证初次领取之日起计算。依据道路交通安全违法行为的严重程度，一次记分的分值为：12 分、6 分、3 分、2 分、1 分五种。在《道路交通安全违法行为记分分值》中指出，机动车驾驶人有下列违法行为之一，一次记 3 分：① 驾驶营运客车（不包括公共汽车）、校车以外的载客汽车载人超过核定人数未达 20% 的；② 驾驶中型以上载客载货汽车、危险物品运输车辆在高速公路、城市快速路以外的道路上行驶或者驾驶其他机动车行驶超过规定时速未达 20% 的；③ 驾驶货车载物超过核定载质量未达 30% 的；④ 驾驶机动车在高速公路行驶低于规定最低时速的；⑤ 驾驶禁止驶入高速公路的机动车驶入高速公路的；⑥ 驾驶机动车在高速公路或者城市快速路上不按规定车道行驶的；⑦ 驾驶机动车行经人行横道，不按规定减速、停车、避让行人的；⑧ 驾驶机动车违反禁令标志、禁止标线指示的；⑨ 驾驶机动车不按规定超车、让行的，或者逆向行驶的；⑩ 驾驶机动车违反规定牵引挂车的；?在道路上车辆发生故障、事故停车后，不按规定使用灯光和设置警告标志的；?上道路行驶的机动车未按规定定期进行安全技术检验的。

37、饮酒后或者醉酒驾驶机动车发生重大交通事故构成犯罪的，依法追究刑事责任，吊销机动车驾驶证，终生不得重新取得机动车驾驶证。

A、正确

B、错误

正确答案：A

分析：饮酒后或者醉酒驾驶机动车发生重大交通事故，构成犯罪的，依法追究刑事责任，并由公安机关交通管理部门吊销机动车驾驶证，终生不得重新取得机动车驾驶证。

38、在车门、车厢没有关好时不要驾驶机动车起步。

A、正确

B、错误

正确答案：A

分析：安全第一。

39、机动车驾驶证被依法扣押、扣留、暂扣期间能否申请补发？

A、可以申请

B、扣留期间可以临时申请

C、暂扣期间可以临时申请

D、不得申请补发

正确答案：D

分析：机动车驾驶证被依法扣押、扣留或者暂扣期间，机动车驾驶人不得申请补发。

40、请判断一下，这是什么手势？



- A、不准前方车辆通行手势
- B、准许右方车辆右转弯手势
- C、准许右方直行车辆通过手势
- D、准许车辆左转弯手势

正确答案：C

分析：两手伸直的意思是直行，手向右摆，意思是向右方直行的车辆可以通过。

41、当驾驶人服用的药物对驾驶行为可能有影响时，不应驾驶机动车。

- A、正确
- B、错误

正确答案：A

分析：驾驶人因疾病服用一些药物时，一定要了解所服药物如何正确服用，是否会有影响驾驶的副作用，避免药物对驾驶人的心理、生理产生不良影响，妨碍安全行车。因此，驾驶人在服药期间，不应驾驶机动车。药物副作用影响安全驾驶主要表现在：头昏、眩晕、视物模糊、视力下降、乏力、嗜睡、注意力分散等，影响驾驶人判断的准确性及反应能力、动作协调能力下降，易导致交通意外。

42、已经持有小型自动挡汽车驾驶证，增加小型汽车准驾车型后的12个月为实习期。

- A、正确
- B、错误

正确答案：B

分析：《机动车驾驶证申领和使用规定》规定：机动车驾驶人初次取得汽车类准驾车型或者初次取得摩托车类准驾车型后的12个月为实习期。持有小型自动挡汽车增驾小型汽车的，不属于初次取得汽车类准驾车型，因此没有12个月的实习期。

43、驾驶人在下列哪种情况下不能驾驶机动车？

- A、饮酒后
- B、喝茶后
- C、喝咖啡后
- D、喝牛奶后

正确答案：A

分析：很明显，喝酒后不能开车。

44、遇到这种情况下可以从右侧超车。



- A、正确
- B、错误

正确答案：B

分析：超车只能从左侧超车。

45、驾驶报废机动车上路行驶的驾驶人，除按规定罚款外，还要受到哪种处理？

- A、撤销驾驶许可
- B、收缴驾驶证
- C、强制恢复车况

D、吊销驾驶证

正确答案：D

分析：记忆题：对于驾驶已达到报废标准的机动车上路行驶的驾驶人，处 200 元以上 2000 元以下罚款，并吊销机动车驾驶证。

46、指志标线的作用是什么？

A、禁止通行

B、指示通行

C、限制通行

D、警告提醒

正确答案：B

分析：指示标线主要就是引导你正确的行驶，安全守法

47、车辆在雪天临时停车时，应开启什么灯

A、前后雾灯

B、倒车灯

C、前大灯

D、危险报警闪光灯

正确答案：D

分析：请看清是停车，开启危险报警闪光灯防止没看清追尾等事故。

48、机动车驶近急弯、坡道顶端等影响安全视距的路段时，减速慢行并鸣喇叭示意是为了什么？

A、提示前车后方车辆准备超车

B、提示对向交通参与者我方有来车

C、避免行至坡道顶端车辆动力不足

D、测试喇叭是否能正常使用

正确答案：B

分析：有这些影响安全视线的地方减速鸣笛，是为了提醒对面车辆有车过来了，所以选 B。

49、驾驶校车、中型以上载客载货汽车、危险物品运输车辆以外的机动车在高速公路上行驶超过规定时速 40% 的，一次记 6 分。

A、正确

B、错误

正确答案：A

分析：《道路交通安全违法行为记分管理办法》规定，机动车驾驶人有下列交通违法行为之一，一次记 6 分：（一）驾驶校车、公路客运汽车、旅游客运汽车载人超过核定人数未达到百分之二十，或者驾驶 7 座以上载客汽车载人超过核定人数百分之二十以上未达到百分之五十，或者驾驶其他载客汽车载人超过核定人数百分之五十以上未达到百分之百的；（二）驾驶校车、中型以上载客载货汽车、危险物品运输车辆在高速公路、城市快速路上行驶超过规定时速未达到百分之二十，或者在高速公路、城市快速路以外的道路上行驶超过规定时速百分之二十以上未达到百分之五十的；（三）驾驶校车、中型以上载客载货汽车、危险物品运输车辆以外的机动车在高速公路、城市快速路上行驶超过规定时速百分之二十以上未达到百分之五十，或者在高速公路、城市快速路以外的道路上行驶超过规定时速百分之五十以上的；（四）驾驶载货汽车载物超过最大允许总质量百分之五十以上的；（五）驾驶机动车载运爆炸物品、易燃易爆化学物品以及剧毒、放射性等危险物品，未按指定的时间、路线、速度行驶或者未悬挂警示标志并采取必要的安全措施的；（六）驾驶机动车运载超限的不可解体的物品，未按指定的时间、路线、速度行驶或者未悬挂警示标志的；（七）驾驶机动车运输危险化学品，未经批准进入危险化学品运输车辆限制通行的区域的；（八）驾驶机动车不按交通信号灯指示通行的；（九）机动车驾驶证被暂扣或者扣留期间驾驶机动车的；（十）造成致人轻微伤或者财产损失的交通事故后逃逸，尚不构成犯罪的；（十一）驾驶机动车在高速公路或者城市快速路上违法占用应急车道行驶的。

50、办理机动车变更登记、转让登记或者注销登记后，原机动车所有人重新申请机动车登记时，若想使用原机动车号牌号码，应满足以下哪项条件？

A、机动车所有人的驾驶证未扣满 12 分

B、涉及原机动车的道路交通安全违法行为和交通事故处理完毕

C、机动车所有人拥有原机动车且使用原号牌号码两年以上

D、在办理机动车迁出、共同所有人变更、转让登记或者注销登记后三年内提出申请

正确答案：B

分析：《机动车登记规定》规定，办理机动车变更登记、转让登记或者注销登记后，原机动

以上内容仅为本文档的试下载部分，为可阅读页数的一半内容。如要下载或阅读全文，请访问：<https://d.book118.com/108102137034007006>