

考试备考资料

(习题试卷、考点)

目 录

[2015 年山东建筑大学 912 结构力学 B\[专业硕士\]考研真题](#)

[2014 年山东建筑大学 912 结构力学 B\[专业硕士\]考研真题](#)

[2013 年山东建筑大学 912 结构力学 B\[专业硕士\]考研真题](#)

[2012 年山东建筑大学 913 结构力学 B\[专业硕士\]考研真题](#)

[2011 年山东建筑大学 913 结构力学 B\[专业硕士\]考研真题](#)

[2010 年山东建筑大学 913 结构力学 B\[专业硕士\]考研真题](#)

2015 年山东建筑大学 912 结构力学 B[专业硕士]
考研真题

山东建筑大学

2015 年硕士研究生招生考试初试试题

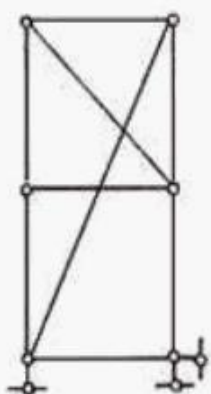
考试科目代码: 912 考试科目: 结构力学 B

考生注意事项:

- 1、答题必须做在发放的答题纸上, 否则不得分, 答卷与试题一同交回。
- 2、答题纸上不得标注任何标记, 否则按 0 分处理。

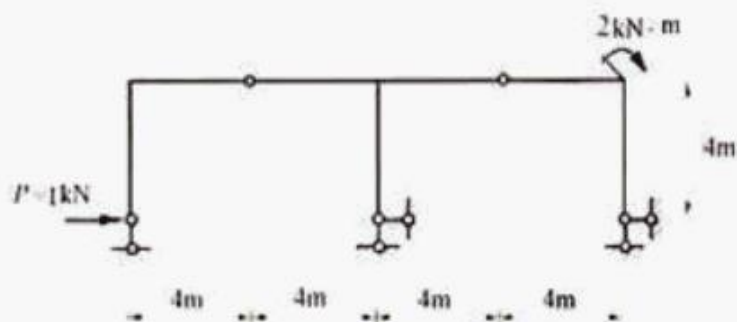
一、(本大题 15 分)

分析图示体系的几何组成。



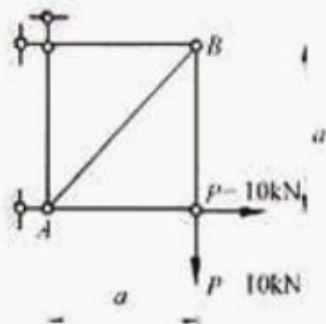
二、(本大题 15 分)

作图示结构的 M 图。



三、(本大题 20 分)

求图示桁架 AB 杆的转角, 设各杆 $EI = \text{常数}$ 。



以上内容仅为本文档的试下载部分，为可阅读页数的一半内容。如要下载或阅读全文，请访问：<https://d.book118.com/115131343120011233>