

高中信息技术模拟考试卷含答案

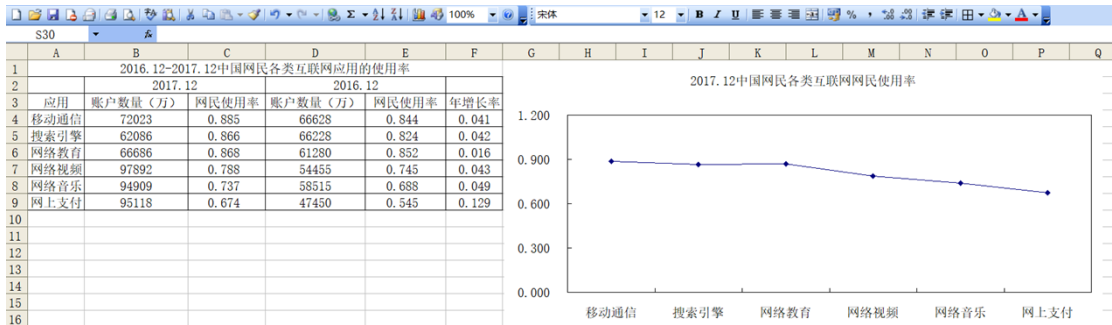
一、选择题





1. 下面“学生健康情况调查表”中的数据是按什么规则排序的？（ ）

健康情况调查表

姓名	性别	身高(m)	体重(kg)	视力
王明	男	1.82	70	1.2
张南	女	1.72	57	2.0
苏洪涛	男	1.71	68	0.8
刘婷	女	1.63	51	1.2

- A. 身高升序 B. 体重 C. 身高降序 D. 视力
2. 在 Excel 操作中，若在单元格中出现“#VALUE!”的错误信息，其原因是：（ ）
- A. 单元格内数值太大 B. 分母（或除数为 0）
- C. 列宽不足以显示包含的内容 D. 在公式中使用了错误的数字
3. 下列属于 Excel 的主要功能的是（ ）
- A. 文字处理 B. 数据统计 C. 图像处理 D. 音频处理
4. 以下 Excel 概念中，（ ）与文件对应。
- A. 工作表 B. 单元格 C. 单元格区域 D. 工作簿
5. 如图，要将 F 列(年增长率)数据显示为百分比样式，应使用的按钮是（ ）



- A.  B.  C.  D. 
6. 在 WPS 表格中，要找出成绩表中所有数学成绩在 90 分（包括 90 分）的同学，应该利用（ ）命令。

- A. 查找 B. 筛选 C. 分类汇总 D. 排序

7. 小明在电子表格中输入日期，可结果显示的是若干个“#”号。这种情况可以有多种解决方法。下列选项中，不可行的是()

- A. 修改日期列的宽度 B. 修改单元格的格式
C. 重新输入 D. 修改单元格的高度

8. 下列哪一个是 Excel 文件 ()。

- A. 数据.txt B. 成绩.doc C. 表格.bmp D. 技术.xls

9. 若在 Excel 工作表的一个单元格中输入“=5^3”，则单元格显示的结果是 ()

- A. 5^3 B. 125 C. 25 D. =5^3

10. 下列数据系列不能在 Excel 中使用填充柄自动填充的是 ()

- A. 1、3、5、7、9、11 B. 2、4、8、16、32
C. 一月、二月、三月、四月 D. 甲、乙、丙、丁

11. 如下图所示，在 Excel 工作表中，只为前三位同学计算总分，其计算公式为“信息技术+附加分”，以下做法最快捷的是 ()。

	A	B	C	D
1	姓名	信息技术	附加分	总分
2	小明	93		98
3	小虹	76	5	81
4	小华	90		95
5	小芳	83		

- A. 先在 D3 单元格输入公式“=sum(b2", c2)”，再向下填充
B. 先在 D3 单元格输入公式“=sum(b2" : c2)”，再向下填充
C. 先在 D3 单元格输入公式“=b2+C\$2”，再进行向下填充
D. 先在 D3 单元格输入公式“=b2+\$C2”，再进行向下填充

12. Excel 电子表格是一种 ()

- A. 数据库系统 B. 操作系统 C. 应用软件 D. 系统软件

件

二、填空题

13. 如下图所示，在 Excel 中，要在“合计”中算出各班的用电量，请把操作步骤补充完整。

	A	B	C	D	E
1	班级用电表(度)				
2		一班	二班	三班	四班
3	1月	51	59	60	54
4	2月	61	63	64	61
5	3月	49	50	47	55
6	合计				

(1) 在 B6 单元格中输入公式_____，并按回车键。

(2) 选中_____单元格，将鼠标指针移动到该单元格的右下角,光标变成一个实心的加号，即拖动柄。

(3) 按下鼠标左键向右拖拽到_____单元格。

14. 在 Excel 中，一个工作簿默认打开三个工作表，若需增加工作表，其快捷键是_____。

三、判断题

15. 设置跨列居中时通常按表格的最小宽度选择单元格区域。

16. 当第一次启动 Excel2010 后，会自动打开一个名为 Book1 的工作簿。

17. 在 Excel 中，公式=SUM(B1:B4)与公式=SUM(A1:B4 B1:B4)返回的结果是相同的。

四、简答题

18. 某省 2014 年主要统计数据表，放置于 Excel 工作簿“Sheet1”工作表中，如图 1 所示。

	A	B	C	D	E
1					
2	2014年某省主要统计数据				
3					
4		各种收入	总量(万元)	增幅	去年总量(万元)
5		地方生产总值	112430000	41.30%	
6		固定资产投资	59450000	20.20%	
7		社会消费品零售总额	36450000	15.50%	
8		金融机构存款余额	178851000	15.80%	
9		金融机构存款余额	149825000	20.80%	
10		自营出口总额	44201600	39.80%	
11		实际利用外资	5076800	22.60%	
12		城镇居民人均可支配收入	1.4546	7.40%	
13		农民人均纯收入	0.6096	7.41%	

图 1

(1) 为了使表格的标题合并及居中放置，应先选择 B2:E2 单元格，然后在“单元格格式”对话框图中（如图 2 所示）做如下设

置：_____

。

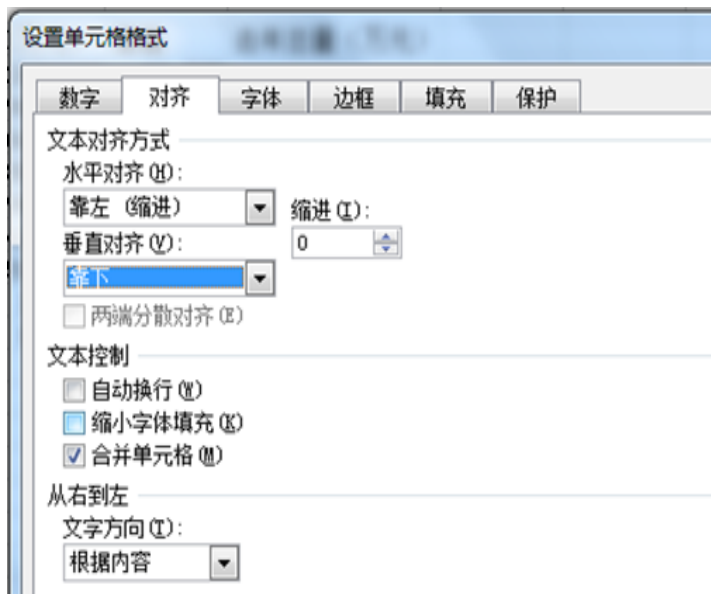


图 2

(2) 去年总量的计算公式是: 去年总量=总量/(1+增幅), 要计算去年总量, 则应先在 E5 单元格中输入公式_____ , 然后在自动填充 E6:E13 单元格。

(3) 在计算出去年总量后, 先制作一张反映表格中数据的柱状图, 再对表格数据按增幅进行降序排序, (如图 3 所示), 先选中单元格_____ , 然后选择“数据”菜单中的“排序”, 在打开的排序对话框中设置主要关键字为“增幅”, 进行降序排序。

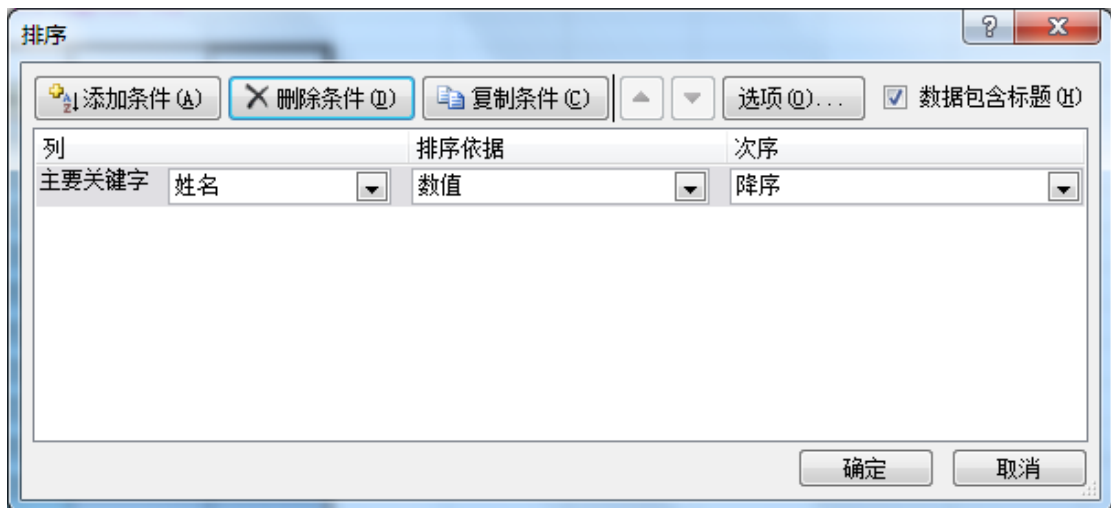


图 3

(4) 完成排序后, 请问对步骤 (3) 中生成的柱状图是否有影响? _____

19. 请解释 Excel 中的工作簿、工作表和单元格。
20. 写出插入 Excel 工作表的四种方法?
21. 写出删除 Excel 工作表的两种方法。
- 22.

以下是 2014 年全球前 15 大集装箱港吞吐量排行榜，小明同学用 Excel 软件对其数据进行处理和分析，如图 1 所示，请回答以下问题：

	A	B	C	D	E	F
1	2014年全球前15大集装箱港吞吐量排行榜					
2	名次	港口名称	2014年(万TEU)	2013年(万TEU)	增幅(%)	2014年平均离差
3	1	上海港	3528.50	3361.70	4.73	1813.68
4	2	新加坡港	3390.00	3260.00	3.83	1675.18
5	3	深圳港	2403.00	2327.90	3.13	688.18
6	4	香港港	2228.00	2235.00	-0.31	513.18
7	5	宁波-舟山港	1945.00	1735.07	10.79	230.18
8	6	釜山港	1842.00	1762.00	4.34	127.18
9	7	青岛港	1662.44	1552.20	6.63	-52.38
10	8	广州港	1616.00	1531.10	5.25	-98.82
11	9	迪拜港	1525.00	1363.00	10.62	-189.82
12	10	天津港	1405.00	1301.20	7.39	-309.82
13	11	鹿特丹港	1230.00	1167.00	5.12	-484.82
14	12	大连港	1012.76	1001.50	1.11	-702.06
15	13	厦门港	857.24	800.00	6.68	-857.58
16	14	营口港	576.82	530.10	8.10	-1138.00
17	15	连云港港	500.54	548.80	-9.64	-1214.28
18	平均值		1714.82	1631.77	4.84	0.00

图 1

(1) 在 C18 单元格中计算前 15 名年吞吐量平均值，应在 C18 单元格输入公式_____，然后用填充柄向右填充。平均离差的计算方法是每个港口的年吞吐量减去平均值(如 2013 年深圳港的平均离差就是 D5 单元格里值减去 D18 单元格里值)。

(2) 为保证能使用自动填充柄进行自动填充，则 F3 单元格里输入的公式为_____。

(3) ①若要反映各港口 2014 年与 2013 年吞吐量对比图，应选择数据区域_____；

②选用以下哪种图最适合_____。



图 2

答案解析部分

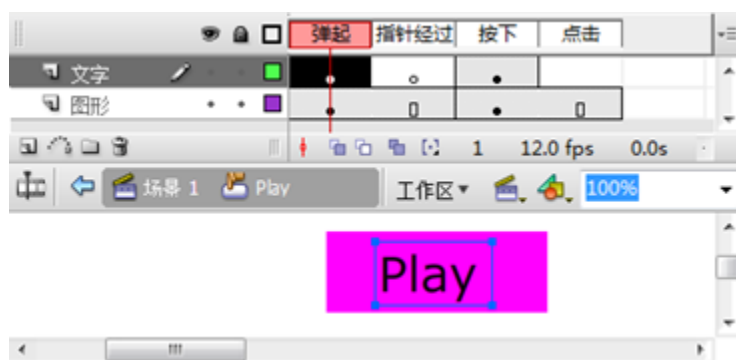
1. 【答案】 C
2. 【答案】 D
3. 【答案】 B
4. 【答案】 D
5. 【答案】 A
6. 【答案】 B
7. 【答案】 D
8. 【答案】 D
9. 【答案】 B
10. 【答案】 B
11. 【答案】 C
12. 【答案】 C
13. 【答案】 (1) =B3+B4+B5 或=SUM(B3:B5)
(2) B6
(3) E6
14. 【答案】 Shift+F11
15. 【答案】 错误
16. 【答案】 错误
17. 【答案】 正确
18. 【答案】 (1) 在“水平对齐”下拉列表框中选择“居中”，并在“合并单元格”复选框中打钩
(2) =C5/(1+D5)
(3) B4:E13
(4) 是
19. 【答案】 解：工作簿：是处理和存储数据的文件，工作簿名就是文件名。
工作表：是显示在工作簿窗口中的表格，工作表由行和列构成。
单元格：工作表中的每个小矩形就是一个单元格，每个单元格都是工作表的一个存储单元，工作表的数据就保存在这些单元格内。

20. 【答案】解：①右击工作表标签，在弹出的快捷菜单中单击“插入”命令。
 ②单击“开始”功能区“单元格”组中的“插入”→“工作表”命令
 ③单击“插入工作表”标签
 ④按快捷键 Shift+F11
21. 【答案】解 ①选择工作表，单击“开始”功能区“单元格”组中的“删除”按钮，在下拉列表中选择“删除工作表”命令。
 ②右击工作表标签，在弹出的快捷菜单中单击“删除”命令。
22. 【答案】(1) ="Average(c3:C17)"
 (2) ="C3-C\$18"
 (3) B2: D17; 柱形图

高中信息技术模拟考试卷含答案

一、选择题


1. 使用 Flash 软件编辑“Play”按钮元件，部分界面如图所示。



- 将该按钮元件应用于舞台，下列描述正确的是（ ）
- A. 舞台上的“Play”按钮实例不会随着该按钮元件的改变而改变
 B. 测试影片，当鼠标指针经过该按钮时，指针形状不会变成手形
 C. 测试影片，当鼠标指针经过该按钮时，该按钮上会呈现图中所示文字“Play”
 D. 测试影片，当按钮按下时，按钮上呈现的文字与图中所示文字“Play”可能不同
2. 在 PowerPoint2003 中用以显示文件名的栏是（ ）
- A. 常用工具栏 B. 菜单栏 C. 标题栏 D. 状态栏
3. 如果要从第三张幻灯片跳转到第八张幻灯片，需要在第三张幻灯片上进行的设置是（ ）。

- A. 自定义动画 B. 幻灯片切换 C. 预设动画 D. 超级链接

4. 使用“会声会影”软件进行视频素材加工的部分界面如下图所示：



- 下列素材均能加载到①轨道的是（ ）
- A. Zm.txt 和 Ms.mp3 B. Pic.jpg 和 Ms.mp3
 C. Zm.txt 和 Dh.avi D. Pic.jpg 和 Dh.avi
5. （ ）是为初学者设计的，通过它选择所需要的演示文稿类型，利用示范快速建立一份电子讲演稿。
- A. 联机会议向导 B. 内容提示向导
 C. 会议记录 D. 预设动画
6. 下列选项中，不属于视频采集方式的是（ ）
- A. 用视频加工处理软件截取一段数码电影视频
 B. 用数码摄像机现场摄录
 C. 把电视里播放的节目用采集卡录制到计算机
 D. 从网络上下载视频文件
7. 在几何画板中构造三角形内部，需要（ ）
- A. 鼠标单击三角形内部 B. 选中三角形三个顶点
 C. 选中三角形三边 D. 选中三角形三个顶点及三边
8. PowerPoint 属于下列那些软件的成员之一（ ）
- A. WORD B. EXCEL C. OFFICE D. WPS
9. 要从当前幻灯片开始放映，应单击（ ）按钮。
- A. 幻灯片切换 B. 幻灯片放映视图
 C. 按 F5 键 D. 单击自定义放映按钮
10. PowerPoint 文件默认扩展名为（ ）。

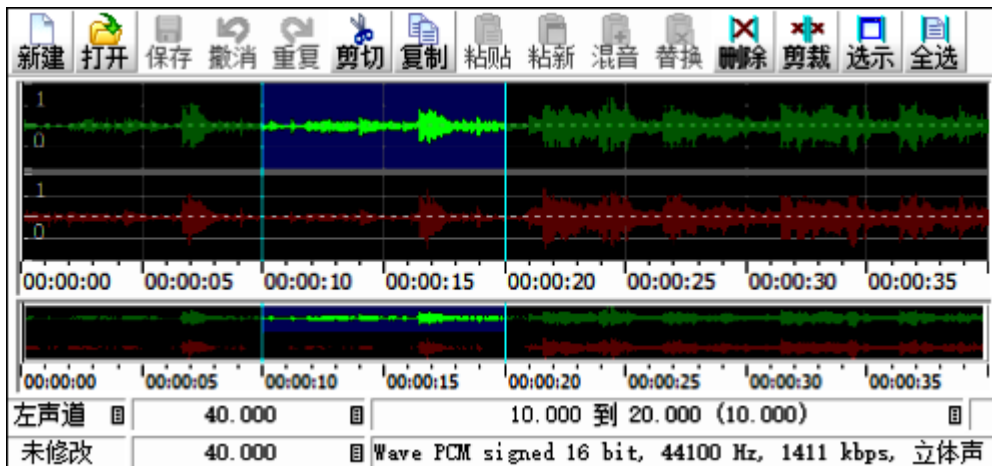
A. doc

B. txt

C. xls

D. ppt

11. 使用 GoldWave 软件编辑某音频文件，选择其中一段音频后的部分界面如图所示。



下列说法正确的是（ ）

A. 插入 10s 静音后，右声道时长仍为 40s

B. 选择声道为双声道后按原格式保存，声音文件存储容量翻倍

C. 执行“剪裁”操作后，整个音频只剩下当前选中的部分

D. 执行“更改音量”操作后，只有当前选中的声音音量发生改变

12. 小明要着手制作一份反映市容市貌的电子报刊，在进行版面设计时，同学给了他如下建议，你认为小明不应采纳的是（ ）。

A. 先绘出版面布局草图，再进行制作

B. 电子报刊的页边距设置与日常文本加工没有区别

C. 把较为重要、能烘托主题的内容排放在第一版即主版

D. 版式编排要新颖、活泼、有朝气

二、填空题

13. 调整图片大小时，应先选中图片，图片四周会出现_____，将鼠标移动到某个方框处，鼠标会变成_____。

14. 在 PowerPoint 2000 中，调整图片色彩主要使用_____。

三、判断题

15. 在 FLASH 中对文本进行变形后，不可以对文本进行编辑。

16. 常用的文档演示软件 PowerPoint (ppt 文件)实际上是由许多张单幅图片组成的，而这些图片可以是 gif 文件，也可以是 bmp、JPG、wmf、tiff 等格式的图形文件。

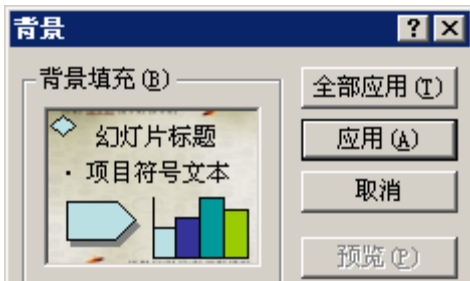
17. PowerPoint 文件中，一张幻灯片只能插入一张图片。

四、简答题

18. 在 PPT 课件中，如何设置幻灯片切换及动画效果？

19. 根据如下图所示的 PPT 文档，回答以下问题。

(1) 该文档中用到的主要对象除了文字、图形、自选图形外还有哪些？



(2) 选择一种颜色做为 PPT 背景，假定要应用于全部 20 张幻灯片中，必须选择以下图中哪个命令？

(3) 在 PPT 中我们可以通过超链接随机访问想要浏览的页面，这主要体现多媒体的什么特点？

(4) 要设置如图中嫦娥图片的环绕方式，必须在“版式”选项中，选择哪个选项？



以上内容仅为本文档的试下载部分，为可阅读页数的一半内容。

如要下载或阅读全文，请访问：

<https://d.book118.com/125013302324011223>