

重庆市重庆市铜梁区 2023-2024 学年科目一模拟考试

100 题（新版）

1、驾驶机动车在人行横道上临时停车属于违法行为。

A、正确

B、错误

正确答案：A

分析：本题答案：正确，在人行横道上临时停车属于违法行为。

2、驾驶小型载客汽车在普通城市道路上行驶时，超过规定时速 30% ，一次记 3 分。

A、正确

B、错误

正确答案：A

分析：机动车驾驶人有下列交通违法行为之一，一次记 3 分：（一）驾驶校车、公路客运汽车、旅游客运汽车、7 座以上载客汽车以外的其他载客汽车载人超过核定人数百分之二十以上未达到百分之五十的；（二）驾驶校车、中型以上载客载货汽车、危险物品运输车辆以外的机动车在高速公路、城市快速路以外的道路上行驶超过规定时速百分之二十以上未达到百分之五十的；（三）驾驶机动车在高速公路或者城市快速路上不按规定车道行驶的；（四）驾驶机动车不按规定超车、让行，或者在高速公路、城市快速路以外的道路上逆行的；（五）驾驶机动车遇前方机动车停车排队或者缓慢行驶时，借道超车或者占用对面车道、穿插等候车辆的；（六）驾驶机动车有拨打、接听手持电话等妨碍安全驾驶的行为的；（七）驾驶机动车行经人行横道不按规定减速、停车、避让行人的；（八）驾驶机动车不按规定避让校车的；（九）驾驶载货汽车载物超过最大允许总质量百分之三十以上未达到百分之五十的，或者违反规定载客的；（十）驾驶不按规定安装机动车号牌的机动车上道路行驶的；（十一）在道路上车辆发生故障、事故停车后，不按规定使用灯光或者设置警告标志的；（十二）驾驶未按规定定期进行安全技术检验的公路客运汽车、旅游客运汽车、危险物品运输车辆上道路行驶的；（十三）驾驶校车上道路行驶前，未对校车车况是否符合安全技术要求进行检查，或者驾驶存在安全隐患的校车上道路行驶的；（十四）连续驾驶载货汽车超过 4 小时未停车休息或者停车休息时间少于 20 分钟的；（十五）驾驶机动车在高速公路上行驶低于规定最低时速的。

3、在没有交通信号灯的路口遇停车等待时，可以临时占用对面车道，避免造成更大的拥堵。

A、正确

B、错误

正确答案：B

分析：在没有交通信号灯的路口遇停车等待时，为避免造成更大的拥堵，应依次排队等待或缓慢行驶，占用对面车道行驶只会造成更大的交通拥堵。

4、机动车驾驶证有效期分为6年、10年、20年。

A、正确

B、错误

正确答案：B

分析：机动车驾驶证有效期分为六年、十年和长期。

5、这个标志是何含义？



A、分向车道

B、右转车道

C、掉头车道

D、左转车道

正确答案：B

分析：表示只准一切车辆向右转弯。此标志设在车辆必须向右转弯的路口以前适当位置。

6、这个标志是何含义？



- A、提醒车辆驾驶人前方道路沿水库、湖泊、河流
- B、提醒车辆驾驶人前方有向上的陡坡路段
- C、提醒车辆驾驶人前方有两个及以上连续上坡路段
- D、提醒车辆驾驶人前方有向下的陡坡路段

正确答案：B

分析：正确答案：B 图片分析，警告标志前方有向上的陡坡路段，行车注意安全。

7、申请人隐瞒有关情况或者提供虚假材料申领机动车驾驶证的，会受到以下哪种处罚？

- A、处五百元以上两千元以下罚款，申请人终生不得再次申领机动车驾驶证
- B、申请人终生不得再次申领机动车驾驶证
- C、处五百元以下罚款，申请人在一年内不得再次申领机动车驾驶证
- D、处两千元以下罚款，申请人在一年内不得再次申领机动车驾驶证

正确答案：C

分析：《机动车驾驶证申领和使用规定》规定：申请人隐瞒有关情况或者提供虚假材料申领机动车驾驶证的，公安机关交通管理部门不予受理或者不予办理，处五百元以下罚款；申请人在一年内不得再次申领机动车驾驶证。

8、高速公路上车辆发生故障后，开启危险警报闪光灯和摆放警告标志是为了向其他车辆求助。

A、正确

B、错误

正确答案：B

分析：开启危险警报闪光灯和摆放警告标志是为了让后车注意避让，避免发生事故。

9、如图所示，A 车的行为是正确的。



A、正确

B、错误

正确答案：B

分析：驶离高速公路时，应当提前将车驶入减速车道，并及时减速，图中 A 车的行为是错误的。

10、申请大型客车驾驶证的申请人，应该在 26 周岁以上，50 周岁以下。

A、正确

B、错误

正确答案：B

分析：《机动车驾驶证申领和使用规定》规定：申请大型客车、重型牵引挂车准驾车型的，在 22 周岁以上，60 周岁以下。

11、驾驶机动车在高速公路上倒车、逆行、穿越中央分隔带掉头的一次记 6 分。

A、正确

B、错误

正确答案：B

分析：2013《123号令-附件2》一、机动车驾驶人有下列违法行为之一，一次记12分[重新考《科目一》]：（七）驾驶机动车在高速公路上倒车、逆行、穿越中央分隔带掉头的；

12、这个标志是何含义？



A、急转弯路

B、易滑路段

C、试车路段

D、曲线路段

正确答案：B

分析：易滑路段：此标志设在路面的摩擦系数不能满足相应行驶速度下要求紧急刹车距离的路段前适当位置。行驶至此路段必须减速慢行。

13、驾驶人连续驾驶不得超过多长时间

A、4小时

B、6小时

C、8小时

D、10小时

正确答案：A

分析：《中华人民共和国道路交通安全法实施条例》第六十二条 连续驾驶机动车超过4小时应停车休息，停车休息时间不少于20分钟。

14、这个标志是何含义？



- A、傍山险路
- B、悬崖路段
- C、注意落石
- D、危险路段

正确答案：C

分析：注意落石

15、遇到图中这种有车道信号灯的路段，应该选择哪条车道行驶？



- A、选择任一车道行驶
- B、选择左侧车道行驶
- C、选择右侧车道行驶
- D、选择中间车道行驶

正确答案：D

分析：箭头灯中绿灯都指向中间车道，明显应该选择中间车道。

16、车辆行至交叉路口，遇有转弯的车辆抢行，应怎样做？

- A、停车避让
- B、保持正常车速行驶
- C、提高车速抢行通过
- D、鸣喇叭抢先通过

正确答案：A

分析：停车避让，安全第一。

17、机动车在道路上发生故障，需要停车排除时，驾驶人应该怎么办？

- A、就地停车排除故障
- B、开启近光灯或雾灯
- C、将车停到不妨碍交通的地方
- D、将车停在道路中间

正确答案：C

分析：写的是需要停车排除就说明不是车胎爆死，车还是可以开的，所以要开到不妨碍交通的地方，选C。

18、以下哪项行为可构成危险驾驶罪？

- A、闯红灯
- B、无证驾驶
- C、疲劳驾驶
- D、醉驾

正确答案：D

分析：危险驾驶罪是指在道路上醉酒驾驶机动车或者在道路上驾驶机动车追逐竞驶，情节恶劣的行为。

19、驾驶机动车在交叉路口前变更车道时，应在进入实线区后，开启转向灯，变更车道。

A、正确

B、错误

正确答案：B

分析：在虚线区就要完成车道变更选择而变更车道要提前开启转向灯的，实线区才开转向灯就不能做到提前开启转向灯的要求了，而且实线区禁止变更车道。

20、驾驶机动车发生财产损失交通事故，当事人对事实及成因无争议的可以先撤离现场

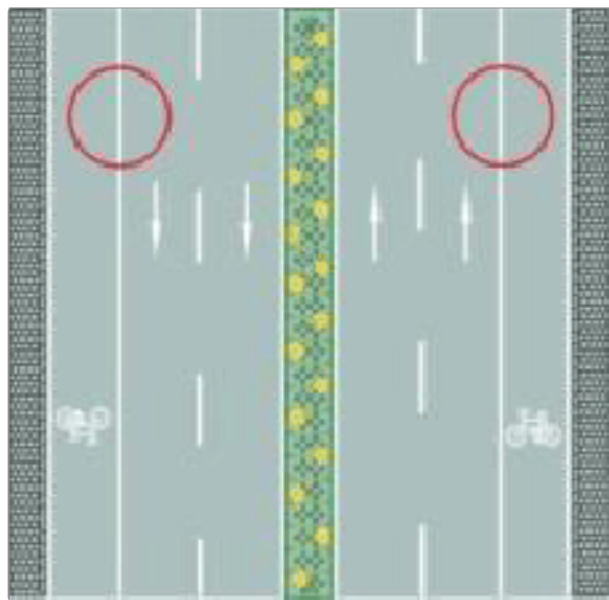
A、正确

B、错误

正确答案：A

分析：也就是私了。

21、路两侧的车行道边缘白色实线是什么含义？



A、机动车可临时跨越

B、非机动车可临时跨越

C、车辆可临时跨越

D、禁止车辆跨越

正确答案：D

分析：题目是白色实线，最佳解释应为白色实线不可跨越

22、驾驶机动车在高速公路行驶，超过规定时速 10% 以上未达 20% 的，一次记多少分？

A、2 分

B、3 分


C、6 分

D、12 分

正确答案：B

分析：高速公路超速扣分规定：1、超速处罚超过规定时速 10% 以内，仅给予警告，不进行扣分处罚。2、超过规定时速 10% 以上未达 20% 的，扣 3 分。3、超过规定时速 20% 以上未达 50% 的，扣 6 分。4、超过规定时速 50% 以上，扣 12 分。

23、机动车仪表板上（如图所示）亮时，表示什么？



A、左转向指示灯闪烁

B、右转向指示灯闪烁

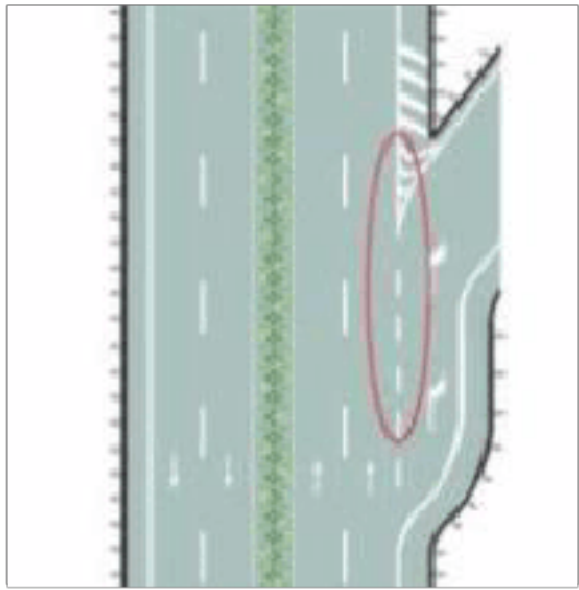
C、车前后位置灯闪烁

D、车前后示宽灯亮起

正确答案：B

分析：右转向灯，这个没有问题吧。。。老衲也不知如何解释这个题。万一不知道，死记。

24、路面由白色虚线和三角地带标线组成的是什么标线？



- A、道路入口标线
- B、可跨越式分道线
- C、道路出口减速线
- D、道路出口标线

正确答案：D

分析：三角地带标线是保持你和出口右边有一定距离 而出口左侧有凹下去的曲线（我觉得就是让你在出口时有一个可以靠边观察的地方，避免有车辆驶来）

25、以下哪个指示灯亮时，提醒驾驶人安全带插头未插入锁扣？



- A、图 1
- B、图 2
- C、图 3
- D、图 4

正确答案：A

分析：记住就可以了，其他图标是什么？去“交通标志”里学习一遍吧。

26、以下哪种行为处十日以下拘留，并处一千元以上二千元以下罚款，吊销机动车驾驶证？

A、醉酒驾驶机动车的

B、故意遮挡机动车号牌的

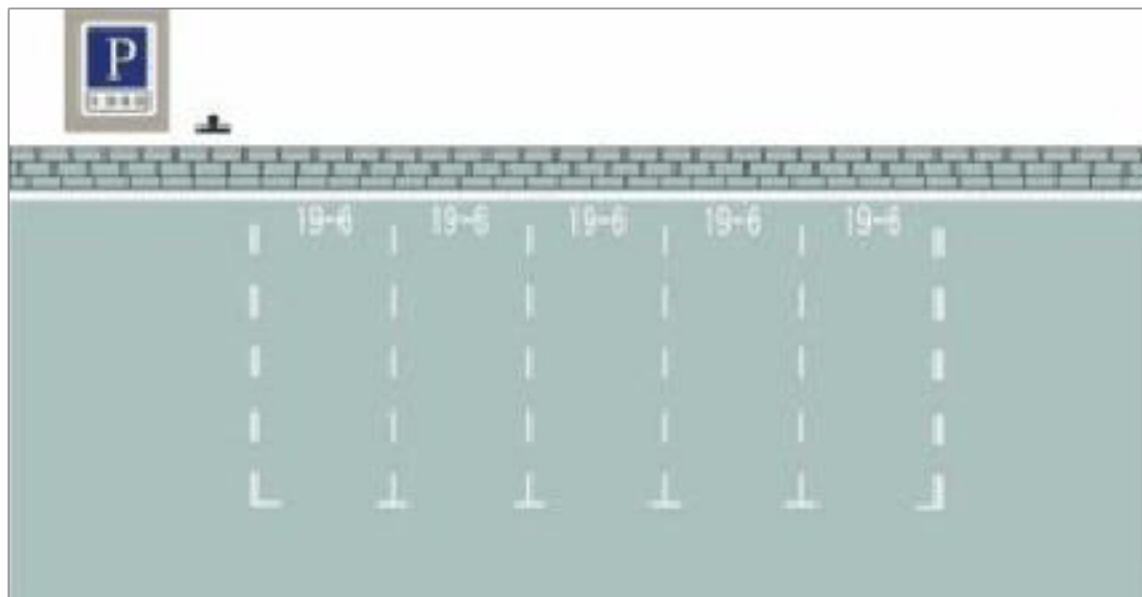
C、使用其他车辆保险标志的

D、因饮酒后驾驶机动车被处罚，再次饮酒后驾驶机动车的

正确答案：D

分析：依据《中华人民共和国道路交通安全法》：饮酒后驾驶机动车的，处暂扣六个月机动车驾驶证，并处一千元以上二千元以下罚款。因饮酒后驾驶机动车被处罚，再次饮酒后驾驶机动车的，处十日以下拘留，并处一千元以上二千元以下罚款，吊销机动车驾驶证。

27、这种白色矩形标线框含义是什么？



A、长时停车位

B、限时停车位

C、专用停车位

D、免费停车位

正确答案：B

分析：很好记：有数字虚线（限），就选限时的。

28、年满 70 岁的驾驶人发生责任交通事故造成人员重伤或者死亡的，应当在本记分周期结束后三十日内到公安机关交通管理部门接受审验。

A、正确

B、错误

正确答案：A

分析：《机动车驾驶证申领和使用规定》规定：机动车驾驶人应当按照法律、行政法规的规定，定期到公安机关交通管理部门接受审验。机动车驾驶人按照本规定第六十三条、第六十四条换领机动车驾驶证时，应当接受公安机关交通管理部门的审验。持有大型客车、重型牵引挂车、城市公交车、中型客车、大型货车驾驶证的驾驶人，应当在每个记分周期结束后三十日内到公安机关交通管理部门接受审验。但在一个记分周期内没有记分记录的，免予本记分周期审验。持有第三款规定以外准驾车型驾驶证的驾驶人，发生交通事故造成人员死亡承担同等以上责任未被吊销机动车驾驶证的，应当在本记分周期结束后三十日内到公安机关交通管理部门接受审验。年龄在 70 周岁以上的机动车驾驶人发生责任交通事故造成人员重伤或者死亡的，应当在本记分周期结束后三十日内到公安机关交通管理部门接受审验。机动车驾驶人可以在机动车驾驶证核发地或者核发地以外的地方参加审验、提交身体条件证明。

29、机动车驾驶人身体条件发生变化不适合驾驶机动车，依旧驾驶机动车的，由公安机关交通管理部门收回机动车驾驶证，还会受到什么处罚？

A、拘留驾驶人

B、吊销驾驶证

C、罚款

D、警告

正确答案：C

分析：《机动车驾驶证申领和使用规定》规定，机动车驾驶人有下列行为之一的，由公安机关交通管理部门处二百元以上五百元以下罚款：（一）机动车驾驶证被依法扣押、扣留或者暂扣期间，采用隐瞒、欺骗手段补领机动车驾驶证的；（二）机动车驾驶人身体条件发生变化不适合驾驶机动车，仍驾驶机动车的；（三）逾期不参加审验仍驾驶机动车的。有第一款第一项、第二项规定情形之一的，由公安机关交通管理部门收回机动车驾驶证。

30、这个标志是何含义？



- A、路面高突
- B、有驼峰桥
- C、路面不平
- D、路面低洼

正确答案：D

分析：一个坡是 高突，一个坑是低洼，一个凸中间有空间是驼峰桥，两个凸肯定是不平；

31、以下不属于机动车驾驶证审验内容的是什么？

- A、道路交通安全违法行为、交通事故处理情况
- B、驾驶人身体条件
- C、记满 12 分后参加学习和考试情况
- D、驾驶车辆累计行驶里程

正确答案：D

分析：机动车驾驶证审验内容：（一）道路交通安全违法行为、交通事故处理情况；（二）身体条件情况；（三）道路交通安全违法行为记分及记满 12 分后参加学习和考试情况。对交通违法行为或者交通事故未处理完毕的、身体条件不符合驾驶许可条件的、未按照规定参加学习、教育和考试的，不予通过审验。

32、驾驶机动车有拨打、接听手持电话行为的，一次记多少分？

- A、2 分
- B、3 分

C、6分

D、12分

正确答案：A

分析：驾驶机动车时有拨打、接听手持电话、观看电视等妨碍安全驾驶的行为的，一次应记2分。判断开车打电话主要依据是“手持电话”，即手离开了方向盘。在驾车过程中，一定不要接打电话，这是遵守交通法规的行为，也是避免事故的表现，更是为自己、为他人生命安全负责的一种态度和担当。

33、上路行驶的机动车未随车携带身份证的，交通警察可依法扣留机动车。

A、正确

B、错误

正确答案：B

分析：上路行驶的机动车未随车携带机动车行驶证的，交通警察可依法扣留机动车。

34、机油压力报警灯持续亮，可以变形时，边观察，等待报警灯自行熄灭

A、正确

B、错误

正确答案：B

分析：机油警报灯亮起，如果继续行驶，容易造成发动机损坏，影响行车安全。

35、持有大型客车、重型牵引挂车、城市公交车、中型客车、大型货车驾驶证的驾驶人从业单位等信息发生变化的，应当在信息变更后的多长时间内，向从业单位所在地车辆管理所备案？

A、30日

B、半年

C、60日

D、一年

正确答案：A

分析：《机动车驾驶证申领和使用规定》规定：机动车驾驶人联系电话、联系地址等信息发

生变化的,应当在信息变更后三十日内,向驾驶证核发地车辆管理所备案。持有大型客车、重型牵引挂车、城市公交车、中型客车、大型货车驾驶证的驾驶人从业单位等信息发生变化的,应当在信息变更后三十日内,向从业单位所在地车辆管理所备案。

36、路口黄灯持续闪烁,警示驾驶人要注意瞭望,确认安全通过。

A、正确

B、错误

正确答案: A

分析: 它说,持续闪烁,应该是指只有一个黄灯的路口,不是指红绿灯中的黄灯。仔细想想。

37、驾驶机动车在高速公路要按照限速标志标明的车速行驶。

A、正确

B、错误

正确答案: A

分析: 是的,否则超速的后果很严重,在高速公路上超速不足 50%的,按照以下第九十条处罚,罚款 20 到 200 元(记 3 分)超速 50% 以上的(记 6 分)处二百元以上二千元以下罚款,并处吊销机动车驾驶证。

38、机动车驾驶人在一个记分周期内累积记分满 24 分未满 36 分的,在道路交通安全法律、法规和相关知识考试合格后即可发还机动车驾驶证。

A、正确

B、错误

正确答案: B

分析: 《道路交通安全违法行为记分管理办法》第二十二条,机动车驾驶人在一个记分周期内二次累积记分满 12 分或者累积记分满 24 分未满 36 分的,应当在道路交通安全法律、法规和相关知识考试合格后,按照《机动车驾驶证申领和使用规定》第四十四条的规定预约参加道路驾驶技能考试。考试不合格的,十日后预约重新考试。

39、驾驶校车在高速公路上行驶超过规定时速未达 20% 的,对驾驶人处以 () 的处罚。

A、罚款 100 元、驾驶证记 3 分

B、罚款 200 元、驾驶证记 3 分

C、罚款 100 元、驾驶证记 6 分

D、罚款 200 元、驾驶证记 6 分

正确答案：D

分析：驾驶校车、中型以上载客载货汽车、危险物品运输车辆在高速公路、城市快速路上行驶超过规定时速未达到 20%，一次记 6 分，罚款 200 元；超过规定时速 20% 的，一次记 12 分，罚款 200 元。

40、在这种环境下通过路口如何使用灯光？



A、关闭远光灯

B、使用危险报警闪光灯

C、使用远光灯

D、交替使用远近光灯

正确答案：D

分析：路过没有路灯和信号灯的路口，应该交替使用远近光灯，提示周围的车辆，以免发生事故。

41、驾驶危险物品运输车辆的高速公路上行驶超过规定时速未达 20% 的，对驾驶人处以（ ）的处罚。

A、罚款 100 元、驾驶证记 3 分

B、罚款 200 元、驾驶证记 6 分

C、罚款 200 元、驾驶证记 3 分

D、罚款 100 元、驾驶证记 6 分

正确答案：B

分析：驾驶校车、中型以上载客载货汽车、危险物品运输车辆在高速公路、城市快速路上行驶超过规定时速未达到 20%，一次记 6 分，罚款 200 元；超过规定时速 20% 的，一次记 12 分，罚款 200 元。

42、机动车发生故障时，（如图所示）闪烁。



A、正确

B、错误

正确答案：B

分析：开启危险报警闪光灯时，该图闪烁。

43、避让特种车辆使其顺利通过后，车辆应有序回到原车道继续行驶，不要尾随特种车辆，以免发生交通事故。

A、正确

B、错误

正确答案：A

分析：司机在行驶中需要保持一定的车距，即使在拥堵的情况下也需要保持一定的车距，一是保障自身行车安全，二是万一发生险情也可以顺利变道，避让特种车辆。同时，在特种车辆顺利通过后，车辆应有序回到原位继续行驶，不要趁机抢车位甚至跟随特种车辆，以免发生交通事故。

44、驾驶机动车遇有前方交叉路口交通阻塞时怎么办？

A、依次停在路口外等候

B、可借对向车道通过

C、从前车两侧穿插通过

D、进入路口内等候

正确答案：A

分析：选择 A,如遇到的题目是堵塞不能够继续往前进或行驶车辆缓慢的都是要依次等候！！

45、车辆在通过山区道路弯道时，要做到”减速、鸣喇叭、靠右行“。

A、正确

B、错误

正确答案：A

分析：比如南方的山区道路，你那怕只走过一次，对这个做法就会深表认同，因为这个真是太重要了。

46、驾驶机动车在道路上行驶，欲变更车道时，应提前开启转向灯，在确认安全的前提下，平稳变更车道。

A、正确

B、错误

正确答案：A

分析：变更车道有一定的风险，一定要在确保安全的前提下谨慎变更。驾车机动车在道路上行驶，需要变更车道时，提前3秒打开转向灯或利用手势示意，提醒后方来车注意，通过内、外后视镜观察，并向变更车道方向回头观察后方道路交通情况，判断车辆安全距离，控制行驶速度，确认不妨碍本车道后方车辆和即将驶入车道内的其他车辆正常行驶时，安全平稳地变更车道，变更车道完毕后关闭转向灯。

47、驾驶机动车在高速公路上行驶，能见度小于200米时，车速不得超过每小时60公里。

A、正确

B、错误

正确答案：A

分析：《中华人民共和国道路交通安全法实施条例》第八十一条：机动车在高速公路上行驶，遇有雾、雨、雪、沙尘、冰雹等低能见度气象条件时，应当遵守下列规定：能见度小于200米时，开启雾灯、近光灯、示廓灯和前后位灯，车速不得超过每小时60公里，与同车道前车保持100米以上的距离。

48、驾驶人在观察后方无来车的情况下，未开转向灯就变更车道也是合理的。

A、正确

B、错误

正确答案：B

分析：没车也得开转向，基本的交通规则啊！

49、驾驶机动车距离铁路道口 50 米内禁止停放车辆。

A、正确

B、错误

正确答案：A

分析：交叉路口、铁路道口、急转弯、宽度不足 4 米的窄路、桥梁、陡坡、隧道以及距离上述地点 50 米以内的路段，不得停车；

50、假如你驾车行驶在颠簸路段时，以下做法正确的是什么？

A、稳住加速踏板

B、挂抵挡档位缓抬加速踏板

C、挂高档位缓抬加速踏板

D、挂抵挡踏满加速踏板

正确答案：B

分析：缓抬加速踏板是为了低速平稳通过颠簸路段，让车辆怠速前进；挂抵挡是为了获得更多的发动机牵引力。

51、申请机动车注册登记的，机动车所有人必须提交机动车交通事故责任强制保险凭证。

A、正确

B、错误

正确答案：A

分析：《机动车登记规定》规定，申请注册登记的，机动车所有人应当交验机动车，确认申请信息，并提交以下证明、凭证：（一）机动车所有人的身份证明；（二）购车发票等机动车来历证明；（三）机动车整车出厂合格证明或者进口机动车进口凭证；（四）机动车交通事故责任强制保险凭证；（五）车辆购置税、车船税完税证明或者免税凭证，但法律规定不属于征收范围的除外；（六）法律、行政法规规定应当在机动车注册登记时提交的其他证明、凭证。

以上内容仅为本文档的试下载部分，为可阅读页数的一半内容。如要下载或阅读全文，请访问：<https://d.book118.com/127056050201010005>