

2024年9月28日福建省事业单位统考《行政职业能力测试》笔试题

一、常识判断。根据题目要求，在四个选项中选出一个最恰当的答案。

- 1 党的二十届三中全会通过的《中共中央关于进一步全面深化改革、推进中国式现代化的决定》指出，必须更好发挥市场机制作用，创造更加公平、有活力的市场环境，实现资源配置效率最优化和效益最大化，既“（ ）”又“（ ）”，更好维护市场秩序，弥补市场失灵，畅通国民经济循环，激发全社会内生动力和创新活力。
- A、接得起，用得好 B、行得通，看得到 C、放得活，管得住 D、立得正，走得稳
- 2 围绕“携手推进现代化，共筑高水平中非命运共同体”这一主题，在中非合作论坛北京峰会开幕式上，我国宣布了未来三年对中非合作重点举措，这些举措具有前瞻性和战略性。切合非方未来发展需要，将为中非合作实现跨越式发展注入强劲动力。下列各项举措中，不恰当的是（ ）。
- A、提高中非市场互联互通水平，深化双方在物流和金融领域合作
B、兴农惠民支持非洲消除饥饿，实现粮食安全和农业可持续发展
C、支持非洲国家参与国际月球科研站计划以及中国探月探火工程
D、坚持无偿援助大于信贷资金支持原则，强力支撑中非务实合作
- 3 2024年9月，习近平总书记在甘肃兰州市主持召开全面推动黄河流域生态保护和高质量发展座谈会，强调以进一步全面深化改革为动力，开创黄河流域生态保护和高质量发展新局面。5年前习总书记就指出黄河流域生态保护和高质量发展，要尊重规律，摒弃征服水、征服自然的冲动。这表明（ ）。
- A、认识规律就能达到改造自然的目的
B、认识规律利用规律从而为人类造福
C、规律的存在和发生作用因条件的改变而改变
D、发挥主观能动性，才能避免改造自然的盲目性
- 4 中国工程院院士袁隆平及其团队经历40余年潜心研究，突破“遗传学”孟德尔的经典遗传学禁区。在经典遗传理论的基础上拓展了研究新视野，实现杂交水稻育种历史性突破，创造了双亩产1500公斤的世界记录，这主要说明了（ ）。
- A、要明确联系的条件性，充分利用有利条件
B、要找准因果关系，从现象中发现必然原因
C、要坚持辩证的否定观，对旧事物进行扬弃
D、要抓住主要矛盾，在关键环节寻找突破口
- 5 近年来，数字经济已加速向农业农村广泛渗透，为促进乡村产业振兴、构建现代化农业农村经济体系提供了全新动能与可行路径。下列各项数字经济促进乡村产业振兴的实现路径，不恰当的是（ ）。
- A、促进工业互联网、物联网在农业农村生产中的应用，推动乡村一二三产业融合发展
B、加大数字基础设施建设投入，消除城乡数字鸿沟，实现农业生产信息化率达到百分百
C、推动学界、政府部门及乡村产业间的数据流通和共享，探索多元化合作模式
D、提升数字经济与农业农村生产的衔接度，引导乡村产业向价值链中高端迈进
- 6 中国人民银行在香港成功发行两期人民币央行票据，多个国家和地区的银行、基金、保险公司等机构投资者以及国际金融组织参与认购，中标利率持续下行，投标金额总量约为票据发行金额的近3倍，对此理解正确的是（ ）。
- ①央行实施积极的财政政策，促进经济复苏
②人民币资产对境外投资者具有较强吸引力
③对促进离岸人民币市场发展具有积极作用
④保障我国金融机构有充足的外汇资金来源
- A、①② B、②③ C、③④ D、①④

- 7 中国人口数量红利的式微，意味着过去凭借低端劳动力要素发展的模式已无法延续。面对人口结构变化带来的挑战，实现可持续、高质量发展的关键在于充分挖掘和提升人力资本，不断释放人口质量红利。下列各项提升人口质量红利的措施中，难以在短经济周期内实现效果的是（ ）。
- A、鼓励技能型人才的合理流动，提升人力资本配置效率
 - B、加大教育培训方面的投资，培养高水平拔尖创新人才
 - C、推进新型城镇化建设力度，加快农业转移人口市民化
 - D、加速生育制度改革，提高人口出生率降低老龄化冲击
- 8 全国多个沿海省份编制的地方版海洋经济“十四五”规划已陆续完成发布，围绕北部、东部、南部沿海省份打造海洋经济圈，各地合力建设海洋强国的“十四五”布局雏形初显。下列各项拓展海洋经济发展空间的措施，不恰当的是（ ）。
- A、培育壮大海洋工程装备、海洋生物医药产业，推进海洋能规模化利用
 - B、优化近海绿色养殖布局，加大围湾用海规模，打造可持续海洋生态环境
 - C、加强深海战略性资源和生物多样性调查评价，深度参与全球海洋治理
 - D、充分利用沿海省份区位和产业优势，错位发展，构建现代海洋产业体系
- 9 中央政府决定实施积极的财政政策和稳健的货币政策，加大宏观调控力度，加强各类政策配合协调，形成共促高质量发展合力。
- 下列措施中属于积极财政政策的是（ ）。
- A、开征房地产税增加财政收入
 - B、确保政府发债规模维持上年水平
 - C、为纳税大户提供普惠低息贷款
 - D、提高中西部财政保费补贴比例
- 10 党的二十届三中全会通过《中共中央关于进一步全面深化改革、推进中国式现代化的决定》，对健全国家经济社会发展规划制度体系作出系统安排，明确了健全规划制度体系、强化规划衔接落实机制、加强政策协同配合的战略方向和重点举措。
- 下列关于对健全国家经济社会发展规划制度体系的理解，说法不准确的是（ ）。
- A、构建形成“发展规划—长期战略—年度计划”的规划体系
 - B、国家发展规划要与其他规划落实国家战略部署提供总遵循
 - C、强化横向协同，避免规划交叉重复、矛盾冲突或合成谬误
 - D、着力打破地区分割、协调解决跨行政区跨流域的重大问题
- 11 关于全国人民代表大会的职权，下列说法错误的是（ ）。
- A、制定《中华人民共和国民法典》
 - B、修改《公安机关办理行政案件程序规定》
 - C、决定特别行政区的设立及其制度
 - D、选举最高人民法院院长、最高人民检察院检察长、国家监察委员会主任
- 12 甲将邻居乙未上锁的电动自行车推进车棚，以自己的名义缴纳了保管费，并通知乙去车棚取车。甲的行为属于（ ）。
- A、合同行为
 - B、无权代理
 - C、无因管理
 - D、侵权行为
- 13 人民法院组成合议庭审理第一审民事案件，关于该合议庭，下列说法错误的是（ ）。
- A、合议庭的成员人数，必须是单数
 - B、合议庭评议中的不同意见，无需记入笔录
 - C、合议庭评议案件，实行少数服从多数的原则
 - D、合议庭可以由审判员、陪审员共同组成，也可以由审判员组成
- 14 商人朱某让朋友杨某用杨某的身份证信息帮他注册支付宝账号。不久，杨某因资金紧张，登录了朱某让其帮忙注册的支付宝账号，发现该账号内有17万余元，杨某陆续将该账号内资金转账至自己名下另一支付宝账号内，共转账支取朱某营业款计11万元整。某日，朱某发现支付宝账号内的营业款明显减少，随即报案。本案中（ ）。
- A、杨某取得朱某支付宝账号内的营业款，视为代为保管，不构成犯罪
 - B、杨某取得朱某支付宝账号内的营业款，属不当得利，不构成犯罪
 - C、杨某取得朱某支付宝账号内的营业款，构成侵占罪

D、杨某取得朱某支付宝账号内的营业款，构成盗窃罪

15 某省以科技研发、人才引育、数字变革等“十大创新”为抓手，把加强省属企业科技研发创新摆在首要位置，围绕产业链部署创新链、围绕创新链布局产业链，组织绘制重点产业链布局及能力图谱，列出“卡脖子”技术清单，推动省属企业破解产业发展瓶颈，实现了该省在关键核心技术方面的重大突破。该省取得成功的原因在于（ ）。

- A、扩大社会总需求，有效发挥政府优化配置资源作用
- B、强调政府在科技创新中的主体作用，弥补市场调节的自发性弊端
- C、发挥国有经济的主体作用，提高国有资产的整体质量
- D、优化“有为政府”职能，助力“有效市场”高质量发展

16 随着城镇化快速发展，“乡土中国”正加速向“流动中国”演进，“流动”成为当代社会的显著特征。人口大规模流动，带来的活力和动力成为推动我国经济高质量发展的重要因素，也对各地基本公共服务供给提出更高的要求。

下列关于提升对流动人口的基本公共服务的措施，说法不准确的是（ ）。

- A、依据常住人口规模配置教育医疗等资源
- B、把流动人口急难愁盼的事作为优先解决事项
- C、以数字治理提升流动人口异地办事的便利性
- D、推动人口流出地政府扩大基础设施的建设规模

17 从电子客票在铁路、民航领域基本实现全覆盖，到数字教育资源公共服务普惠更多师生，再到多地探索基层便民服务“一网管全城”，不知不觉间我们已一只脚踏入“数字社会”，加快数字社会建设步伐，是推动现代化发展的必然要求，是贯彻新发展理念的题中应有之义，是创造美好生活的重要手段。

下列关于促进数字社会建设的举措，说法不准确的是（ ）。

- A、坚持共建共享，放手市场和社会力量参与数字社会建设
- B、坚持统筹协调，打破区域壁垒，搭建一体化大数据平台
- C、坚持夯实基础，加快信息基础设施建设，丰富智慧化应用场景
- D、坚持安全可靠，建立健全数字社会建设的标准体系和法治体系

18 到群众中了解情况，积极回应群众呼声是基层必不可少的工作方式，也是增进与人民群众情感的重要途径。当前，一些地方存在基层干部身在基层却脱离基层的现象：有的基层干部面临着考核任务重、下乡成本高等多重客观困难，分身乏术，难以走到群众身边；有的基层干部作风、感情、能力欠缺，主观上与群众存在一定距离。

下列关于破除干群之间“玻璃门”的措施，说法不准确的是（ ）。

- A、提高基层干部与群众打交道的能力，减少本领恐慌
- B、通过加强思想教育，激扬基层干部干事创业的精气神
- C、持续深化基层减负工作，将基层干部从非必要的事务性工作中解脱出来
- D、以线上联系取代传统的进村入户，引导基层干部平衡好治理效率与治理温度之间的关系

19 “顶流”体育明星凭借优异成绩频频“出圈”，不少网友表示“这才是值得追的星”。然而，跟拍、上门直播、私信骚扰、粉丝群体互撕等侵犯运动员个人隐私、干扰运动员训练和赛事运行的不良“饭圈”行为逐渐露头，成为潜在风险。

关于体育明星“出圈”，下列说法不准确的是（ ）。

- A、运动员健康阳光的形象值得大家去追星，体育运动和体育明星需要破圈，但需警惕
- B、运动员成为“全民新偶像”，有利于体育运动和赛事的推广普及，提升其总体商业价值
- C、应禁止竞技体育领域的追星行为，必须尊重运动员个人隐私，坚决杜绝“饭圈”乱象
- D、把体育明星当成娱乐偶像，用对娱乐明星窥私的心态过度介入其日常生活，是非理性表达

20 作为医保制度建立以来国家层面发布的首个关于基金管理的规范性文件，《医疗保障基金使用监督管理条例》要求构建政府和医疗保障等行政部门的行政监管、新闻媒体舆论监督、社会监督、行业自律相结合的监督体制，并针对不同违法主体、不同违法行为分别设置了法律责任。条例的颁布（ ）。

- A、是党依法执政、创新行政监督的具体体现
- B、规范政府依法履职，做到法无授权不可为

- C、体现了政府坚持推进依法决策、科学决策
- D、旨在深化简政放权，激发社会主体的活力

二、言语理解与表达。本部分包括表达与理解两方面的内容。请根据题目要求，在四个选项中选出一个最恰当的答案。

21 依次填入横线处最恰当的是（ ）。

生活世界本身似乎是“_____”的，实际上，它却长时期被西方理性主义哲学所遮蔽，以至于现象学家们试图揭开其真实面貌的著作都让人们觉得是那样的深邃奥妙、_____。

- A、显而易见；浅显易懂
- B、扑朔迷离；浅显易懂
- C、错综复杂；晦涩难懂
- D、众所周知；晦涩难懂

22 依次填入横线处最恰当的是（ ）。

交通执法的意义在于_____道路交通安全，_____交通秩序，预防和减少交通事故，提高道路使用效率以及保护人民群众的生命财产安全。

- A、确保；维持
- B、保障；维护
- C、维护；确保
- D、维护；维持

23 填入横线处最恰当的是（ ）。

中国人口发展正面临许多严峻的问题与挑战，未来要实现人口高质量发展任重而道远。人口素质不断提高，人口健康寿命虽在延长，却遭遇“疾病扩张”风险，人口素质的提高令人_____。

- A、良莠不齐
- B、悲喜交加
- C、喜忧参半
- D、参差不齐

24 依次填入横线处最恰当的是（ ）。

在图书馆、博物馆宏伟的建筑、_____的书册和历史悠久的遗产面前，人们时常感叹自身的渺小和生命的短暂。数字技术构建的虚拟文化空间，以及空间中被高度压缩的海量知识，更会让人_____，进而反思自身的有限性。

- A、连篇累牍；眼花缭乱
- B、卷帙浩繁；目不暇接
- C、汗牛充栋；应接不暇
- D、鳞次栉比；甘之如饴

25 依次填入横线处最恰当的是（ ）。

在历史叙事中，历史事实与历史故事看起来_____，其实经常会发生认识上的_____以及实际上的交合或冲突。近年来，史学界已经注意到这个问题，但仍然不甚明晰产生这一现象的根本原因。

- A、合二为一 矛盾
- B、泾渭分明 混淆
- C、并行不悖 错觉
- D、混为一谈 偏离

26 填入横线处最恰当的是（ ）。

我们每天都需要用钱，可真正看到钱的机会却越来越少。在电子支付_____的今天，许多学者却坚持现金不可替代。我们知道，世界上最早发明使用金属货币、纸币的都是中国人，那么钱这种东西将何去何从呢？

- A、盛行
- B、流行
- C、发行
- D、通行

27 依次填入横线处最恰当的是（ ）。

在森林凋落层的枯枝落叶中，生长着一群迷人又有趣的真菌，它们中有的能发出荧光，有的能_____森林里的“垃圾”，有的能帮助兰科植物的种子萌发……它们就是小菇科的真菌，这个家族的成员十分庞大，全世界大约有940种，而且分布广泛，从寒带到热带都能看到它们的身影。但由于身材娇小，容易被观察到，这类可爱的真菌至今_____。

- A、处理；不见经传
- B、清洁；无人问津
- C、解决；无足轻重
- D、清扫；默默无闻

28 依次填入横线处最恰当的是（ ）。

和中国大部分向东奔流到海的大河不同，疏勒河从祁连山的怀抱中挣脱后，_____地向西而行，像是一位孤胆游侠，_____戈壁、沙漠，孕育了片片绿洲。在_____的西征途中，因种种原因，它曾徘徊踟蹰，甚至是节节败退，但也给沿途带来绿洲与荒漠、丰饶与枯寂的巨大变化。

- A、固执 探寻 劳乏
- B、不懈 越过 遥远

C、执着 穿过 漫长

D、坚定 访寻 累年

29 依次填入横线处最恰当的是（ ）。

营商环境是企业普遍关心的事情，而优化营商环境主要依赖于政府的努力。但也要认识到，企业发展不仅依赖于政府创造良好的营商环境，也取决于企业自身的积极努力。过去数十年的发展进程中，有的企业光芒永驻、_____，有的企业则_____、好景不长。因此，在政府不断改善或优化营商环境的同时，企业自身也要努力营造良好的创业生态。

A、历久弥新 黯然失色

B、长治久安 黯淡无光

C、长久之计 可见一斑

D、长盛不衰 昙花一现

30 依次填入横线处最恰当的是（ ）。

我国要进一步提升国家文化软实力和中华文化影响力，在文化内容建设上就必须_____中华优秀传统文化的创造性转化和创新性发展，将其融会于中国特色社会主义现代文化的_____与创造之中；在文化传播上就必须创新对外传播的理念、机制、策略、方式，加强_____和阐释，讲好中国故事，使当代中国的价值观念真正走向世界。

A、推进 构筑 提纯

B、推广 构造 提制

C、推动 构建 提炼

D、推行 构想 提取

31 家文化是体现我们民族特质和精神风貌的民族文化，是中华民族在数千年繁衍生息过程中形成和发展的家庭文化样态。中国传统文化随着生产力的进步而发展，随着家庭的生产发展而演进。因而，父祖长辈对于子孙的教育除了遵循一般的社会要求之外，还深深地打上了家庭、家族的独特烙印，并在世代延续、演进的过程中，不断沉淀累积下来，形成各具特色的家文化。

根据上述材料，下列说法错误的是（ ）。

A、家文化体现了中华民族特质和精神风貌

B、中国传统文化随着家文化的发展而发展，家文化是在世代延续中累积沉淀下来的

C、家文化是中国传统文化的基石

D、家庭教育要遵循一般的社会要求

32 很多人买雪糕都是看心情和场景，低价雪糕很难走薄利多销的路子，所以还是得挑毛利高的卖。当然，价格也并非越贵越好，高价网红雪糕虽然毛利高，但是出货量很少。所以一般经销商的策略都是，尽量多卖毛利较高，同时销量好的产品。

下列说法，不符合文意的是（ ）。

A、价格更高的网红雪糕利润更高

B、售价1元的雪糕毛利率也不低

C、批发商尽量多进毛利较高、销量好的产品

D、满足用户的不同喜好，每个价位的产品都要有

33 ①大自然神奇的画笔绘就了多彩的盛宴

②眼前，群山绵延起伏，满目都是深深浅浅、交织错落的苍翠，成片笔直的雪松、亭亭的白桦和各种灌木将道道山麓点缀得气势不凡，白云在山间随意变换着姿态

③每一道山峦都是一道靓丽的景致，每一条山沟都是一个花团锦簇的世界

④丰茂没膝的芳草像块块巨大的绿色地毯，把座座大山从头到脚包裹得严严实实

⑤通过最后一道哨卡的审查，大门徐徐拉开，神秘的夏尔希里也慢慢揭开了美丽的面纱……

将以上5个句子重新排列，语序正确的是（ ）。

A、①③②⑤④

B、⑤②③④①

C、①⑤③②④

D、⑤①③②④

34 学习的目的全在于应用。对于文艺工作者来讲，阅读的归宿是创作，阅读的成果是作品。只有紧扣创作这一中心任务，在生动的艺术实践中，把阅读书籍与阅读生活融通起来，把读懂典籍与读懂现实贯通起来，把理论知识与创作实践结合起来，以阅读提升创作之力，以作品彰显阅读之效，才能真正做到学以致用，用有所成。

最适合做这段文字标题的是（ ）。

- A、阅读的本质是学习
B、品读经典，拓展人生
C、读万千气象，涵艺坛书香
D、为学之实，固在践履

35 中国高速磁浮交通系统能实现时速500—600公里的高速率，刚好填补高速动车组和航空航天之间的速度空白，代表了高速轨道交通系统的发展方向。在绿色科技方面，中国高速磁浮交通系统的优势尤为显著。从技术原理上看，磁浮列车和轨道之间没有机械接触，无需通过机械传动结构进行力的传递和能量传导。这首先意味着磁浮列车能够更快加减速，运行更加高效快捷。其次，长距离运行期间，磁浮交通每公里能源消耗远低于汽车、飞机等，节能减排效益显著。

这段文字主要讲述了中国高速磁浮交通系统的（ ）。

A、绿色科技应用 B、智能技术发展 C、总体技术水平 D、领跑世界能力

36 赋能型政府并不是规制型政府、发展型政府的完全替代，而是整合吸收了它们的有益理论基础。在确保建立基本的市场竞争制度框架之外，赋能型政府对市场中的主体实施并非限于“规制”的影响，但相对于传统发展型政府的有偏干预，赋能型政府下的经济介入行为模式是对市场主体的企业与个人进行中立的普惠的竞争赋能，是对市场功能的完善和增进。

这段文字有可能推出的是（ ）。

A、发展型政府与传统型政府、赋能型政府相比，市场失灵不显著
B、发展型政府总体特征是对微观的、宏观的“市场失灵”施加规制和管理
C、规制型政府直接替代市场进行资源配置，加速结构变迁、促进赶超增长
D、赋能型政府能推动有效竞争，增进市场的信息发现和实现资源有效配置

37 随着生活水平的提高，人们的旅行需求愈发旺盛。每到节假日，一些知名景区总是人山人海。几乎每年的国庆假期，黄山风景区、故宫博物院、苏州博物馆、都江堰等多个热门景点门票都早早售罄，游客达最大承载量。对于部分游客来说，与其跟风去人满为患、价格飙升的热门景点走马观花式地“打卡”，不如去不那么热门的地方放松身心地悠游体验。“冷门城市”、小众目的地不会拥挤，也没有过度开发和商业化，到那里旅游也更清净、更惬意，还能体验到当地特色。这或许是越来越多的人青睐反向旅游的重要原因。

这段文字重在说明（ ）。

A、“冷门”旅游为何受追捧 B、游客更追求旅游的品质
C、非热门地旅游体验更好 D、低成本旅游性价比更高

38 改造老旧小区的民生意义是全方位的，通过更新提升小区内部及与小区联系的水、暖、气、电、网、路、消防、安防等基础设施，_____；通过打造15分钟生活圈，增建文化休闲、体育健身、社区综合服务、医疗卫生、智能感知等配套设施，以及养老、托育、家政保洁、便民市场、邮政快递末端综合服务站等社区专项服务设施，可以更全面地满足居民的物质生活和精神文化需求。这些举措，将助力老旧小区居民迈向更加美好的生活。

填入画横线处最合适的是（ ）。

A、小区的内外环境“旧貌换新颜” B、可以极大提高居民的居住质量
C、大大提升居民的幸福生活指数 D、可以让小区改造工作事半功倍

39 人体免疫机制是人体抵御病原性生物侵害和清除体内异常细胞的一种特殊防御机制。只要我们的免疫系统还在运行，就会对那些它们认为不利的物质做出一定的响应，这是机体启动的自我保护。而免疫系统所“关注”的物质可能源自体外，也可能来自人体组织细胞自身的代谢产物。从这个意义上看，个体免疫应答情况不同，造成过敏情况相差很大。过敏是个体免疫系统失衡的结果，它是否发生并不能用个体免疫力的高或低来衡量。

这段文字意在说明（ ）。

- A、人体免疫力是一种防御机制 B、个体免疫应答情况相差很大
C、过敏其实并不等于免疫力低 D、免疫系统失衡可能造成过敏

美国一位机器人专家用面部表情识别软件，让机器人教自闭症儿童学习社会行为。如果机器人检测到对话者出现了“愤怒”的表情，它就会调整动作以平息局面。对此，她说：“的确，我们都是独一无二的。但事实上，人与人之间的差异也没有那么大。因此，对于广义的情感来说，这些情感AI的判断也许不总是正确的，但并不只是碰巧对了。与随机相比，它们正确的可能性要更大。”

与这一段话观点一致的是（ ）。

- A、情感AI能够准确分析人类面部表情
 - B、面部表情在不同文化中存在很大的差异
 - C、面部表情不失为一种人类通用的情感语言
 - D、没有确凿证据证明面貌可以反映内在感受
- 41 世界上大致有两种时间观，一种是时间延展而勇往直前的“线性时间观”，另一种则是循环往复而永无休止的“轮回时间观”。有学者认为，中国时间观以线性为主、循环为辅。从古至今，中国人总在发出两种喟叹：一面是对春夏秋冬循环不已的喟叹，另一面则是对时光一去不复返的喟叹。如对春江花月夜的感叹：“江畔何人初见月？江月何年初照人？人生代代无穷已，江月年年只相似”……_____。

填入画横线部分最恰当的是（ ）。

- A、然而其实，二者是结合的
 - B、话虽如此，二者却是矛盾的
 - C、恰恰相反，中国时间观以循环为主、线性为辅
 - D、确实如此，天地永恒，万物循环，人生却不会再反复
- 42 科学家利用“中国天眼”对“斯蒂芬五重星系”及周围天区的氢原子气体进行成像观测时，发现了一个巨大原子气体系统，比我们所在的银河系大20倍。宇宙中所有天体的起源都离不开原子气体，例如星系主要的演化过程就是不断从宇宙空间吸收原子气体然后将其转化为恒星的过程。射电天文波段能够对宇宙中的原子气体进行直接观测，而“中国天眼”是当今世界上口径最大、灵敏度最高的单口径射电望远镜，它让人类具有了前所未有的极端暗弱天体探测能力，能够探测到远离星系中心的极其稀薄的弥散原子气体所发出的暗弱辐射，为研究宇宙中天体的起源打开了一个崭新的窗口。

根据该段文字，下列说法错误的是（ ）。

- A、原子气体关乎宇宙所有天体的起源演化
 - B、射电天文波段对原子气体具有探测能力
 - C、宇宙中巨大原子气体结构已被悉数发现
 - D、弥散原子气体发出的暗弱辐射能被探测
- 43 平遥古城从建城伊始，它就作为中原地带的建制城市而存在，因而充分体现了中庸思想，“合院严正，楼阁巍峨”。在城市选址、民居院落、城市景观方面，它又体现出“山环水绕，自然形胜”等思想。

下列最能准确概括平遥古城特点的是（ ）。

- A、人与自然融为一体
 - B、城市建设与儒家哲学思想密切相关
 - C、“礼制中庸”的建城思想和“天人合一”的人居理念的配合
 - D、中国人对社会秩序的追求，反映在对空间“秩序感”的追求上
- 44 从生活到就业，从无障碍设施建设到康复服务体系健全，残疾人作为社会平等成员的需求正在“被看见”。但与此同时，在谈及享受文化产品，尤其是电影这样的视觉艺术时，_____。近年来，许多公益组织和文化机构就这一需求推出了无障碍电影服务，通过旁白的补充，将电影的情节和镜头语言传递给观众，让视障人士可以通过声音感受电影中的光影流动。健全人能看到的，盲人也要同等享受到，这应当成为全社会的共识。基于此，无障碍观影像现在这样仅仅停留在“可触达”的层面还远远不够。

填入画横线部分最恰当的是（ ）。

- A、无障碍电影可以嵌入电影生产链条
- B、视障群体仍在被严重地“边缘化”
- C、我国无障碍电影的主要生产者仍然是公益组织或是志愿团体
- D、残疾人事业是一项系统性工程，盲人无障碍观影亦是如此

- 45 这些年，文化改革发展的思路和做法具有前瞻性，有些方面甚至在引领潮流，文化数字化就是一例。国家文化专网的形成和发展，催生了一系列文化新形态、新业态、新业务、新模式，宣传文化事业发展呈现生机勃勃、焕然一新的景象。

根据这段文字，接下来最可能讲述的是（ ）。

- A、文化数字化：从建设工程上升到国家战略
 - B、十年磨一剑：我国文化数字化建设工程扎实推进
 - C、万丈高楼平地起：实施国家文化数字化战略必须从基础做起
 - D、一花引来万花开：国家文化专网的形成和发展，催生一系列文化新形态
- 46 凡事有度，过犹不及，过满则亏，过度便焦。“60分妈妈”，是一个有意义的界定。心理学家提醒，父母对于子女的爱，应该是一个从100分渐渐变成60分的过程。在孩子刚出生时，父母应当全心全意照料孩子，过了那个时段，父母就不妨一点一点淡出孩子的生活，回到自己的世界。

根据以上文段，好父母应该（ ）。

- A、给孩子全部的爱，为孩子努力做到事事100分
 - B、在孩子长大后以自我为中心，回归自己的世界
 - C、在孩子需要时全力支持，并给予他们探索自己人生的自由
 - D、从小紧抓孩子学业，绝不能让孩子输在起跑线上
- 47 含糖饮料的消费被认为是可引发死亡最大行为风险因素之一。因摄入含糖饮料而导致的疾病负担显著增加。当人们普遍关注饮料、食品含糖时，有些商家打出“无蔗糖”概念误导消费者，实际情况是“无蔗糖”不等于“无糖”，此举还可能因此引发消费放松警惕，更加过量消费含糖食品。以网售的一款粽子产品写明“0蔗糖”为例，有些消费者看到这个标签理解为这款产品不含糖，大快朵颐时没有任何心理负担。实际上，制作粽子的主要原料是糯米，100克的糯米含糖量达到了15%。糯米中还含有丰富的淀粉，淀粉进入人体之后会转化成糖类，升糖指数也非常高。

这段文字意在强调（ ）。

- A、有些食品含糖却容易被忽略
 - B、“无蔗糖”不等于100%不含糖
 - C、“无蔗糖”概念迷惑不少消费者
 - D、含糖饮料是引发死亡的风险因素
- 48 人类社会自然是离不开水的，定居社会姑且不论，哪怕是亚洲内陆的游牧民族，他们的日常生活也是“逐水草而居”，比如一统草原的成吉思汗，他的起家之处也是“斡难河源”。并非巧合的是，旧大陆上的“四大文明古国”也与当地的伟大河流密不可分。古埃及文明被称为“尼罗河的赠礼”当然是一个突出的例子。两河流域、印度河流域与黄河-长江流域同样也是古代文明的摇篮。河流提供了水资源和交通方式，使早期人类的繁衍与交流成为可能。在文明发展后，又推动了农业、工业、贸易进程，提供新型能源，为社会的繁荣提供了动力。

这段文字主要论述的是（ ）

- A、水源与民族的关系
 - B、水源与国家的关系
 - C、河流与生活的关系
 - D、河流与文明的关系
- 49 考虑到平台已经参与到商品产销的全交易流程管理过程中，其在运营自营业务时必须慎之又慎，时刻突出一个“优”字，用优选的商品和优质的服务来让用户满意，增加用户黏性。自营电商经营给电商平台的日常业务提出了更高的要求，需构建以用户体验为中心的服务模式，并在提升商品质量、完善供应链、健全物流网络等方面下功夫，以数字化带动商品流通链条的转型升级。自营模式之下，电商平台需联动并整合多方优质资源来服务用户，这不仅培养了用户对平台的品牌认知，还将促进中国电子商务行业服务质量的整体提升。

这段文字主要强调（ ）。

- A、提升用户体验是自营电商的业务重点
- B、平台应在全交易流程中多方面下功夫
- C、电商平台通过数字化进一步转型升级
- D、自营电商模式要提升供应链整体效能

最新研究表明，烹饪排放物中所含的脂肪酸非常稳定，不易在大气中分解。这意味着，当它们遇到固体表面时，比如窗户玻璃，会随着时间推移逐渐形成一层自组织薄膜，并且只有在大气中其他化学物质的作用下才会非常缓慢地分解。在这个过程中，薄膜会变得粗糙，并从空气中吸收更多水分。此外，有毒的污染物会被包裹在这层坚固的外壳下，从而避免在大气中分解。研究人员说：“这些薄膜中的脂肪酸本身并不特别有害，但由于它们无法被分解，因此能够有效保护可能被困在下面的任何其他污染物。”

根据这段文字，下列说法正确的是（ ）。

- A、固体脂肪酸有毒且藏污纳垢
B、脏窗户可能隐藏有毒污染物
C、脂肪酸会主动保护有毒物质
D、烹饪排放物会形成有害薄膜
- 51 在一项最新研究中，研究人员预测，有近500种鸟类，其中大多数栖息在热带地区，由于独特和美丽的颜色，未来面临着被交易的风险。研究者说：“审美价值是人们评价自然界的一个重要组成部分。然而，当一些人保护某些物种的动机与另一些人想拥有它们的动机相同时，就可能发生冲突。鸣禽在宠物交易中非常受欢迎，尤其是它们优美的歌声。而且，很多鸣禽非常鲜艳——这是其他常见交易物种的重要特征，比如鹦鹉。”

这项研究主要探索了（ ）。

- A、审美价值与灭绝风险成正比
B、物种交易与灭绝风险成反比
C、审美价值与生物保护的矛盾
D、生物保护与宠物交易的统一
- 52 每个人心中都有一处只属于自己的秘密花园，无论彼此的心有多近，总有一些角落是人们不愿意让他人涉足其中的。这既是为了保护自己的隐私，更是为了能维持与他人正常的亲密往来。因此，“自我暴露”并非越多越好，需要严格把握其中的分寸与技巧。在心底对人际交往的对象进行客观评估，拿捏好自己应该向其袒露哪一级秘密。恰如其分地“自我暴露”才能催化友情的升温，反之则不利于人际关系的建立。

根据这段文字，下列说法正确的是（ ）。

- A、敞开心扉需要适度
B、自我暴露越少越好
C、吐露心声越多越亲
D、分享秘密越多越好
- 53 看展式社交，即通过看展等活动联络友谊、结交新的朋友，其基础是兴趣。年轻人之所以推崇看展式社交，除了审美需求外，还在于其自带的纯粹性。这种社交方式少了许多繁琐的步骤，摒弃了更多社交上的功利性，只有饱含欣赏与敬佩的思想相互交融，寻求的是一种精神上的共鸣。结伴而行的年轻人通过相互探讨，互相分享，寻找到契合的朋友，挖掘出文化魅力更加多彩的一面。

对上述内容理解不正确的是（ ）。

- A、看展式社交因其纯粹，引来更多年轻人“种草”
B、看展式社交摆脱了社交的功利性，结交的是同道之人
C、看展式社交让年轻人收获了友谊，也得到了文化熏陶
D、看展式社交给当下的文化艺术场所提出了更高的要求
- 54 在我国，“隐身”文物不在少数，尤其是古建富集之地，究其原因，不外“人”“财”二字。基层文物经费捉襟见肘，再加上基层文保单位人员紧张，就能理解为何有些基层文物处于“隐身”状态。文保讲究科学，需要时间、技术、人力、财力，很难一蹴而就。在现有条件下更好地保护文物，还需要充分调动民间力量，全民护宝。高手在民间，广大志愿者是一支不可或缺的民间力量。从守护长城近20年的“长城小站”志愿者团队，到发现圆融寺的高中老师，不论专业知识还是对文物的一腔热忱，都能在一定程度上弥补文保员的不足。

最适合做这段文字标题的是（ ）。

- A、基层文物保护工作面临困境
B、充分调动社会力量保护文物
C、全民参与探索文物保护新模式
D、让文物在百姓生活中“活”起来
- 55 从当前看，我国经济运行面临一些突出矛盾和问题，市场主体特别是中小微企业、个体工商户生产经营困难依然较多，唯有加大力度打造更好营商环境，才能帮助市场主体解难题、渡难关、复元气、增活力，加力巩固经济恢复发展基础。从长远看，中国经济转向高质量发展阶段，传统的劳动力、土地

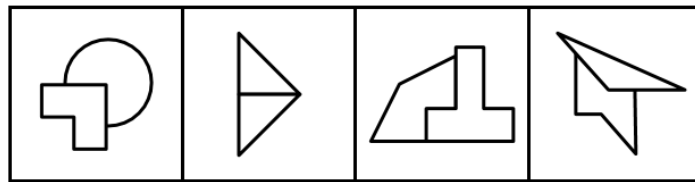
等生产要素的比较优势正在逐渐减弱，制度供给成为重要的核心竞争力，良好的营商环境对于孕育更多新动能、激发更多新活力具有重要催化作用。

这段文字主要讲述（ ）。

- A、营商环境的挑战 B、营商环境的构建 C、营商环境的优势 D、营商环境的作用

三、判断推理。本部分包括图形推理、定义判断、类比推理和逻辑判断四种类型的试题，在四个选项中选出一个最恰当的答案。

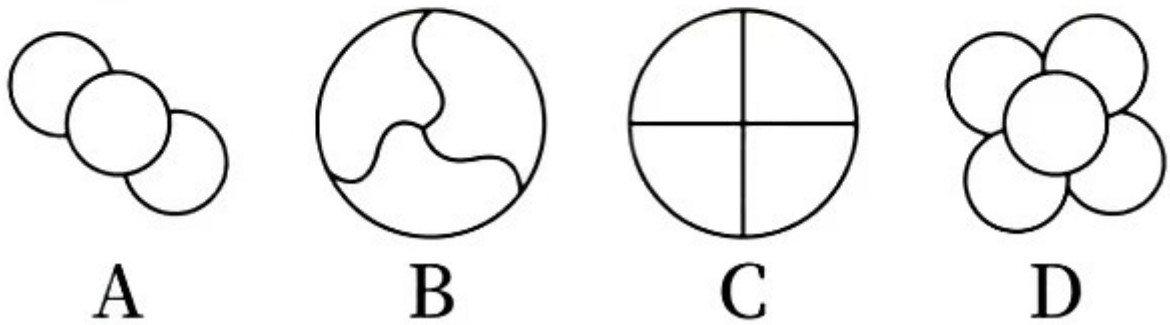
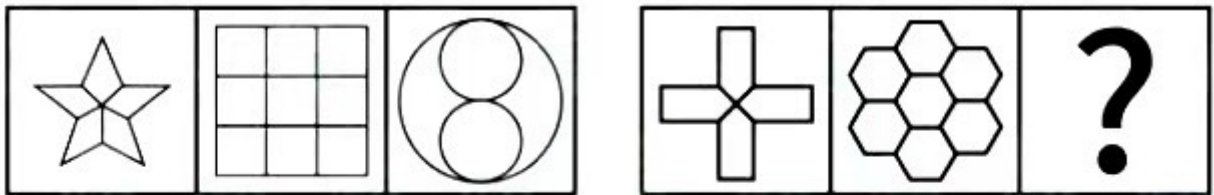
56 填入问号处最恰当的是（ ）。



- A B C D

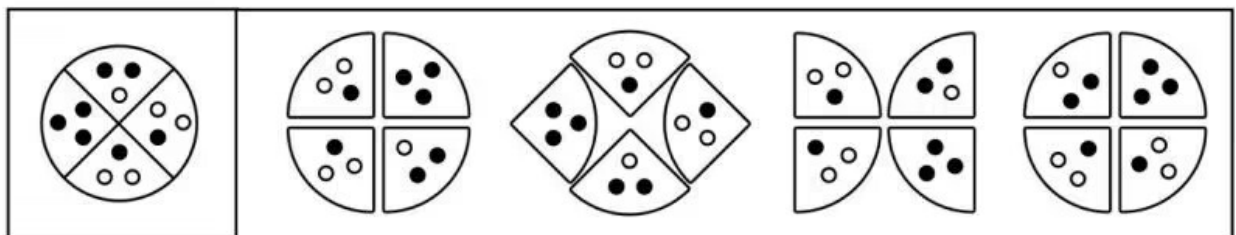
- A、A B、B C、C D、D

57 填入问号处最恰当的是（ ）。



- A、A B、B C、C D、D

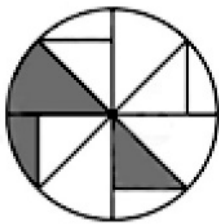

58 下列选项中，有一个图形与其他三个不同的是？（ ）



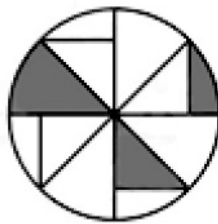
- A B C D

- A、A B、B C、C D、D

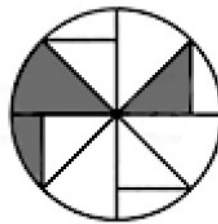
59 填入问号处最恰当的是 ()。



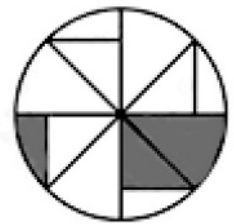
A



B



C



D

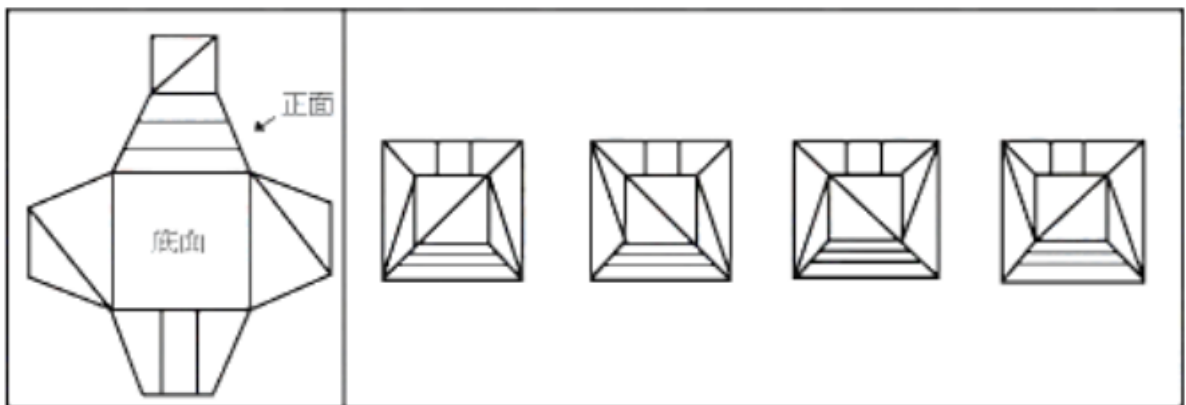
A、A

B、B

C、C

D、D

60 根据给定的纸盒外表面展开图，由其折叠而成的纸盒的俯视图是 ()。



A

B

C

D

A、A

B、B

C、C

D、D

61 秦时明月—汉时关

A、东边日出—西边雨

B、老骥伏枥—志千里

C、将军白发—征夫泪

D、春江水暖—鸭先知

62 () 对于容貌相当于蒲柳之姿对于 ()。

- A、面黄肌瘦；体型 B、明眸皓齿；风姿 C、鹤发童颜；姿态 D、眉清目秀；体质
- 63 桑梓之于（ ）相当于（ ）之于学生。
- A、高堂；青衿 B、国家；老师 C、故乡；桃李 D、松柏；蜜蜂
- 64 落红不是无情物—化作春泥更护花
- A、欲使文章追古韵—须将时事谱新风 B、坐地日行八万里—巡天遥看一千河
C、不畏浮云遮望眼—只缘身在最高层 D、草萤有耀终非火—荷露虽团岂是珠
- 65 得道多助—失道寡助
- A、见微知著—防微杜渐 B、生于忧患—死于安乐
C、合抱之木—生于毫末 D、青青子衿—悠悠我心
- 66 风起春灯乱：江鸣夜雨悬
- A、竹喧归浣女：莲动下渔舟 B、水净楼阴直：山昏塞日斜
C、意欲捕鸣蝉：忽然闭口立 D、荡胸生层云：决眦入归鸟
- 67 刘邦—项羽
- A、薛宝钗—林黛玉 B、陈胜—吴广 C、诸葛亮—周瑜 D、朱元璋—陈友谅
- 68 排兵：布阵
- A、魂牵：梦萦 B、抽丝：剥茧 C、谈笑：封侯 D、捐躯：报国
- 69 陶瓷：陶器
- A、楼房：楼阁 B、鞭炮：爆竹 C、文秘：文书 D、树木：树种
- 70 稻蝗—蝗虫—止咳平喘
- A、绿茶—茶叶—健脾养胃 B、蔷薇—玫瑰—美容养颜
C、花鲈—鲈鱼—祛湿止痒 D、垂柳—柳树—清热解毒

71 人脉定律：人脉是指人与人之间在社会交往中形成的，有特定基础的感情、资源、信息、身份等方面的人际关联，人脉类似传统说法中的“关系”。但这个关联的基础是你的实力，包括你自身的地位、财富、学识以及其他各方面的因素。认识不等同人脉，只有能帮助且愿意帮助你的人才是你的人脉。因此，人脉定律指一个没有实力的人，在名利场上是没有利用价值的人，自然不会有拓展、维持人脉的能力。

根据上述定义，下列说法符合人脉定律的是（ ）。

- A、某甲在办事遇到困难时，发现经办主管是自己的小学同学，但这位同学却因见某甲生活落魄而称不认识
- B、某乙自幼数学天赋极高，在攻读博士学位期间就在国际权威专业刊物上发表了3篇论文，因此收到国内两所大学的高端人才引进意向
- C、某丙是公司一个部门的普通职员，因无意中救助了公司董事长受伤的老母亲，被破格提拔为公司的中层主管
- D、某丁热衷网络平台交友，经过多年“努力”，他的通讯录已经积累将近2000名当地知名成功人士的电话号码
- 72 手表定律，是指拥有2块及以上的手表并不能帮助人更准确的判断时间，反而会让看表的人失去对时间的判断。手表定律表明，对于1个团队而言，不能同时选择2种及以上不同的价值观，不能同时由2个及以上的上级直接指挥，不能对一个事项同时采用2种及以上不同的管理方法。

根据上述定义，下列不能体现手表定律的是（ ）。

- A、拿破仑说：宁愿要一个平庸的将军带领一支军队，也不要两个天才同时领导一支军队
- B、甲企业强调决策迅速，乙企业强调稳健发展。甲、乙企业合并后并没有很好地解决以上两种不同管理模式的冲突，最终导致“双输”
- C、某企业采取“微笑”管理方式，提升员工的归属感；同时采用末位淘汰制，规定业绩最差者将被辞退
- D、对于同一产品合格率低于80%的情况，A制度、B制度分别规定200元、50元两种不同的罚款标准，让制度执行者无所适从

73 隐性功能，是指一种不自觉、非刻意呈现的功能，它代表一个机制的隐藏目的。通常情况下，隐性功能是伴随显性功能出现的非预期功能。

根据上述定义，下列说法不属于隐性功能的是（ ）。

- A、无心插柳柳成荫
- B、种瓜得瓜种豆得豆
- C、捞虾时碰巧网到了一条大鱼
- D、虽未追求财富，但张三在取得丰硕科研成果的同时，也实现了财富自由

74 民事法律行为，是指民事主体通过意思表示设立、变更、终止民事法律关系的行为，其核心特征是法律根据当事人表达的意思来赋予法律效力，也就成为当事人获取权利、承担义务的根据。民事法律行为可以基于双方或者多方的意思表示一致成立，也可以基于单方的意思表示成立。

根据上述定义，下列不属于民事法律行为的是（ ）。

- A、赵某不慎将自家小狗丢失，发布悬赏广告
- B、刘某在出国之前把爱狗委托给宠物店照料
- C、小区业主委员会做出更换物业公司的决定
- D、村民老王在自家宅基地上建造了两层楼房

75 品牌全景体验，是指企业通过打造“体验生态系统”，利用数字化手段，让抽象的品牌具象化、沉浸化和泛场景化，以更加丰富的形式多维化表达自己，积极主动地接触用户并深度嵌入他们的生活，让用户在全方位多场景接触品牌中形成独特感受和体验。

根据上述定义，下列属于品牌全景体验的是（ ）。

- A、某品牌手机生产商，在城市商业中心开设专卖店，为潜在购买者打造一种零距离接触的消费场景
- B、某家具生产商，在市区开设线下VR体验店，帮助顾客选购合适的家具，并在购买前对其进行虚拟测试
- C、某市农业管理部门组织农产品生产者到省会城市展销，开展试吃品尝等体验活动
- D、某房地产开发公司打造样板房，组织客户参观，给购房者一个身临其境的

76 紧急避险，是指为了国家、公共利益、本人或者他人的人身、财产和其他权利免受正在发生的危险，不得已采取的损害除本人和不法侵害人以外的第三人合法利益的行为。紧急避险所造成的损害一般应小于所避免的损害。

根据上述定义，下列不属于紧急避险的是（ ）。

- A、工地失火，林某认为火势可能蔓延至距工地20米左右的自家仓库，便指挥工人拆除了该仓库
- B、张某烧荒开垦土地，不慎引燃了邻居赵某的树苗，为阻止火势蔓延烧毁整片山林，张某急忙将火场周边果树砍除，开辟出防火带，造成赵某数万元经济损失
- C、持续多日的强降雨造成某水库水位迅速上涨，威胁水库大坝及下游人民生命财产安全，该县应急指挥部急令水库行洪放水，造成下游多家养鱼专业户大量鱼苗冲走流失，经济损失惨重
- D、公安干警陈某驾驶警车追捕嫌犯，在正常拐弯时突然发现钱某骑着电动车违章迎面驶来，陈某急忙避让，将路边汽车撞坏

77 开放体系，是指个人的社会位置受其个人因素的影响，鼓励社会成员的竞争。就个人而言，他不可能永久或长期地占据或被固定在某一种社会位置，职业与地位的变化既可以发生横向流动，也可以发生纵向流动。

根据上述定义，下列现象体现开放体系的是（ ）。

- A、诸君莫叹贫，富贵不由人
- B、世胄蹶高位，英俊沉下僚
- C、簪缨门阀好，诗礼家声肃
- D、朝为田舍郎，暮登天子堂

78 不当得利，是指没有法律根据，得利人获得了利益，使他人受到损失。不当得利没有法律根据，因此虽属既成事实也不能受到法律的保护，受损失的人可以请求得利人返还取得的利益，以实现当事人之间的利益均衡。不当得利引起的债完全是基于法律规定，而不是基于当事人的意思。

根据上述定义，下列情形不构成不当得利的是（ ）。

- A、李四向张三借款1万元，张三不小心把钱转到了王五的账户上
- B、小明看到路边的流浪汉可怜，就把自己的50元零花钱给了他
- C、张某乘网约车时不慎将一部高端品牌手机遗忘在车上，司机林某捡到后将其带回家中给家人使用
- D、王某依照合同约定向钱某预付了10万元货款，钱某收款后因地震灾害无法履约，却拒不返还预付款项

79 角色效应，是指当一个人处于某种角色或角色发生改变时，引起心理或行为、态度变化的现象。每一次角色的转变，都决定了一个人会用什么样的心理、行为、情绪、语言，甚至服装来面对他人，同时意味着其享有某一角色所赋予的权利、义务、责任和期待。

根据上述定义，下列行为不属于角色效应的是（ ）。

- A、小红考上清华大学后，感受到了身边同龄人的竞争压力，经常学习到很晚
- B、老王退休后为丰富晚年生活开始学习摄影
- C、小光学习刻苦，同学们觉得他将来考上名牌大学机率很大
- D、王某加入中国共产党成为一名党员后，严于律己，从不做违法乱纪的事情

80 代理，是我们日常生活中常见的一种法律行为，它指的是代理人在代理权限内，以被代理人的名义实施的民事法律行为，其法律效果由被代理人承受。表见代理，是指行为人没有代理权、超越代理权或者代理权终止后，仍然实施代理行为，如果相对人有理由相信行为人是具有代理权的，那么该代理行为有效，其法律后果仍然由被代理人承受。

根据上述定义，下列不属于表见代理的是（ ）。

- A、晓东原是长江公司的经理，辞职后仍用盖有长江公司公章的空白合同书，与万海公司签订合同
- B、万海公司委托李大江销售产品，并出具未载明授权期限的授权委托书一份。双方委托关系终止后，李大江仍然持该委托书与大唐公司商议买卖事宜
- C、原在大唐公司工作的职员小冬，在离职后伪造大唐公司公章，与齐昌公司签订了一份融资租赁合同
- D、齐昌公司的章程规定经理对外不得处理超过3000万元的业务，超额的业务应由董事会决定。但经理拿着公司未载明授权限额的授权委托书，擅自与宏图公司签订了标的额为1亿元的买卖合同

81 如果“所有被检测的西瓜中，不可能有些西瓜甜度没有达标”为假，下列哪项结论一定为真？（ ）

- A、有些西瓜甜度可能达标
- B、必然所有西瓜甜度都达标
- C、有些西瓜甜度可能没有达标
- D、有些西瓜甜度可能达标，有些西瓜甜度可能没有达标

82 在薰衣草的花、叶和茎上的绒毛中，都藏着密密麻麻的油腺，只要轻轻碰触，这些油腺就会立即破裂，分泌出大量好闻的芳香油。因为这些芳香物质可以降低高血压、安抚心悸，对缓解失眠很有帮助，所以在诸多欧洲和北非国家，薰衣草被广泛应用于民族医药领域。

下列哪项如果为真，最能削弱上述论证？（ ）

- A、因具有松弛神经、缓解焦虑、消除胃胀等众多益处，薰衣草茶特别适合上班族饮用
- B、治疗失眠，除了有薰衣草芳香陪伴之外，环境的光线、声音等也起到重要作用
- C、薰衣草富含芳香物质，是提炼、制作芳香精油的绝佳材料
- D、薰衣草除了具有熏香价值之外，还有观赏价值、食用价值

83 某足球小组赛开赛在即，谈及甲、乙、丙、丁四支足球队哪一支会出线，张三、李四、王五、赵六分别作了如下预测：

张三说：“如果甲队出线，那么乙队或丙队会出线。”

李四说：“如果甲队不出线，丁队肯定会出线。”

王五说：“甲队一定会出线，而乙队和丙队都不会出线。”

赵六说：“如果乙队不出线，那么丙队和丁队也都不会出线。”

比赛结果证实只有一人的预测是对的。据此，可以推出出线的足球队是（ ）。

A、甲 B、乙 C、丙 D、丁

84 入冬以来，部分地区雾霾现象较为严重，空气中弥漫着大量的有毒颗粒物。某调查分析显示，持续接触高浓度的污染物将直接导致15%至20%的人患上呼吸系统疾病。专家由此认为，如果不及时采取相关措施改善空气质量，这些疾病的发病率及并发症将会增加。

下列哪项如果为真，最能支持上述专家观点？（ ）。

- A、由于改善空气质量需要时间，短期内见效甚微，因此许多人不得不在污染的环境中工作
- B、长期吸入有毒颗粒物会引起气管炎，罹患尘肺病的风险将大大增加
- C、在重度污染的环境下，戴口罩有助于预防呼吸系统疾病的发生
- D、在上述调查中，患上呼吸系统疾病的男性占比为70%，其年龄段主要分布在20~35岁之间

85 我国北方地区冬天的平均气温较南方要低很多，因此大家普遍认为，北方人有着较强的耐寒能力。然而奇怪的是，北方人并不像大家想象中的那么耐寒，很多北方人到南方过冬，都难以忍受南方寒冷的天气，怕冷程度甚至超过了南方当地人。

下列哪项如果为真，最能解释上述现象？（ ）。

- A、南方地区虽然平均气温比北方高，但也存在极端低温天气
- B、南方地区湿度较大，因此让人感受到的寒冷程度远远超出了实际的温度
- C、北方人初到南方过冬，会有一个适应过程
- D、一些北方人认为南方比较暖和，因此他们到南方过冬时往往保暖工作做得不够到位

86 近几年的调研发现，我省30到45岁的人群中，高血压、心脏病、糖尿病的患者越来越多，原来罹患这些病的都是老年人居多。因此，专家认为我省年轻人中“老年病”发病率有增加趋势。

下列哪项如果为真，最能削弱专家的观点？（ ）

- A、由于我省的医疗保障水平提高了，与以往相比，我省民众更加关注自己的身体健康
- B、尽管高血压、心脏病、糖尿病等都是常见的“老年病”，但是老年人患的病也未必都是老年病
- C、近年来，由于大量外来人口迁入，导致我省45岁以下的人口占比急剧增加
- D、近年来，尽管我省人口的老龄化较为严重，但健康老人的比重也在不断增加

87 某证券公司在对该公司股民持仓品种的调查中发现，大部分经验丰富的股民都买了小盘绩优股，而所有年轻的股民都选择了大盘蓝筹股，但所有购买小盘绩优股的股民都没有买大盘蓝筹股。

如果上述情况为真，则下列哪项关于该证券公司股民调查结果的描述也一定成立？（ ）

- I.有些年轻的股民是经验丰富的股民
- II.有些经验丰富的股民没买大盘蓝筹股
- III.年轻的股民都没买小盘绩优股

- A、只有II B、I和II和III C、只有I D、II和III

88 就像人上了年纪会难以集中注意力，蜘蛛也有类似的情况。年轻蜘蛛结的网整齐均匀、角度完美，年老蜘蛛结的网可能出现缺口，形状怪异，蜘蛛越老，结的网就越没有章法。由此，科学家认为，随着时间的流逝，蜘蛛的大脑也会像人脑一样退化。

下列哪项如果为真，最能质疑科学家的上述论证？（ ）

- A、较之年轻蜘蛛，年老蜘蛛的大脑容量明显偏小
- B、形状怪异的蜘蛛网较之整齐均匀的蜘蛛网，其功能上没有太大区别
- C、蜘蛛结网只是一种本能行为，并不受大脑控制
- D、运动器官的老化会导致年老蜘蛛结网能力的下降

89 某社区推出文化惠民新举措，计划在“十一”黄金周七天（周一至周日）举办露天电影放映活动。每天放映2部，共有5部科幻片、3部警匪片、3部武侠片、2部战争片和1部爱情片可供放映。已知：

- (1) 除了2部科幻片安排在周四外，其余六天每天放映的2部电影都属于不同类别
- (2) 爱情片安排在周日
- (3) 科幻片和武侠片没有安排在同一天

(4) 警匪片和战争片没有安排在同一天

根据以上要求, 下列哪项中的两部电影不可能安排在同一天放映? ()

- A、警匪片和爱情片 B、科幻片和警匪片 C、武侠片和战争片 D、武侠片和警匪片

90 花粉过敏是身体免疫系统对外来物质做出的过度反应, 某研究团队对八项流行病学调查结果进行的综合分析显示, 花粉过敏者和非过敏者相比, 前者患癌概率是后者的57%, 这是以北美、欧洲和澳大利亚1万多人为对象进行的调查, 结论可信度高。由此专家推断, 花粉过敏会降低患癌风险。

上述推论基于下列哪项假设? ()

- A、令人讨厌的花粉过敏并不是对人体都有害
B、各个地区都有相同类别的花粉过敏案例
C、癌症产生与基因“老化、退化”、免疫系统衰退不是正向相关
D、过度免疫反应使得消灭癌细胞的免疫监视功能得到增强

四、数量关系。在这部分试题中, 每道题呈现一段表述数字关系的文字, 要求你迅速、准确地计算出答案。

91 三个两位数__4、7__、39的平均数为57, 则横线上的数字分别为多少? ()

- A、3, 6 B、4, 7 C、7, 9 D、5, 8

92 平面上有5个点, 问这5个点至多可以连接成多少个不同的三角形? ()

- A、8 B、10 C、15 D、20

93 有个平行四边形, 相邻两条边的边长分别为12和8, 若高是10, 则这个平行四边形的面积是多少? ()

- A、120 B、60 C、80 D、40

94 某次数学竞赛获奖情况如下: 所有参赛者中, 一、二、三等奖的占比分别为 $\frac{1}{6}$ 、 $\frac{1}{3}$ 、 $\frac{2}{7}$, 其余的均未获奖。已知本次竞赛参赛人员不应超过50人, 那么有多少人未获奖? ()

- A、9 B、10 C、11 D、12

95 某班有少先队员35人, 男生23人, 问这个班女少先队员比男的非少先队员多多少人? ()

- A、12 B、13 C、23 D、35

96 小李以标价的九折买下一幅名画, 此后每年支付买入价格的4%用于此画的保养。五年后他卖掉了这幅画, 所获利润正好是原标价的30%, 那么他出售此画的价格是原标价的多少倍? ()

- A、1.36 B、1.38 C、1.46 D、1.50

97 某班学生中, 有45人会骑自行车, 39人会打乒乓球, 37人会打羽毛球, 38人会游泳, 要保证这个班级至少有5人这四项运动都会, 那么该班至多有多少人? ()

- A、45 B、50 C、51 D、52

98 一艘船在两港间往返航行, 去是顺水, 回是逆水, 均为匀速航行。设该船顺水与逆水的航速之比为5:3, 那么它在两港间往返一次的平均航速与顺水航速之比为多少? ()

- A、3:4 B、4:5 C、5:6 D、2:3

99 在周长为2000米的环形跑道上, 甲、乙、丙从同一起点同时出发跑步。甲顺时针匀速跑, 乙、丙逆时针匀速跑。甲第一次与乙相遇后过了1.25分钟与丙相遇, 又过了3.75分钟再次与乙相遇。若甲、乙速度之比为3:2, 则丙每分钟跑多少米? ()

- A、300 B、240 C、160 D、80

100 如果将一个数的数字倒排后所得到的数仍是这个数, 则称这个数为对称数。例如: 22、565、1991都是对称数。问在10到1000之间共有多少个对称数? ()

- A、90 B、99 C、100 D、109

五、资料分析。所给出的图、表、文字或综合性资料均有若干个问题要你回答。你应根据资料提供的信息进行分析、比较、计算和判断处理。

类型	拆解量万台（套）	占比	占比同比增长（%）
废电视机	4355.2	51.7	-0.8
废电冰箱	1084.5	12.9	1.5
废洗衣机	1582	18.8	1
废房间空调器	624.9	7.4	1.2
废微型计算机	770.4	9.2	-2.9

106 2019年，29个省（自治区、直辖市）废弃电子电器产品拆解量占年处理能力的比重约为（ ）。

- A、47.4% B、52.6% C、59.8% D、86.2%

107 2019年废电视机拆解量同比增加了约多少万台？（ ）

- A、100 B、120 C、140 D、160

108 2018年五大类废电子电器产品按拆解量从高到低依次为（ ）。

- A、废电视机、废洗衣机、废电冰箱、废微型计算机、废房间空调器
 B、废电视机、废洗衣机、废微型计算机、废电冰箱、废房间空调器
 C、废电视机、废微型计算机、废洗衣机、废电冰箱、废房间空调器
 D、废电视机、废微型计算机、废电冰箱、废洗衣机、废房间空调器

109 与上年同期相比，2019年五大类废电子电器产品中拆解量负增长的类别个数为（ ）。

- A、1 B、2 C、3 D、4

110 关于2019年废弃电子电器产品处理情况，下列说法与资料相符的是（ ）。

- A、由上市公司、集团公司、电子电器产品生产者建立的处理企业的处理能力均高于剩余49家
 B、超过90%的处理企业实际开展了废弃电子电器产品拆解处理活动
 C、拆解量最大的五个省份的废弃电子电器产品拆解处理总量约为3215.3万台（套）
 D、与上年同期相比，五大类废电子电器产品中废洗衣机拆解量的增长速度最快

2024年9月28日福建省事业单位统考《行政职业能力测试》笔试试题(网友回忆版) (解析)

1 本题考查时政真题。

2024年7月15日至18日，中国共产党第二十届中央委员会第三次全体会议在北京举行。会议指出，高水平社会主义市场经济体制是中国式现代化的重要保障。必须更好发挥市场机制作用，创造更加公平、更有活力的市场环境，实现资源配置效率最优化和效益最大化，既“放得活”又“管得住”，更好维护市场秩序、弥补市场失灵，畅通国民经济循环，激发全社会内生动力和创新活力。

故正确答案为C。

2 本题考查时政真题。

2024年9月5日，国家主席习近平在北京人民大会堂出席中非合作论坛北京峰会开幕式并发表主旨讲话。讲话强调，中方愿同非方在未来三年实施“中非携手推进现代化十大伙伴行动”，涵盖文明互鉴、贸易繁荣、产业链合作、互联互通、发展合作、卫生健康、兴农惠民、人文交流、绿色发展、安全共筑十大领域。

A项正确，互联互通伙伴行动。中方愿在非洲实施30个基础设施联通项目，携手推进高质量共建“一带一路”，打造陆海联动、协同发展的中非互联互通网络。为非洲大陆自由贸易区建设提供帮助，深化物流和金融合作，助力非洲跨区域发展。

B项正确，兴农惠民伙伴行动。支持非洲消除饥饿、实现粮食安全和农业可持续发展，打造中非农业现代化合作网络，援建或升级10个农业技术示范中心，建设不少于10万亩中国农业标准化海外示范区，向非洲国家提供10亿元人民币紧急粮食援助。

C项正确，绿色发展伙伴行动。支持非洲提高气候适应能力，提供新能源技术和产品……设立中非和平利用核技术论坛，与非洲国家共建30个联合实验室，建设中非卫星遥感应用合作中心非洲中心，开展海洋空间规划合作，支持非洲国家参与国际月球科研站计划和中国探月探火工程。

D项错误，讲话指出，为推动“十大伙伴行动”实施，未来3年，中国政府愿提供3600亿元人民币额度的资金支持，包括提供2100亿元人民币信贷资金额度和800亿元人民币各类援助、推动中国企业对非投资不少于700亿元人民币。但讲话并未强调坚持无偿援助大于信贷资金支持原则，强力支撑中非务实合作。

本题为选非题，故正确答案为D。

3 本题考查政治常识。

A项错误，改造世界必须遵循客观规律，仅仅认识规律是不够的。选项本身表述有误。

B项正确，规律是指事物运动发展过程中所固有的、本质的、必然的、稳定的联系。人不可以创造或改变规律。但是人可以在认识和把握规律的基础上，根据规律发生作用的条件和形式利用规律，改造客观世界，造福于人类。题干中：“黄河流域生态保护和高质量发展，要尊重规律”体现了尊重规律认识规律利用规律可以促进高质量发展，造福人类。

C项错误，规律具有客观性，既不能被创造，也不能被消灭，但人们可以发挥主观能动性，改变客观规律发生作用的条件和形式，利用规律，改造客观世界。与题干无关。

D项错误，规律是指事物运动过程中本身所固有的本质的联系和必然的趋势。意识的主观能动性是指人们能动地认识世界和能动地改造世界的实践能力和作用。掌握和尊重规律才能避免主观盲动。选项本身表述有误。

故正确答案为B。

4 本题考查政治常识。

A项错误，哲学上的联系是指一切事物、现象之间以及事物内部诸要素之间的相互依赖、相互制约、相互影响、相互作用，联系具有以下特征：客观性、普遍性、多样性和条件性。联系具有条件性，是指同特定事物相联系的、对它的存在和发展发生作用的诸要素的总和，世界上任何联系都是有条件的，离开条件，一切都无法存在，都无法理解。与题干无关。

B项错误，唯物辩证法认为：原因和结果是揭示客观世界中普遍联系着的事物具有先后相继、彼此制约的一对范畴。原因是指引起一定现象的现象，结果是指由于原因的作用而引起的现象。有原因必会造成某种结果（或影响），有结果又必来源于某种原因。与题干无关。

C项正确，辩证否定的实质是“扬弃”，“扬弃”是指新事物对旧事物既批判又继承，既克服其消极因素，又保留其积极因素。题干中：“在经典遗传理论的基础上拓展了研究新视野”体现了要坚持辩证的否定观，对旧事物进行扬弃。

D项错误，主要矛盾是指在诸多矛盾中处于支配地位，对事物发展起决定作用的矛盾，要抓住主要矛盾，主攻方向。与题干无关。

故正确答案为C。

5 本题考查政治常识。

A项正确，工业互联网和物联网的应用可以显著提升农业生产的智能化、精准化水平，同时促进农产品加工、农村物流、乡村旅游等二三产业的发展，形成一二三产业的深度融合，有助于乡村产业振兴。

B项错误，农业生产涉及众多复杂因素，包括自然条件、作物种类、地域差异等，要实现所有农业生产环节的信息化率达到百分百，在现阶段乃至未来较长时间内都是难以达成的。此外，数字鸿沟的消除也需要一个长期的过程，不可能一蹴而就。

C项正确，数据流通和共享有助于打破信息孤岛，促进资源优化配置，同时多元化合作模式的探索可以为乡村产业提供更多发展机会和创新动力，推动乡村产业振兴。

D项正确，通过提升数字经济与农业农村生产的衔接度，可以推动乡村产业转型升级，提高产品附加值和市场竞争力，从而引导乡村产业向价值链中高端迈进，实现乡村产业振兴。

本题为选非题，故正确答案为B。

6 本题考查经济常识。

①错误，财政政策是政府通过财政收入和支出来影响经济活动的总量和结构的手段措施的总称。我国财政调节手段指的是由国家政府实施调控的一系列政策，包含税收、国债、财政投资和财政补贴。货币政策是中央银行影响经济活动所采取的措施，尤指控制货币供给以及调控利率的各项措施。中国人民银行作为中央银行，主要负责货币政策而非财政政策。

②正确，题干中，多个国家和地区的银行、基金、保险公司等机构投资者以及国际金融组织都积极参与了人民币央行票据的认购，且投标金额总量远超票据发行金额。这表明人民币资产在国际市场上具有较高的认可度和吸引力，

③正确，中国人民银行在香港发行人民币央行票据，实际上是在为离岸人民币市场提供更多的投资选择，有助于增加离岸人民币市场的流动性和深度，从而推动其进一步发展。

④错误，中国人民银行在香港发行人民币央行票据，主要是面向国际市场，与保障我国金融机构的外汇资金来源无直接关联。此外，外汇资金来源的保障更多依赖于国际贸易、外资流入等因素，而非通过发行人民币央行票据来实现。

综上，②③正确，①④错误。

故正确答案为B。

7 本题考查政治常识。

A项正确，“鼓励技能型人才的合理流动，提升人力资本配置效率”是可以在短经济周期内实现效果。加强技能型人才的合理流动，提升人力资本配置效率，可以挖掘潜在的人口红利，从而更快地对经济产生正面影响。

B项正确，“加大教育培训方面的投资，培养高水平拔尖创新人才”是可以在短经济周期内实现效果。加大在教育培训等方面的投资，着力培养高水平拔尖创新人才，可以提高劳动力的整体素质，从而更快地对经济产生正面影响。

C项正确，“推进新型城镇化建设力度，加快农业转移人口市民化”是可以在短经济周期内实现效果。加快农业转移人口市民化，既可以满足人民群众对美好生活的向往，也可以有效激活城镇化进程中的广阔市场需求，释放巨大的内需潜力，可以更快地对经济产生正面影响。

D项错误，“加速生育制度改革，提高人口出生率降低老龄化冲击”属于一项长期的政策措施，难以在短经济周期内实现效果，新的出生人口需要多年才能成长为劳动力，对人口结构的改善也需要较长时间才能显现。

本题为选非题，故正确答案为D。

8 本题考查政治常识。

A项正确，“培育壮大海洋工程装备、海洋生物医药产业，推进海洋能规模化利用”是从海洋工程领域突破一批关键核心技术，有利于建设现代海洋产业体系。

B项错误，“优化近海绿色养殖布局”是从海洋资源领域突破一批关键核心技术。但是“加大围湾用海规模”这一措施不恰当，“围湾用海”通常涉及填海造地等活动，这可能导致对原海洋生态系统的破坏，从而对海洋生态环境产生负面影响。

C项正确，“加强深海战略性资源和生物多样性调查评价，深度参与全球海洋治理”是恰当可行的措施。“加强深海战略性资源和生物多样性调查评价”可以为科学开发利用深海资源提供重要依据，“深度参与全球海洋治理”可以增强我国在全球海洋事务中的影响力。

D项正确，“充分利用沿海省份区位和产业优势，错位发展，构建现代海洋产业体系”是恰当可行的措施。沿海省份具有独特的地理区位和产业优势，错位发展形成互补的现代海洋产业体系，这有助于实现海洋经济的协调发展。

本题为选非题，故正确答案为B。

9 本题考查经济常识。

积极财政政策又称扩张性财政政策，即增加政府支出来扩大社会总需求。主要措施有减少财政收入，增加财政支出、增加国债、降低税率、提高政府购买和转移支付等。

A项错误，房地产税即以房屋为征税对象，按房屋的计税余值或租赁收入为计税依据，向产权所有人征收的一种财产税。开征房地产税会增加政府收入，不利于扩大社会需求，属于紧缩性财政政策。

B项错误，政府发债即政府通过借贷的方式吸纳社会资金，形成借贷收入。政府发债会增加财政收入，不利于扩大社会需求，属于紧缩性财政政策。

C项错误，低息贷款是指低于一般银行贷款利率的贷款。利率是指一定时期内利息额与借贷资金的比率，央行可以通过提高或降低利率，调节市场上的货币量，因此低息贷款属于货币政策。

D项正确，中西部财政保费补贴比例即政府通过增加补贴的手段增加政府支出，扩大社会总需求，属于积极财政政策。

故正确答案为D。

10 本题考查时政真题。

A项错误，党的二十届三中全会通过的《中共中央关于进一步全面深化改革、推进中国式现代化的决定》（以下简称《决定》）指出，健全国家经济社会发展规划制度体系，首要任务是构建“定位准确、边界清晰、功能互补、统一衔接”的国家规划体系，使各级各类规划各司其职、规范有序。

B项正确,《决定》指出要充分发挥国家发展规划的战略导向作用。国家发展规划要全面贯彻落实党中央战略意图,紧紧围绕全面建成社会主义现代化强国的战略目标,制定分阶段落实的时间表和路线图,为其他规划落实国家战略部署提供总遵循。

C项正确,《决定》指出要强化横向协同。加强其他规划相互间的衔接协调,避免交叉重复、矛盾冲突或合成谬误。

D项正确,《决定》指出要不断增强专项规划和区域规划的支撑作用。国家级区域规划要按照国家发展规划要求,贯彻落实区域重大战略、区域协调发展战略,着力打破地区分割、协调解决跨行政区跨流域的重大问题,促进区域战略在区域内深化实施、在区域间联动融合。

本题为选非题,故正确答案为A。

11 本题考查法律常识。

A、C、D项正确,根据《宪法》第六十二条规定:“全国人民代表大会行使下列职权:……(三)制定和修改刑事、民事、国家机构的和其他的基本法律;……(七)选举国家监察委员会主任;(八)选举最高人民法院院长;(九)选举最高人民检察院检察长;……(十四)决定特别行政区的设立及其制度;……”

B项错误,根据《立法法》第九十一条第一款规定:“国务院各部、委员会、中国人民银行、审计署和具有行政管理职能的直属机构以及法律规定的机构,可以根据法律和国务院的行政法规、决定、命令,在本部门的权限范围内,制定规章。”《公安机关办理行政案件程序规定》是公安部制定的部门规章,由公安部修改。

本题为选非题,故正确答案为B。

12 本题考查法律常识。

A项错误,根据《民法典》第四百六十四条第一款规定:“合同是民事主体之间设立、变更、终止民事法律关系的协议。”本题中,甲和乙之间并无约定,甲的行为不属于合同行为。

B项错误,根据《民法典》第一百六十二条规定:“代理人在代理权限内,以被代理人名义实施的民事法律行为,对被代理人发生效力。”第一百七十一条第一款规定:“行为人没有代理权、超越代理权或者代理权终止后,仍然实施代理行为,未经被代理人追认的,对被代理人不发生效力。”无权代理是行为人以被代理人名义实施的行为,而甲是以自己的名义实施的行为,这不属于无权代理。

C项正确,根据《民法典》第九百七十九条第一款规定:“管理人没有法定的或者约定的义务,为避免他人利益受损失而管理他人事务的,可以请求受益人偿还因管理事务而支出的必要费用;管理人因管理事务受到损失的,可以请求受益人给予适当补偿。”本题中,甲没有法定或约定义务,为避免乙的利益受损失而将乙的自行车推进车棚并缴纳保管费,属于无因管理。

D项错误,侵权行为,是指不法侵害他人民事权益的行为。本题中,甲将乙的自行车推进车棚并缴纳保管费,是为了乙的利益,未侵害乙的民事权益,不属于侵权行为。

故正确答案为C。

13 本题考查法律常识。

A、D项正确,根据《民事诉讼法》第四十条第一款规定:“人民法院审理第一审民事案件,由审判员、人民陪审员共同组成合议庭或者由审判员组成合议庭。合议庭的成员人数,必须是单数。”

B项错误,C项正确,根据《民事诉讼法》第四十五条规定:“合议庭评议案件,实行少数服从多数的原则。评议应当制作笔录,由合议庭成员签名。评议中的不同意见,必须如实记入笔录。”评议中的不同意见,必须如实记入笔录。

本题为选非题,故正确答案为B。

14 本题考查法律常识。

盗窃罪是指以非法占有为目的，盗窃公私财物数额较大或者多次盗窃、入户盗窃、携带凶器盗窃、扒窃公私财物的行为。侵占罪是指以非法占有为目的，将他人交给自己保管的财物、遗忘物或者埋藏物非法占为己有，数额较大，拒不交还的行为。本案当中，杨某以非法占有为目的，采用秘密手段窃取朱某用其身份信息注册支付宝账号内的营业款，该营业款并非是朱某让其代为保管，也不是朱某遗忘的财产，更不是杨某实际持有或实际控制，故杨某的行为应认定为盗窃罪。

故正确答案为D。

15 本题考查经济常识。

A项错误，政府通过优化资源配置，不仅可以纠正市场失灵，还可以引导资源流向，促进经济结构的优化和升级，实现经济社会持续健康发展。社会总需求是指一定时期（如一年）一国或地区发生的商品和劳务的需求总量，包括两个部分：一是国内需求，包括国内投资需求和国内消费需求；二是国外需求，即产品和劳务出口。题干未涉及社会总需求的扩大。

B项错误，中央经济工作会议在部署2024年经济工作时指出，要以科技创新引领现代化产业体系建设，强化企业科技创新主体地位。市场调节的自发性是指在市场经济中，商品生产者和经营者的经济活动都是在价值规律的自发调节下追求自身的利益，即根据价格的涨落决定自己的生产和经营活动；市场调节的自发性弊端应由政府通过宏观调控来弥补。

C项错误，在社会主义初级阶段，我国的所有制结构是以公有制为主体，多种所有制经济共同发展。其中，公有制经济的主体地位主要体现在：公有资产在社会总资产中占优势，国有经济控制国民经济命脉、对经济发展起主导作用。

D项正确，社会主义市场经济体制强调“有效市场”和“有为政府”相结合，既要使市场在资源配置中起决定性作用，发挥市场机制、市场主体和资本的力量，又要更好发挥政府作用，强化宏观政策调节，支持和引导资本规范有序发展。题干中，该省把加强企业科技研发创新摆在首要位置，推动省属企业破解产业发展瓶颈，最终实现在关键核心技术方面的重大突破，即是优化“有为政府”职能，助力“有效市场”高质量发展。

故正确答案为D。

16 本题考查政治常识。

A、B、C项正确，提质“流动时代”公共服务，最根本的是要落实常住地政府责任，健全常住地提供基本公共服务制度。各地政府不仅要用好人口流动带来的人力资源红利，更要承担好提供基本公共服务的底线职责。从根本上而言，就是要消除目前按照户籍人口供给基本公共服务的弊端，在规划、用地、投入和教育、医疗、住房、养老等基本公共服务供给的各个环节、各个方面，按照常住人口规模予以政策保障和资源配置。要把进城务工人员子女就学、跨省异地就医直接结算、城市流动人口住房租赁与保障等流动人口的急难愁盼事，作为优先解决事项。要加强立法保障，强化考核监督，从法治化、制度化层面着力，督促常住地政府落实基本公共服务供给责任。要完善数字经济治理，加强数据互联互通，疏通数据堵点，让数据多跑路、让百姓少跑腿，切实提升流动人口异地办事的便利化程度，用数据赋能社会治理和人民生活。

D项错误，人口流出地不应盲目扩大基础设施建设规模。2022年5月，中办、国办印发《关于推进以县城为重要载体的城镇化建设的意见》。《意见》明确，县城是我国城镇体系的重要组成部分，要顺应县城人口流动变化趋势。要引导人口流失县城转型发展，防止人口流失县城盲目建设。

本题为选非题，故正确答案为D。

17 本题考查政治常识。

A项错误，坚持共建共享。政府可以发挥土地、税收、金融等政策优势，通过搭建合作平台、提供信息服务、进行组织协调、激活闲置资源等方式，引导企业和社会力量参与数字社会建设。选项中“放手”说法错误。

B项正确，坚持统筹协调。需要相关部门之间加强沟通协调，做好顶层设计，同时要坚持因地制宜、分类施策。打破区域壁垒，推进数据应用一体化，搭建一体化大数据平台。加大对基层、边远和欠发达地区的支持力度，扩大优质公共服务资源辐射覆盖范围。

C项正确，坚持夯实基础。加快信息基础设施建设，包括以5G、物联网、工业互联网、卫星互联网为代表的通信网络基础设施，以人工智能、云计算、区块链等为代表的新技术基础设施，以数据中心、智能计算中心为代表的算力基础设施等。加快信息基础设施建设有助于推动数字技术创新、丰富智慧化应用场景。

D项正确，坚持安全可靠。加快数字社会建设，既要确保技术先进性、可靠性、稳定性，也要维护网络文化健康、做好个人权益保护、加强社会信用维护、推进网络空间治理。这就要求尽快建立健全数字社会建设的标准体系和法治体系，完善相关立法，加大普法力度，严格执法和司法，为数字社会安全有序发展提供保障。

本题为选非题，故正确答案为A。

18 本题考查政治常识。

A项正确，基层领导干部在与群众“打交道”的过程中，保证公平公正，做到依法用权，真正解决群众诉求问题，是提升群众工作水平的主要着力点。全面增强基层领导干部执政本领、克服本领恐慌，是我们决胜全面建成小康社会，夺取新时代中国特色社会主义伟大胜利的迫切需要。提高打交道的能力，减少本领恐慌有助于破除干群之间“玻璃门”。

B项正确，精气神是党员干部形象的重要体现，是做好一切工作的重要前提。精神积极昂扬，工作就会充满激情，工作成效就高；反之，精神消极懈怠，干工作就会缺乏积极性、主动性、创造性，工作效果自然大打折扣。加强思想教育，激扬干事创业的精气神有助于破除干群之间“玻璃门”。

C项正确，为基层干部减负减压，真正把他们从无谓的事务中解放出来，轻装上阵，常在“状态”，在属于自己的发力点上建功立业，有助于破除干群之间“玻璃门”。

D项错误，可以运用新技术、新手段、新应用创新群众工作方式，但如果以线上联系取代传统的进村入户，忽视与群众进行面对面的沟通，就会使干群关系变成“油水关系”，导致治理温度缺乏、党的事业受损。选项中“取代”说法错误。

本题为选非题，故正确答案为D。

19 本题考查时政真题。

A项正确，奥运健儿们传递了正确审美和正向价值观，所以运动员健康阳光的形象值得大家去追星；但是，体育运动和体育明星需要破圈，更大程度地贴近大众，贴近流量，这不等于对于饭圈化带来的一些负面影响，就可以无需警惕和担心。跟拍、上门直播、私信骚扰、等不良“饭圈”行为只会给他们增加心理负担，对体育运动产生负面影响。

B项正确，中国的很多体育运动员，本身缺少足够的曝光度。一些体育项目，即便拿到了较好的成绩，运动员未必能够有很高的收入。原因在于，一些体育项目和运动员的关注度小，受众面窄，市场小，赛事的商业价值天花板低。在此前提下，运动员成为“全民新偶像”，实现流量导入，一方面有利于体育运动和赛事的推广普及，另一方面，也能提升运动员的总体商业价值。

C项错误，中国奥委会明确发布声明，号召社会各界尊重运动员个人权益，理性追星，避免不当言行，坚决杜绝“饭圈”乱象向体育领域蔓延。所以正向的追星是提倡的，但是不能过度。C项全面否定的说法是不对的。

D项正确，把体育明星当成娱乐偶像，用对娱乐明星窥私的心态过度介入其日常生活只会给他们增加心理负担。比如跳水运动员全红婵夺得金牌后，部分粉丝及网络主播涌入全红婵家中“打卡”甚至直播行为。所以过度介入运动员私生活是非理性的。

本题为选非题，故正确答案为C。

20 本题考查政治常识。

《医疗保障基金使用监督管理条例》的颁布要求通过构建多种监督体制（行政监管、新闻媒体舆论监督、社会监督、行业自律相结合）来规范医疗保障基金的使用和管理。针对不同违法主体、不同违法行为分别设置了法律责任，相当于明确细化了相关规定，更加有法可依。所以进一步强化了政府的依法履职能力，确保政府在法律框架内行使职权。

以上内容仅为本文档的试下载部分，为可阅读页数的一半内容。如要下载或阅读全文，请访问：<https://d.book118.com/157004024061010010>