

2024 年银行招聘考试-职业能力测验考试历年 真题常考点试题带答案

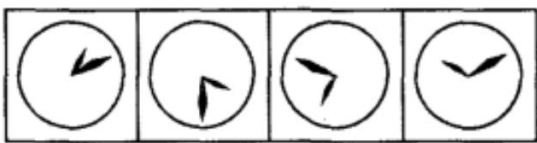
卷 I

一. 单项选择题(共 15 题)



1. 研究表明, 把在电动跑步机上 45 分钟的锻炼改为到附近公园慢跑, 可以减少将近 1 公斤 的二氧化碳排放量; 不用洗衣机甩干衣服, 而是让其自然晾干, 这可以减少 2. 3 公斤的二 氧化碳排放量; 在午餐休息时间和下班后关闭电脑及显示器, 可以将这些电脑的二氧化碳 排放量减少三分之一; 改为节水型沐浴喷头, 不仅可以节水, 还可以使热水淋浴所导致的 二氧化碳排放量减少一半。
作者通过这段文字最可能想表达的意思是 ()

- A. 自然的生活方式能够节能
- B. 节能意识十分重要
- C. 普通民众可以对节能作出贡献
- D. 节能必须从一点一滴做起

正确答案 : C,



2.





D.

正确答案：B,

3. 人文教育的重要目的在于使学生经由大学教育，能够_纯粹功利的职业取向，_狭隘的专业意识，从细小的专业分支中走出来。填入横线部分最恰当的一项是（）。

- A. 抑制 扭转
- B. 制止 克服
- C. 抵制 克服
- D. 制止 扭转

正确答案：C,

4. 建立社会信用体系的支柱是（）。

- A. 政府 B. 法制
- C. 教育

D. 道德 正确答案：D,

5. 二恶英是一种持久性有机污染物，目前对二恶英的治理存在各方面的难题。首先，对二恶英的监测技术要求很高，采样要求很严格，需要特殊的高灵敏检测仪器。其次，二恶英类化合物分布广泛、污染源多。垃圾焚烧是二恶英的一个重要来源，美、日、德都有比较先进的技术来处理，如活性炭吸附、催化剂处理等，但中国目前还很少采用这些办法。作为一个发展中国家来说，污染物处理的技术和成本都是需要考虑的问题。根据这段话，理解正确的是（）。

- A. 技术和成本是制约我国治理二恶英污染的主要因素
- B. 我国目前还不具备从环境中检测出二恶英的技术水平
- C. 增加经费投入能够解决目前的问题
- D. 由于分布广泛，根除二恶英污染是不可能的

正确答案：A,

6. (1) 市民自发看护鸽子 (2) 对不文明行为进行“曝光”

(3) 有人偷捕鸽子 (4) 放养一批广场鸽

(5) 对城市放养鸽子的利弊作了研究

- A. (4) - (3) - (1) - (2) - (5)
- B. (4) - (3) - (5) - (2) - (1)
- C. (3) - (2) - (5) - (1) - (4)
- D. (5) - (4) - (3) - (2) - (1)

正确答案：D,

7. 下列关于深圳的地理位置描述不正确的是（）。

- A. 东临大亚湾和大鹏湾
- B. 南边深圳河与香港相联
- C. 西濒珠江口和伶仃洋
- D. 北部与东莞一市接壤

正确答案：D,

8. 某学校 1999 名学生去游故宫、景山和北海三地。规定每人至少去一处，至多去两地游览，那么至

少有多少人游的地方相同? ()

- A. 35
- B. 186 C.
- 247
- D. 334

正确答案 : D,

9. 正四面体的棱长增加 20%, 则表面积增加 ()。

- A. 20%
- B. 15%
- C. 44% D.
- 40%

正确答案 : C,

10. 所有的三星级饭店都搜查过了, 没有发现犯罪嫌疑人的踪迹。 如果上述断定为真, 则在下面四个断定中, 可确定为假的是 ()。 I. 没有三星级饭店被搜查过。 II. 有的三星级饭店被搜查过。 III. 有的三星级饭店没有被搜查过。 IV. 犯罪嫌疑人躲藏的三星级饭店已被搜查过。

- A. I 和 II B. I 和 III C. II 和 III
- D. I、III 和 IV

正确答案 : B,

11. 政府对基本商品征收的一种税是对出售的每一罐食用油征税两分钱。 税务记录显示, 尽管人口数量保持稳定且税法执行有力, 食用油的税收额在税法生效的头两年中还是显著下降了。

如果以上说法正确, 那么最有助于解释食用油税收额下降的一项是 ()。

- A. 很少家庭在加税后开始生产他们自己的食用油
- B. 商人在税法实施后开始用比以前更大的罐子售油
- C. 在食用油税实行后的两年, 政府开始在许多其他基本商品上征税
- D. 食用油罐传统上被用作结婚礼物, 税法实施后, 用食用油做礼物增多了

正确答案 : B,

12. 一项调查发现, 家长在子女学习音乐上的投资是“物有所值”的, 因为那些曾经学习过音乐的孩子, 在长大后往往会拥有更高的学历, 更好的职业前景, 或获得更丰厚的收入。 以下哪项为真时, 不能作为支持论据? ()

- A. 调查资料中包括很多功成名就的人士, 例如知名科学家或历届总统, 他们大都在孩提时代学习过, 乐
- B. 许多成功的被访者表示学音乐令他们身心平衡并容易感到满足, 他们的生活因音乐而更加充实
- C. 学习音乐需要自律, 在音乐学习中常涉及到科学、语言艺术等其他学科的知识, 因此对学生的视野开拓和习惯养成颇有益处
- D. 在类似大合唱的音乐学习中, 学生必须学会和他人合作, 学会聆听与帮助他人, 这将有助于一个人的事业发展

正确答案 : B,

13. 下列各句中。 有语病的一句是 ()。

- A. 近几年的调查数据显示, 随着育儿方式和儿童膳食结构的改变。 儿童肥胖症发生率正在逐渐增加。
- B. 要提高人均资源, 不能靠减少人口, 而只能依靠科技创新。 依靠高效的行政和法治下的市场对资源的合理配置。

C. 抑郁症的发生和生物、社会、心理三个方面都有关系，工作紧张、压力增大等社会因素是越来越多的现代人被抑郁困扰。

D. 目前我市确有个别学校出现了聚集性的流感样病例，疾控中心对此正在做进一步的病原调查核实，已指导校方采取了有效措施。

正确答案：C,

14. 爸爸、哥哥、妹妹现在的年龄和是 64 岁。当爸爸的年龄是哥哥的 3 倍时，妹妹是 9 岁；当哥哥的年龄是妹妹的 2 倍时，爸爸 34 岁。现在爸爸的年龄是多少岁？（） [银行真题]

A. 34

B. 39

C. 40 D. 43

正确答案：C,

15. 俄国的两位大作家，都情不自禁地对莎士比亚发表了自己的看法。屠格涅夫借批评哈姆雷特，对莎剧_，他的态度倒还像个绅士，总的来说还算温和。托尔斯泰就比较厉害，他对莎士比亚进行了最猛烈的攻击，口诛笔伐，几乎把伟大的莎士比亚说得_。填入横线部分最恰当的一项是（）。

A. 不屑一顾 一无是处

B. 颇有微词 一无是处

C. 心怀不敬 体无完肤

D. 嗤之以鼻 一塌糊涂

正确答案：B,

二. 多项选择题(共 10 题)

1. [2008年招行真题]

据统计，1985年北京市建筑企业共完成总产值 47. 2 亿元，比上年增长 31. 5% (扣除价格因素的影响，实际增长 22. 2%)。其中，中央在京施工企业完成 8. 2 亿元，比上年增长 28%，地方全民所有制施工企业完成 24. 1 亿元，比上年增长 24. 4%。特别是地方集体所有制施工企业发展更快，完成总产值 14. 9 亿元，比上年增长 47. 3%。全市建筑企业按总产值计算的全员劳动生产率为 7743 元，比上年提高 13. 4% (扣除价格因素影响则提高 6%)。全员平均产值达到万元以上的企业，由上年的 20 个增加到 55 个。市建筑工程总公司所属二公司，四公司和设备安装公司，门头沟区建筑公司，市水利工程二处，水利机械施工处等 12 个企业的全员劳动生产率超过了 15000 元。

1985 年，北京市哪一种类型的施工企业其产值所占全市当年建筑业总产值的比重最大？（）

A. 中央在京施工企业

B. 地方全民所有制施工企业

C. 地方集体所有制施工企业

D. 无法确定

正确答案：B,

2. [2008年招行真题]

据统计，1985年北京市建筑企业共完成总产值 47. 2 亿元，比上年增长 31. 5% (扣除价格因素的影响，实际增长 22. 2%)。其中，中央在京施工企业完成 8. 2 亿元，比上年增长 28%，地方全民所有制施工企业完成 24. 1 亿元，比上年增长 24. 4%。特别是地方集体所有制施工企业发展更快，完成总产值 14. 9 亿元，比上年增长 47. 3%。全市建筑企业按总产值计算的全员劳动生产率为 7743 元，比上年提高 13. 4% (扣除价格因素影响则提高 6%)。全员平均产值达到万元以上的企业，由上年的 20 个增加到 55 个。市建筑工程总公司所属二公司，四公司和设备安装公司，门头沟区建筑公司，市水利工程二处，水利机械施工处等 12 个企业的全员劳动生产率超过了 15000 元。北京市建筑工程总公司所属四公司 1985 年全员劳动生产率为（）。

- A. 7743元
- B. 10000元
- C. 接近 15000元
- D. 15000元以上

正确答案：D,

3. 实现抵押权的主要方式为 ()

- A. 以抵押物折价受偿
- B. 拍卖抵押物以拍卖所得价款受偿
- C. 变卖抵押物以变卖所得价款受偿
- D. 要求债务人变卖其他财产受偿
- E. 要求担保人变卖其他财产受偿

正确答案：A, B, C,

4. [银行真题]

世界部分城市气候状况

城市	国家	地理 纬度	海拔 (米)	年均 温度 (度)	最冷月 平均温 度(度)	最暖月 平均温 度(度)	年均 降水 (mm)	最湿月 平均降 水(mm)	最干 平均 水(m
北京	中国	39°55'N	37	11.8	-4.3/1	25.9/7	578	182/8	2
香港	中国	22°20'N	33	22.9	15.8/1	28.8/7	2215	391/8	2
鄂木斯克	俄罗斯	55°00'N	85	1.4	-17.3/1	19.7/7	391	61/7	14/
海参崴	俄罗斯	43°10'N	28	4.2	-13.1/1	19.5/8	788	149/8	1
东京	日本	35°40'N	6	15.6	5.2/1	27.1/8	1406	185/5	4
新德里	印度	28°40'N	216	25.1	14.3/1	33.4/6	790	237/7	9/11
加尔各答	印度	22°35'N	10	26.9	20.1/1	30.7/5	1800	411/7	1
孟买	印度	18°55'N	11	27.5	24.5/1	30.2/5	2168	682/7	0/
马尼拉	菲律宾	14°35'N	16	27.4	25.6/1	29.5/5	1875	398/8	
胡志明市	越南	10°45'N	10	27.2	25.7/1	29.0/4	1861	303/9	
新加坡	新加坡	1°20'N	17	26.7	25.7/12	27.5/5	2150	304/12	14
雅加达	印度尼西亚	6°10'S	8	26.2	25.6/2	27.3/8	1802	336/1	4

注：第 6、7、9、10、11、12 列中温度、降水和日照指标之后的数字表示特定的月份。

[材料要点] 本题材料是一个具有一级标目的表格 标题：世界部分城市气候状况

单位：米、度、mm、小时

横标目：国家、地理纬度、海拔、平均温度、最冷月平均温度、最暖月平均温度、年平均降水等各气候状况指标

纵标目：北京、香港、鄂木斯克等十二个城市

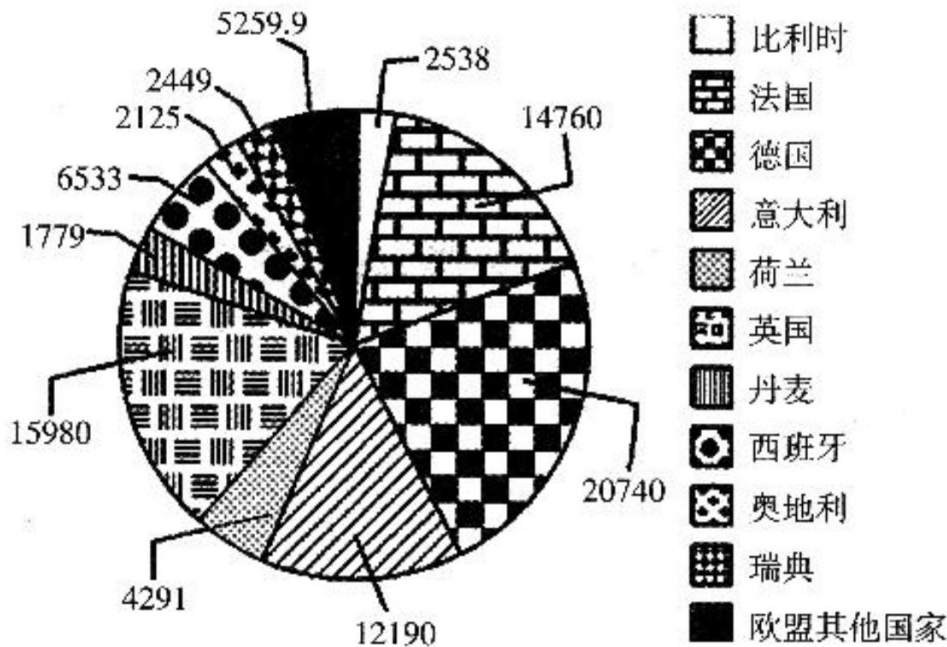
[关注点]表格中数据繁多，要注意根据题干筛选数据，并注意各个指标的单位。表中最靠近赤道的四个城市，其年均降水量的均值为（ ）。

- A. 1747毫米
- B. 1778毫米
- C. 1922毫米
- D. 2013.5毫米

正确答案：C,

5. 根据以下资料。回答 6-9题：

2002 年欧盟各国 GDP 值比例图
(单位：亿欧元)



[材料要点]

本题材料是具体数量型扇形图。本题按照图例的顺序进行排列。不是按照指标的数据大小顺序来排序的；图中有一个名为“欧盟其他国家”的部分，说明它是几个国家的合计。

标题：2002年欧盟各国 GDP 值比例图

单位：亿欧元

分类：比利时、法国、德国、意大利、荷兰、英国、丹麦、西班牙、奥地利、瑞典、欧盟其他国家

根据 2002年欧盟各国 GDP 值比例图，西班牙的排名为（ ）。

- A. 第 5
 - B. 第 6
 - C. 第 7
 - D. 第 8
- 正确答案：A,

6.

我国农村劳动力情况

年份	乡村人口	占总人口比重	乡村劳动力人数	农业劳动力	非农劳动力			
						比重	工业	建筑业
1985	84420	79.8%	37065	30352	6714	18.15%	2741	1130
1990	89590	78.4%	42010	33336	8673	20.6%	3229	1523
1995	91675	75.7%	45042	32335	12701	28.2%	3971	2204
2000	92820	73.3%	47962	32998	15165	31.6%	4109	2692
2003	93751	72.5%	48971	31260	17711	36.2%	4931	3201

[材料要点]

本题给出的资料是横标目有三级标目的表格，说明了1985年、1990年、1995年、2000年、2003年我国乡村人口、乡村劳动力人数、农业劳动力、非农劳动力等数据。

标题：我国农村劳动力情况

单位：万

横标目：乡村人口[占总人口比重、乡村劳动力人数、农业劳动力、非农劳动力(比重、工业、建筑业、交通、餐饮)]

纵标目：1985、1990、1995、2000、2003年

2003年，我国总人口约为多少人？()

- A. 93751万人
- B. 128810万人
- C. 129512万人
- D. 129312万人

正确答案：D,

7.

我国农村劳动力情况

年份	乡村人口	占总人口比重	乡村劳动力人数	农业劳动力	非农劳动力			
						比重	工业	建筑业
1985	84420	79.8%	37065	30352	6714	18.15%	2741	1130
1990	89590	78.4%	42010	33336	8673	20.6%	3229	1523
1995	91675	75.7%	45042	32335	12701	28.2%	3971	2204
2000	92820	73.3%	47962	32998	15165	31.6%	4109	2692
2003	93751	72.5%	48971	31260	17711	36.2%	4931	3201

[材料要点]

本题给出的资料是横标目有三级标目的表格，说明了1985年、1990年、1995年、2000年、2003年我国乡村人口、乡村劳动力人数、农业劳动力、非农劳动力等数据。

标题：我国农村劳动力情况

单位：万

横标目：乡村人口[占总人口比重、乡村劳动力人数、农业劳动力、非农劳动力(比重、工业、建筑业、交通、餐饮)]

纵标目：1985、1990、1995、2000、2003年

从1985年至2003年，我国从事农业的劳动力占乡村劳动力的比重下降了几个百分点？()

- A. 7. 3
- B. 10. 2 C.
- 18. 1
- D. 36. 2

正确答案：C,

8. 狭义的贷款主体包括（）

- A. 贷款委托人
- B. 借款人
- C. 贷款人
- D. 贷款担保人
- E. 贷款保证人

正确答案：B, C,

9. [2008年招行真题]

据统计，1985年北京市建筑企业共完成总产值47. 2亿元。比上年增长31. 5%(扣除价格因素的影响，实际增长22. 2%)。其中。中央在京施工企业完成8. 2亿元。比上年增长28%，地方全民所有制施工企业完成24. 1亿元。比上年增长24. 4%。特别是地方集体所有制施工企业发展更快。完成总产值14. 9亿元，比上年增长47. 3%。全市建筑企业按总产值计算的全员劳动生产率为7743元，比上年提高13. 4%(扣除价格因素影响则提高6%)。全员平均产值达到万元以上的企

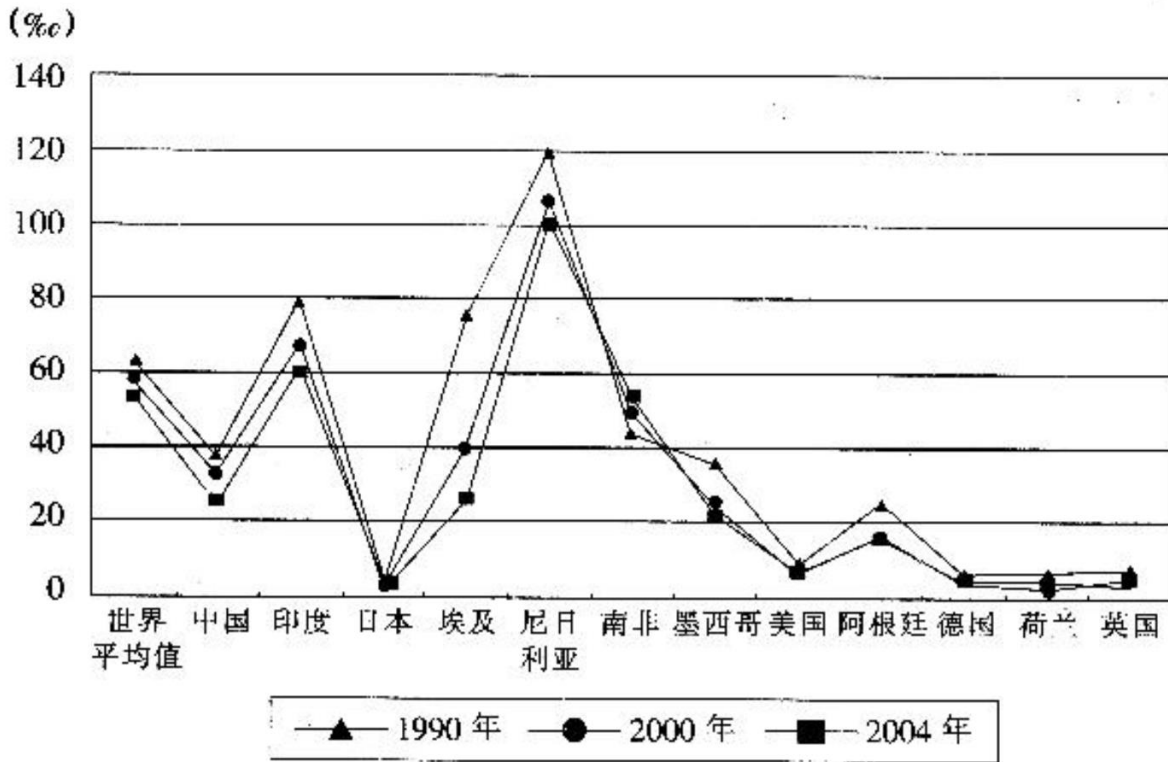
业。由上年的 20 个增加到 55 个。市建筑工程总公司所属二公司，四公司和设备安装公司，门头沟区建筑公司，市水利工程二处，水利机械施工处等 12 个企业的全员劳动生产率超过了 15000 元。扣除价格因素影响，北京市 1985 年建筑企业总产值比 1984 年实际增长多少？（ ）

- A. 31.5%
- B. 22.2%
- C. 28%
- D. 24.4%

正确答案：B,

10. 根据以下资料，回答 10~13 题：

世界部分国家婴儿死亡率数据



(资料来源:世界银行数据库)

[材料要点]

本题材料是有三条折线的复式折线图。各折线统计图中的最高(低)两个极端的量，尼日利亚在 1990 年、2000 年、2004 年都是最高的，日本在 1990 年、2000 年、2004 年都是最低的。这 3 年各国的婴儿出生死亡率的趋势都是逐步下降的。

标题：世界部分国家婴儿出生死亡率

单位：‰

图注：带三角形的折线——世界部分国家在 1990 年的婴儿出生死亡率 带黑点的折线——

世界部分国家在 2000 年的婴儿出生死亡率

带正方形的折线——世界部分国家在 2004 年的婴儿出生死亡率

横标目：世界平均值、中国、印度、日本、埃及、尼日利亚、南非、墨西哥、美国、阿根廷、德国、荷兰、英国

纵标目：0~140(‰) 1990 年，婴儿死亡率最高的国家其数值大约是世界平均水平的（ ）倍。

- A. 3
- B. 1.5
- C. 2.5
- D. 2

正确答案：D,

三. 不定项选择题(共 5 题)

1. 根据以下资料, 回答 1~5题:

2008年全年粮食种植面积 10670万公顷, 比上年增加 106万公顷; 棉花种植面积 576万公顷, 减少 17万公顷; 油料种植面积 1271万公顷, 增加 139万公顷; 糖料种植面积 193万公顷, 增加 13万公顷。

全年粮食产量 52850万吨, 比上年增加 2690万吨, 增产 5. 4%。其中, 夏粮产量 12041万吨, 增产 2. 6%; 早稻产量 3158万吨, 与上年基本持平; 秋粮产量 37651万吨, 增产 6. 7%。

全年棉花产量 750万吨, 比上年减产 1. 6%。油料产量 2950万吨, 增产 14. 8%。糖料产量 13000万吨, 增产 6. 7%。烤烟产量 260万吨, 增产 19. 6%。茶叶产量 124万吨, 增产 6. 4%。

全年肉类总产量 7269万吨, 比上年增长 5. 9%。其中, 猪肉产量 4615万吨, 增长 7. 6%; 牛肉产量 610万吨, 下降 0. 5%; 羊肉产量 376万吨, 下降 1. 8%。生猪年末存栏 46264万头, 增长 5. 2%; 生猪出栏 60960万头, 增长 7. 9%。牛奶产量 3651万吨, 增长 3. 6%; 禽蛋产量 2638万吨, 增长 4. 3%。

全年水产品产量 4895万吨, 增长 3. 1%。其中, 养殖水产品产量 3426万吨, 增长 4. 5%; 捕捞水产品产量 1469万吨, 与上年持平。粮食产量增长速度最快的年份是 ()。

- A. 2004年
- B. 2005年 C.
- 2007年 D.
- 2008年

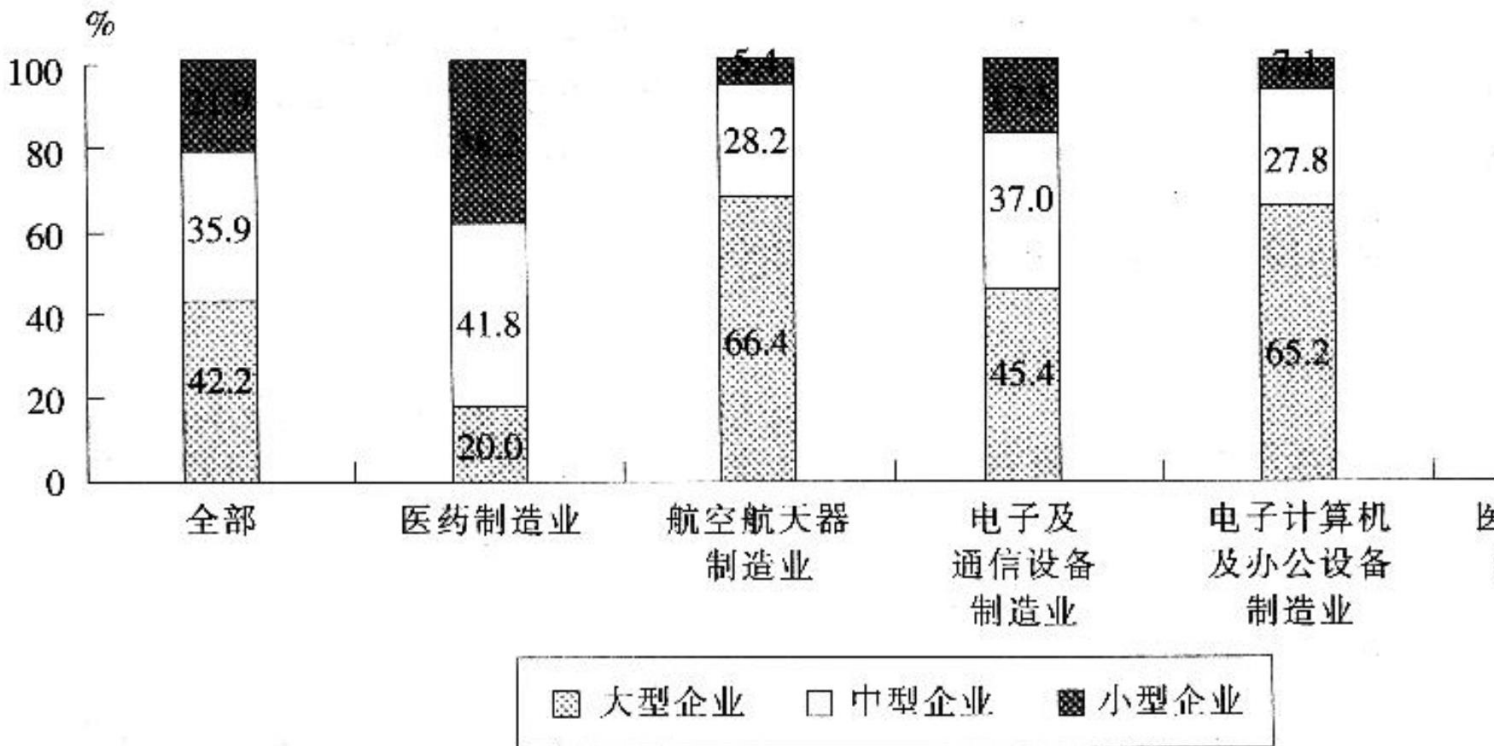
正确答案: A,

2. 根据以下资料, 回答 6-10题:

2001~2007 年高技术产业增加值

年 份	2001	2002	2003	2004	2005	2006
合计	3095	3769	5034	6341	8128	10000
医药制造业	722	835	1025	1173	1530	1900
航空航天器制造业	124	149	141	149	209	250
电子及通信设备制造业	1623	1939	2572	3366	4016	5000
电子计算机及办公设备制造业	432	604	1022	1226	1824	2500
医疗设备及仪器仪表制造业	193	242	275	427	549	700

2007年高技术产业增加值按企业规模分布



根据所给材料，下列说法中正确的一项是（ ）。

- A. 2001—2007年，高科技产业增加值、增长率逐年增加
- B. 2001—2007年，高科技产业各行业增加值均逐年递增
- C. 2007年，小型企业增加值最大的高科技行业是医疗设备及仪器仪表制造业
- D. 2007年，大中小型企业占比与高科技产业最接近的行业是电子及通信设备制造业

正确答案：D,

3. 根据以下资料，回答1~5题：

2008年全年粮食种植面积10670万公顷，比上年增加106万公顷；棉花种植面积576万公顷，减少17万公顷；油料种植面积1271万公顷，增加139万公顷；糖料种植面积193万公顷，增加13万公顷。

全年粮食产量52850万吨，比上年增加2690万吨，增产5.4%。其中，夏粮产量12041万吨，增产2.6%；早稻产量3158万吨，与上年基本持平；秋粮产量37651万吨，增产6.7%。

全年棉花产量750万吨，比上年减产1.6%。油料产量2950万吨，增产14.8%。糖料产量13000万吨，增产6.7%。烤烟产量260万吨，增产19.6%。茶叶产量124万吨，增产6.4%。

全年肉类总产量7269万吨，比上年增长5.9%。其中，猪肉产量4615万吨，增长7.6%；牛肉产量610万吨，下降0.5%；羊肉产量376万吨，下降1.8%。生猪年末存栏46264万头，增长5.2%；生猪出栏60960万头，增长7.9%。牛奶产量3651万吨，增长3.6%；禽蛋产量2638万吨，增长4.3%。

全年水产品产量4895万吨，增长3.1%。其中，养殖水产品产量3426万吨，增长4.5%；捕捞水产品产量1469万吨，与上年持平。2008年烤烟增产量比茶叶增产量多（ ）万吨。

- A. 24.1
- B. 136
- C. 35.1
- D. 13.2

正确答案：C,

4. 2008年我国全年建设占用耕地19.16万公顷，灾毁耕地2.48万公顷。生态退耕0.76万公顷，因农业结构调整减少耕地2.49万公顷。土地整理复垦开发补充耕地22.96万公顷。

以上内容仅为本文档的试下载部分，为可阅读页数的一半内容。如要下载或阅读全文，请访问：<https://d.book118.com/157064031136006064>