

言語理解与体现

1. 新時代现实世界是如此新鲜丰富、多姿多彩，生活的_____、人民的拼搏奋斗、家庭的_____、百姓的爱恨喜痛，都值得

得作家去侧耳倾听、专心思索、挥笔书写，真正做到語出一人之口，呼出萬众之声。
依次填入画横线部分最恰当的一项是：

- A. 日新月异 酸甜苦辣
- B. 精彩纷呈 跌宕起伏
- C. 精妙绝伦 悲欢离合
- D. 一日千里 喜怒哀乐

2. 在中共一大纪念馆“真理的味道”展陈前，72种版本的《共产党宣言》作为“镇馆之宝”，吸引参观者驻足，在此_____真理的力量。

填入横线处最恰当的是：

- A. 感知
- B. 感悟
- C. 体验
- D. 品味

3. _____历朝历代面临的生态问题不一样，_____保护环境的治理理念不变。无论在成文法典，还是在政府文献中，多有号令天下植树造林、固土防沙、兴修水利等内容。

依次填入横线处最恰当的是：

- A. 由于 因此
- B. 不仅 并且
- C. 虽然 可是
- D. 尽管 不过

4. 党的百年历史，就是党与群众水乳交融、_____的历史。一条扁担、一张借据、半条棉被就是党与人民血肉相连、情深似海的_____。

依次填入画横线部分最恰当的一项是：

- A. 唇齿相依 印记
- B. 相濡以沫 记忆
- C. 休戚与共 见证
- D. 众志成城 证明

5. 乡村振兴，关键是产业振兴。因地制宜发展特色产业，大力推动一二三产业融合发展，不停_____产业链、_____供应链、_____价值链，走出一条科学有效、农民受益的产业发展之路。

依次填入横线处最恰当的是：

- A. 延伸 提高 打造
- B. 延伸 打造 提高
- C. 提高 打造 延伸
- D. 提高 延伸 打造

6. 文化自信是更深厚的自信。“_____。”中华文化扎实之根脉、醇厚之积淀，恰如有源之水，滋养著中华民族在新的历史条件下的新发明、新发展，給我們的文化自信打下了最深厚的历史根基。

下列句子填入画横线处，最恰当的是：

- A. 海纳百川，有容乃大
 - B. 积土而為山，积水而為海
 - C. 源浚者流長，根深者叶茂
 - D. 泰山不让土壤，故能成其大
7. 实践证明，打赢脱贫攻坚战，关键在于對扶贫對象進行精细化管理、對扶贫资源進行精确化配置、對扶贫對象進行精确化扶持。贫有百种，困有仟样。只有坚持因村因户因人施策，因贫困原因施策，因贫困类型施策，對症下药，精确滴灌，靶向治疗，才能做到真扶贫、扶真贫、真脱贫。

如下最能概括上述文段所体现的“脱贫攻坚精神”内涵的是：

- A. 尽锐出战
 - B. 開拓创新
 - C. 攻坚克难
 - D. 精确务实
8. 近年来，越来越多的镇村深刻认识到“绿水青山就是金山银山”的經濟和生态双重价值，积极探索发展乡村旅游、田园生态旅游。但有的地方道路、休闲空间等配套基础设施不完备，游客成過客、不乐意留下来過夜，弱化了旅游业對當地餐饮、住宿及平常消费的帶動力。只有完善配套基础设施，才能留住游客、发展回頭客，提高镇村旅游业的发展潜力。

上述文段重要讲了：

- A. 改善配套基础设施對镇村旅游业发展的重要性
 - B. 乡村旅游、田园生态旅游對游客的吸引力局限性
 - C. 消费帶動力不强是目前镇村旅游发展面临的问题
 - D. 镇村旅游发展潜力有待深入挖掘
9. “為何我的時間總是不够用？”我們常被這個問題困扰。我們埋怨有太多事情要做，仿佛永遠都做不完。于是“没有时间”成了我們的口頭禪。在這種背景下，“時間管理”理念应运而生。時間管理倡导的诸多措施，并不是要让人们逃离現代性境遇所构筑的牢笼，而是對其加以技术性强化。時間管理原本是要教會我們更精细、更严苛地分割运用時間，由于人們的主观感受常常不一样，有人仍然會覺得時間不够用，事情永遠做不完，甚至為此心力交瘁。

對上述文段理解最精确的是：

- A. 精细化地分割和运用時間是時間管理的本质规定
 - B. 時間管理没有完全处理人們“時間不够用”的困扰
 - C. 對時間進行技术性强化是一种有效的時間管理措施
 - D. 严格的時間管理在一定程度上會左右人們的主观感受
10. 迄今為止，国内外农业灾害史研究尚未能建立一种全面记录历史時期世界各地自然灾害发生完整過程和灾情信息的综合性灾害史料数据库。在气候变化、灾害影响与适应防灾減灾应用等方面研究的资料需求無法得到满足，以致于不能全面地揭示灾害成因和环境後果。

上述文段重要讲了：

- A. 建立综合性灾害史料数据库的紧迫性

- B. 综合性灾害史料對於农业灾害研究的重要性
- C. 农业灾害史研究目前面临的问题
- D. 推进行业灾害成因和环境后果研究需加强国际合作

常识判断

11. 党的拾八大以来，我們深化對民主政治发展规律的认识，提出（ ）的重大理念，其不仅有完整的制度程序，并且有完整的参与实践。
- A. 全方位人民民主
 - B. 全链条人民民主
 - C. 全過程人民民主
 - D. 全覆盖人民民主
12. 基层治理是国家治理的基石，在打造基层治理共同体中，基层群众性自治组织发挥的是：
- A. 主导作用
 - B. 决定作用
 - C. 引领作用
 - D. 基础作用
13. 《中共中央有关党的百年奋斗重大成就和历史經驗的决策》阐明了四个历史时期党面临的重要任务，如下有关各个历史时期党面临的重要任务表述對的是：
- A. 新民主主义革命时期——继续探索中国建设社会主义的對的道路，解放和发展社会生产力，使人民挣脱贫困、尽快富裕起来，为实现中华民族伟大复兴提供充斥新的活力的体制保证和迅速发展的物质条件
 - B. 社会主义革命和建设时期——反对帝国主义、封建主义、官僚资本主义，争取民族独立、人民解放，为实现中华民族伟大复兴发明主线社会条件
 - C. 改革开放和社会主义现代化建设新时期——实现从新民主主义到社会主义的转变，进行社会主义革命，推进社会主义建设，为实现中华民族伟大复兴奠定主线政治前提和制度基础
 - D. 中国特色社会主义新时代——实现第一种百年奋斗目的，启动实现第二个百年奋斗目的新征程，朝着实现中华民族伟大复兴的宏伟目的继续前进
14. 近年来，我国在“大国重器”的研发上成果明显，捷报频传。如下有关“大国重器”与其宣传語的对应关系不對的是：
- A. “奋斗者号”——只有沉得下去，才能浮得上来
 - B. “复兴号”——临时地降落是为了下一次更好地起飞
 - C. “北斗三号”——其实，方向比措施更重要
 - D. “中国天眼”——要仰望星空，也要脚踏实地
15. 在经济全球化时代，任何一种国家都不也许孤立于世界之外，团结合作是所有国家的必然选择，各国人民更需要同舟共济、共克时艰。
- 下列选项最符合该观点内涵的是：
- A. 人视水见形，视民知治不
 - B. 孤举者难起，众行者易趋
 - C. 安而不忘危，存而不忘亡

- D. 天不言而四時行，地不語而百物生
16. 馬克思主义指导中国成功走上了全面建设社会主义现代化强国的康庄大道，事业越向前发展，新状况新问题势必越多，更应重视理论的作用，增强理论自信和战略定力。这重要体现了：
- A. 认识對实践有著巨大的指导作用
 - B. 一切從实际出发，实事求是
 - C. 实践是检查真理的唯一原则
 - D. 认识是主体對客体的能動反应
17. 《中华人民共和国乡村振兴增進法》全面实行乡村振兴战略，应当遵照的原则不包括：
- A. 坚持政府主体地位
 - B. 坚持人与自然友好共生
 - C. 坚持农业农村优先发展
 - D. 坚持因地制宜、规划先行、循序漸進
18. 如下是我国改革开放以來发生的重大事件，准時間先後次序排列對的是：
- ①脱贫攻坚战获得全面胜利
 - ②加入世界贸易组织
 - ③全面取消农业稅
 - ④香港、澳門回归祖国
 - ⑤北京举行第二拾九屆夏季奥运会
- A. ④②③⑤
 - ①
 - B. ②⑤④③
 - ①
 - C. ④②⑤①
 - ③
 - D. ②①⑤③
 - ④
19. 《中华人民共和国国民經济和社會发展第拾四个五年规划和2035年遠景目的纲要》提出“推進能源革命，建设清洁低碳、安全高效的能源体系”。如下措施有助于建设清洁低碳、安全高效的能源体系的是：
- ①提高光伏发电规模
 - ②推進以電代煤
 - ③推進沿海核電建设
 - ④有序发展海上風電
- A. ①④
 - B. ②③
 - C. ②③④
 - D. ①②③
 - ④
20. 底我国区域性整体贫困得到处理，提前实现《联合国2030年可持续发展议程》減贫目的。下列有关我国在減贫事业获得的成就与其详细体现對应不對的是：
- A. 贫困人口食物权得到稳定保障——实现农产品产量稳定增長，处理食物匱乏和营养不良問題，“不愁吃”問題基本处理
 - B. 贫困人口饮水安全得到有力保障——实行农村饮水安全巩固提高工程，合计处理2889萬贫困人口饮水安全問題，3.82亿农村人口受益
 - C. 贫困地区义务教育得到充足保障——农村贫困家庭子女义务教育阶段辍學問題实现动态清零
 - D. 贫困人口基本醫療得到有效保障——基本形成包括疾病防止控制、健康教育、妇幼保健、精神卫生防治等多种专业机

构在内的公共卫生服务体系

21. 根据《农村人居环境整改提高五年行动方案（-2025年）》，改善农村人居环境是实行乡村振兴战略的重点任务，事关广大农民主线福祉，事关农民群众健康。如下选项不符合“推进村容村貌整体提高”规定的是：
- A. 加强老式村落和历史文化名村名镇保护
 - B. 引导鼓励村民通过栽植果蔬、花木等开展庭院绿化
 - C. 加紧实现由政府全额支付农村生活垃圾处理等费用
 - D. 开展农村生活垃圾分类与资源化运用示范县创立
22. 第一次国共合作实现后，以（ ）为中心汇集全国革命力量，很快开创了反对帝国主义和封建军阀的革命新局面。
- A. 北京
 - B. 广州
 - C. 上海
 - D. 武汉
23. 1970年4月24日，我国自行设计、制造的（ ）发射成功，是我国航天空间技术的一种重要里程碑。自此，我国将每年4月24日设置为“中国航天日”。
- A. 第一颗人造地球卫星“东方红一号”
 - B. 第一艘载人航天飞船“神舟五号”
 - C. 第一颗月球探测卫星“嫦娥一号”
 - D. 第一艘无人试验飞船“神舟一号”
24. 《乡村振兴战略规划（一）》提出，到2050年，乡村全面振兴，要全面实现的目的不包括：
- A. 农业强
 - B. 农贸兴
 - C. 农村美
 - D. 农民富
25. 推进农业绿色发展，有助于加紧农业现代化，全面推进乡村振兴。有关“推进农业绿色发展”，下列说法精确的是：
- A. 全面实行全国草原禁牧
 - B. 放开对非农建设占用耕地的限制
 - C. 发展节水农业和旱作农业
 - D. 鼓励发展多种形式规模的农业经营
26. 如下广告宣传用语中，不存在科学性错误的是：
- A. 矿泉水营养丰富，喝了就能满足你和家人每日的矿物质需求
 - B. 当季新鲜柑橘具有丰富的维生素C，有助于提高人体免疫力
 - C. 本台灯采用0频闪技术，灯光不再有闪烁，更能保护眼睛
 - D. 新款无糖月饼只用果糖，不添加蔗糖，让你多吃也不发胖
27. 根据《党政领导干部选拔任用工作条例》，党政领导干部应当逐层提拔。尤其优秀或者工作特殊需要的干部，符合有关条件或情形的可以破格提拔。如下不属于可以破格提拔的条件或情形的是：
- A. 经济发达、高新技术产业发展地区急需引进的

- B. 在条件艰苦、环境复杂、基础差的地区或者单位工作实绩突出
 C. 专业性较强的岗位或者重要专题工作急需的
 D. 在关键时刻或者承担急难险重任务中经受住考验、体现突出、作出重大奉献
28. 小李在乡道上驾驶汽车，为避让行人，不小心驶入道路旁的农田导致农作物受损。经协商，小李赔偿了农民的损失，则小李承担的是：
- A. 民事责任
 B. 刑事责任
 C. 行政责任
 D. 道德责任
29. 下列诗句中描写的季节，按春夏秋冬排序精确的是：
- ① 枯藤老树昏鸦，小桥流水人家，古道西风瘦马
 ② 沾衣欲湿杏花雨，吹面不寒杨柳风
 ③ 稻花香里说丰年，听取蛙声一片
 ④ 千山鸟飞绝，万径人踪灭
- A. ②①④③
 B. ②③①④
 C. ③②④①
 D. ③②①④
30. 台湾海峡、渤海海峡、琼州海峡是我国三大海峡。有关三大海峡的地理位置，从北到南对的是：
- A. 琼州海峡——渤海海峡——台湾海峡
 B. 渤海海峡——琼州海峡——台湾海峡
 C. 渤海海峡——台湾海峡——琼州海峡
 D. 台湾海峡——琼州海峡——渤海海峡
- 数量关系
31. 17, 27, 39, ()
- A. 51
 B. 53
 C. 56
 D. 59
32. 11, 14, 26, 44, 65, ()
- A. 80
 B. 83
 C. 86
 D. 89
33. $\frac{1}{8}, \frac{1}{6}, \frac{3}{16}, \frac{1}{5}, ()$

A. $\frac{1}{3}$

B. $\frac{2}{9}$

C. $\frac{5}{18}$

D. $\frac{5}{24}$

34. 6, 12, 19, 32, 52, ()

A. 84

B. 85

C. 86

D. 87

35. 123, 465, 987, (), 456, 897, 231, 645, 789

A. 312

B. 578

C. 684

D. 738

36. 某單位計劃從行政部的2名員工和人事部的3名員工中，隨機選擇2人去參與在職培訓，則選出的2人都來自人事部的概率是：

A. 10%

B. 20%

C. 30%

D. 40%

37. 老吳從家裏出發乘車到銀行辦理業務，回城時步行，來回共用了45分鐘。假如老吳來回都乘車，則只需花30分鐘。那麼，假如老吳來回時都選擇步行，需要花（ ）分鐘。

A. 45

B. 50

C. 55

D. 60

38. 小王將新買的時鐘調準使用，60天後，時鐘走慢了5分鐘。那麼，該時鐘平均每天走慢（ ）秒。


A. 5

B. 10

C. 15

D. 20

39. 如圖陰影部分是一塊由8塊相似的正方形草皮圍成的草坪。已知草坪的外圈均鋪有一圈小石子帶，小石子帶的總長度是48米，則該草坪的面積為（ ）平方米。



- A. 48
B. 72
C. 81
D. 96
40. 小陈计划在一定期间内完毕法律常识题库中的所有练习题。假如每天做50道题，那么最终2天每天要做85道题才能完毕，假如每天做55道题，恰好可以提前1天完毕，则该题库共有（ ）道题。
- A. 1215
B. 1250
C. 1320
D. 1375
41. 某单位计划从所有80名员工中挑选专题工作组组员，规定该组组员须同步有基层经历和计算机等级证书。已知，单位内有40人有基层经历，有46人有计算机等级证书，既没有基层经历又未获得计算机等级证书的有10人。那么可以进入工作组的员工有（ ）人。
- A. 16
B. 40
C. 46
D. 54
42. 甲、乙、丙3个单位订阅同一款报刊，已知3个单位共订了12份，其中，每个单位订阅数量不少于3份，但不超过5份，则这3个单位的报刊订阅数量也许有（ ）种组合。
- A. 2
B. 6
C. 7
D. 9
43. 有一种长方形花坛，长为10米，宽为8米。现要在花坛四面安装栅栏，规定4个顶点处各插一根木桩，除顶点处的木桩外，每边还要插若干木桩，且每两根木桩间的距离至少为3米，则最多可以插（ ）根木桩。
- A. 10
B. 12
C. 14
D. 16
44. 某防疫工作机构有检查人员和其他工作人员共55人，将检查人员平均提成若干小组开展工作。近期，该机构补充了20位

工作人员，其中，检查人员增長了2组，每组人数不变，其他工作人员增長了30%，则该机构原有检查人员共（ ）组。

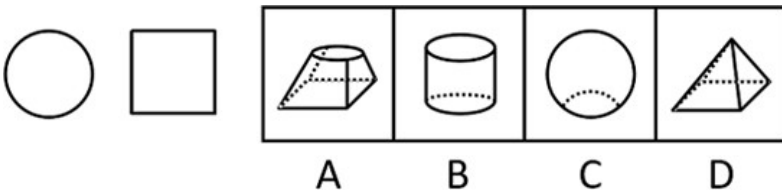
- A. 4
- B. 5
- C. 6
- D. 7

45. 桶中装有一定量的液体，液体体积為桶容量的40%，現向桶中继续加入16升同一液体後，液体体积為本来的1.5倍，则该桶的容量為（ ）升。

- A. 20
- B. 40
- C. 60
- D. 80

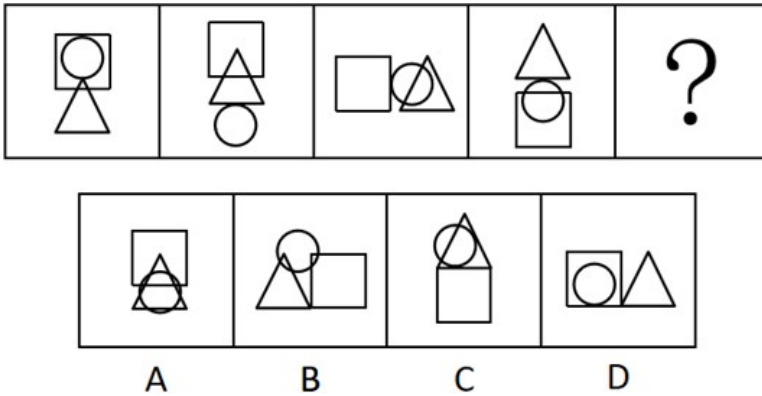
判断推理

46. 如图是一物体某两个角度的视图，则该物体最也許是：



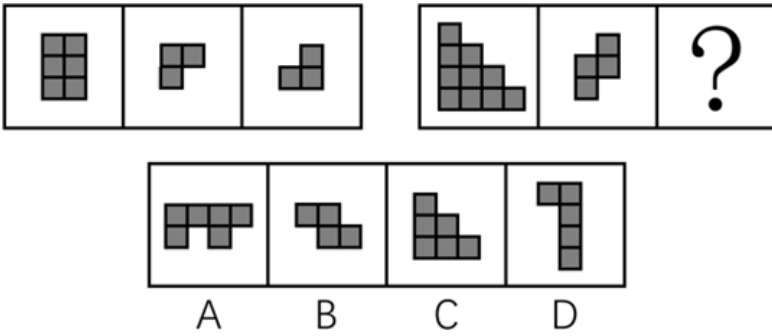
- A. A
- B. B
- C. C
- D. D

47. 下列选项中最符合所給图形规律的是：



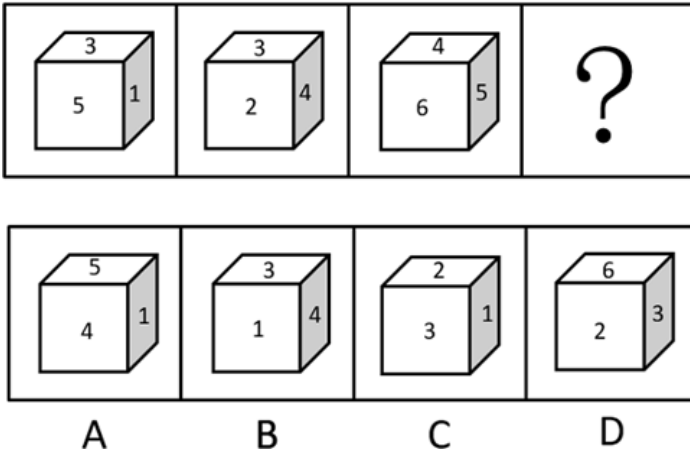
- A. A
- B. B
- C. C
- D. D

48. 下列选项中最符合所給图形规律的是：



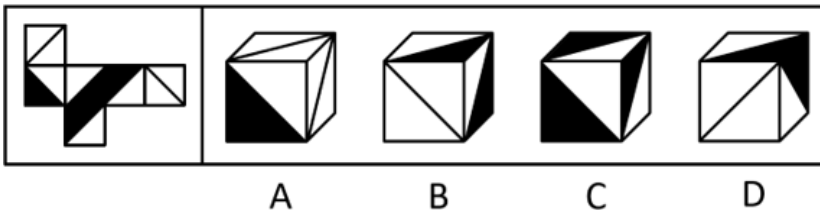
- A. A
- B. B
- C. C
- D. D

49. 如图所给的3个立方体为同一立方体，若不考虑立方体表面数字的大小、方向，下列选项中，最有也许是该立方体的是：



- A. A
- B. B
- C. C
- D. D

50. 如图是某立方体的平面展开图，则该立方体最也许是：



- A. A
- B. B
- C. C
- D. D

51. 從所給的四個选项中，选择最合适的一种填入问号处，使之展现一定的规律性：

以上内容仅为本文档的试下载部分，为可阅读页数的一半内容。如要下载或阅读全文，请访问：<https://d.book118.com/158062103126007003>