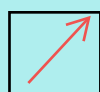







SOLD

@备考首选

## 通关无忧 轻松拿下考试

-  基础阶段—专业知识
-  刷题阶段—重点题库
-  冲刺阶段—押题点睛
-  考点覆盖—精编习题
-  紧扣考纲—直击考点
-  历年真题—押题抢分

本封面内容仅供参考，实际内容请认真预览本电子文本

祝您考试顺利

# 2023 年海南安全员 B 证考试内部 摸底题库含答案

1、【多选题】《安全生产法》规定：建筑施工单位应当配备必要的应急救援（ ），并进行经常性维护、保养、保证正常运转。（ BCD ）

A、经费

B、器材

C、设备

D、物资

2、【多选题】《安全生产法》规定：生产经营单位应当对从业人员（ ），了解事故应急处理措施，知悉自身在安全生产方面的权利和义务。未经安全生产教育和培训合格的从业人员，不得上岗作业。（ ABCD ）

A、进行安全生产教育和培训

B、保证从业人员具备必要的安全生产知识

C、熟悉有关的安全生产规章制度和安全操作规程

D、掌握本岗位的安全操作技能

3、【多选题】以下哪类人需要持证上岗？（ ABCDE ）

A、电工

B、专职安全员

C、项目经理

D、焊工

E、塔吊指挥

4、【多选题】依据《安全生产法》，安全生产监督管理部门可以对违法( )危险物品的作业场所予以查封，并依法作出处理决定。( ABCD )

A、生产

B、经营

C、储存

D、使用

E、运输

5、【多选题】单斗挖掘机的特点有( )。( ABC )

A、挖掘力大

B、可挖VI级以下的土壤

C、爆破后的岩石

D、运输能力强

E、行走时不破坏路面

6、【多选题】员工参与的安全管理工作包括（ ）。（ ABC ）

A、使用危险报告书

B、收集职工建议

C、使用安全反馈程序

D、计划、量测、总结和评审安全工作

E、建立并完善企业的安全管理政策和组织结构

7、【多选题】在某大厦二期围护桩施工过程中，2 号桩机在余某指挥下进行桩机转向作业，班组操作工人有许某等 6 人。当桩架在 KX②轴处完成转向进行导轨就位时，由于机架底盘左后角处未按操作堆积设置垫木，致使该处离地悬空 400mm 左右，许某在桩架后角顶升千斤顶，其他几人在桩机左侧轴换底盘桩架导轨。当千斤顶顶升 20-300mm 高度时，造成机架倾倒，将正在观看桩机转向作业的 4 名围观群众砸伤，造成 3 人死亡。请判断事故原因。（ ABCD ）

A、违章指挥、违章作业是造成这次事故的直接原因

B、在桩机已经失稳的情况下又用千斤顶顶升 20-300mm 使机架达到倾覆条件，造成机架倾倒。在出现桩机失稳时应果断采取措施调整、固定机架

C、机架底盘一角离地悬空 400mm 左右说明桩机已经失稳，机架底盘必须按操作规程设置垫木垫实

D、施工现场管理混乱，桩机移位作业危险性较大，应当设置警戒区，无关人员应在危险区域外

8、【多选题】基坑工程应实施监测范围（ ）。（ BDE ）

A、开挖深度大于或等于 3m 的基坑工程

B、开挖深度大于或等于 5m 的基坑工程

C、开挖深度小于 3m,但现场地质情况和周围环境较复杂的基坑工程

D、开挖深度小于 5m,但现场地质情况和周围环境较复杂的基坑工程

E、其他需要监测的基坑工程

9、【多选题】基坑检查评定的保证项目包括方案与交底，（ ）等。

（ ABCDE ）

A、地下水控制

B、基坑支护

C、施工荷载

D、监测

E、基坑开挖

10、【多选题】如图所示，临建设施板材应符合哪些要求？（ ABE ）

A、严禁使用泡沫夹芯板材

B、办公、宿舍应使用金属夹芯板材其夹芯燃烧等级应为 A 级。

C、该夹芯板是 A 级防火材料

D、该夹芯板材适用于办公、宿舍

E、该夹芯板材不适用于办公、宿舍

11、【多选题】安全组织管理措施包括（ ）。（ ABCD ）

A、企业或者项目内部的控制方法

B、保证个人、安全员和班组顺利合作的方式

C、企业或者项目内部交流的方式

D、员工能力的培养

E、制定安全管理计划

以上内容仅为本文档的试下载部分，为可阅读页数的一半内容。如要下载或阅读全文，请访问：<https://d.book118.com/158133121107006064>