

# 中国地理部分

## 疆域与行政区划

# 中国地理部分

## 学习建议

1. 读懂书本、读透书本：熟悉各个考点
2. 必须熟练掌握有关中国的各种图形，包括位置图、分布图、剖面图等等

# 中国的疆域和行政区划

## 本节知识点

中国的地理位置

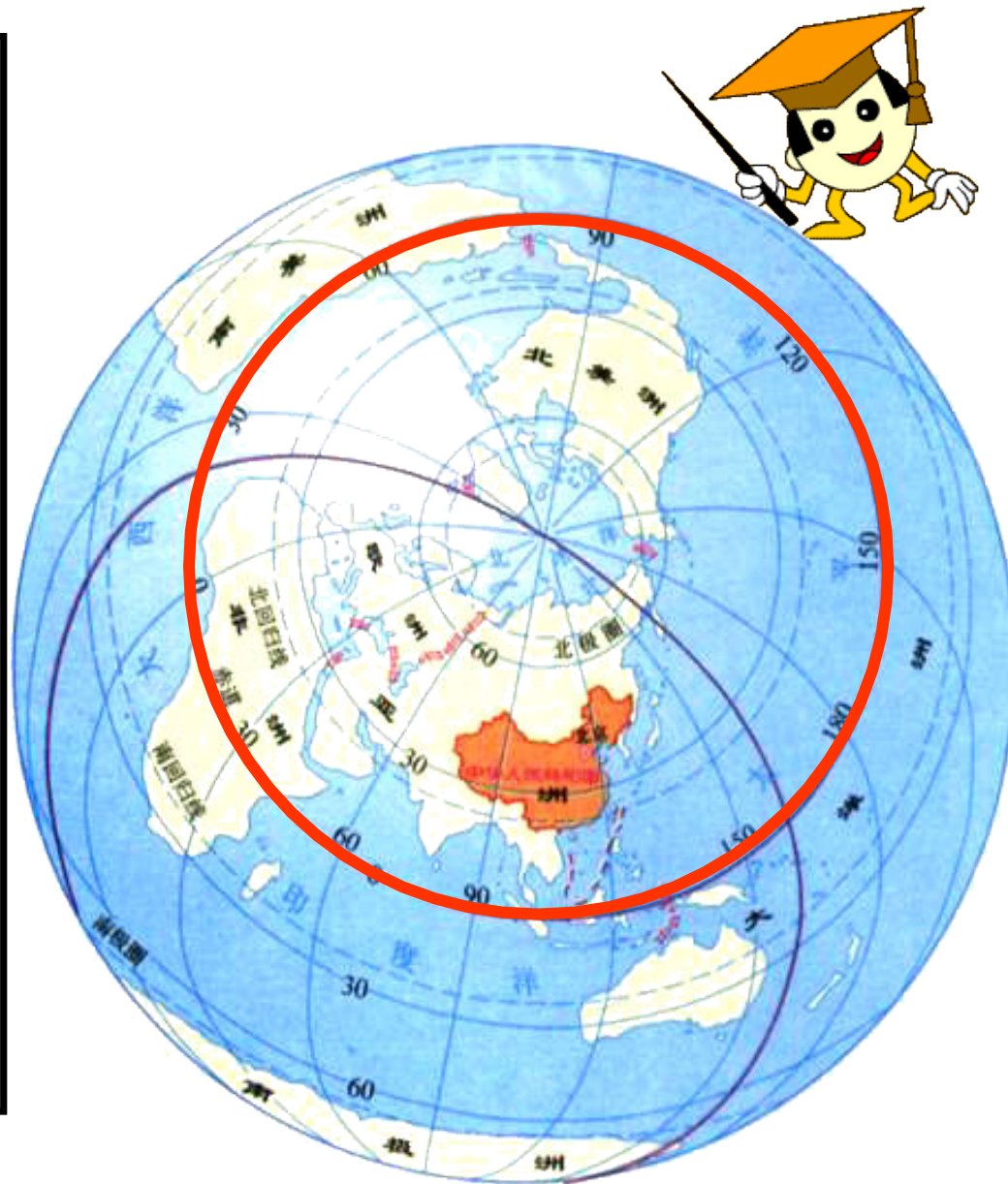
中国的国土构成

中国的行政区划

# 国家地理位置的分析评价方法

分析一个国家或地区的地理位置，可以从**数理位置**（经度位置、纬度位置）、**自然地理位置**（半球位置、海陆位置、依傍的山河平原位置）、**政治地理位置**（与邻区、邻国的相关位置）、**经济地理位置**、**交通位置**等方面加以说明。通常侧重于从**纬度位置**和**海陆位置**两方面加以分析。

分析评价地理位置的地理意义就是对地理位置优缺点的分析和评价。



# 一、我国的位置

- 1、我国的半球位置如何？
- 2、我国的海陆位置如何？
- 3、我国的纬度位置如何？有何优越性？重要的经纬线穿过的地形区有哪些？

# 中国的地理位置及影响

## 位置

半球位置

北半球和东半球

纬度位置

南北跨纬度近 $50^{\circ}$ ，  
大部分在北温带，小部分在热带

海陆位置

亚洲的东部，太平洋的西岸

## 影响

纬度位置

气候复杂多样，生物资源丰富，  
有利于农业发展多种经营

海陆位置

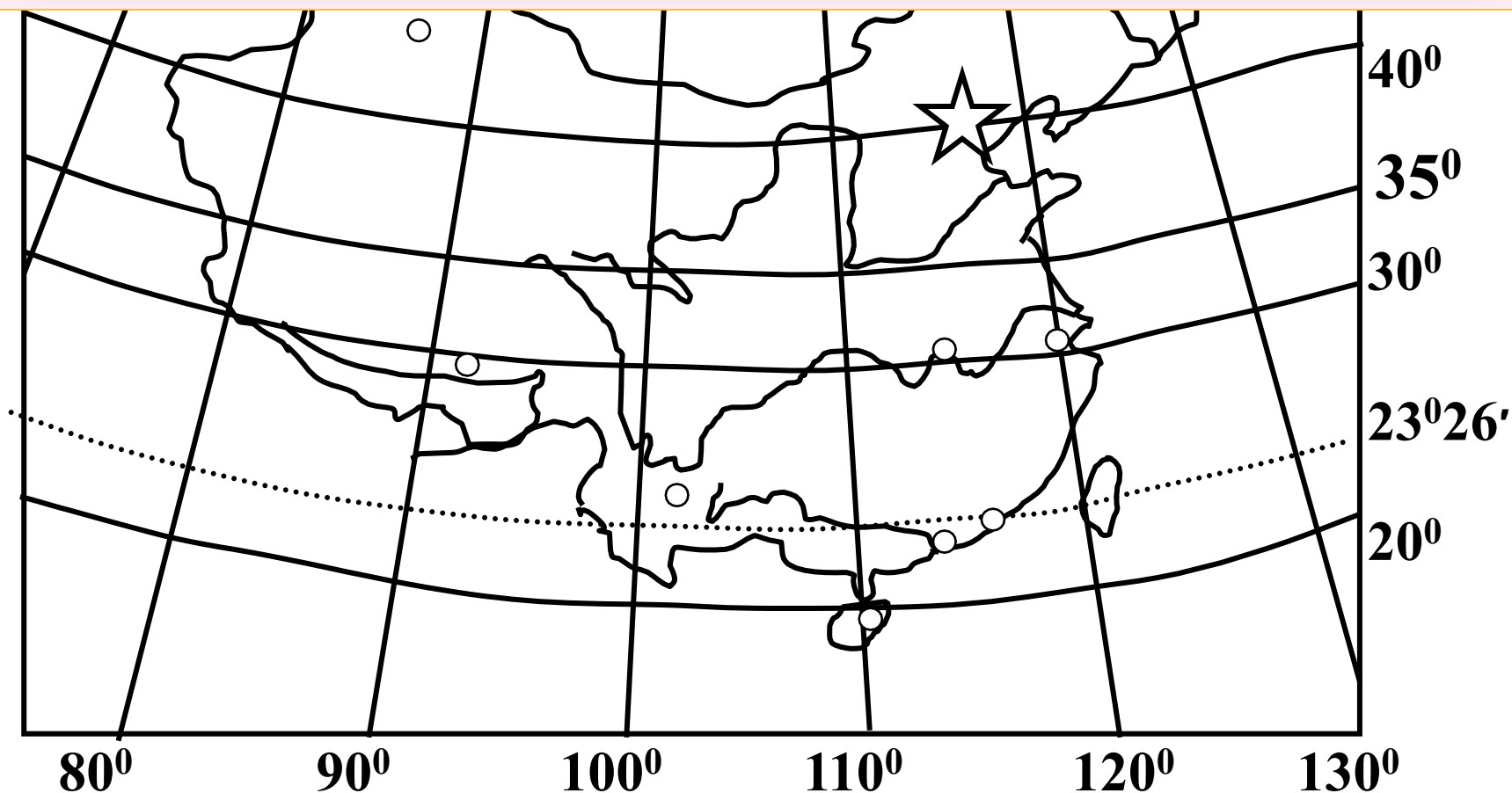
海陆兼备，交通便利，降水  
丰沛，有利于农业发展

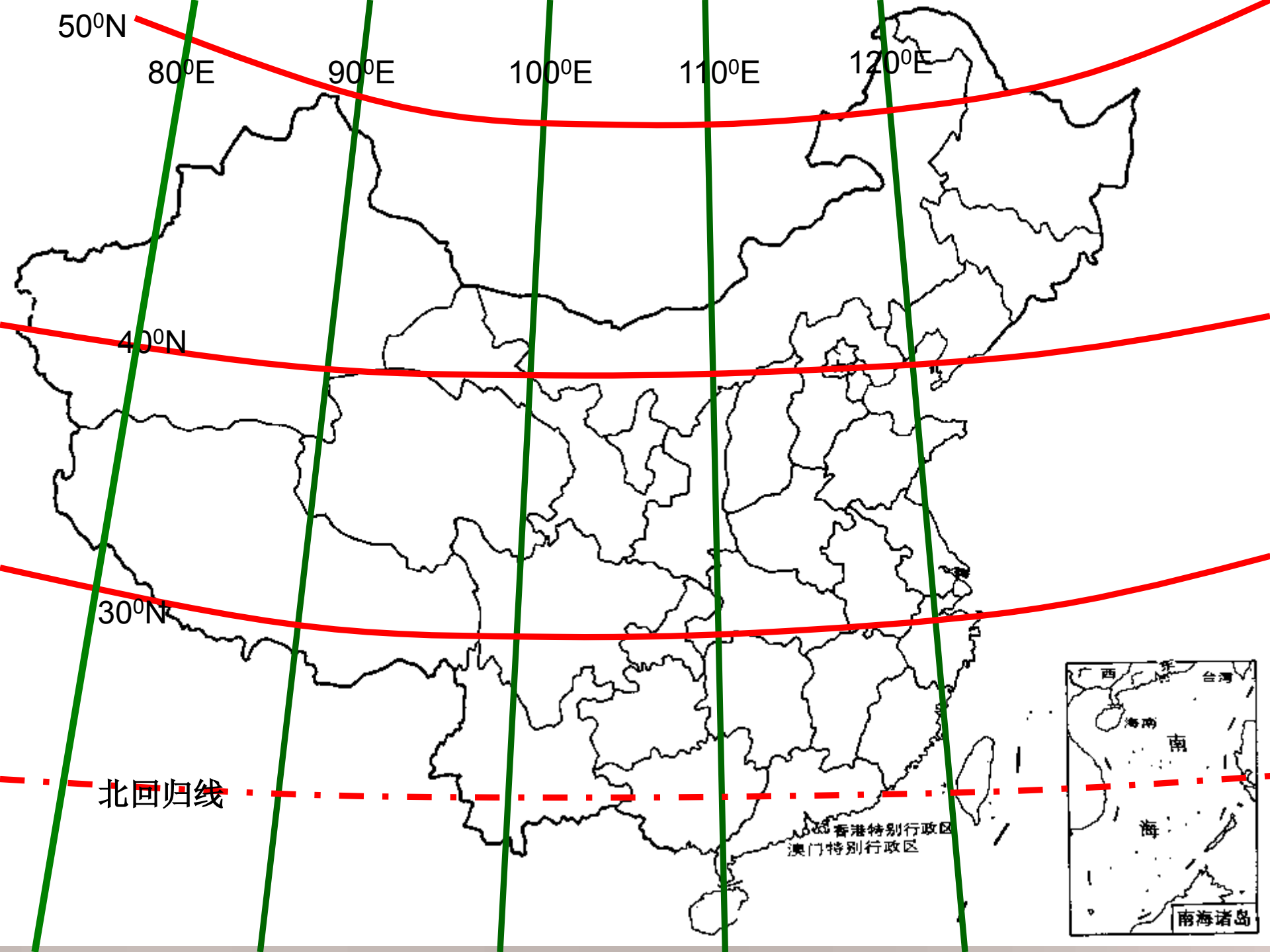
# 中国版图对气候、交通及经济的影响

对气候的影响：东西及南北跨度大，气候差异明显

对交通影响：海岸线漫长，有许多优良港湾，利于发展海洋交通。

对经济影响：为我国多种农业经济发展提供了有利条件







## 二. 辽阔的国土

面积广大:国土面积1200多万平方千米.

领土四端 (注意经纬度)

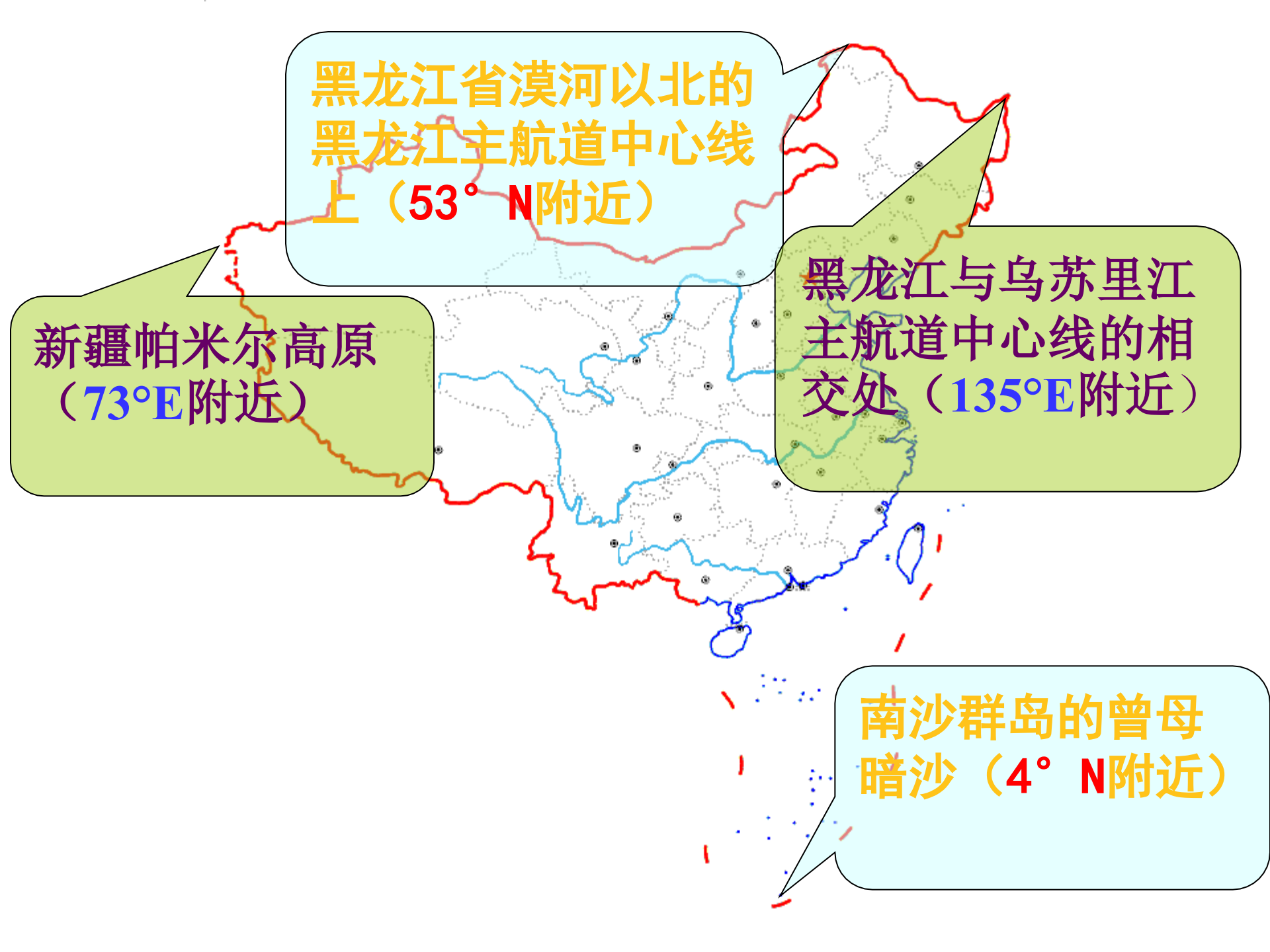
濒临的”四海一洋”(领海和内海)

海峡、岛屿、半岛

陆疆与邻国

隔海相望的国家





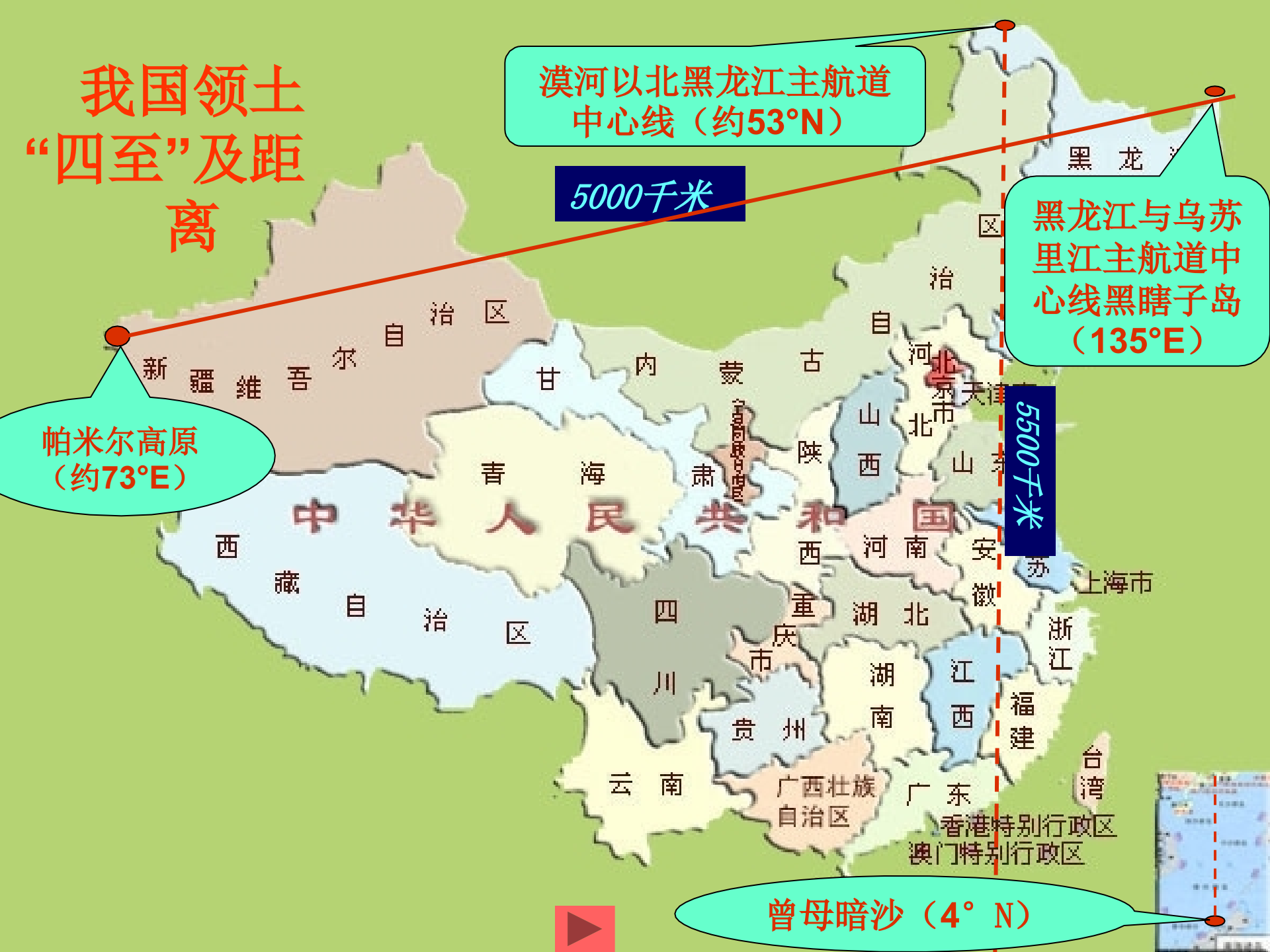
黑龙江省漠河以北的  
黑龙江主航道中心线  
上 ( $53^{\circ}$  N附近)

新疆帕米尔高原  
( $73^{\circ}$  E附近)

黑龙江与乌苏里江  
主航道中心线的相  
交处 ( $135^{\circ}$  E附近)

南沙群岛的曾母  
暗沙 ( $4^{\circ}$  N附近)

# 我国领土“四至”及距离



漠河以北黑龙江主航道中心线 (约53°N)

5000千米

黑龙江与乌苏里江主航道中心线黑瞎子岛 (135°E)

帕米尔高原 (约73°E)

5500千米

曾母暗沙 (4°N)



漠河



搜狐新闻 俄罗斯

哈巴罗夫斯克

新界线

旧界线

归还领土

原中方声称边界

岛

子

黑

瞎

俄罗斯

黑龙江

抚远

同江

鹤岗

佳木斯

里江

中国

中国



## 问题：

1. 南北相差\_\_\_\_\_度，相距\_\_\_\_\_千米，东西\_\_\_\_\_度，相距\_\_\_\_\_千米。
2. 我国一年内白昼年变化差值最大的地点在\_\_\_\_，该地白昼最短为7个小时，最长为17个小时，差值为10个小时。我国东西共跨几个时区？时差达几个小时以上？但统一采用北京时间（东几区，哪条经线的地方时）。
3. 我国主要位于北温带，小部分位于热带。位于热带的部分为\_\_\_\_\_。北回归线穿过我国哪几个省区？由此纬度位置可以判断影响我国的大气环流主要是\_\_\_\_\_。
4. 我国领土的四至点都位于哪些省区？

**【练习】**在长28厘米、宽24厘米的纸张上绘制中国政区图，如各留空边2厘米，则应选用的恰当比例尺是下列中的：

A、1：30000

B、1：300000

C、1：3000000

D、1：30000000



**解题思路：**

根据比例尺的构成条件和题意，已知图上距离分别为长24、宽20cm，间接已知条件为我国领土的东西与南北距离。求相应的比例尺。





南沙群岛



中国的北极村—漠河镇



黑龙江和乌苏里江的汇合处



帕米尔高原



# 三、濒临海洋

辽东半岛老铁山

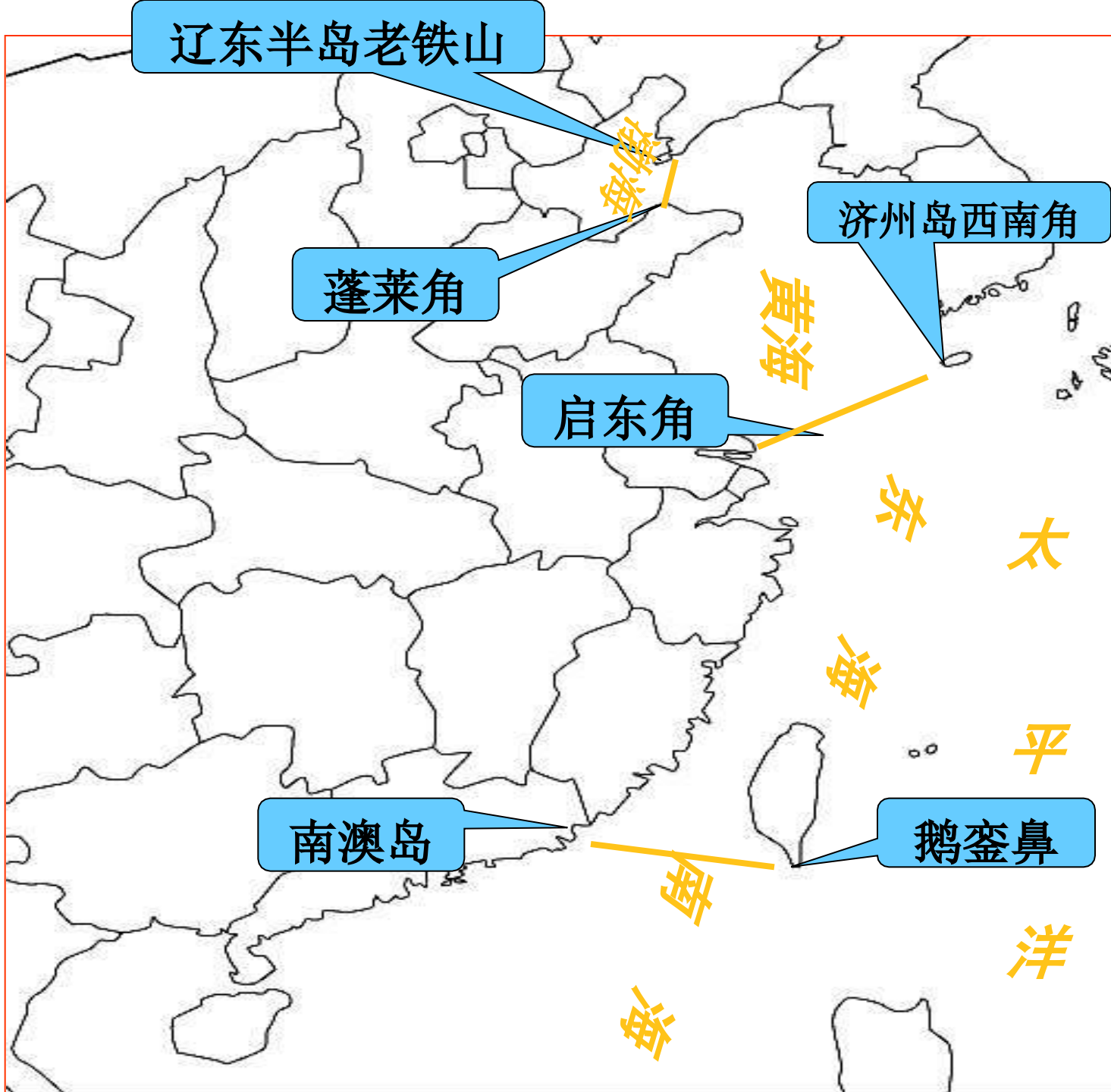
蓬莱角

启东角

南澳岛

济州岛西南角

鹅銮鼻



## 【其它】

1.我国南北距离的计算:

2.辽阔的领土

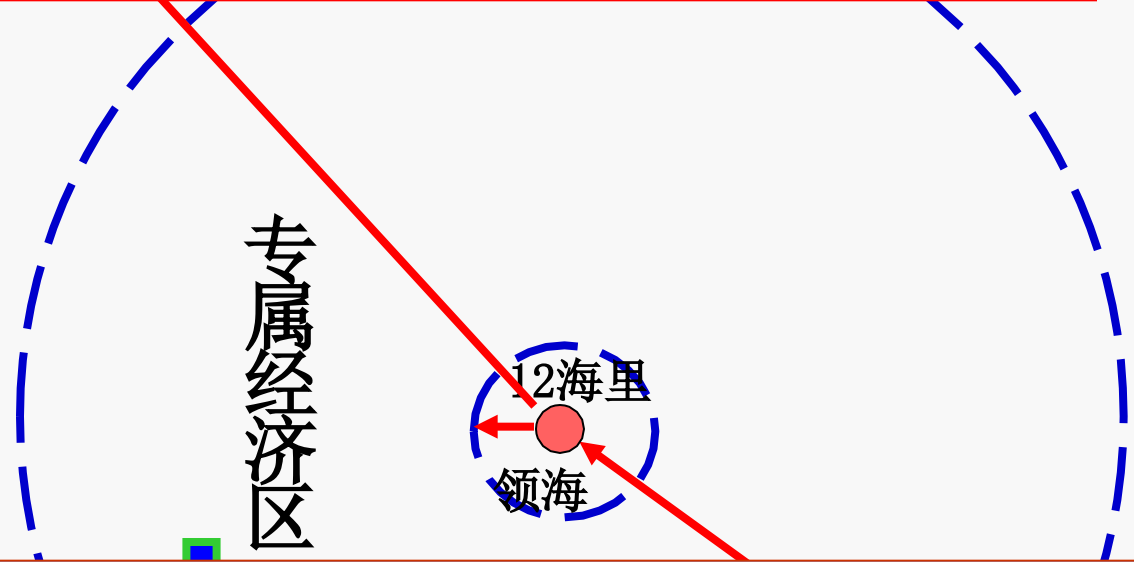
东西约**5000**千米，南北约**5500**千米，陆地面积**960**万平方千米

(我国东西跨约**60**度，南北跨约**50**度)

3.国土面积

**960+300=1260**万平方公里

在该区域内，沿海国享有勘探、开、  
利用、保护、管理海床及上覆水域及底  
土自然资源的主权权利。



领海是国家领土在海中的延续，属于国家  
领土的一部分。国家对领海行使主权，对领  
海内的一切人和物享有专属管辖权。国家对  
领海的主权及于领海的上空及海床和底土。

$$S = 3.14 \times (200 \times 1.85)^2 = 43 \text{ 万平方千米} \quad (\text{相当于四个浙江省})$$

以上内容仅为本文档的试下载部分，为可阅读页数的一半内容。如要下载或阅读全文，请访问：<https://d.book118.com/167122143201006156>