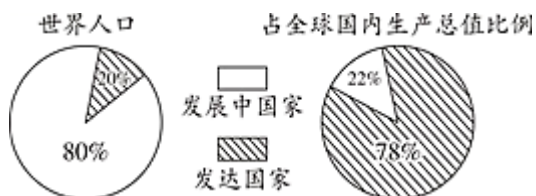


七年级上册地理第五章试卷及答案B卷人教版

一、选择题（本题包括20个小题。每题三分，共60分。每小题只有一个选项符合题意，请将正确答案填入题后括号中）

读下图，完成下面小题。



1. 划分发达国家与发展中国家的主要依据是

- A. 国家面积大小
- B. 国家人口多少
- C. 经济发展水平
- D. 人口受教育的水平

2. 下列有关发达国家和发展中国家的描述，正确的是

- A. 发展中国家人口较少
- B. 发达国家主要出口初级产品
- C. 发达国家人口自然增长率高
- D. 发展中国家主要位于北半球南部和南半球

【答案】1. C 2. D

【解析】1. 根据所学知识可知，根据经济发展水平的差异，通常把世界上的国家分为发达国家和发展中国家。因此C正确，故选C。

2. 发达国家大多分布于北美洲、欧洲和大洋洲；发展中国家大多分布在亚洲、非洲和拉丁美洲，因此D正确，发展中国家人口较多，A错误。发达国家以生产高新技术产品为主，B错误，发达国家人口自然增长率高低，发展中国家人口自然增长率较高。C错误。故选D。

【点睛】本题主要考查发达国家与发展中国家的区别。发达国家人口自然增长率高低，发展中国家人口自然增长率较高

联合国确定“最不发达国家”主要用人均国民生产总值、制造业所占比重以及人口入学率、识字率等指标。非洲吉布提连续多年被列为“世界最不发达国家”。目前中国正在帮助当地建设港口、铁路等基础设施，2017年10月18日中国援建的吉布提基础教育学校举行了隆重的开学典礼。

据此，回答下面小题。

3. 确定某个国家“不发达”的指标主要有（ ）

- ①国土面积 ②经济收入 ③受教育水平 ④资源状况 ⑤产业结构
- A. ①②③ B. ③④⑤ C. ①②④ D. ②③⑤

4. 除非洲外，世界上的发展中国家主要分布在（ ）
- A. 亚洲、北美洲 B. 亚洲、南美洲 C. 欧洲、大洋洲 D. 北美洲、欧洲
5. 我国对吉布提的各项援建项目，体现了（ ）
- A. 南南合作 B. 南北对话 C. 教育扶贫 D. 全球经济一体化

【答案】3. D 4. B 5. A

【解析】划分：依据经济发展水平的差异分为发达国家和发展中国家。发达国家主要分布在欧洲、北美洲和大洋洲，包括美国、加拿大、英国、法国、德国、意大利、澳大利亚、新西兰以及亚洲的日本等。发展中国家主要分部在亚洲、非洲和拉丁美洲。

3. 依据经济发展水平的差异分为发达国家和发展中国家。经济发展水平包括经济收入、受教育水平、产业结构等等。故D符合题意。

4. 依据经济发展水平的差异分为发达国家和发展中国家。发展中国家主要分部在亚洲、非洲和拉丁美洲。故 B符合题意。

5. 发展中国家之间的互助合作叫做“南南合作”。中国和吉布提都是发展中国家，所以是南南合作。故A符合题意。

新华社北京4月23日电22日全球疫情简报：全球新冠肺炎累计确诊病例142557268例，累计死亡病例3037398例。据此回答下面小题

6. 在新冠疫情这一突发全球性公共卫生事件中，监测疫情发展状况及趋势，汇集所有关于疫情的信息，对全球抗击疫情的决策、资源分配等起到重要作用的国际组织是（ ）
- A. 联合国 B. 世界贸易组织 C. 世界卫生组织 D. 国际红十字会
7. 应对全球性突发公共卫生事件时，需要各国的合作与共同努力。下列国家的互助合作，属于“南南合作”范畴的是（ ）
- A. 中国—意大利 B. 中国—巴基斯坦 C. 美国—加拿大 D. 中国—日本

【答案】6. C 7. B

【解析】世界卫生组织是联合国下属的一个专门机构，总部设置在瑞士日内瓦，只有主权国家才能参加，是国际上最大的政府间卫生组织。世界卫生组织的宗旨是使全世界人民获得尽可能高水平的健康。世界卫生组织的主要职能包括：促进流行病和地方病的防治；提供和改进公共卫生、疾病医疗和有关事项的教学与训练；推动确定生物制品的国际标准。

6. 世界卫生组织的宗旨是使全世界人民获得尽可能高水平的健康。世界卫生组织的主要职能包括：促进流行病和地方病的防治；提供和改进公共卫生、疾病医疗和有关事项的教学与训练；推动确定生物制品的国际标准。故选C。

7. “南南合作”是指发展中国家与发展中国家的合作，意大利，美国，加拿大，日本等属于发达国家，故选B。

下表示意2020年不同国家的人类发展指数（人类发展指数最高为1，指数越高，表示发展水平越高），据此，完成下面小题。

国家	美国	挪威	巴西	日本
人类发展指数	0.926	0.957	0.765	0.919

8. 上述国家发展水平最高的是（ ） A. 美国 B. 挪威 C. 巴西 D. 日本

9. 巴西和日本两国的经济合作被称为（ ）
A. “北北合作” B. “南南合作” C. “南北对话” D. 区域经济一体化

【答案】8. B

9. C

【解析】8. 人类发展指数越高，发展水平也越高。阅读表格中数据可知，挪威人类发展指数为0.957，在四国中最高，所以发展水平最高。B正确，ACD错误。故选B。

9. 日本属于发达国家，巴西属于发展中国家，所以说日本和巴西之间的经济合作称为“南北对话”。C正确，ABD错误。故选C。

【点睛】发达国家主要分布在北半球，发展中国家主要分布在南半球和北半球的南部，针对发展中国家与发达国家分布的南北差异，国际上把这种差别说成是“南北差距”。发展中国家与发达国家之间的商谈称为“南北对话”，发展中国家之间的互助合作称为“南南合作”。

2019年金砖国家（巴西、俄罗斯、中国、印度、南非）外长会晤，7月26日在巴西里约热内卢举行，与会各国部长强调捍卫多边主义，支持联合国的核心作用，以维护新兴市场和发展中国家的共同利益和发展空间。据此回答下面小题。



10. 下列关于金砖国家的叙述，正确的是（ ）

- A. 金砖国家均分布在东半球
- B. 巴西和南非隔太平洋相望
- C. 金砖五国中面积最大的国家是俄罗斯
- D. 中国和印度的合作属“南北对话”

11. 关于金砖国家的语言、人种及宗教的说法中，正确的是（ ）

- A. 南非居民多使用法语
- B. 金砖五国中没有使用阿拉伯语的国家
- C. 印度居民多信仰基督教
- D. 中国和俄罗斯居民均以黄色人种为主

【答案】10. C

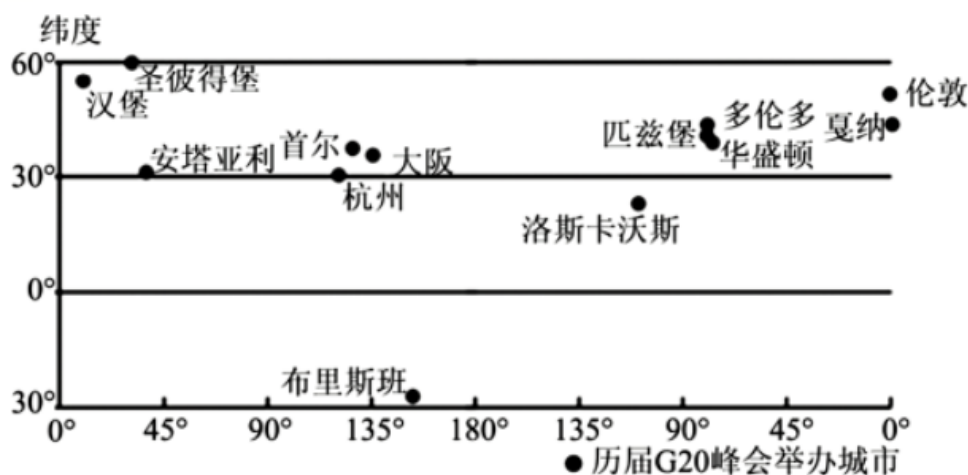
11. B

【解析】10. 读图可知，巴西位于西半球，A错误。巴西和南非隔大西洋相望，B错误。俄罗斯是世界上面积最大的国家，金砖五国中面积最大的国家是俄罗斯，C正确。中国、印度均为发展中国家，中国和印度的合作属南南合作，D错误。故选C。

11. 南非官方语言是英语和班图语，A错误。阿拉伯语主要在西亚和北非地区的阿拉伯国家使用，金砖五国中没有使用阿拉伯语的国家，B正确；印度居民多信仰印度教，C错误；中国以黄色人种为主，俄罗斯以白色人种为主，D错误。故选B。

【点睛】发展中国家与发达国家之间的关于经济、政治等方面问题的商谈，叫做“南北对话”。发展中国家之间的互助合作，称为“南南合作”。

2020年3月26日，二十国集团(G20)领导人以“云会议”的形式在北京时间晚8时许，召开应对肺炎疫情特别峰会，这次特别峰会也是G20历史上首次举行视频峰会，是各方讨论采取共同行动的重要契机。下图为“G20峰会部分举办城市分布图”，据此完成下面小题。



12. G20举办城市 ()
- A. 均在中纬度地区 B. 多处温带地区 C. 多位于南半球 D. 均属东经度
13. 二十国集团(G20)应对新冠肺炎特别峰会召开“云会议”需选择“合适时间”的地理原因是 ()
- ①地球自转 ②地球公转 ③经度差异 ④纬度差异
- A. ①② B. ①③ C. ②③ D. ③④
14. 习近平主席在峰会上特别强调：“新冠肺炎疫情正在全球蔓延……国际社会最需要的是坚定信心、齐心协力、团结应对，全面加强国际合作，凝聚起战胜疫情强大合力，携手赢得这场人类同重大传染性疾病的斗争。”这段话说明 ()
- A. 国家政治关系日益紧张 B. 疫情蔓延程度不同，需“以邻为壑”
- C. 医疗物质供不应求，商业竞争日趋激烈 D. 加强全球合作，团结协作应对挑战

【答案】12. B

13. B

14. D

【解析】12. 从图上来看，历届G20举办城市大部分位于温带地区(23.5° ~ 66.5° 之间为温带地区)，

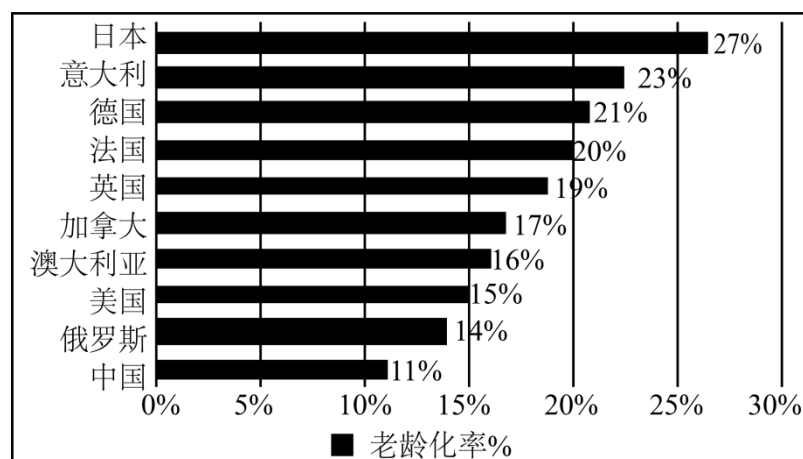
多分布于北半球；东西经度都有，跨低中纬度；故选项B符合题意。故选B。

13. 地球自转产生时差。地球自转的方向是自西向东，不同经度的地区地方时不同，东边的地点总是比西边的地点先看到日出。召开“云会议”需选择“合适时间”的地理原因①地球自转、③经度差异。故选B。

14. 根据题文材料，加强国际合作，携手共战疫情，A错误；在抗击疫情面前，整个人类是一个祸福相依的命运共同体，需相向而行，而不应以邻为壑，B错误；我国在新冠疫情爆发期间积极恢复生产，为全球各国提供大量的医疗防护物资，极大支援了全球抗疫工作，C错误；加强全球合作，团结协作应对挑战，人类是一个休戚与共的命运共同体，共同的挑战需要合力应对，D正确，故选D。

【点睛】共同的命运需要同舟共济。人类只有一个地球，各国共处一个世界。地球是人类共同家园，也是人类到目前为止的唯一家园。客观的生存条件和“你中有我、我中有你”的时代环境，使每个民族、每个国家的前途命运都紧紧联系在一起，一荣俱荣，一损俱损。

据报道，日本修订后的《民法》于4月1日生效，将成人年龄从20周岁下调至18周岁，当天约200万日本年轻人因法定年龄修正而进入成人行列。这是日本时隔146年首次修改法定成人年龄。图为2019年全球老龄化国家排行前十位统计图，据此完成下面小题。



15. 2019年，人口老龄化最严重的国家是（ ）
- A. 意大利 B. 日本 C. 德国 D. 法国
16. 全球老龄化国家排行前十位的国家大部分为（ ）
- A. 发达国家 B. 发展中国家 C. 贫困国家 D. 落后国家
17. 日本新法规定将成人年龄从之前的20岁下调至18岁，主要是为了（ ）
- A. 降低老年人口比重 B. 完善社会保障制度 C. 缓解劳动力不足 D. 推动产业结构转型

【答案】15. B

16. A

17. C

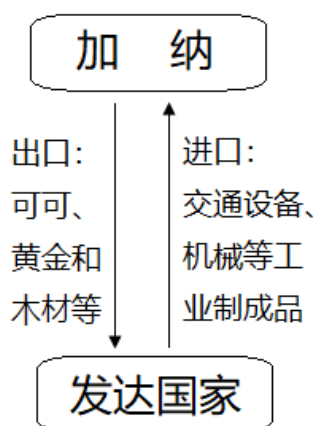
【解析】15. 结合“2019年全球老龄化国家排行前十位统计图”来看，2019年，人口老龄化最严重的国家是日本，该国老龄化率是27%；意大利老龄化率是23%，德国老龄化率是21%，法国老龄化率是20%；B正确。故选B。

16. 全球老龄化国家排行前十位的国家中，只有中国和俄罗斯属于发展中国家，其它八个国家都属于经济发达国家，A正确。故选A。

17. 日本新法规定将成人年龄从之前的20岁下调至18岁，是由于考虑到日本高龄化社会日趋严重，日本政府此次修订法律的目的在于促使日本年轻人尽早自立，为活跃社会做出更多贡献，缓解劳动力不足，C正确。将成人年龄从之前的20岁下调至18岁，不会降低老年人口比重，与完善社会保障制度和推动产业结构转型无关，ABD错误。故选C。

【点睛】日本修法将成人年龄由20岁下调至18岁，法律的修改除配合国民投票法和公职选举法将选举年龄下调为18岁外，还着眼于日本国内少子老龄化问题，旨在促进年轻人积极参与社会。

加纳位于非洲西部沿海，矿产和森林资源丰富，经济以农业为主，工业基础薄弱。图示意加纳主要进出口产品。据此完成下面小题。



18. 加纳与发达国家之间的政治、经济商谈，一般被称为（ ）

- A. 东西对话
- B. 东西合作
- C. 南北对话
- D. 南南合作

19. 加纳经济发展水平低的主要原因有（ ）

- A. 资源匮乏
- B. 劳动力短缺
- C. 海运不便
- D. 过分依赖初级产品生产

20. 下列做法，不利于加纳经济持续发展的是（ ）

- A. 加强基础设施建设
- B. 加强国际合作
- C. 努力发展民族工业
- D. 加大矿产开采与出口

【答案】18. C

19. D

20. D

【解析】18. 发达国家大部分位于北半球，发展中国家主要分布在南半球和北半球的南部，因此，国际上一般把发展中国家与发达国家之间的政治、经济商谈称为“南北对话”，将发展中国家之间的互助合作被称为“南南合作”。加纳属于发展中国家，所以加纳与发达国家之间的政治、经济商谈，一般被称为南北对话，C正确，ABD错误。故选C。

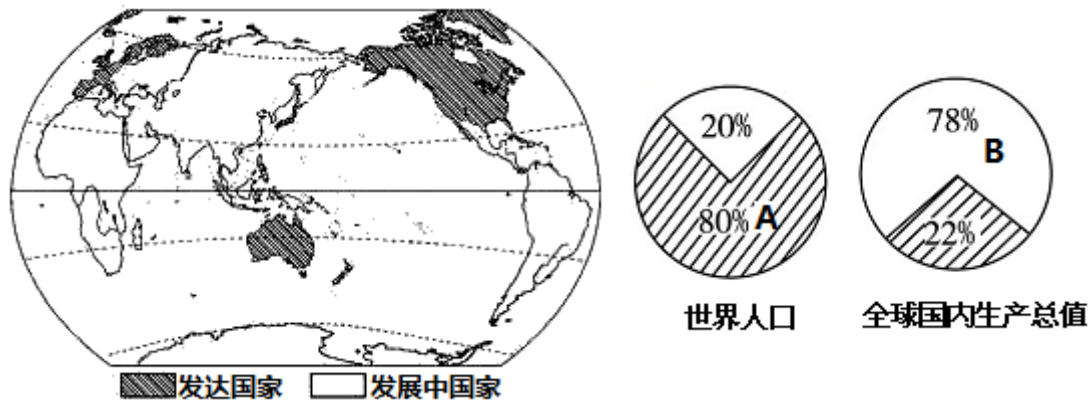
19. 据图可知，加纳以出口可可、黄金、木材等初级产品为主，科技含量低，产品价格低，所以加纳经济发展水平低，D正确；加纳资源丰富，濒临海洋，交通便利，劳动力资源丰富，ABC错误。故选D。

20. 要改变加纳经济落后，人民贫困的状况，一方面应加强国际团结与合作，通过提高本国人口素质，或从发达国家引进人才和技术，积极发展民族工业，生产工业制成品，改变出口初级产品的状况；另一方面应加强基础设施建设，并积极发展粮食生产，解决粮食短缺问题，ABC选项有利于加纳经济持续发展。矿产资源属于非可再生资源，开采一点少一点，且直接出口价格低，不利于加纳经济持续发展，D选项符合题意，故选D。

【点睛】非洲丰富的自然资源为经济发展创造了有利条件，但由于历史上长期受殖民主义者占领和掠夺，撒哈拉以南非洲的许多国家经济发展缓慢，出口初级农矿产品，进口工业制成品，在国际贸易中处于不利地位，为改变经济过分依赖初级农矿产品出口的状况，非洲各国应加强合作，大力发展民族工业，对初级产品进行加工再出口，增加产品的附加值。

二、简答题（本题包括4个小题。每题10分，共40分。）

21. 读“发达国家与发展中国家分布图”和“世界人口和国内生产总值比较图”，完成下列问题。



(1) 符号A. 表示_____ (发展中/发达) 国家, 符号B. 表示_____ (发展中/发达) 国家。

(2) 世界上的发达国家如美国、加拿大、澳大利亚、日本等, 除澳大利亚等国外, 都分布在_____ (南/北) 半球。

(3) 发达国家人口占世界人口比例为_____, 而国内生产总值却占比例为_____。这两幅图说明了发展中国家与发达国家的差异主要表现在_____。

(4) 在国际上, 一般把发展中国家和发达国家之间的政治、经济商谈称为_____, 将发展中国家之间的互助合作称为_____。

【答案】 发展中 发达 北 20% 78%

发展中国家人口多经济欠发达, 发达国家人口少经济发展水平高 南北对话
南南合作

【解析】 世界上的国家根据经济发展水平可划分为发达国家和发展中国家, 大部分国家属于发展中国家, 主要分布在亚洲、非洲和拉丁美洲, 发达国家数量少, 主要分布在欧洲、北美洲和大洋洲。

【详解】 (1) 世界各国的经济发展状况存在着明显差异。根据经济发展水平的高低, 通常可把世界上的国家划分为发达国家和发展中国家。其中发展中国家的人口占世界人口的80%, 但国内生产总值仅占世界的22%, 而发达国家人口占世界总人口的20%, 但国内生产总值却占世界的78%, 综上分析, 图中A为发展中国家, B为发达国家。

(2) 据发达国家与发展中国家分布图可以看出, 世界上的发达国家如美国、加拿大、澳大利亚、日本等, 除澳大利亚等国外, 都分布在北半球。

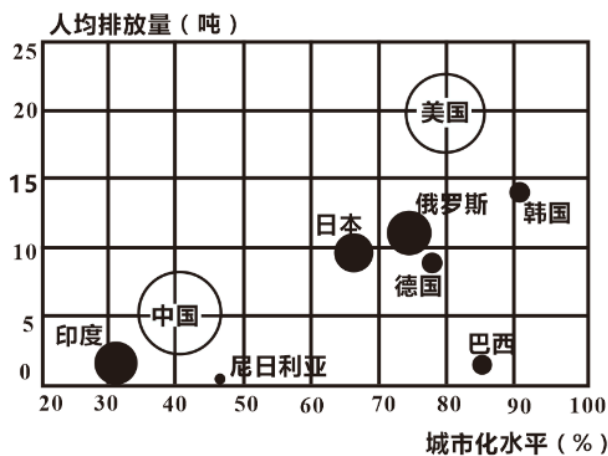
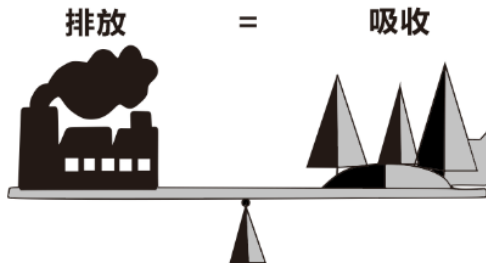
(3) 读图并结合所学知识可得，发达国家人口约占世界总人口的20%，但其国内生产总值却占到全球国内生产总值的78%左右，而发展中国家人口约占世界总人口的80%，但其国内生产总值却只占全球国内生产总值的22%左右。发达国家利用其掌握的高技术和从发展中国家购买来的廉价原材料，制造技术含量高的工业品，并销售到世界各地，获取高额利润，因而经济发展水平比较高。大多数发展中国家，由于历史上长期受帝国主义和殖民主义的侵略剥削，大量资源被掠夺，生产产品单一，建设资金不足，生产效率不高，且人口增长快，导致社会经济发展相对落后，有些国家还处于非常贫困的状态。

(4) 针对发展中国家与发达国家分布的南北差异，国际上把这种经济发展差别说成是“南北差距”。发展中国家与发达国家之间关于经济、政治等方面问题的商谈，叫做“南北对话”。发展中国家之间的互助合作，称为“南南合作”。

22. 左图示意世界部分国家二氧化碳排放总量和人均排放量，右图示意碳中和的含义，读图完成下列问题。

碳中和

某个地区在一定时间内人为活动直接和间接排放的二氧化碳，与其通过植树造林等吸收的二氧化碳相互抵消，实现二氧化碳“净零排放”。



注：圆形大小表示的是各国二氧化碳排放总量的大小

(1) 二氧化碳人均排放量最高的国家是____，城市化水平最高的国家是____。

(2)从经济发展水平看,美国、德国、日本属____,它们与中国、印度等国在实现“碳中和”目标方面的合作称为“____”。

(3)大气中二氧化碳含量增加使全球气候有变暖的趋势。列举一项全球气候变暖现象对人类的影响:____;请为实现“碳中和”提出一条可行的措施:____。

【答案】(1) 美国 韩国

(2) 发达国家 南北对话

(3) 海平面上升;低矮的平原和城市被淹没;两极地区与高山冰雪融化等;
植树造林;减少煤炭等化石燃料的使用;禁止乱砍滥伐;使用更清洁的新能源等

【解析】本题以“世界部分国家二氧化碳排放总量和人均排放量示意图”、“碳中和的含义”为材料,涉及发达国家与发展中国家的划分、南北关系、温室效应等相关知识,考查学生的读图能力以及根据所学知识解决问题的能力。

(1)据图可知,美国的二氧化碳排放量为20吨,远高于韩国、俄罗斯、日本、德国、巴西、中国、印度和尼日利亚,是二氧化碳人均排放量最高的国家;从城市化水平来看,韩国的城市化水平在90%左右,是城市化水平最高的国家。

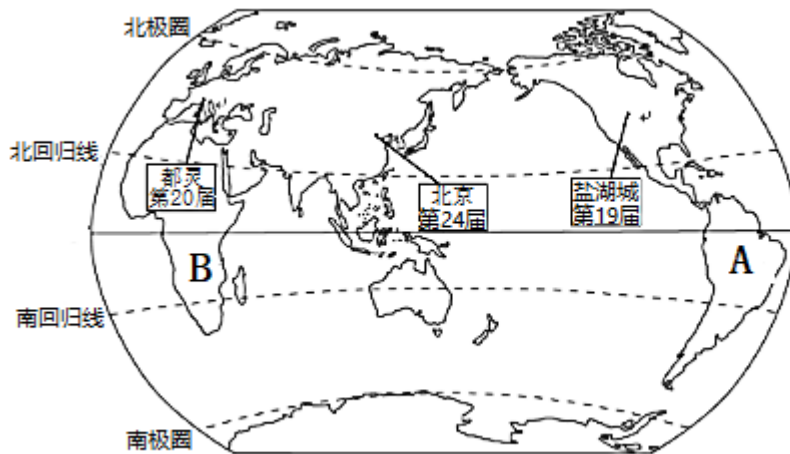
(2)从经济发展水平看,美国、德国、日本经济和社会发展水平较高,属发达国家;中国、印度等国属于发展中国家,发展中国家与发达国家之间的合作成为“南北对话”。

(3)全球气候变暖,会导致冰川融化、海平面上升,使得海啸,台风,夏天非常热,冬天非常冷等极端天气增多,同时给海洋生态、水循环等带来影响,造成一些物种的灭绝,所以我们应采取低碳、环保的生活方式,并通过植树造林、减少煤炭等化石燃料的使用、禁止乱砍滥伐、使用更清洁的新能源等方式应对温室效应,实现“碳中和”。

23. 阅读图文资料,完成下列问题。

材料一:第24届冬季奥林匹克运动会,将于2月4日~20日在中国北京和张家口举行。

材料二:“部分冬季奥运会举办城市分布”图及三大宗教建筑照片



A



B



C

- (1) 第19届冬季奥运会举办城市所在大洲与A大洲的分界线是_____，其所在国家的官方语言是_____，该语言在世界上使用范围最广。
- (2) 在第20届冬季奥运会举办城市所在的大洲主要以_____种人为主，居民主要信仰_____教，该宗教为世界三大宗教之一，其建筑景观为_____（填字母）。
- (3) 第24届冬季奥运会将在我国北京和张家口举办，我国是最大的_____（填“发达”或“发展中”）国家。
- (4) “万村通”项目是我国援助B_____洲实施收看卫星电视项目，为长期闭塞的该大洲农村民众打开了解世界的窗口，该项目体现了国际互助中的_____（填“南北对话”或“南南合作”）。

【答案】(1) 巴拿马运河 英语

(2) 白 基督 B

(3) 发展中

(4) 非 南南合作

【解析】本题以部分冬季奥运会举办城市分布图及三大宗教建筑照片为材料，涉及七大洲的分布、大洲分界线、世界的人种、语言和宗教、国际合作等知识点，考查学生对图分析能力和区域认知的核心素养。

(1) 读图可知，第19届冬奥会在美国举办，其所在大洲北美洲与A所在大洲南美洲的分界线是巴拿马运河，美国的官方语言是英语。

(2) 读图可知，第20届冬奥会在欧洲举办，欧洲以白色人种为主，居民信奉基督教，A景观为佛教，B景观为基督教，C景观为伊斯兰教。故选B。

(3) 我国是世界最大的发展中国家，同时也是仅次于美国的第二大经济体。

以上内容仅为本文档的试下载部分，为可阅读页数的一半内容。
。如要下载或阅读全文，请访问：<https://d.book118.com/178117135142006104>