


第5单元综合素质达标




一、我聪明，我会填。(第1题3分，其余每空3分，共42分)

1. 下面右边的哪张图是小老鼠看到的？哪张图是小猴看到的？把相应的名字填在()里。



()



()






(小猴)




小老鼠

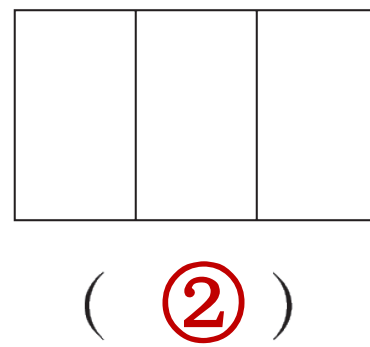
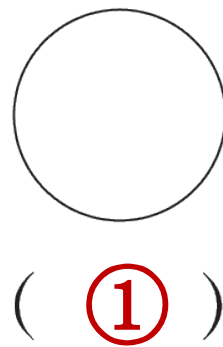
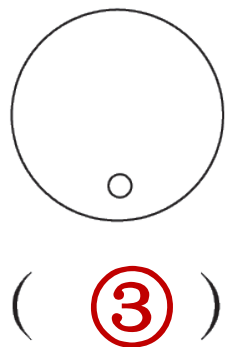
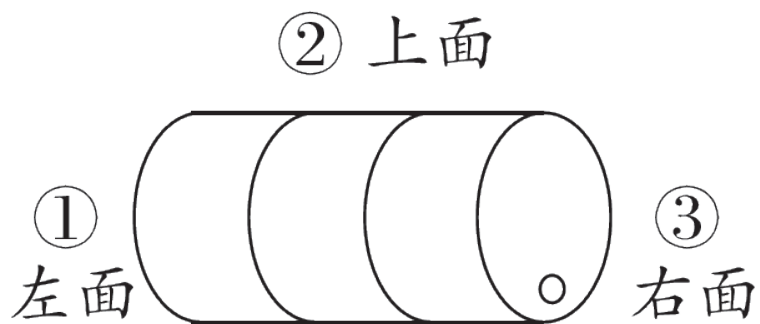
2. 下面右边的三幅图分别是在哪个位置看到的？把相应的序号填在()里。



3. 下面右边的三幅图分别是在哪个位置看到的？把相应的序号填在()里。



4. 下面右边的三幅图分别是在哪个位置看到的？把相应的序号填在()里。



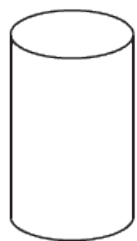
5. 下面右边的照片分别是谁拍的？把名字填在相应的()里。



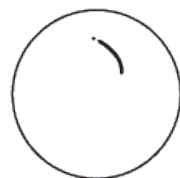
二、我自信，我会选。(把正确答案的序号填在括号里)

(每题3分，共18分)

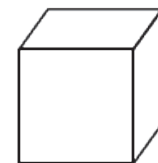
1. 从一个方向看立体图形是圆，这个立体图形不可能是()。③



①

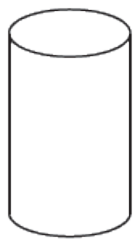


②

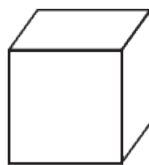


③


2. 从上面、前面或侧面看(②), 看到的形状都是一样的。
的。



①




②



③


3. 聪聪观察桌面上的圆柱，看到的形状是(①)。




①



②



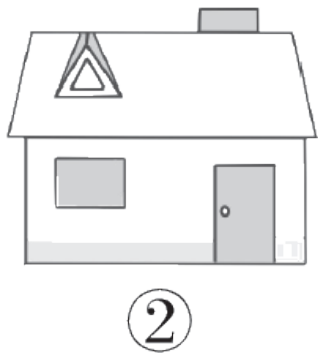
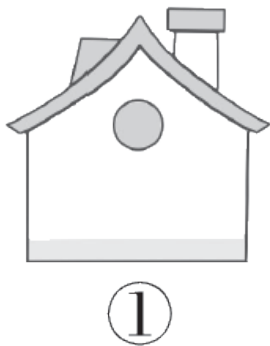


③



聪聪

4. 华华看到的是图(②)。



以上内容仅为本文档的试下载部分，为可阅读页数的一半内容。如要下载或阅读全文，请访问：
<https://d.book118.com/196205202210010200>