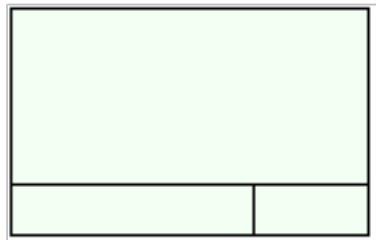


二年级上册数学应用题 100 道

一. 解答题(共 100 题, 共 634 分)

1. 数一数图中有几个直角?



2. 算一算。



(1) 买这三种学具共花了多少元?

(2) 拿 30 元钱买词典和文具盒, 够吗?

3. 把一张正方形纸片剪去一个角, 剩下的部分有几个角? 有几个直角?

4. 每两棵树之间相距 9 米, 明明从第 1 棵跑到第 5 棵, 一共跑了多少米?

5. 学校买了 25 副乒乓板, 8 副羽毛球拍。

(1) 一共买了多少副乒乓板和羽毛球拍?

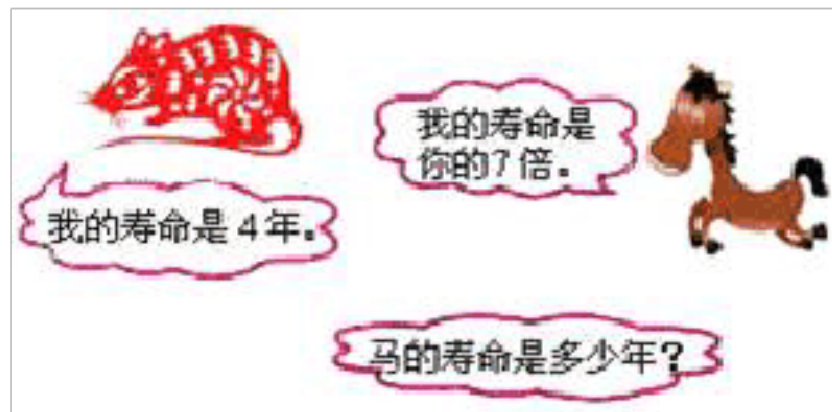
(2) 羽毛球拍比乒乓板少买多少副?

6. 有一些彩色粉笔, 黄粉笔比红粉笔多 8 支, 红粉笔比蓝粉笔多 3 支, 黄粉笔的支数正好是红粉笔的 2 倍。黄粉笔、红粉笔、蓝粉笔各有多少支?

7. 一共有多少个梨?



8. 一本故事书 4 元，一本连环画 7 元，买 5 本故事书和一本连环画一共多少钱？
9. 周日，小强和 4 个同学去公园玩，公园的儿童票是每张 7 元，他们一共花了多少元？
10. 看图回答。



11. 车上原有 32 人，现在有多少人？



12. 把一根木头锯成 5 段，要锯几次？如果每锯一次用 3 分钟，一共要用多少分钟？
13. 一（1）班 47 人去检查视力，检查了一些同学后，还剩 12 人没有检查，检查了视力的同学有多少人？
14. 小明有 35 本书，小丽有 20 本书。
- (1) 小明比小丽少多少本书？
 - (2) 小丽比小明多多少本书？
 - (3) 两人一共有多少本书？
15. 一捆电线长 20 米，第一次用去 5 米，第二次用去 6 米。
- (1) 一共用去多少米？
 - (2) 还剩多少米？

16. 小小花店。



(1) 我买一束菊花和一束康乃馨，我花了多少钱？

(2) 我买一束玫瑰和一束百合花，我花了多少钱？

(3) 我花了 66 元，你们猜我可能买了什么花？

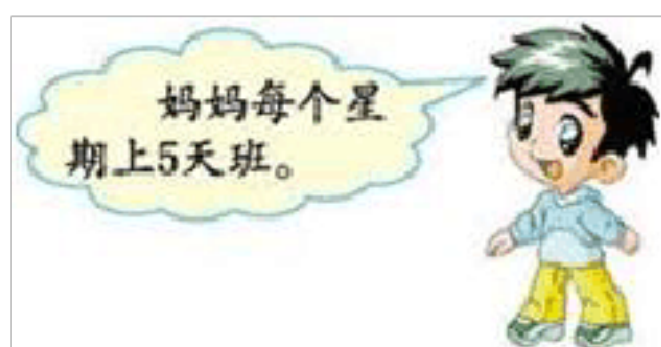
(4) 你还能提出什么问题？

17. 在回收废电池的活动中，小青带来 18 节电池，小云比小青多带 5 节，小云带来几节废电池？

18. 一篮橘子有 18 个，小红每天吃 2 个，吃了 5 天后，篮子里的橘子少了多少个？

19. 一支粉笔长 6 厘米，5 支这样的粉笔接起来长多少厘米？

20. 妈妈 4 个星期要上几天班？



21. 小明和小芳一起做跳绳，小明跳了 67 下，小芳跳了 48 下。小芳再跳多少下就和小明跳的一样多？


22. 小明有 35 本书，小丽有 20 本书。

(1) 小明比小丽少多少本书？

(2) 小丽比小明多多少本书?

(3) 两人一共有多少本书?

23. 鸭有多少只?



24. 幸福的一家。




(1) 爷爷今年多少岁?

(2) 爸爸今年多少岁?

25. 王刚买一根长 40 米的铁丝，用了一些后还剩 26 米。他用了多少米铁丝?

26.



(1) 4个  要用多少元?

(2) 一个  比一个  多 27 元, 一个  要多少元?

(3) 小芳有 50 元钱, 买一辆玩具小汽车和一个足球, 钱够吗? (请列式计算, 再选择正确答案)

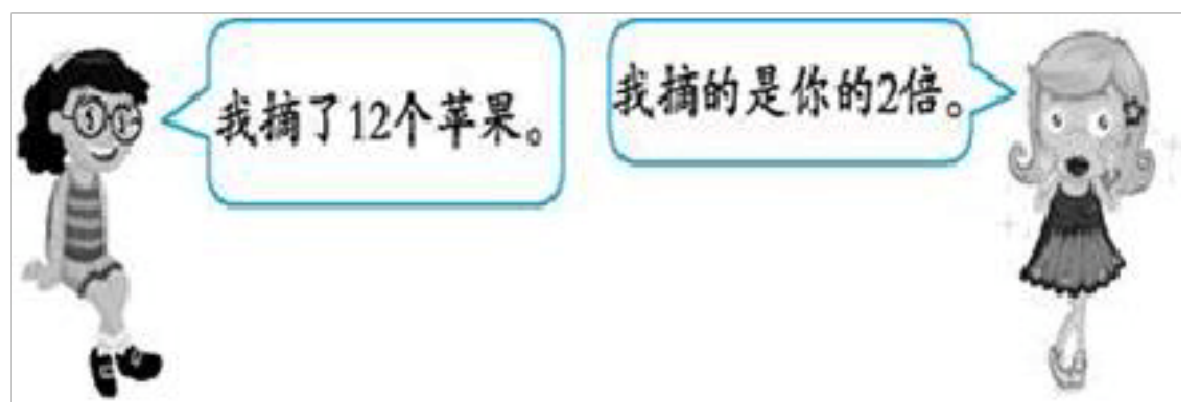
够 () 不够 ()

27. 二(1)班有女生 13 人, 男生 17 人, 又转来 5 人, 二(1)班现在多少人?

28. 食堂里一共有 83 个鸡蛋, 李阿姨做菜用去了 18 个鸡蛋, 还剩下多少个鸡蛋?

29. 第一组植树 17 棵, 第二组和第三组各植树 11 棵, 三个组一共植树多少棵?

30. 她们一共摘了多少个苹果?



31. (1) 明明带了 56 元钱买了一个铅笔刀, 找回 30 元, 铅笔刀多少元?

(2) 明明带了 56 元钱买了一个 , 用去 20 元, 应找回多少元?

32. 解答题。



(1) 袜子比鞋子便宜 18 元，一双袜子多少钱？

(2) 一双鞋子比一副手套贵多少钱？

(3) 我用 20 元，可以买双鞋吗？

33. 滑冰场上午有 72 人，中午有 44 人离去，又有 85 人到来. 现在有多少人在滑冰？

34. 小丽有 8 本书，小明的书的总数是小丽的 7 倍，小明一共有多少本书？

35. 小丽和小娟共做红旗 18 面，小丽做 10 面，小娟做多少面？

36. 二年级一班的同学做手工娃娃，男生做了 42 个，女生做了 58 个，送给幼儿园 30 个，二年级一班的同学还剩下布娃娃多少个？

37. 一棵大树高 10 米，另一棵大树高 8 米，两棵大树相差多少米？

38. 一套学具有红、黄、蓝、绿四种颜色的卡片，每种卡片有 6 张，算一算，这套学共有多少张？

39. 聪聪、文文和松松一起去公园玩。

价目表	
小火车	7元/人
过山车	8元/人
碰碰车	6元/人
海盗船	9元/人

(1) 三人全部乘小火车需要多少钱？


(2) 如果带 30 元钱，三人全部坐海盗船，够吗？

(3) 如果两人坐碰碰车，一人坐过山车，要多少钱？



(4) 再提出一个数学问题，并解答。

40. 小白兔再给小灰兔几棵白菜，他们俩就同样多。



41. 妈妈买回来一些螃蟹 。一只螃蟹 8 只脚，8 只螃蟹有多少只脚？

$$\square \bigcirc \square = \square \quad (\quad)$$

42. 买一件  和一双 ，需要多少钱？



43. 每个学生宿舍有 3 张床，5 个这样的宿舍有几张床？

44. 我们班有男生 27 人，女生比男生少 9 人，女生有多少人？我们班一共有多少人？

45. 商店里的衬衣 47 元、帽子 8 元、裤子 54 元、鞋 28 元。回答下列问题：

(1) 爸爸给小明买了一顶帽子和一双鞋，一共用了多少钱？

(2) 衬衣比裤子便宜多少钱？

(3) 爸爸买一件衬衣，付出 50 元，应找回多少钱？

46. 棋盘上黑色棋子有 37 颗，白色棋子有 30 颗，白色棋子比黑色棋子少几颗？两种棋子一共有多少颗？

47. 商店里有笔记本、钢笔、文具盒和铅笔，每本笔记本 5 元，每支钢笔 14 元，每个文具盒 8 元，每支铅笔 3 元。请你列综合算式解答下列问题。

(1) 买 5 本笔记本和一个文具盒，应付多少元？

(2) 买 1 支钢笔和 4 支铅笔，应付多少元？

(3) 买 2 支钢笔，付出 100 元，应找回多少元？

48. 根据表中的信息回答问题。

动物	老虎	袋鼠	鲸鱼	豹子
速度	每秒跑 20 米	每秒跳 12 米	每秒游 8 米	

(1) 豹子每秒跑的路程比老虎和袋鼠每秒跑的路程和少 7 米，豹子每秒跑多少米？

(2) 请你再提出一个数学问题并解答。

49. 购物。



(1) 买玩具一辆汽车和一个布娃娃，一共要多少钱？

(2) 小明有 100 块钱，买三样玩具钱够吗？

50. 小文的身高为 1 米 26 厘米，明明站在一块高 15 厘米的木头上时，刚好与小文一样高。明明的身高是多少？



51. 妈妈去商店买回白菜花了 28 元钱，买茄子花了 9 元钱，妈妈去商店一共花了多少元钱？
52. 解答题。







- (1) 这两辆车一共能乘坐多少人？
- (2) 大车比小车多乘坐多少人？

53. 一本故事书 24 元，一本儿童漫画 48 元。买这两本书一共要花多少元钱？付款 100 元应找回多少元钱？
54. 妈妈有 45 枚邮票，小明比妈妈少 18 枚邮票，小明有多少枚邮票？
55. 奶奶今年 62 岁，果果今年 9 岁。10 年后奶奶比果果大多少岁？
56. 老山羊身高 1 米，小狗比老山羊矮 40 厘米，算一算，小狗有多高？
57. 二（1）班有两位老师带着 25 名男生和 21 名女生，准备租用车参观科技馆。租 50 座的车够坐吗？
58. 车上原来有 35 人，到站下去一些人后，还剩 9 人。到站下去了多少人？
59. 8 岁的阳阳随旅游团到草原去，搭了 3 个帐篷，每个帐篷住 7 人，刚好住下所有人，算一下他们去了多少人？
60. 一本 24 页的画册，小丽每天读 3 页几天读完？每天读 4 页呢？
- 61.

根据问题填空：

先填表，再回答问题。（从左到右填写）

	 南瓜	 萝卜	 茄子	 冬瓜
原有(个)	26	15	38	
卖出(个)	8			18
还剩(个)		6	19	9

(2) 剩下的南瓜和茄子一共有多少个？

$$\underline{\quad} + \underline{\quad} = \underline{\quad} (\text{个})$$

(3) 一共卖出萝卜和茄子多少个？

$$\underline{\quad} + \underline{\quad} = \underline{\quad} (\text{个})$$

(4) 原来南瓜和冬瓜一共有多少个？

$$\underline{\quad} + \underline{\quad} = \underline{\quad} (\text{个})$$

62. 小宁有 20 本课外书，小亮有 5 本课外书，小敏有 28 本课外书。

(1) 小宁和小亮一共有多少本课外书？

$$\underline{\quad} + \underline{\quad} = \underline{\quad} (\text{本})$$

答：小宁和小亮一共有 本课外书。


(2) 你还能提出什么数学问题？并解答。

63. 淘气有 58 本书，借给笑笑 17 本，还剩多少本？

64. 一片叶子上有 3 只毛毛虫，5 片叶子上有多少只毛毛虫？

65. 丁丁从图书馆借来一本 38 页的漫画书，结果发现最想看的第 4~9 页遗失了，这本书现在还有多少页？


66. 解答题。



(1) 小明折的幸运星有多少个？

(2) 小勇比小明多折了多少个？

67. 一共有多少只兔？



68. 小英一共要写多少个字？

以上内容仅为本文档的试下载部分，为可阅读页数的一半内容。如要下载或阅读全文，请访问：<https://d.book118.com/197166006152006165>