

一年级下册数学解决问题 100 道

一. 解答题(共 100 题, 共 560 分)

1. 我要洗 58 件衣服, 其中有 30 件上衣, 已经洗了 8 件, 还有多少衣服没有洗?
2. 一辆 34 个座位的大巴车, 在车站上车了 30 人, 还有多少个空座位?
3. 淘气买了一辆玩具小汽车, 付给售货员 3 张 5 元和 1 张 10 元的纸币, 售货员找回 1 元 6 角。这辆玩具小汽车多少钱?
4. 小明和小芳一起跳绳, 小明跳了 18 下, 小芳跳了 9 下, 小芳再跳多少下就和小明跳的一样多?
5. 一共有 11 条金鱼, 公的有 9 条, 请你算算母的有多少条?
6. 公交车上原来有 15 人, 车在某站停靠时下去了 7 人, 又上来了 6 人, 车上现在有多少人?



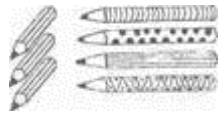
$$\square \bigcirc \square \bigcirc \square = \square \quad (\quad)$$

7. 有 100 名学生参加运动会, 每人分一瓶矿泉水。每箱有 12 瓶, 8 箱够分吗?
8. 趣味运动会上, “齐心协力”需要一位老师和一名学生组成一队参与活动。现在场上有 11 名学生和 8 位老师, 还缺几位老师?

$$\square \bigcirc \square = \square \text{ (位)}$$



答: 还缺____位老师。

9. 小明有 15 张卡片，给小丽几张后还剩 9 张？
10. 有 20 名运动员和 6 名教练，一箱矿泉水共有 24，每人 1 瓶，够吗？
11. 商店里有 42 支铅笔，第一天卖出 8 支，第二天卖出 12 支。



(1) 两天一共卖出多少支铅笔？商店里还剩几支铅笔？

(2) 1 支铅笔 5 角钱，我有 1 张 1 元和 3 张 2 角，最多可买几支铅笔？还剩多少钱？

12. 李阿姨拿了 14 个 ，分给小朋友 8 个，阿姨还剩多少个 ？

13. 七巧板由 7 个图形构成，请观察一下组成七巧板的七个图形里最多的是什么图形？



14. 小虎和小猴读书。



小虎比小猴多读多少页？

15. 一本书有 18 页，方方看了 9，还有几页没看？
16. 合唱组原来有 19 人，又有 8 人报名参加，现在有多少人？
17. 小红和小明吃了 9 个苹果，还剩 30 个，一共有多少个苹果？
18. 看图列式解答。



19. 草地上有 12 只绵羊和 8 只山羊，山羊比绵羊少几只？

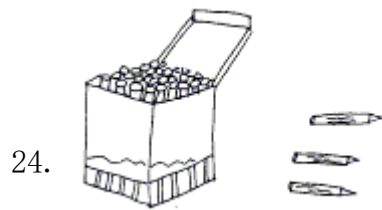
20. 停车场原来有 17 辆汽车，开走了 9 辆，过一会儿，又开来了 6 辆，现在停车场里有多少辆汽车？

21. 根据下面的条件，你能提出什么问题并解答。



22. 我从图书馆借了 18 本故事书和 12 本漫画书，还了 9 本漫画书，还有几本漫画书没有还？

23. 《河流乐园》有 28 本，《海底世界》有 20 本，一(1)班有 45 名学生，把这些书分给每人一本，够吗？



盒里还有 25 枝，一共有多少枝蜡笔？

25. 图书角一共有 42 本书，其中故事书有 20 本，上午共借出 8 本，图书角还剩多少本书？

26. 动物园有兔子 15 只，羊 8 只，兔子比羊多几只？

27. 一年级有 52 名同学，准备乘两辆车去公园，一辆车已经坐上了 30 名同学，另一辆车要坐多少人？

28. 车上原有 39 人，到站后下车 10 人，还剩多少人？

29. 下面是洋洋、小春和小敏在运动会上得到的分数。



洋洋	9分
小春	15分
小敏	10分

(1) 洋洋比小春少多少分？

(2) 小春比小敏多多少分?

(3) 洋洋比小敏少多少分

30. 箱子里有 24 瓶矿泉水。还剩下多少瓶?



$$\square \circ \square \square \square = \square \text{ (瓶)}$$

31. 妈妈买了一箱苹果，她付给售货员 1 张 50 元和 1 张 20 元，找回了 3 元 4 角，买苹果花了多少钱?

32. 原有鸽子 12 只，后来飞走了 6 只，又飞回来 10 只。现在有多少只鸽子?

33. 一个篮球 70 元，一个足球 25 元，小明要买足球和篮球，请问带一张



够吗?


34. 小强想买一个玩具车，他有 20 元钱，还差 5 元才能买到，一个玩具车要多少钱?

35. 有 13 人坐车去爬山，已经有 8 人上车，还有多少人没有上车?

$$\square \circ \square = \square \text{ (人)}$$

答：还有_____人没有上车。

36. 这本书一共有多少页？



$$\square \bigcirc \square = \square \text{ (页)}$$

37. 看图回答。



2 角



12 元



5 角



2 元

(1) 买一支笔和一块橡皮一共要多少钱？

(2) 洋娃娃比哨子贵多少钱？

(3) 用 5 元买一个哨子，应找回多少钱？

38. 小小商店。



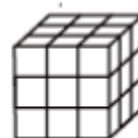
48元





52元



12元



10元

(1)  比  贵多少钱？

$$\square \bigcirc \square = \square \quad (\quad)$$

(2) 小红买了一件商品，付了 50 元，找回 2 元，她买的是哪一件？先算一算，再在图上把这件商品圈出来。

$$\square \bigcirc \square = \square \quad (\quad)$$

39. 解答题。



30元



80元



60元

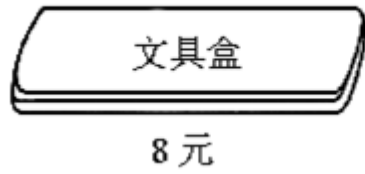
(1) 买一条裤子和一双鞋子共花多少钱？

$$\square \bigcirc \square = \square \quad (\text{元})$$

(2) 上衣比裤子贵多少元？

$$\square \bigcirc \square = \square \quad (\text{元})$$

40. 想一想，算一算。



(1) 买一瓶墨水和一个文具盒应付多少钱？

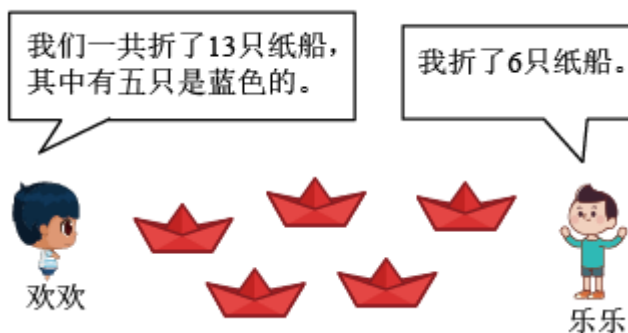
(2) 买一本童话书和一瓶墨水应付多少钱？

(3) 买一支铅笔和一个文具盒应付多少钱？

(4) 小明用 10 元钱去买一个文具盒，应找回多少钱？


41. 一支铅笔 9 角，一支钢笔 5 元 9 角。小明买一支铅笔和一支钢笔，一共花了多少钱？

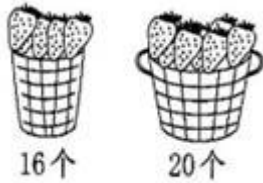
42. 解答题。



欢欢折了几只纸船？

$$\square \bigcirc \square = \square \quad (\quad)$$

43. 幼儿园小班一共有 40 个小朋友，每人发 1 个 ，够不够？



44. 在回收废电池的活动中，小青带来 18 节电池，小云比小青多带 5 节，小云带来几节废电池？

45. 商店运来 80 袋奶糖，上午卖了 24 袋，下午卖了 9 袋，一天一共卖了多少袋奶糖？

46. 逛商店。



(1) 一个熊猫玩具比一个文具盒贵多少钱？

(2) 小明有 35 元，买一个热水壶和一个键子够吗？

47. 饲养员养了 25 只白兔，又养 8 只黑兔，共养兔多少只？

48. 苏苏和晓晓去摘苹果，苏苏摘了 13 个，如果她给晓晓 4 个，两人的苹果就一样多了，你知道晓晓摘了多少个苹果吗？

49. 树上原来有 15 只鸟，飞走了 9 只，又飞来了 10 只，现在树上有几只鸟？

50. 圈一圈，估一估，数一数。

以上内容仅为本文档的试下载部分，为可阅读页数的一半内容。如要下载或阅读全文，请访问：

<https://d.book118.com/205332034323011211>