

# 一年级下册数学解决问题 100 道

## 一. 解答题(共 100 题, 共 530 分)

1. 张伟去“六元快餐店”吃午饭, 依据规定: 个人自选饭菜, 但必须正好6元. 他有哪些选择呢?

菜单:

鱼: 4 元          大排: 3 元          蛋: 2 元          青菜: 2 元

茄子: 2 元          汤: 1 元          饭: 1 元          面条: 3 元

2. 一支牙膏 2 元 2 角, 一把牙刷 1 元, 一把牙刷比一支牙膏便宜多少钱?
3. 小红买一瓶饮料 3 元, 一个汉堡 10 元 4 角。一个汉堡比一瓶饮料多多少钱?
4. 小雨和小雪共画了 12 朵花, 小雨画了 9 朵, 小雪画了几朵?
5. 我要洗 58 件衣服, 其中有 30 件上衣, 已经洗了 8 件, 还有多少衣服没有洗?
6. 松鼠妈妈摘了 49 个松果, 小松鼠摘的很少, 松鼠妈妈给小松鼠 9 个松果, 松鼠妈妈还剩下多少个松果?

$$\square \bigcirc \square = \square \text{ (个)}$$

7. 窝里有 13 只鸽子, 飞走了 9 支, 请问还剩下多少只?

8. 一个台灯 45 元, 一个书包 10 元,

(1) 买一个台灯和一个书包, 一共需要多少钱?

$$\square \bigcirc \square = \square \text{ (元)}$$

(2) 一个台灯比一个书包贵多少元钱?

$$\square \bigcirc \square = \square \text{ (元)}$$

9. 一本书有 70 页, 我还有 30 页没看, 我看了多少页?

10. 小朋友们在植树节集体去种树, 一共要种 15 棵树, 已经种了 6 棵。还需要种多少棵树?



11. 游泳：25人 跑步：30人 跳远：20人

(1) 参加游泳的同学比参加跑步的少几人？

(2) 跑步的同学比跳远的多几人？

(3) 你还能提出什么问题？

12. 松鼠妈妈让松鼠妹妹和松鼠弟弟每人拾19个松果回家，妹妹还差6个，弟弟还差11个，谁拾得多？多多少个？

13. 光明小学一共有45个班，每个班发一个篮球，最后有7个班没有发到篮球，一共有多少个篮球？

14. 树上原来有25只小鸟，先往东边飞走8只，后又往西边飞走15只，一共飞走了多少只？

15. 趣味运动会上，“齐心协力”需要一位老师和一名学生组成一队参与活动。现在场上有11名学生和8位老师，还缺几位老师？

16. 车上有8个老人，又上来一些，现在有14个老人，又上来几个老人？

17. 小丽要做12个五角星，做好了7个，还要做多少个？

18. 小伟有2元3角钱，买了1本书用去2元，还剩多少钱？

19. 兔子们拔了18根萝卜，吃了9根，又拔了6根。现在有多少根萝卜？

20. 第一小组有9个同学，每人浇6棵树。

(1) 第一小组共浇了多少棵树？

(2) 第二小组浇了50棵树，第一小组比第二小组多浇多少棵树。

21. 一个篮球70元，一个足球25元，小明要买足球和篮球，请问带一张



够吗？

22. 妞妞到文具店买了一个文具盒，用去她所带钱的一半；买了一盒彩笔，用去剩下钱的一半，最后还剩4元。妞妞一共带了多少元？

23. 原来有56个梨，卖出一些后还剩20个，卖出了多少个？

24. 一把雨伞16元，可以怎样付钱？请写出两种付钱方法。

25. 图书馆有13本《数学大王》，已经借走了5本。还有多少本？


26. 一箱苹果36元，一串香蕉9元，一盒草莓8元，一箱梨20元

(1) 一箱梨比一盒草莓贵多少元？

(2) 一箱苹果和一串香蕉一共多少元？

(3) 你还能提出什么问题？

27. 操场上有 15 人踢球，跳绳的比踢球的多 8 人。跳绳的人有多少人。



28. 妈妈去物美超市，买了 1 箱牛奶 32 元，买了一瓶果汁 7 元，又买了 20 元水果。妈妈只带了 50 元，买这些物品够吗？

29. 小丁丁有 13 本书，送掉 7 本，还剩几本书？

30. 小小商店。

衬衣 56 元      帽子 12 元      裤子 67 元      鞋 20 元

(1) 爸爸给小明买了一顶帽子和一双鞋，一共用了多少钱？

(2) 爸爸买一件衬衣，付出 50 元，还差多少钱？

31. 箱子里有 24 瓶矿泉水。还剩下多少瓶？




$\square \circ \square \circ \square = \square$  (瓶)

32. 学校有 10 个足球，16 个篮球，足球比篮球少多少个？



33. 小红做了多少面小旗？



34. 停车场有 20 辆 ，开走了 5 辆，还剩多少辆？

35. 从书架上拿走 27 本书，还剩 9 本，书架上原来有多少本书？

36. 一（2）班同学共折花 58 朵，男生折 30 朵，女生折多少朵？

37. 树上原来有 15 只鸟，飞走了 9 只，又飞来了 10 只，现在树上有几只鸟？

38. 根据题意作答。



39.



还要栽多少棵树才栽完？

$$\square \bigcirc \square = \square \quad ( )$$

40. 停车场里有小汽车 35 辆，公交车比小汽车多 13 辆，大卡车比小汽车少 6 辆，有多少辆公交车？多少辆大卡车？


41. 一(2)班共有 15 个小朋友参加表演，其中有 8 个小朋友合唱，还有几个小朋友表演其他节目？

42. 小雨和小雪共画了 12 朵花，小雨画了 8 朵，小雪画了几朵？

43. 看图作答。




44. 一共有 12 人去游玩，到了 9 人，还有几人没到？



列式： $\square \bigcirc \square = \square$  (人)

45. 小明今年 10 岁，妈妈今年 38 岁，当小明 15 岁时，妈妈多少岁？

46. 阅览室中的数学问题。



(1) 小刚看了多少页？

\_\_\_\_\_ = \_\_\_\_\_ (页)

(2) 小兰看了多少页？

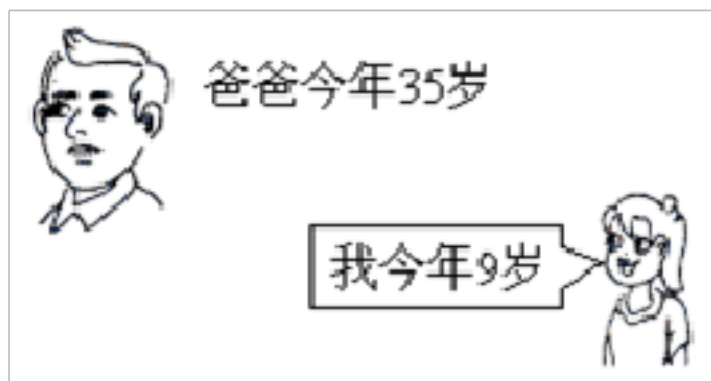
\_\_\_\_\_ = \_\_\_\_\_ (页)

(3) 你还能提出什么问题？把提出的问题写在下面，并解答出来。

提出的问题：\_\_\_\_\_？

47. 小菊看一本 35 页的故事书，星期一看了 15 页，星期二看了 9 页。星期二比星期一少看多少页？

48. 看图回答问题。



(1) 我和爸爸一共多少岁？

(2) 我比爸爸小多少岁？

49. 东东拍了几下？



$\square \circ \square = \square$  (      )

50. 看图购物。



(1) 买一个书包和一个小熊玩具需要多少元？

$$\square \bigcirc \square = \square \quad ( \quad )$$

答：需要 (      ) 元。

(2) 自己提出一个数学问题，并解答。

问题：

列式：

答：

51. 跳绳比赛。

小华	小花	小桃
19 个	9 个	30 个

(1) 小华比小花多跳几个？

(2) 小花和小桃一共跳了多少个？

(3) 你还能提出什么问题？

问题：



算式：

52. 飞机场上有 15 架飞机，飞走了 7 架，现在机场上有飞机多少架？

53. 小红借给李军 10 本练习本，又借给王思 8 本练习本，共借出多少本？

54. 店里有  56 只，有  40 只。 比  少多少只？

55. 小猴摘桃。



\_\_\_\_\_ = \_\_\_\_\_ (个)

56. 在回收废电池的活动中，小青带来 18 节电池，小云比小青多带 5 节，小云带来几节废电池？



(1) 买一副羽毛球拍和一副乒乓球拍，需要多少钱？

(2) 付给售货员 100 元，应找回多少元？

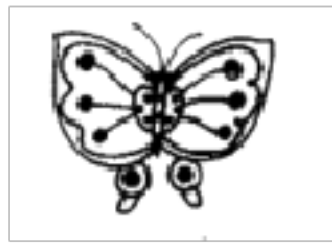
(3) 你还能提出什么问题？

58. 小红有 12 个玩具，给了小明 4 个，小红自己还剩下多少个？

59. 妈妈摘了 45 个桃，小猴摘了 8 个，两人一共摘了多少个？

60. 有大汽车 32 辆，小汽车比大汽车少 8 辆。小汽车有多少辆。

61. 蝴蝶和鸽子一共有多少只？



22 只



9 只

$$\square \bigcirc \square = \square \quad (\text{只})$$

答：蝴蝶和鸽子一共有（            ）只。

62. 买一条毛巾 6 元，买一个洗脸盆 12 元，买毛巾和洗脸盆一共用多少元？

63. 原来草地上有 12 只兔子，现在还有 3 只，跑了几只？




64. 器材室里有 35 个排球，足球比排球多 3 个。谁多谁少？有多少个足球？

65. 一支铅笔 1 元 2 角，一个橡皮 5 角 2 分，买一支铅笔和一个橡皮需要多少钱？

66. 4 个大人带 13 个小朋友去公园玩，小男孩儿有 7 人，小女孩儿有几人？

67. 看图回答。



以上内容仅为本文档的试下载部分，为可阅读页数的一半内容。如要下载或阅读全文，请访问：<https://d.book118.com/206024142042011005>