

(西师大版) 数学一年级上册寒假作业应用题 “天天练” 习题卡

年级	一年__班	姓名	内容	训练 1	评价
----	-------	----	----	------	----

1. 有 8 名少先队员，每人戴一条红领巾，还剩下 5 条，一共有多少条红领巾？


2. 一共有 11 架飞机，飞走了 2 架飞机，还剩几架飞机？




3. 车上原来有 12 人，下去 3 人，又上车 5 人。现在车上有多少人？



4. 一共有多少只兔子？（从不同角度分析，用三种不同的方法解答问题）




5. 把 6 只小鸟分别放进下面的两个笼子里，有几种放法？（两个笼子放入鸟的数量均不为 0）




年级	一年__班	姓名	内容	训练 2	评价
----	-------	----	----	------	----

1. 树上原来有 12 只小鸟。现在还剩下几只？



2.



3. 它们一共采了几颗果实？



4. 两人一共多少个苹果？（从不同角度分析，用两种不同的方法解答问题）



5. 小猴和小老鼠之间有几只动物？



年级	一年__班	姓名	内容	训练 3	评价
----	-------	----	----	------	----

1. 一共有几朵花？



2. 小红吃了几块饼干？



小红

我原来有13块饼干

现在还有5块饼干



3. 原来有几个苹果？



我吃了8个苹果，  
还剩下6个。


4. 从下面的花中选 2 束送给老师。



康乃馨



玫瑰



百合



郁金香



白掌花

(1) 老师最多可以收到多少朵花？最少呢？

(2) 如果老师共收到了 13 朵花，她可能收到了哪两种花？有几种可能？请列出算式。

5. 小朋友们排队做操，从前面数和从后面数小红都排在第 5 个，这队一共有多少个小朋友？

年级	一年__班	姓名		内容	训练 4	评价	
----	-------	----	--	----	------	----	--

1. 小明和小红一共得了多少朵小红花？



2. 一共有 11 只 。湖里还剩几只天鹅？



3. 下面有三盘苹果，选择其中的两盘，最多有多少个苹果？最少呢？



4. 学校图书馆里原有 16 本《数学故事》，还剩多少本？



5. 山坡上有一群猴，坐成一排学打鼓。鼓声咚咚震山谷，乐坏其中一小猴。顺着数，它排第九；倒着数，它排第五。多少猴子学打鼓，请你快点算一算。

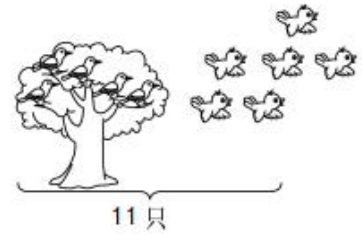


年级	一年__班	姓名		内容	训练5	评价	
----	-------	----	--	----	-----	----	--

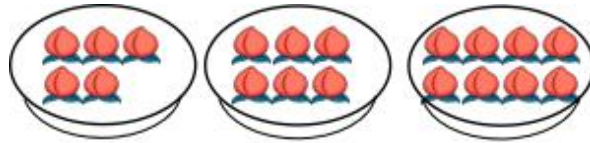
1. 一共有多少个同学?



2. 树上原来有 ( ) 只小鸟, 飞走了 ( ) 只, 树上还剩几只小鸟?



3. 如下图, 有 3 盘桃, 小猴想吃其中的两盘, 它最多可以吃多少个?



4. 他们俩一共跳了多少下?



5. 购物。



(1) 乐乐买了一个文具盒和一本笔记本, 一共用了多少元?

(2) 琦琦买了两种学习用品, 最多用了多少元?

(3) 杰杰用 10 元买了一种学习用品, 找回了 3 元, 他买的是 ( )。

年级	一年__班	姓名		内容	训练6	评价	
----	-------	----	--	----	-----	----	--

1. 小猫吃了 7 条鱼，还剩 4 条。原来有多少条鱼？

2. 原来有 13 个萝卜，小兔拿走了 9 个，还剩几个萝卜？



3. 两位同学一共做了多少朵小红花？



4. 小丽、小亮和小芳一共栽了多少棵树？



5. 乐乐和同学们站成一排，他左边有 4 个人，右边有 2 个人，这一排共有多少人？

年级	一年__班	姓名	内容	训练7	评价
----	-------	----	----	-----	----

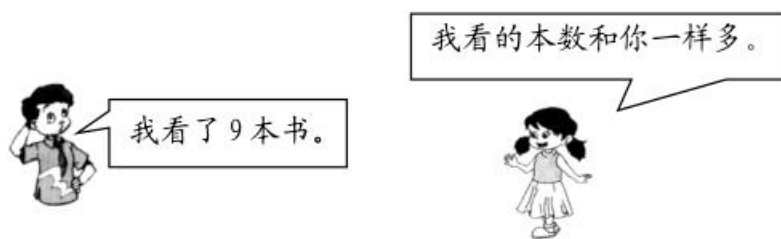
1. 盘子里一共有 15 个橘子和苹果，其中橘子有 6 个，苹果有多少个？

2. 小明的妈妈买回来一根 18 米长的绳子，截去一些做跳绳，还剩 6 米，做跳绳用去多少米？

3. 原来有几个水饺？



4. 两人一共看了多少本书？



5. 柜子里存了 10 件快递，上午取走 3 件，下午取走 4 件，柜子里现在还有多少件快递？

年级	一年__班	姓名	内容	训练 8	评价
----	-------	----	----	------	----

1. 原来有 5 人，又来了 2 人，现在一共有几人？



2. 小花钓了几条鱼？




我钓了 12 条鱼。

小黑

我再钓 3 条就和你一样多。



小花

3. 原来有多少个  ？

我们一共吃了 9 个。

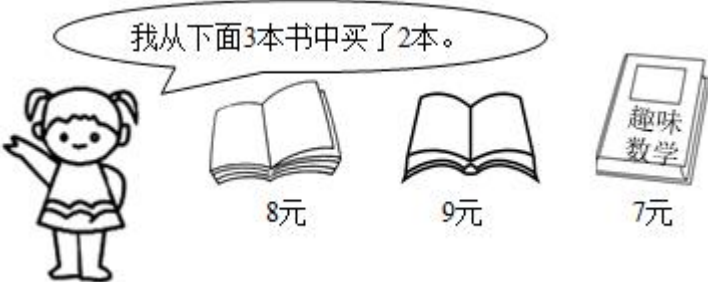


还剩 5 个。

4. 一年（1）班的图书角里有 6 本《数学童话》，被借走了 2 本，又还回来 4 本，现在图书角有多少本《数学童话》？

5. 明明前面有 6 人，后面有 9 人，一共有多少人？



年级	一年__班	姓名		内容	训练 9	评价	
<p>1. 琦琦有 9 个玩具，虹虹有 7 个玩具，乐乐的玩具比琦琦少 2 个。乐乐有几个玩具？</p>							
<p>2. 琪琪最多用了多少元？</p> <div style="text-align: center;">  <p>我从下面3本书中买了2本。</p> <p>8元      9元      7元</p> </div>							
<p>3. 爷爷家一共养了 16 只鸡，其中公鸡有 7 只，母鸡有多少只？</p>							
<p>4. 小丽家楼上有 3 层，楼下有 9 层，这栋楼一共有多少层？</p>							
<p>5. 小猫和猫妈妈去钓鱼，猫妈妈钓了 10 条，小猫只钓了 4 条，猫妈妈给小猫多少条，它们就一样多了？</p>							

年级	一年__班	姓名	内容	训练 10	评价
----	-------	----	----	-------	----

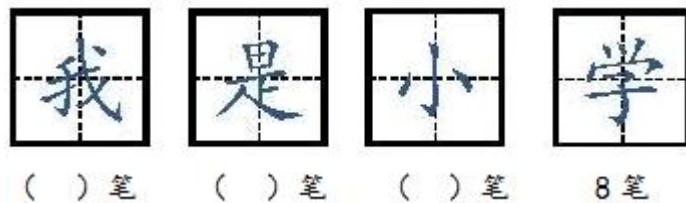
1. 要来 14 人，每人一把椅子，还需要几把椅子？



2. 地里原来有多少个萝卜？



3. 每个字各有几笔？请把没有填写的写在括号里。



(1) 从上面选 2 个不同的字抄写，最少是几笔？最多是几笔？

(2) 从上面选 3 个不同的字抄写，最少是多少笔？

4. 小明有 10 张画片，送给妹妹 5 张，妈妈又给他买了 2 张。现在小明有几张画片？

5. 冬冬和春春看一本相同的故事书。冬冬第一天看了 10 页，第二天看了 7 页。

春春第一天看了 9 页，第二天和第一天看的页数相同。谁看的页数多？

年级	一年__班	姓名		内容	训练 11	评价	
----	-------	----	--	----	-------	----	--

1. 算一算，填一填。

			
大班有	8 架	( ) 台	10 只
小班有	5 架	7 台	( ) 只
一共有	( ) 架	17 台	20 只

2. 还剩多少本书？

原来有 11 本书，已经发下去了 3 本。



3. 跳舞的、演奏的和踢毽子的一共有多少人？



6 人



5 人



8 人

4. 两只兔子一共拔了多少个胡萝卜？

我拔了 8 个萝卜。



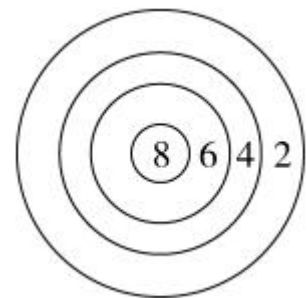
我拔的和你同样多。




5. 每人打两枪。

(1) 乐乐一共得了 10 分，已知她第一次得了 6 分，第二次得了多少分？

(2) 杰杰两枪都打中了，而且得分不同。他最多能得多少分？



年级	一年__班	姓名	内容	训练 12	评价
----	-------	----	----	-------	----

1. 还剩多少根  ?



2. 小力和小敏做纸花。小力做了 7 朵，小敏做了 9 朵，把这些花送给 15 个小朋友，够吗？

3. 这小队同学上车后，车上还有几个座位没有人坐？





4. 停车场里原来有 12 辆汽车，开走了 3 辆，又开来 8 辆，现在有多少辆？

5. 小朋友排队，从左数，乐乐是第 7 个，从右数，乐乐是第 8 个，这一行共有多少个人？

年级	一年__班	姓名		内容	训练 13	评价	
----	-------	----	--	----	-------	----	--

1. 小明家有 16 只羊，卖了 8 只，现在还有多少只羊？

2. 小方做了 7 只 ，丽丽和小方做的同样多，他们两人一共做了多少只 ？

3. 得分多的队领先了多少分？

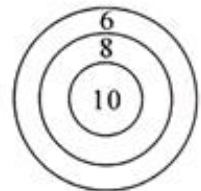


4. 一共有多少只小动物？



5. 三个好朋友一起玩打靶游戏。

(1) 奇奇第一次打中 10 环，第二次打中 6 环，他两次一共打中多少环？



(2) 乐乐打中两次，两次的得分不同，他最多打中多少环？最少呢？

(3) 强强打中两次，他最少打中多少环？

年级	一年__班	姓名		内容	训练 14	评价	
----	-------	----	--	----	-------	----	--

1. 12 个同学参加聚餐，发现餐桌上有 4 个勺子，7 双筷子。还需要添几个勺子和几双筷子？请列式解答。

2. 买两种玩具。



(1) 最少要多少元？

(2) 最多要多少元？

3. 小兔和小猪一共跳了多少下？



4. 排队上车的一共有多少人？





5. 购物。



(1) 淘气买 和 一共要多少元？

(2) 妈妈买 和 一共用了 17 元， 多少元？

年级	一年__班	姓名		内容	训练 15	评价	
<p>1. 小明和小华玩拼数游戏，小明出 4，若要求两人之和为 10，则小华应该出几？ 若要求两人之和为 12，小华应该出几？</p>							
<p>2. 书架上有 8 本《高个子和矮个子》，9 本《鸽子捡到一个热狗》。两种书一共有多少本？</p>							
<p>3. 每个小朋友吃一个面包，这些面包够不够？</p> <div style="text-align: center;">  </div>							
<p>4. 妈妈买了其中两件不同的物品，她最多花多少元？最少花多少元？</p> <div style="text-align: center;">  </div>							
<p>5. 妈妈买了 10 个橘子，冬冬今天上午吃了 4 个，下午和上午吃的同样多。还剩下多少个橘子？</p>							

年级	一年__班	姓名	内容	训练 16	评价
----	-------	----	----	-------	----

1. 他们一共得了多少颗☆?



2. 一共点燃了 12 根蜡烛，吹灭了一些后，还剩下 5 根，吹灭了几根?



3. 一包面巾纸有 12 张，小红第一天用了 3 张，第二天用了 4 张，还剩多少张?

4. 停车场里有三辆车，选择其中的两辆，最多可以坐多少人? 最少呢?



小轿车  
5 人



中巴车  
7 人



大客车  
9 人

5. 小朋友们排队做广播体操，从前面数小林排在第 6 个，从后面数小林排在第 5 个。这队小朋友一共有多少人?



年级	一年__班	姓名	内容	训练 17	评价
----	-------	----	----	-------	----

1. 今天他们一共要植了多少棵树?



2. 小明家有多少只兔子?



3. 两个班一共多少本书? (用两种方法解答)



4. 两人一共折了多少个?



5. 购物。



(1) 小红买1块肥皂和1个茶杯需要多少钱?

(2) 小芳买了3支牙膏正好把钱用完, 她带了多少钱?

(3) 小明带了10元钱, 够买哪三样东西?

以上内容仅为本文档的试下载部分，为可阅读页数的一半内容。如要下载或阅读全文，请访问：<https://d.book118.com/217062012024006041>