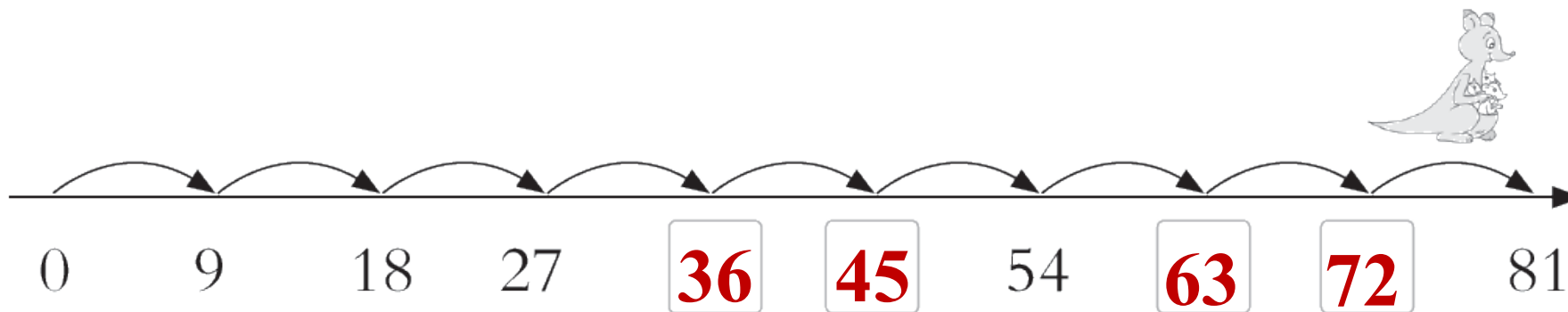


# 第6单元综合素质达标



一、我聪明，我会填。(第4题2分，第5题4分，其余每空1分，共24分)

1.








2. 2个9相加的和是( 18 ), 比6个7相加的和多3的数是( 45 )。

3. 一块橡皮5角, 买8块这样的橡皮需要( 4 )元。

点拨:  $5 \times 8 = 40$ (角),  $40$ 角=4元。

4.



求一共有多少条鱼，可以列式为

$$\boxed{5} \times \boxed{8} - \boxed{3} = \boxed{37} \text{ (条)}。$$

5. 在□里面填上合适的数。

$$8+8+8=\square 3 \times \square 8$$

$$9+9+9+9=\square 4 \times \square 9$$

$$9 \times 6 - 9 = \square 5 \square 9$$

$$4 \times 7 + 7 = \square 5 \square 7$$

6. 按规律填一填。

(1) 8, 16, 24, 32, 40, 48, 56。

(2) 11, 20, 29, 38, 47, 56, 65。

7. 1 只  6 条腿, 3 只  ( 18 ) 条腿, 9 只  ( 54 ) 条腿。

8. 2024年9月10日是我国第40个“教师节”，这个月有4个星期还多2天。这个月一共有( 30 )天。

二、我自信，我会选。(把正确答案的序号填在括号里)

(每题2分，共10分)

1. 下面框内一共有( ③ )个字。

自信 乐观 坚强 勤奋 积极 爱国 友善 好学

① 14

② 18

③ 16



2. 两个加数都是6, 和是多少? 列乘法算式是( ③ )。

①  $6 \times 6$

②  $6 + 2$

③  $6 \times 2$

3. 如图，是中医上的“1 寸”，1 寸长约为大拇指的指关节的宽度，那么7 寸长相当于( ③ )。

①数学教材的长

②桌子的长

③一支粉笔的长



4. 一个花盆里开了5朵花，另一个花盆里开了8朵花，求一共开了几朵花？列式正确的是( ① )。

①  $5+8$

②  $5\times 8$

③  $8-5$

以上内容仅为本文档的试下载部分，为可阅读页数的一半内容。如要下载或阅读全文，请访问：  
<https://d.book118.com/218115117116006110>