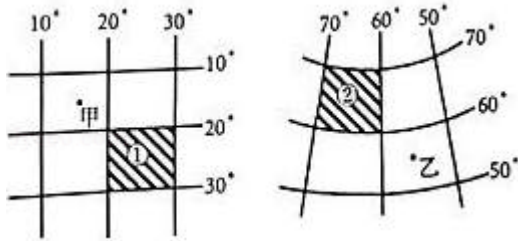


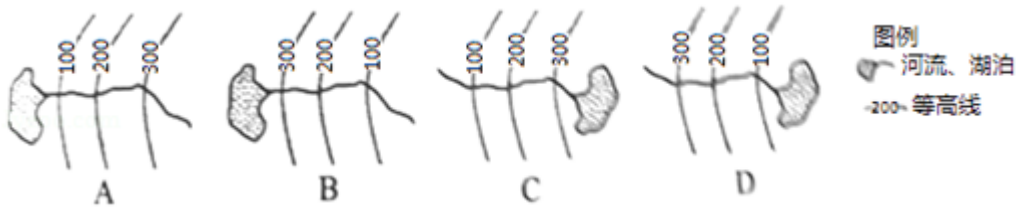
鲁教版地理中考地理模拟测试卷

一. 选择题 (共 20 小题, 每题 1 分)

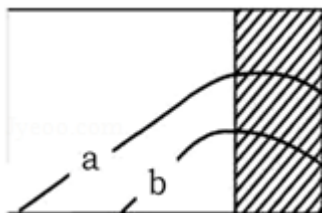
1. (1 分) 读经纬网示意图, 有关图中①、②两区域的叙述正确的是 ( )



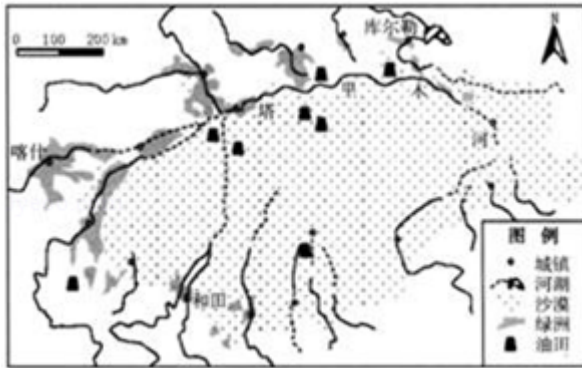
- A. 实地面积②大于①
  - B. ①区域位于②区域东南方
  - C. 春分日, 白昼时间①长于②
  - D. 图幅相同的①②两区域, 比例尺①大于②
2. (1 分) 下列图示能正确表示河流及河流流入湖泊的是 ( )



- A. A
  - B. B
  - C. C
  - D. D
3. (1 分) 下列农业生产方式不符合因地制宜原则的是 ( )
- A. 在地形陡峭、水土容易流失的地区植树种草
  - B. 在地势低洼的南方地区, 挖池养鱼, 鱼塘周围种植果树
  - C. 在半干旱地区开垦草原, 种植粮食
  - D. 在地形平坦, 土壤肥沃, 水源丰富的地区发展耕作业
4. (1 分) 若图中等值线为等温线, a 为 15°C, b 为 12°C, (图中的阴影部分代表大陆, 另一部分代表海洋), 则图示地区呈现的信息正确的是 ( )



- A. 南半球 7 月等温线                      B. 南半球 1 月等温线  
C. 北半球 7 月等温线                      D. 北半球 1 月等温线
5. (1 分) “吃货” 小明有 “南米北面” “东辣西酸” 的体验, 主要受下列哪个因素的影响 (     )
- A. 地理位置              B. 自然环境              C. 风俗习惯              D. 地形地势
6. (1 分) 读示意图, 对该地区自然特征的描述、正确的是 (     )

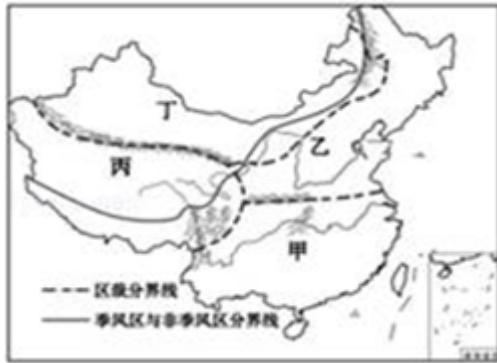


- A. 沙漠广布                      B. 河湖众多  
C. 地势中部高四周低                      D. 气候深受海洋影响
7. (1 分) 我国南方居民墙体薄、窗户大、通风条件好, 北方特别是东北的民居墙体厚、窗户小、密闭程度高。影响南北方民居上述差异的主要影响因素是 (     )
- A. 气温                      B. 降水                      C. 地形                      D. 生活习惯
8. (1 分) 全年高温多雨、降水丰沛的地区主要分布在 (     )
- A. 大陆东岸沿海地区  
B. 赤道附近  
C. 南北纬  $30^{\circ}$  -  $40^{\circ}$  大陆西岸  
D. 极地地区
9. (1 分) “人类只有肤色语言之别, 文明只有姹紫嫣红之别, 但绝无高低优劣之分”, 2019 首届亚洲文明对话大会上, 有信奉伊斯兰教、身着长袍头戴头巾的, 他们可能是 (     )
- A. 阿拉伯人              B. 因纽特人              C. 柬埔寨人              D. 菲律宾人
10. (1 分) 下列现象中, 由地球自转引起的是 (     )
- ① 太阳东升西落                      ② 不同的地方有不同的季节变化  
③ 正午时旗杆影子的长短变化                      ④ 东边总是比西边早看到日出。
- A. ①                      B. ①②                      C. ①③                      D. ①④

11. (1分) 衡水市面积 8815 平方千米, 人口 446.04 万。该市人口密度是 ( )

- A. 50.6 人/平方千米
- B. 506 人/平方千米
- C. 5060 人/平方千米
- D. 5 人/平方千米

12. (1分) 读中国四大地理区域图, 以秦岭 - 淮河为分界线的两大区域是 ( )




- A. 甲与乙
- B. 丁与丙
- C. 乙与丁
- D. 丙与甲

13. (1分) 看图回答问题, 关于我国北方地区的范围, 下列描述正确的是 ( )



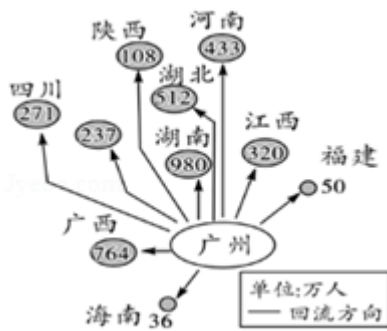
- A. 我国北方地区大体位于大兴安岭以西内蒙古高原以南
- B. 我国北方地区包括云贵高原和黄土高原
- C. 我国北方地区位于秦岭淮河以北, 东临渤海和黄海
- D. 长江流经我国北方地区

14. (1分) 读图判断下列选项, 正确的是 ( )

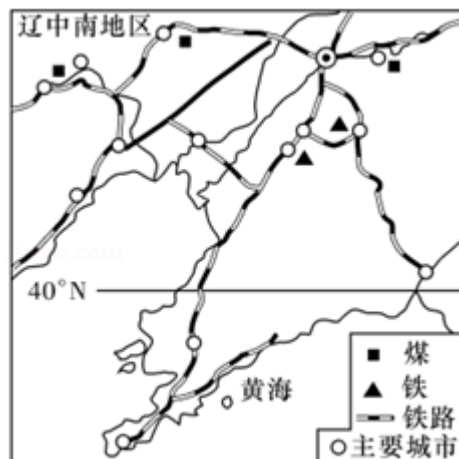


- A. 小林的说法正确

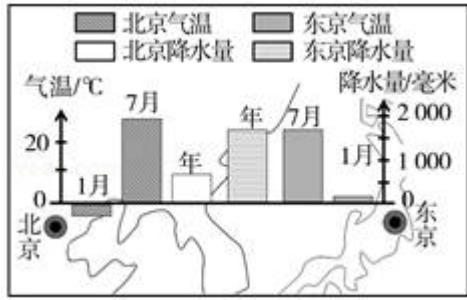
- B. 小红的说法正确
- C. 小林和小红都位于中纬度地区
- D. 以上说法都不对
15. (1分) 地球自转的周期约是 ( )
- A. 24小时            B. 12小时            C. 一年            D. 一个月
16. (1分) 如图示意的是2015年我国局部区域的春运规模(数字代表由广州乘火车的春节回流总人数), 依图可推测, 该区域春运期间压力最大的铁路干线应是 ( )



- A. 京广线            B. 焦柳线            C. 浙赣线            D. 陇海线
17. (1分) 辽中南工业基地, 是我国最重要的经济区和重工业基地之一。读图, 不是该工业基地发展主要原因的 ( )

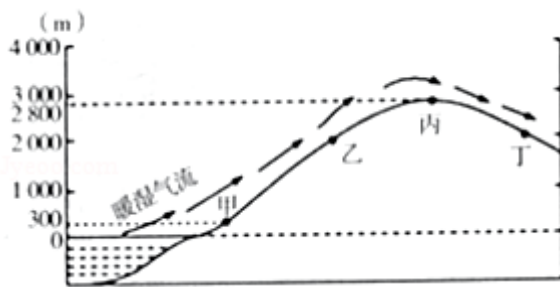


- A. 区内丰富的煤、铁、石油资源
- B. 便利的交通
- C. 良好的工业基础
- D. 毗邻港澳, 面向东南亚
18. (1分) 北京与东京纬度大体相当, 气候却有差异。读图, 下列关于两地气候描述, 错误的是 ( )



- A. 东京是温带海洋性气候
- B. 东京年降水量更多
- C. 北京是温带季风气候
- D. 北京年温差更大

19. (1分) 读“某山地位位置示意图”，在甲地测得气温 20°C，则山顶的气温是 ( )



- A. 5°C
- B. 8°C
- C. 11°C
- D. 14°C

20. (1分) 地球上的某点，其北侧是中纬度，南侧是低纬度，右侧为东半球，左侧为西半球，该点是 ( )

- A. (30° N, 160° E)
- B. (30° N, 20° W)
- C. (30° S, 20° W)
- D. (30° S, 160° E)

二. 多选题 (共 5 小题, 满分 15 分, 每小题 3 分)

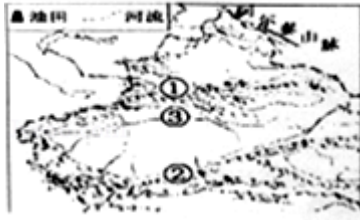
21. (3分) 纵横交错的山脉构成我国地形的“骨架”，下列有关山脉的分析，正确的是 ( )

- A. 雪峰山是第二级阶梯与第三级阶梯的分界线
- B. 祁连山是第一级阶梯与第二级阶梯的分界线
- C. 大兴安岭以东是华北平原，以西是黄土高原
- D. 昆仑山以北是准噶尔盆地，以南是塔里木盆地

22. (3分) 根据澳大利亚矿产资源的优势，下列工业部门中，应该大力发展的是 ( )

- A. 宇航工业
- B. 电子工业
- C. 钢铁工业
- D. 有色金属冶炼工业

23. (3分) 如图中数字①和②所指代的山脉分别是 ( )



- A. 天山                      B. 祁连山                      C. 喜马拉雅山                      D. 昆仑山

24. (3分) 下列我国省区中, 沿海的有 ( )

- A. 辽宁省                      B. 广西壮族自治区  
C. 云南省                      D. 安徽省

25. (3分) 秦岭 - - 淮河一线是我国重要的地理分界线, 下列对其叙述错误的是 ( )

- A. 是我国 400 毫米年等降水量线经过的地方  
B. 是我国南方和北方的分界线  
C. 是我国湿润地区和半湿润地区的分界线  
D. 是我国暖温带和中温带的分界线

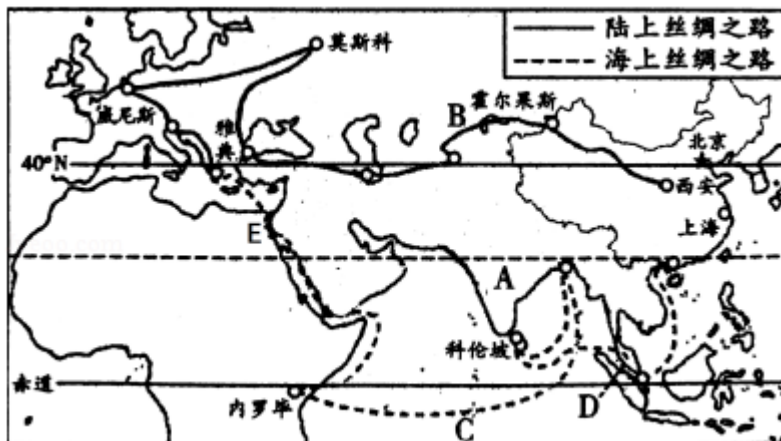
三. 解答题 (共 1 小题, 满分 5 分, 每小题 5 分)

26. (5分) 连线题。

- A 香港    ① 亚洲天然植物园  
B 新疆    ② 政治文化中心  
C 北京    ③ 瓜果之乡  
D 台湾    ④ 国际金融中心

四. 解答题 (共 2 小题, 满分 20 分, 每小题 10 分)

27. (10分) “一带一路”是陆上丝绸之路经济带和 21 世纪海上丝绸之路的简称。读“一带一路”图, 回答下列问题。



(1) “陆上丝绸之路经济带” 横跨\_\_\_\_\_两大洲。A 半岛的气候类型是\_\_\_\_\_气候。

(2) 中国轮船若沿图中“海上丝绸之路” 到欧洲和非洲，经过的大洋 C 是\_\_\_\_\_洋，经过的运河 E 是\_\_\_\_\_运河。沿途经过不同的地域文化，下列建筑中，船员不可能看到的是\_\_\_\_\_。

A. 高脚屋

B. 冰屋

C. 泰姬陵

D. 清真寺

(3) 沿“陆上丝绸之路” 自东向西直至西欧，年降水量的变化规律是先逐渐\_\_\_\_\_（增加或减少），再逐渐\_\_\_\_\_（增加或减少），形成这种变化规律的主要原因是\_\_\_\_\_。

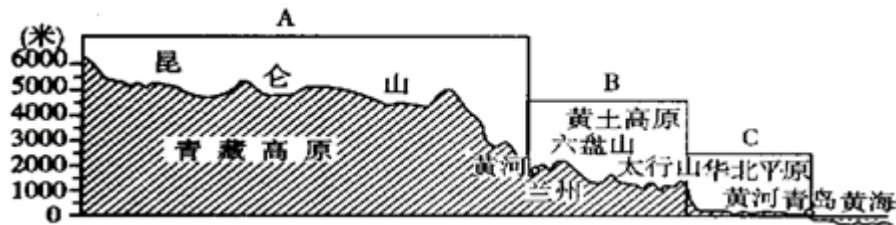
A. 海陆位置

B. 纬度位置

C. 地形

D. 人为因素

28. (10 分) 读“沿我国北纬 36° 纬线所作的剖面图”，完成下列要求。



(1) 图中 A、B、C 表示我国地势的三级阶梯，其中 A 为第\_\_\_\_\_级阶梯，C 为第\_\_\_\_\_级阶梯。第二级阶梯与第三级阶梯的分界线是\_\_\_\_\_。

(2) 地形以盆地和高原为主的是第\_\_\_\_\_级阶梯；岳池位于第\_\_\_\_\_级阶梯上。

## 参考答案与试题解析

### 一. 选择题 (共 20 小题, 每题 1 分)

1. **【分析】**经线是连接南北两极并同纬线垂直相交的半圆, 所有经线长度相等; 纬线圈的大小不等, 赤道为最大的纬线圈, 从赤道向两极纬线圈逐渐缩小, 到南、北两极缩小为点; 在经纬网地图上, 用经纬网定方向, 纬线指示东西方向, 经线指示南北方向; 在图幅相同的情况下, 比例尺越大, 表示的范围越小, 内容越详细, 比例尺越小表示的范围越大, 内容越简略。

**【解答】**解: 读图分析可知:

两阴影所跨经纬度数均为  $10^{\circ}$ , 但①地距离赤道近, 因此实地面积②小于①, 故 A 错误。

在经纬网地图上, 用经纬网定方向, 纬线指示东西方向, 经线指示南北方向。结合两区域的经纬度范围, 可判定, ①区域位于②区域东南方, 故 B 正确。

春分日, 太阳直射赤道, 全球昼夜平分, 白昼时间①等于②, 故 C 错误。

图幅相同的①②两区域, 实地面积②小于①, 比例尺②大于①, 故 D 错误。

故选: B。

**【点评】**本题考查经纬网的判读, 在把握经纬线的特点、方向的判定、地球公转、比例尺大小与内容详略的关系等知识的基础上, 读图理解解答即可。

2. **【分析】**在等高线地形图上, 等高线闭合且等高线数值中间高四周低则为山顶; 两山顶之间相对低洼的部位为鞍部; 等高线闭合且等高线数值中间低四周高则为盆地; 等高线向海拔低处凸为山脊; 等高线向海拔高处凸为山谷; 几条海拔高度不同的等高线重合的部位是陡崖。等高线稀疏, 坡度平缓; 等高线密集, 坡度较陡。

**【解答】**解: 在等高线地形图上, 等高线向海拔低处凸为山脊, 等高线向海拔高处凸为山谷, 因此 A、C 所示为山脊, B、D 所示为山谷; 山谷部位是孕育河流的地方, 所以排除 A、C; 水是由高出流向低处, B 图是从湖泊外流, D 图是流入湖泊; 故选项 D 符合题意。

故选: D。

**【点评】**本题考查了等高线地形图的判读, 结合所学知识点读图理解解答。

3. **【分析】**



我国各地自然环境存在很大差异，每个地区都有农业发展上的优势和不足。利用当地自然条件的优势，把要发展的农业部门或农作物，布局在适宜它本身发展、生长最有利的地区，是因地制宜的重要内容之一。

**【解答】**解：A、在地形陡峭、水土容易流失的地区植树种草，可以保持水土，符合因地制宜的做法；

B、在地势低洼的南方地区，挖池养鱼，鱼塘周围种植果树，符合因地制宜的做法；

C、在半干旱地区开垦草原，种植粮食会造成土地荒漠化和水土流失的现象，不符合因地制宜的做法；

D、在地形平坦，土壤肥沃，水源丰富的地区发展种植业，符合因地制宜的做法。

故选：C。

**【点评】**理解因地制宜就是根据各地的具体情况，制定适宜的办法，理解解答有效。

4. **【分析】**世界上气温分布的规律是从赤道向南北两极逐渐降低，世界上平均气温最高的地方位于非洲的北部，世界上平均气温最低的地方是南极洲。影响气温高低的因素有纬度因素、海陆因素、地形因素等。一年中，北半球大陆月平均气温最高值出现在7月，海洋上是8月，南半球大陆月平均气温最高值出现在1月，海洋上是2月。

**【解答】**解：右图区域位于南半球，判断的依据是等值线的数值由北向南逐渐降低。图中海洋气温高于陆地气温，可判定是南半球的冬季，南北半球季相反，7月是南半球的冬季。

故选：A。

**【点评】**本题考查世界气温的分布，结合所学知识点分析后解答即可。

5. **【分析】**我国幅员辽阔，各地的条件千差万别，经济社会发展程度不同。受历史、地理等因素的影响，各地区文化带有明显的区域特征。

**【解答】**解：由于气候、物产、风俗习惯等差异，我国不同地区在饮食上、口味上有很大差距，表明地域文化受到地理环境的影响，具有各自的特色；我国北方主要以小麦为主，南方主要以水稻为主，所以有“南稻北麦”、“南米北面”之称；东部地区和西部地区相比，东部地区降水多，气候潮湿，潮湿的地理环境造成人们喜欢吃辣的习俗，因为吃辣能使汗液轻而易举地排出，可以驱寒祛湿，养脾健胃，对健康极为有利；黄土高原、云贵高原及其周边地区的水土中含有大量的钙，因而食物中钙的也相应较多。这样，通过饮食，易在体内引起钙质淀积，形成结石。这一带的劳动人民，经过长期的实践经验，发现多吃酸性食物有利于减少结石等疾病。久而久之，西部地区的他们也就渐渐养成

了爱吃酸的习惯；故上述体验主要受自然地理环境的影响。

故选：B。

**【点评】** 本题考查人民生活与地理环境的关系，运用此类方法解题的关键在于知道我国地区的自然环境特点，理解解答即可。

6. **【分析】** 西北地区地处内陆，远离海洋，年降水量表现出由东向西逐渐减少的态势。新疆的东部和南部降水甚少，新疆塔里木盆地年降水量不足 100 毫米，是全国降水最少的地区。

**【解答】** 解：图示为塔里木盆地，塔里木盆地地处内陆，气温冷热变化剧烈，年降水量表现出由东向西逐渐减少的态势，盆地内部因蒸发强烈，地表水难以保存，沙漠、戈壁广布，故 A 符合题意。

故选：A。

**【点评】** 考查新疆的自然环境特点，结合新疆的地理位置进行理解解答。

7. **【分析】** 世界各地民居的建筑风格有很大的不同，这与当地的自然环境有很大关系，这些民居既能适应当地的自然地理环境，又与居民的社会经济生活密切联系。我国的南方、北方地区在墙体的厚薄、窗户的大小以及屋脊的坡度方面差异较大。

**【解答】** 解：南方地区主要是亚热带季风气候，北方地区主要是温带季风气候，受气温的影响，南方居民墙体薄、窗户大、通风条件好，北方特别是东北的民居墙体厚、窗户小、密闭程度高。

故选：A。

**【点评】** 考查了对传统居所与气候环境关系的认识，结合两地的气候来分析解答，一般以选择、填空形式出题。

8. **【分析】** 习惯上，人们按照地球上的“五带”来称呼气候，如热带气候、温带气候和寒带气候。科学家则主要依据各地气温和降水组合形成的气候特征，划分出一系列的“气候类型”。

**【解答】** 解：全年高温多雨、降水丰沛的气候类型是热带雨林气候，主要分布在赤道附近，如亚马孙平原、刚果盆地和马来群岛等地。主要分布在赤道附近，如亚马孙平原、刚果盆地和马来群岛等地。

故选：B。

**【点评】** 考查世界主要气候类型的特点及气温和降水的分布规律，气候与人类的关系极为密切，应该让学生密切联系生产生活实际，使试题内容具有较强的实践性，学生学起来感到亲切、实用。

9. **【分析】**地理与人们的日常生活密切相关。通过学习地理，我们能进一步熟悉我们生活的环境，广泛了解世界各地的基本情况和风俗人情，进而提高对生活的适应能力。“对生活有用的地理”自然与日常生活息息相关。

**【解答】**解：从题干的描述来看，身着长袍戴头巾的应该是西亚的阿拉伯人，该地属于热带沙漠气候，长袍和头巾抵挡较强的阳光和风沙。

故选：A。

**【点评】**考查了对人民生活与地理环境关系的认识，一般以选择、填空形式出题。

10. **【分析】**地球自转，每时每刻都在改变着一个地方太阳辐射的强度。人们在经历昼夜更替的同时，也感受着天气的变化。

**【解答】**解：地球自转是地球绕地轴自西向东转动的运动方式，其周期为一天。我们每天经历的昼夜更替，看到日月星辰的东升西落，时区的差异（东部的时刻早于西部），主要是由于地球自转运动所产生的地理现象。而人们在生活中所感受到的四季冷暖差异、昼夜长短变化，主要是由于地球公转运动所产生的地理现象。

故选：D。

**【点评】**考查地球自转的现象，要理解记忆。

11. **【分析】**个区域及一定时点的人口数与土地面积之比。或称单位土地面积上的人口数。通常以每平方公里的常住人口数来表示。人口密度计算公式：人口密度（人/平方千米）= 人口数（人）/面积（平方千米）

人口密度是反映人口分布疏密程度的常用数量指标，用人/平方千米来表示。可以用于大至全世界，或一个洲、一个国家、一个省、市，直到小至乡镇的任何等级的区域。缺点是只表示一个平均数，未能反映区域内部的差异。例如，中国 1982 年中的人口密度是 107.5 人/平方公里，实际上省区之间疏密程度可以相差几倍、几十倍以至 300 多倍。所以，在人口制图上总是要求从小的统计单元做起，以便尽可能近似地反映真实情况。

**【解答】**解：人口密度指的就是每平方千米内的人口数；人口除以面积就可以计算出人口密度，446.04 万人 ÷ 8815 平方千米 ≈ 506 人/平方千米。

故选：B。

**【点评】**考查对人口密度概念的理解，难度不大。

12. **【分析】**秦岭、淮河一线的意义主要是：四大区域中南方与北方地区的分界线；一月份 0℃等温线通过的地方；800mm 年等降水线通过的地方等。图中甲是南方地区，乙是北方地区，丙是青藏地区，丁是西北地区。据此解答。

**【解答】**解：秦岭、淮河一线是我国甲南方地区与乙北方地区的分界线，确定该界线的主导因素是气候因素。

故选：A。

**【点评】**本题考查我国四大地理区域的分界线，解答此题的关键是熟记我国不同地理区域的范围及秦岭、淮河一线的地理意义，牢记即可。

13. **【分析】**我国幅员辽阔，自然环境复杂多样，形成了各具特色的地理区域。在中国地图上，把秦岭 - 淮河线、400 毫米年等降水量线和青藏高原边缘线这三条重要的地理界线结合起来，并根据实际情况作一定的调整，就把我国划分为四大地理区域，即北方地区、南方地区、西北地区和青藏地区。

**【解答】**解：北方地区指秦岭 - 淮河一线以北、内蒙古高原以南、大兴安岭、乌鞘岭以东的广大地区，东临渤海和黄海，主要包括东北地区和华北地区；云贵高原位于南方地区；长江不流经北方地区。

故选：C。

**【点评】**本题考查北方地区的概况，理解解答即可。

14. **【分析】**由经线和纬线相互交织所构成的网络叫做经纬网，利用经纬网可以确定地球表面任何一个地点的位置。在经纬网地图上，纬线指示东西方向，经线指示南北方向。

**【解答】**解：读图可知，小林站在 0 度经线上，它不是东西半球的分界线，所以他说的不对。小红位于北纬  $40^{\circ} \sim 60^{\circ}$  之间，位于中纬度。根据题意。

故选：B。

**【点评】**该题考查利用经纬网确定两点之间的方向，难度适中。

15. **【分析】**地球自转，每时每刻都在改变着一个地方太阳辐射的强度。人们在经历昼夜更替的同时，也感受着天气的变化。

**【解答】**解：地球自转是地球绕地轴自西向东转动的运动方式，其周期为一天（约 24 小时）。我们每天经历的昼夜更替，看到日月星辰的东升西落，时区的差异（东部的时刻早于西部），主要是由于地球自转运动所产生的地理现象。

故选：A。

**【点评】**考查地球运动的有关知识，要理解记忆。

16. **【分析】**

在各种交通运输方式中，中国铁路运输的地位尤为突出。纵横交错的铁路分布全国各地，并与公路、河道、航空港相连，构成了全国交通运输网的骨架。中国现已形成一个以北京为中心的全国铁路网：南北向干线有京哈线、京沪线、京九线、京广线、太焦 - 焦柳线、宝成 - 成昆线等；东西向干线有滨洲 - 滨绥线、京包 - 包兰线、陇海 - 兰新线、沪昆线等。

**【解答】**解：京广线北起北京，南至广州，横贯我国中部，经过河北、河南、湖北、湖南、广东等省；焦柳线北起河南省焦作，南到广西壮族自治区柳州市；浙赣线东起杭州，西至株洲，是我国东西干线沪昆线的一部分；陇海线的起止点是甘肃兰州到江苏连云港。结合 2015 年我国局部区域的春运规模图，可判定，该区域春运期间压力最大的铁路干线应是京广线。

故选：A。

**【点评】**本题考查我国铁路干线的分布情况，读图解答即可。

17. **【分析】**我国四大工业基地由北到南依次为：辽中南工业基地，京津唐工业基地，沪宁杭工业基地，珠江三角洲工业基地。辽中南工业基地发展工业的有利条件是工业基础雄厚，煤、铁、石油等矿产资源丰富，交通运输便利。辽中南工业基地的工业分布多靠近资源产地，如大庆油田附近发展了石油加工工业，大连利用当地资源发展了造船工业。

**【解答】**解：辽中南工业基地是我国著名的重工业基地，发展工业的有利条件是工业基础雄厚，煤、铁、石油等矿产资源丰富，交通运输便利。珠江三角洲工业基地发展工业的有利条件是：人口众多，劳动力丰富，紧邻港澳，很多地方是“侨乡”，引进大量资金和技术，大力发展外向型经济。

故选：D。

**【点评】**本题考查我国辽中南工业基地发展主要的有利条件，理解答此题需要理解四大工业基地发展的条件。

18. **【分析】**影响气候的因素主要有纬度因素、海陆因素、地形地势因素、洋流因素及人类活动等。东亚地区由于海陆差异大，季风气候显著。与北京相比，日本东京的气候具有海洋性特征，夏季气温略低，冬季温和，气温年较差小；年降水量多，气候湿润。北京为温带季风气候，夏季高温多雨，冬季寒冷干燥，春、秋短促。

**【解答】**解：读图可得，东京属于温带季风气候，北京也属于温带季风气候，北京的气温年较差比东京大，东京的年降水量比北京多，东京的季风气候具有海洋性特征，故 A 叙述错误，符合题意。

故选：A。

**【点评】** 本题考查东京和北京的气候，学生需要认真阅读所给的图表，从中提取解题信息，分析解答。

19. 【分析】气候现象的能量主要来自于太阳辐射。地球的形状、地球的运动、海陆的分布、地表的起伏等都影响着太阳辐射的强弱和变化，因而，对气候的形成产生非常大的影响。

【解答】解：地势对气候的影响，主要表现为随着地势的增高，气温降低。一般情况下，每增高 100 米，气温约下降  $0.6^{\circ}\text{C}$ 。从图看出，甲地海拔为 300 米，山顶丙处海拔为 2800 米，如果甲处的气温为  $20^{\circ}\text{C}$ ，则丙处的气温是： $20 - (2800 - 300) \div 100 \times 0.6 = 5^{\circ}\text{C}$ 。

故选：A。

【点评】考查地形地势对气候的影响，要考虑两地的海拔差异理解记忆。

20. 【分析】由经线和纬线相互交织所构成的网络叫做经纬网，利用经纬网可以确定地球表面任何一个地点的位置。在经纬网上，经线的度数叫做经度，若相邻两条经线的经度向东增大，就是东经，用符号 E 表示，若相邻两条经线的经度向西增大，就是西经，用符号 W 表示；纬线的度数叫纬度，若相邻两条纬线的纬度向北增大，就是北纬，用符号 N 表示，若相邻两条纬线的纬度向南增大，就是南纬，用符号 S 表示。

【解答】解：东西半球分界线是  $20^{\circ}\text{W}$  和  $160^{\circ}\text{E}$  组成的经线圈， $20^{\circ}\text{W}$  以东、 $160^{\circ}\text{E}$  以西为东半球， $20^{\circ}\text{W}$  以西、 $160^{\circ}\text{E}$  以东为西半球。纬度划分， $0^{\circ} \sim 30^{\circ}$  为低纬度地区， $30^{\circ} \sim 60^{\circ}$  为中纬度地区， $60^{\circ} \sim 90^{\circ}$  为高纬度地区。由此可知，南侧是低纬度，北侧是中纬度的点为  $30^{\circ}\text{N}$ ；右侧为东半球，左侧为西半球的点为  $20^{\circ}\text{W}$ ；故该点的地理坐标是  $30^{\circ}\text{N}$ ， $20^{\circ}\text{W}$ 。依据题意。

故选：B。

【点评】本题考查经纬网的判读，理解解答即可。

## 二. 多选题（共 5 小题，满分 15 分，每小题 3 分）

21. 【分析】我国地势第一阶梯和第二阶梯的分界山脉是昆仑山脉、祁连山脉、横断山脉一线，第二阶梯和第三阶梯的分界山脉是大兴安岭、太行山、巫山、雪峰山一线。

【解答】解：雪峰山是我国地势第二阶梯与第三阶梯的分界线，故 A 叙述正确；

祁连山是我国地势第一阶梯与第二阶梯的分界线，故 B 叙述正确；

大兴安岭以东是东北平原，以西是内蒙古高原，故 C 叙述错误；

天山以北是准噶尔盆地，以南是塔里木盆地，故 D 叙述错误。

故选：AB。

【点评】本题考查我国不同山脉的分布，结合相关地图记忆即可。

22. 【分析】澳大利亚铁矿、铝土矿、煤、石油等矿产资源丰富，而且开采的矿石一半以上用于出口，被誉为“坐在矿车上的国家”。



**【解答】**解：澳大利亚的矿产资源种类丰富，该国家适宜发展钢铁工业和有色金属冶炼工业等。

故选：CD。

**【点评】**本题考查澳大利亚的矿产资源，读图解答即可。

23. **【分析】**我国地形复杂多样，山区面积广大；纵横交错的山脉，构成了地形的骨架，平原、高原、山地、丘陵镶嵌其中。

**【解答】**解：读图可知，图中数字①是天山山脉，②是昆仑山脉，这两座山脉都是东西走向的山脉。故选项AD符合题意。

故选：AD。

**【点评】**本题考查了我国的山脉分布及名称，读图记忆解答。

24. **【分析】**我国行政区划基本分为省、县、乡三级，目前共有34个省级行政单位，包括23个省、5个自治区、4个直辖市、2个特别行政区。

**【解答】**解：选项中的四个省区，辽宁省和广西壮族自治区属于沿海省区，云南省和安徽省位于内陆地区。

故选：AB。

**【点评】**考查了对我国省级行政单位的名称和位置的认识，基础知识，一般以选择、解答填空形式出题。

25. **【分析】**秦岭、淮河一线的意义主要是：四大区域中南方与北方地区的分界线；一月份0等温线通过的地方；800mm等降水线通过的地方；温度带中暖温带与亚热带分界线；干湿地区中湿润区与半湿润区分界线；河流有冰期与无冰期的分界线；亚热带常绿阔叶林与温带落叶阔叶林的分界线；水田与旱地的分界线；水稻与小麦等杂粮的分界线等。

**【解答】**解：秦岭、淮河一线是南方地区与北方地区的分界线，是一月份0等温线通过的地方，是800mm等降水线通过的地方，是温度带中暖温带与亚热带分界线，是干湿地区中湿润区与半湿润区分界线，故AD符合题意。

故选：AD。

**【点评】**本题考查秦岭、淮河一线的地理意义，牢记即可。

### 三. 解答题（共1小题，满分5分，每小题5分）

26. **【分析】**我国共有34个省级行政单位，包括23个省、5个自治区、4个直辖市和香港、澳门两个特别行政区。

**【解答】**解：香港被称为“国际金融中心”；北京是我国的“政治文化中心”

；新疆被称为“瓜果之乡”；台湾被称为“亚洲天然植物园”。

A香港	①亚洲天然植物园
B新疆	②政治文化中心
C北京	③瓜果之乡
D台湾	④国际金融中心

故答案为：

**【点评】**此题主要考查的是各大省市的美誉或别称，属于基础知识。

#### 四. 解答题（共 2 小题，满分 20 分，每小题 10 分）

27. **【分析】**（1）“陆上丝绸之路经济带”横跨亚、欧两大洲。A 是印度半岛，据此解答。

（2）图中 C 是印度洋，E 是苏伊士运河。“海上丝绸之路” 船员不可能看到的是冰屋。

（3）沿“陆上丝绸之路”自东向西直至西欧，受海陆位置的影响，其年降水量的先逐渐减少，再逐渐增加。据此解答。

**【解答】**解：（1）“陆上丝绸之路经济带”横跨亚、欧两大洲。A 是印度半岛，该半岛主要属于热带季风气候。

（2）中国轮船若沿图中“海上丝绸之路”到欧洲和非洲，经过的大洋 C 是印度洋，经过的运河 E 是苏伊士运河，该运河是亚洲与非洲的分界线。“海上丝绸之路”沿途经过不同的地域文化，船员不可能看到的是冰屋，因为：沿途不经过北冰洋海域，冰屋是北冰洋沿岸因纽特人的传统民居；高脚屋是东南亚湿热地区的传统民居，泰姬陵是印度的著名建筑，清真寺是阿拉伯国家的宗教建筑，这三者都可能看到。

（3）沿“陆上丝绸之路”自东向西直至西欧，受海陆位置的影响，其年降水量的变化规律是先逐渐减少，再逐渐增加。

故答案为：（1）亚、欧；热带季风；（2）印度；苏伊士；B；（3）减少；增加；A。

**【点评】**本题考查一带一路图，解答此题的方法是据图中路径特点并据图中不同字母的位置理解解答即可。

28. **【分析】**中国地势西高东低，呈三级阶梯分布。第一阶梯和第二阶梯的分界山脉是昆仑山脉、祁连山脉、横断山脉一线，第二阶梯和第三阶梯的分界山脉是大兴安岭、太行山、巫山、雪峰山一线。我国西北 - 东南走向的山脉主要有阿尔泰山、祁连山和小兴安岭等。

**【解答】**解：读图分析可知：

(1)图中 A、B、C 表示我国地势的三级阶梯，其中 A 为第一级阶梯，C 为第三级阶梯，第二阶梯和第三阶梯的分界山脉是大兴安岭、太行山、巫山、雪峰山一线。

(2)地形以盆地和高原为主的是第二级阶梯；岳池位于第三级阶梯上。

故答案为：

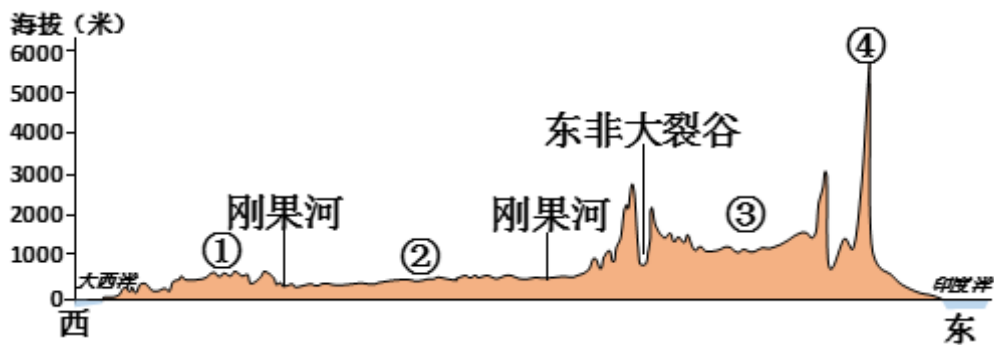
(1) 一；三；大兴安岭、太行山、巫山、雪峰山一线；

(2) 二；三。

【点评】 本题考查我国地势的特点，读图解答即可。

### 一、天气与气候选择题

1. 下图为沿南纬 3°所作的非洲地形剖面图，读图回答两题。



(1) 图中②所在的地形区名称是 ( )

- A. 乞力马扎罗山
- B. 刚果盆地
- C. 撒哈拉沙漠
- D. 东非高原

(2) 一位地理学家在③地区考察，他在日记中写到：“湿季，大草原一片葱绿，斑马、长颈鹿成群结队迁徙而来。到了干季，满目枯黄，茫茫草原上，间或有一些耐旱的孤树……”，下图中，符合他描述的气候类型是 ( )



以上内容仅为本文档的试下载部分，为可阅读页数的一半内容。

如要下载或阅读全文，请访问：

<https://d.book118.com/227035163061006144>