

# 2024年03月山东济宁嘉祥县教育系统校园招考聘用30

## 人（山东师范大学站）笔试历年典型考题与考点剖析

### 含答案详解

（图片大小可自由调整）

#### 一、单项选择题(共125题)

1、

预测，指人们根据事物过去发展变动的客观过程和某些规律性，根据事物目前运动和变化的状态，运用各种定性和定量的分析方法，对事物未来可能出现的趋势和可能达到的水平所进行的科学推测。下列不属于预测的一项是\_。

- A.人们对资源的需求以及资源生产能力的估计和推测
- B.人们对环境质量水平及环境污染程度的估计和预测
- C.北京西站对春运客流量的预测
- D.考古学家对瓷碗年代的推测

解析：

参考答案：D

2、

如果从短时期内来看，我们今天和几百年前的古人看到的星空基本无异；但是如果将时间尺度放大到数千甚至上万年，那么星空还是会发生微小的变化，主要原因是地球运动的不规则性引起的，俗称岁差。简单来说，岁差就是地球自转轴的长期运动。岁差可以使同一颗恒星的位置随着时间的变化而发生变化。公元前150年前后，古希腊天文学家、西方古代天文学创始人喜帕恰斯就是通过比较他观测到的星表和前人的星表，发现了岁差。当然，人类文明相对宇宙尺度而言实在是太短暂了，因此这种变化对我们没有太大的影响。

以下对这段文字的理解准确的一项是：\_\_\_\_\_

- A.我们与古人看到的星空基本无异
- B.地球运动的不规则性会影响恒星位置

- C.科技制约使人类无法监测岁差的影响
- D.发现岁差奠定了喜帕恰斯的学界地位

解析：

参考答案：B

[解析] A项，文段说的是“几百年前的古人”，“古人”表述不准确，排除。

C项，文段说的是“人类文明相对宇宙尺度而言实在是太短暂了，因此这种变化对我们没有太大的影响”，“科技制约”无中生有。

D项强加因果，文段只提到岁差的发现者是西方古代天文学创始人，未涉及发现岁差与其学界地位的关系，排除。

B项可由“主要原因是地球运动的不规则性引起的，俗称岁差”“岁差可以使同一颗恒星的位置随着时间的变化而发生变化”得出。

故本题选B。

3、

诚然，这种生命学术观未必就是学术的不二法门，它甚至包含若干可以\_\_\_\_\_的方面，不过我们的学术批评却须\_\_\_\_\_学术研究者的思路、心路和脉理，才能使得自己的批评肯綮剖切，命中要害，否则无异于\_\_\_\_\_，隔山打牛。

填入画横线部分最恰当的一项是：\_\_\_\_\_

- A.批评 分析 水中捞月
- B.商榷 把准 隔靴搔痒
- C.否定 理清 蚍蜉撼树
- D.商讨 厘清 管中窥豹

解析：

参考答案：B

[解析]

本题的突破口在第三空，分析可知，此处所填词语应与“肯綮剖切，命中要害”意思相悖，表示“没有抓住关键，切中要害”的意思。“水中捞月”比喻徒劳而无功。“隔靴搔痒”比喻说话写文章没有抓住主题和要点，不中肯，不贴切；或比喻做事没有抓住关键，无法解决问题，徒劳无功。“蚍蜉撼树”比喻力量很小而妄想动摇强大的事物，不自量力。“管中窥豹”比喻只看到事物的一部分，指所见不全面或略有所得。四个成语中只有“隔靴搔痒”符合文意，且与“隔山打牛”构成并列关系。另外，“商榷”和“把准”填入文中也恰当。故本题选B。

4、

某企业管理方案研究委员会对126所亏损企业所提供的各自企业管理方案进行了细致研究，发现大多数企业的管理计划还停留在非常初级的阶段。由此他们认定，学习如何管理是当前各行业提高自身效益必须要做的事情。

以下哪项为真，能够最有力地削弱该委员会的结论?\_

- A.由于这些企业规模较小，现有的管理体制以前并不阻碍他们得到更好的效益



- B.抽样的企业主要集中在第三产业，第一产业、第二产业基本没有涉及
- C.企业效益的提高了的条件涉及员工的个人素质、企业的文化理念、周边的市场环境等
- D.该委员会以前的结论经常发生错误，已经引起很多企业的不满

解析：

参考答案：B

[解析]

题干给出的推理是：某些亏损企业的管理低级，所以只有提高管理水平才能使各行业都增加收益。要想削弱这一结论，可以有多种方式，例如指出各行业在增加收益，但水平并不高，或者个别企业不能代表整体行业等。A项错误在时间性，以前不阻碍并不代表当前不阻碍，削弱力度不足。B项指出部分企业不能代表整体行业，从而削弱了题干。C项虽然指出企业要想提高效益，有许多其他条件，但并不排除提高管理水平作为企业效益提高的必要条件。D项诉诸经验，以前的判断不准，不意味着此次也不准。故也不能削弱题干，答案为B。

5、

唯物辩证法告诉我们，要全面地看问题，不能以偏概全；要联系地看问题，防止孤立的观点；要发展地看问题，不能静止地看问题。因此下列理解不正确的是\_。

- A.看问题要一分为二，既要看到好的一面，又要看到不好的一面
- B.不仅要看到事物本身，而且要看到它与周围事物的联系
- C.人性都是一成不变的，对犯罪分子绝不能给他改过的机会
- D.共产主义一定会取得胜利

解析：

参考答案：C

[解析]

此题有三个陈述，分别要求用全面的观点、联系的观点和发展的观点看问题。A体现了全面的观点，B体现了联系的观点，D体现了发展的观点，只有C是以一种静止的观点看待问题，故不正确。注意，本题是选择“不正确”的一项。

6、

下列诗句中蕴含的物理学知识表述错误的是：

- A.北风卷地百草折——表明力可以改变物体的形状
- B.楼台倒影入池塘——光的反射原理
- C.日照香炉生紫烟——“烟”的形成过程需要吸热
- D.飞流直下三千尺——水的重力势能转化为水的动能

解析：

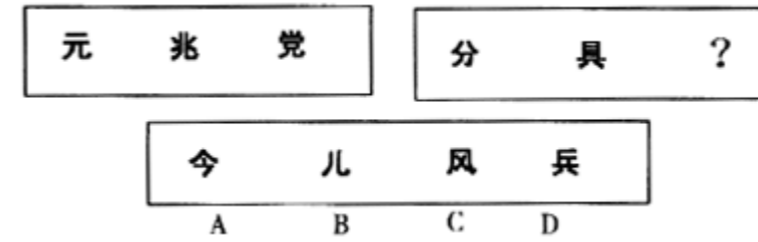
参考答案：C

[解析]

“北风卷地百草折”中的“百草折”，体现了力的作用效果，表明力可以改变物体的形状；“楼台倒影入池塘”

中的“倒影”是平面镜成像，是由于光的反射形成的；“日照香炉生紫烟”中，香炉指庐山香炉峰，“日照香炉生紫烟”的意思是说“由于瀑布飞泻，水气蒸腾而上，在丽日照耀下，升起了团团紫烟”，由此可见这个“烟”实际上是水蒸气液化产生的雾气，液化放热；“飞流直下三千尺”，是因为水受到重力的作用，从高处往低处流，在此过程中势能减小，减小的势能转化为动能。故本题答案选C。

7、



解析：

参考答案：D

[解析] 第一组图形都含有“儿”部，第二组图形都含有“八”部，所以应选D。

8、

不相隶属机关之间商洽工作、询问和答复问题时，用()

- A.批复
- B.通报
- C.函
- D.令

解析：

参考答案：C

9、

周末版的兴起，在一定程度上\_了报业的繁荣。

- A.推动
- B.促进
- C.加快
- D.发展

解析：

参考答案：B

[解析]



本题属词语填空题，主要考查考生的言语表达能力和理解能力

**[解题要点]**

理解文意，根据上下文，选择最合适的词语，注意习惯搭配

**[答案与解析]**

一般的搭配是“推动发展、加快发展”，一般不说“加快繁荣”，“加快”后一般接动词，不接名词或形容词；一般不说“推动繁荣”，“推动”，后面一般接名词或动词，不接形容词；只有“促进繁荣最合适”。故选B。

10、

在合川县，我们亲眼目睹了农村小学受欺凌的事。造成这种状况的主要原因是干部、群众对教育事业缺乏认识。党的三中全会以后，党中央一再强调教育的重要意义，但是在一些基层干部中并未引起足够的重视，他们头脑里往往只有生产，没有教育。他们对于教育在社会主义现代化建设中的作用，教育同国家利益和个人利益的关系认识不清。因此在处理学校与各方面的关系时，往往是压抑学校。

关于这段话，下列哪个说法不正确?\_

- A.合川县，农村小学受欺凌是因为人们处理教育和其他各方面问题失调所致
- B.文中“他们”指代基层干部和群众
- C.造成农村受欺凌的现象，除了基层干部外，群众也负一定的责任
- D.教育同国家利益和个人利益有很大的关系

解析：

参考答案：B

**[解析]**

由“但是在一些基层干部中并未引起足够的重视，他们头脑里往往只有生产……往往是压抑学校”可知，文中的“他们”指的仅仅是基层干部，而非指代基层干部和群众。故选B。

11、

足球比赛积分规则是：胜一场得3分，平一场得1分，负一场得0分。某足球队打了16场，负8场，共得16分，那么这个球队胜了几场?

- A.3
- B.4
- C.5
- D.6

解析：

参考答案：B

**[解析]**方法一，设这个球队胜了x场，则平了16-8x=(8-x)场，由题意可得3x+(8-x)=16，解得x=4，方法二，看成鸡兔同笼问题。依题意，胜和平共16-8=8场，则假设8场全平，可求得这个球队胜了(16-8×1)÷(3-1)=4场。

12、

我国传统文化宣传孔融让梨，表扬他把最好的给祖父母、父母、兄弟姐妹，最差的留给自己。这种教育的特点是强调自觉。古罗马人不是这样。为了解决军队中出现的严重不公平现象，他们没有找一个榜样来教育人，而是着眼于制度设计。比如两个士兵得到一个面包，按规定其中一个负责切割，另一个人则有权首先挑选。这样，那个切割面包的士兵为了防止自己吃亏，就会非常小心，尽量切得一样大。这样的传统延续发展，就是现代西方社会比较重视制度设计，而不仅仅依靠道德说教。

这段文字意在说明\_。

- A.我国文化与古罗马文化在教育理念上存在巨大分歧
- B.好的制度设计比一味的道德说教来得更有效
- C.现代西方社会重视制度设计缘于其文化传统
- D.完善的制度设计有助于最大限度地实现社会公平

解析：

参考答案：C

**[解析]**

文段由我国传统文化推崇榜样强调道德自觉的特点，引出与之相区别的古罗马人，他们的传统是重视制度设计，力求通过最科学的制度来引导人们的行为。古罗马人的这种传统延续发展，最终造就了现代西方社会普遍重视制度设计的现状。由此可知，文段的落脚点在于“现代西方社会”，符合这一特点的只有C项。

13、

某公司每年新增的专利数量呈等比数列。其中第一年获得的专利数量是后两年新增专利数量的六分之一。该公司4个部门每年均有新增专利，且每个部门获得的专利数不相同，则4年间该公司至少新增多少专利?

- A.70项
- B.90项
- C.150项
- D.180项

解析：

参考答案：C

**[解析]**

根据4年来每年新增专利数呈等比数列，令第一年为1，公比为a，则可得a+a<sup>2</sup>=6，易得a=2。新增专利总数取决于第一年专利数。该公司每个部门新增专利数不相同，则第一年至少有1+2+3+4=10个专利。四年问专利数至少有10+20+40+80=150项。

14、

终于，许多人开始相信他们自己对一切\_\_\_\_\_。于是，消极情绪开始\_\_\_\_\_。最后，困境中的公司的终极病态——推卸责任——占据了主导。

填入划横线部分最恰当的一项是：



- A.无可奈何 集中
- B.无所不知 延伸
- C.无计可施 扩散
- D.无能为力 蔓延

解析：

参考答案：D

[解析]

“无可奈何”指感到没有办法，只有这样了。“无所不知”指什么事情都知道，没有不懂的。“无计可施”指想不出对策，没有办法可用。“无能为力”指使不上劲或没有能力去做好某件事情、解决某个问题。题干中指的是许多人开始相信自己对一切都感到使不上劲，没有能力解决问题，而不是想不出办法，更不是什么事情都知道，所以第一空选“无能为力”。“情绪”与“集中”、“延伸”不搭配。结合第一空，本题选D。

15、

英国戏剧家肖伯纳有一次为宣传他的一部新作品而办一次聚会。其间一位客人当众说道：“戏剧家都是傻瓜。”肖伯纳立即说道：“先生，我认为您是世界上最伟大的戏剧家。”可见\_\_\_\_\_。

- A.肖伯纳是傻瓜
- B.肖伯纳很会奉承人
- C.肖伯纳机智风趣地回敬那位客人是傻瓜
- D.肖伯纳公报私仇

解析：

参考答案：C

[解析] 肖伯纳用表面赞扬而实质却是尖刻批评的话语，回敬了戏弄他的客人，故选C。

16、

人才成长的综合效应论阐明，创造性实践在个体人才成长过程中起决定性作用，但并不是任何创造实践都能成功。只有有效的创造实践才能成功。

这段话主要支持了这样一种观点，即：\_\_\_\_\_

- A.个体只有在有效的创造实践中，才能成长为真正的人才
- B.人才成长是由多种因素综合决定的
- C.人人都应该参加创造实践活动
- D.综合效应理论是现代人才综合理论

解析：

参考答案：A

17、

螃蟹：横着走\_\_\_\_\_

- A.乌龟：背着壳
- B.鳄鱼：掉眼泪
- C.兔子：跑得快
- D.鹦鹉：学人话

解析：

参考答案：D

[解析]

横着走是螃蟹的典型特征，二者是描述关系。D项，学人话是鹦鹉的典型特征，二者是描述关系，符合题意；A项，背着壳和乌龟，二者是描述关系，但背着壳不是乌龟的典型特征；B项，二者是描述关系，但掉眼泪的不光有鳄鱼，还有人等其他动物；C项，二者是描述关系，但跑得快的不光有兔子，还有猎豹等动物。故正确答案是D。

18、

自从20世纪中叶化学工业在世界范围内成为一个产业以来，人们一直担心，它所造成的污染将会严重影响人类的健康。但统计数据表明，这半个世纪以来，化学工业发达的工业化国家的人均寿命增长率大大高于化学工业不发达的发展中国家。因此，人们关于化学工业危害人类健康的担心是多余的。

以下哪项陈述是上述论证必须假设的？\_\_\_\_\_

- A.如果不出现发达的化学工业，发达国家的人均寿命增长率不会因此更高
- B.如果出现发达的化学工业，发展中国家的人均寿命增长率会因此更低
- C.化学工业带来的污染与它带给人类的巨大效益相比是微不足道的
- D.20世纪中叶，发展中国家的人均寿命低于发达国家

解析：

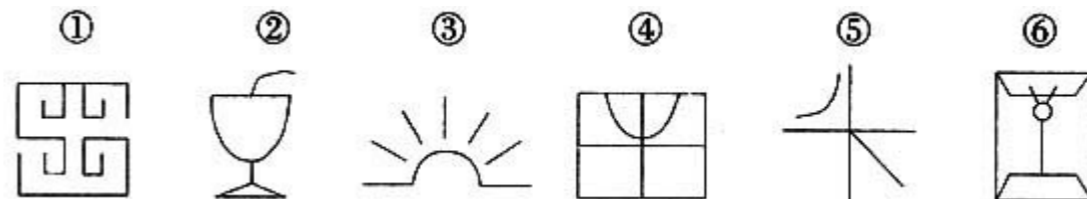
参考答案：A

[解析]

“这半个世纪以来，化学工业发达的工业化国家的人均寿命增长率大大高于化学工业不发达的发展中国家。”其必须假设的是没有化学工业的人均寿命增长率不会比有化学工业的人均寿命的增长率高，否则就得出化学工业不会威胁人类健康的结论。故选A。

19、

把下面的六个图形分为两类，使每一类图形都有各自的共同特征或规律，分类正确的一项是：



- A.①②③，④⑤⑥





B.①③⑤，②④⑥

C.①④⑤，②③⑥

D.①⑤⑥，②③④

解析：

参考答案：B

[解析] 图形①③⑤都是开放的图形，图形②④⑥都是封闭的图形。

20、

改革者怕被误解和中伤，怕被改革阻力击倒，不得不花很多的精力去化解矛盾，为改革赢得机会，否则“内忧外患”“\_\_\_\_\_”，改革者流汗又流泪，改革也会\_\_\_\_\_。尽管人们都会说“要给改革者营造宽松的环境”，可现实中，人们对改革的承受力并不大，有时一有大动作，就会“枪打出头鸟”，有时稍有\_\_\_\_\_，就令改革方案草草收场。

依次填入画横线部分最恰当的一项是\_\_\_\_\_。

A.内外交困 雪上加霜 蛛丝马迹

B.山穷水尽 前功尽弃 风声鹤唳

C.腹背受敌 半途而废 风吹草动

D.四面楚歌 功亏一篑 异乎寻常

解析：

参考答案：C

[解析]

由文段首句可知，矛盾化解不好会让改革充满阻力，改革者将面临“内忧外患”，第一空应填与“内忧外患”意思相近、词义程度相近的词语，“山穷水尽”强调已经到了绝路，词义过重，故排除B项。再看第二空，“雪上加霜”强调一再遭受灾难，损害愈加严重，而文段说的改革并没有一再遭受灾难，排除A。最后看第三空，根据最后一句“稍有”可知，表明的一种轻微的迹象，“异乎寻常”词义过重，应选“风吹草动”。因此，本题选C。

21、

地球在其形成的早期是一个熔岩状态的快速旋转体，绝大部分的铁元素处于其核心部分。有一些熔岩从这个旋转体的表面甩出，后来冷凝形成了月球。

如果以上这种关于月球起源的理论正确，则最能支持以下哪项结论？

A.月球是唯一围绕地球运行的星球

B.月球将早于地球解体

C.月球表面的凝固是在地球表面凝固之后

D.月球的含铁比例小于地球核心部分的含铁比例

解析：

参考答案：D

[解析]

归纳支持题。题干论述：铁位于地球核心，月亮是地球表面的物质形成的。地球表面的物质含铁比地球核心的物质少，而月球是地球表面的物质形成的，当然月球含铁比地球核心少，D项正确。

22、

留置：是指债权人按照合同约定占有债务人的动产，债务人不按合同约定的期限履行债务的，债权人有权依法留置该动产，以该财产的折价或者以拍卖、变卖该财产的价款优先受偿。

根据上述定义，下列情况中属于留置的是：\_

A.一企业家雄心勃勃，他在企业效益特别好的时候，并没有把利润以股息、红利、奖金等形式散发下去，而是留在企业，作为进一步发展的资本

B.银行在康某到期仍无力偿还贷款的情况下，以其作为抵押的房产折价拍卖后全部款项归人银行

C.某企业因经营不善，无力偿还其所欠另一家企业的债务，依据合同，在其宣告破产后，另一家企业直接接管并拥有了该企业

D.某甲的电视机在某乙处修理，花费一千多元，某甲一直不交修理费，数月后，某乙在某甲置之不理的情况下将电视机变卖，并直接占有了其价款一千元

解析：

参考答案：D

23、

倾销：是指企业在国外出售商品的价格低于国内市场的价格或低于生产成本。

根据这一定义，下列行为不属于倾销的是\_。

A.某国以低于产品正常价值的价格向他国销售新闻纸

B.某企业在国内有较高的垄断地位和较大的市场份额，但质量不如国外同类产品，为了抢占国际市场，该企业以低于成本价的价格在他国销售

C.某国软件公司为了获得他国政府采购的订单，与他国同类软件竞争，以低于该产品在本国的销售价格投标

D.某地为著名的蔬菜生产基地，由于采用先进的科学技术和规模化经营，其生产的蔬菜价格远远低于国外同类产品的价格

解析：

参考答案：D

倾销是指企业在国外出售商品，涉及国内与国外的关系。D项中某地生产的蔬菜价格远远低于国外同类产品的价格，没有涉及在国外出售。故选D。

24、

许多人认为，啤酒广告是造成中年人酗酒的关键原因。但是，某国自2000年以来一直禁止啤酒广告，这个国家中年人酗酒的现象却至少和那些不禁止啤酒广告的国家一样严重。

上述断定最能支持以下哪项结论?\_\_\_\_\_

- A.广告对于引起中年人酗酒并没有起什么作用
- B.啤酒广告不是影响中年人酗酒的唯一原因
- C.如果不禁止啤酒广告。某国中年人酗酒的现象将比现在更严重
- D.广告对青少年的影响甚于成年人

解析：

参考答案：B

[解析]

如果啤酒广告是影响中年人酗酒的唯一原因，那么，某国自2000年以来一直禁止啤酒广告，这个国家中年人酗酒的现象应当明显少于那些不禁止啤酒广告的国家。因此，如果题干成立，则B项成立。故本题选B。

25、

产业结构政策：指一定时期内政府为促进本国产业结构的调整、优化和升级所制定的政策。

根据以上定义，下面\_属于产业结构政策。

- A.产业组织政策
- B.产业技术政策
- C.对新兴产业的保护和扶持
- D.提高人力素质政策

解析：

参考答案：C

[解析]

对新兴产业的保护和扶持有利于促进国家产业结构的调整、优化和升级，因此属于产业结构政策。故选C。

26、

甲县居民刘某与乙县大江房地产公司在丙县售房处签订了房屋买卖合同，购买大江公司在丁县所建住房1套。双方约定合同发生纠纷后，可以向甲县法院或者丙县法院起诉。后因房屋面积发生争议，刘某欲向法院起诉。

下列关于管辖权的哪种说法是正确的?\_

- A.甲县和丙县法院有管辖权
- B.只有丁县法院有管辖权
- C.乙县和丁县法院有管辖权
- D.丙县和丁县法院有管辖权

解析：


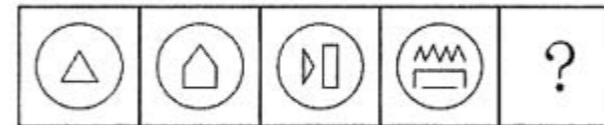
参考答案：B




[解析]

法律对不动产作出了特殊规定，不动产纠纷，由不动产所在地法院管辖，故只有丁县法院有管辖权。

27、

从所给的四个选项中，选择最合适的一个填入问号处，使之呈现一定的规律性。



- A.
- B. 
- C. 
- D. 



解析：

参考答案：C

[解析]

观察题干中的图形，圆内图形中角的个数分别为3、5、7、9，构成等差数列，因此问号处的圆内图形应该有11个角，正确答案为C选项。

28、



解析：

参考答案：D

[解析] 人头的耳朵有三种形状，发型也有三种，每种形状在各横行或竖列中只能出现一次，故选D。

29、

异质型人力资本是指某个特定历史阶段中具有边际收益递增生产力形态的人力资本，表现为拥有者所具有的独特能力，这些能力主要包括：综合协调能力、判断决策能力、学习创新能力和承担风险能力等。

根据上述定义，下列不涉及异质型人力资本的是：

- A.某厂长期亏损，李某担任厂长后施行了大刀阔斧的改革，很快使工厂扭亏为盈
- B.技术员陈某潜心钻研技术，他将人们认为不太可能整合的两种技术巧妙结合在一起，大大降低了生产成本
- C.某包装厂效益平平，设计师王某应聘到该厂后，由于他的设计新颖、风格清新，一下子使该厂的包装产品畅销起来
- D.某厂聘请某院士担任技术顾问，一大批风险投资公司慕名而来，一些高学历人才也陆续加盟

解析：

参考答案：D

[解析]

根据异质型人力资本的定义，A项体现了判断决策能力，B、C两项体现了学习创新能力；D项只是体现了该院士名声远播，很多人慕名而来，对其个人能力并未体现，不涉及异质型人力资本。故本题选D。

30、

北京大学 对于 \_\_\_\_\_ 相当于 \_\_\_\_\_ 对于 美国

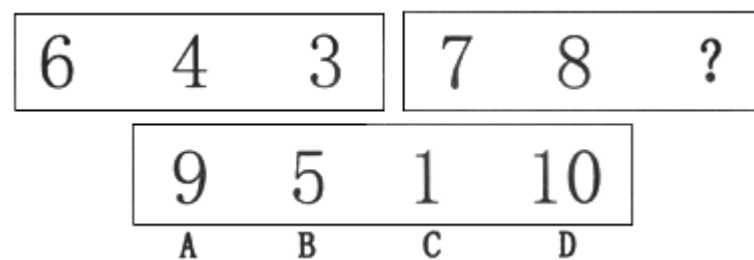
- A.中国 哈佛大学
- B.中国 牛津大学
- C.北京 剑桥大学
- D.中关村 斯坦福大学

解析：

参考答案：A

[解析] 北京大学是中国最好的大学之一，哈佛大学是美国最好的大学之一。

31、



解析：

参考答案：D

32、

\_\_\_\_\_是兴国之魂，是社会主义先进文化的精髓，决定着中国特色社会主义发展方向。

- A.马克思主义指导思想
- B.社会主义核心价值体系
- C.民族精神和时代精神
- D.社会主义荣辱观

解析：

参考答案：B

[解析]

党的十七届六中全会指出，社会主义核心价值体系是兴国之魂，是社会主义先进文化的精髓，决定着中国特色社会主义发展方向。

33、

不当得利就其性质属于\_\_\_\_\_。

- A.事件
- B.侵权行为
- C.事实行为
- D.意思行为

解析：

参考答案：A

不当得利是指没有合法依据，使他人受到损失而自己获得了利益。不当得利之债中，对债权人而言，是他人的行为使其享有不当得利返还请求权，与其意志无关，属于事件。故选A。

34、

下列常识说法错误的是：\_\_\_\_\_

- A.医院检查人体食道、胃部的“钡餐”，其主要成分是“硫酸钡”
- B.太空育种和其他诱变育种原理在本质上是一样的
- C.治理某湖泊的水华现象，环保的方法是向水体通二氧化碳
- D.血友病是一种遗传疾病，男性发病率高于女性

解析：

参考答案：C

[解析]

“钡餐”的主要成分是硫酸钡。A项正确。太空育种和其他诱变育种原理在本质上是一样的，都是基因突变，产生新的性状。B项正确。治理某湖泊的水华现象，向水体通二氧化碳，将为藻类的光合作用提供更多的原料，会加重水华现象，环保的处理方法应是投放滤食藻类的鱼。C项错误。血友病是一种遗传疾病，由X染色体上的隐性基因决定，通常男性发病率高于女性。D项正确。故本题答案选C。

35、

\_\_\_\_\_ 对于 愚笨 相当于 强壮 对于 \_\_\_\_\_

- A.傻子 青年
- B.智商 运动
- C.聪明 瘦弱
- D.机灵 灵活

解析：

参考答案：C

[解析] 聪明和愚笨是一对反义词，强壮和瘦弱也是一对反义词。

36、

李老师、王老师、张老师在同一所大学教语文、数学和外语，按规定每人只担任其中一门课。而且

- ①李老师上课全部用汉语。
- ②外语老师是该校一个学生的舅舅。
- ③张老师是女教师，她的女儿考大学之前，经常向数学老师请教。

请判定他们各自上的课程是\_\_\_\_\_。

- A.李老师上语文，王老师上外语，张老师上数学
- B.王老师上语文，李老师上外语，张老师上数学
- C.张老师上语文，王老师上外语，李老师上数学
- D.王老师上语文，张老师上外语，李老师上数学

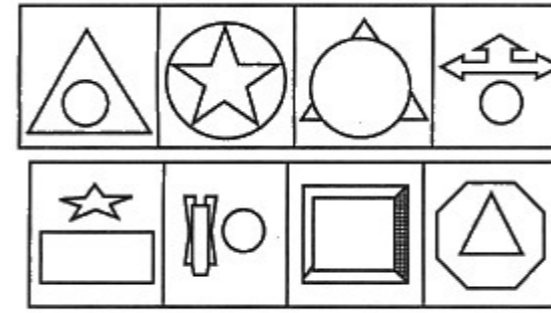
解析：

参考答案：C

[解析]

已知李老师上课全部用汉语，可知李老师不是外语老师；已知外语老师是位男性，张老师是位女性，而且她的女儿经常向数学老师请教，可知张老师是语文老师。已知李老师不是外语老师，张老师是语文老师，可以确定李老师是数学老师，王老师是外语老师。故选C。

37、



- A.
- B.
- C.
- D.

解析：

参考答案：B

观察分析前四幅图，可知前四幅图有一共同点，每幅图形中都包含一个圆，由此可以断定第五幅图形也是包含圆的图案。故选B。

38、

小杂货店买进一批皮球，进价每只1.5元，卖出价每只2元。卖到只剩20只皮球时，开始让利，以9折售出。皮球全部卖完后，共得利润86元。这批皮球的总数是多少只？\_

- A.160
- B.170
- C.180
- D.200

解析：

参考答案：C

[解析]

设想最后20只不让利，价格就变得统一。每只皮球原价2元，以9折价出售，每只让出的利润是 $2 \times (1 - 0.9) = 0.2$ 元，20只让出的利润是 $0.2 \times 20 = 4$ 元， $86 + 4 = 90$ 元， $2 - 1.5 = 0.5$ 元。 $90 \div 0.5 = 180$ 只。故选C。

39、

那个\_\_\_\_\_的年代已经不可挽回地衰落，热情的消退带来的是中年的沉稳；面对渺小的生命，不是逃避焦虑，而是正视真实的生存。

填入划横线部分最恰当的一项是\_。

- A.年少无知
- B.如火如荼
- C.挥斥方遒
- D.横冲直撞

解析：

参考答案：B

[解析]

空格处填入的词应当与“热情”相对应，B项“如火如荼”最符合文意，其余选项都无法表现“热情”的灼烈感。故选B。

40、

春晚相声《新虎口遐想》的出现，其最现实的意义就在于它实现了相声本质的回归，讽刺的分寸感好，对社会不良现象的反思有力。只是\_\_\_\_\_春晚时间的限制，结尾比较仓促，实在是美中不足的遗憾。但是\_\_\_\_\_，它回归了本质，找回了初心。

填入画横线部分最恰当的一项是：\_\_\_\_\_

- A.由于 大醇小疵
- B.囿于 瑕不掩瑜
- C.困于 毋庸置疑
- D.缘于 不言而喻

解析：

参考答案：B

[解析]

第一空，此处句意为因为春晚时间的限制，《新虎口遐想》的结尾比较仓促。“困于”填入不恰当，排除C项。第二空，句意为虽然《新虎口遐想》有不足，但是它的优点还是无法被掩盖的。“大醇小疵”比喻大体上完美，只是个别小地方有些毛病；“不言而喻”形容道理很明显，不用说就可以明白。这两个词语填入，不合句意，排除A、D项。“瑕不掩瑜”比喻缺点掩盖不了优点，缺点是次要的，优点是主要的。填入恰合句意。故本题选B。

41、

一个正方形被4条平行于一组对边和5条平行于另一组对边的直线分割成30个小长方形(大小不一定相同)，已知这些小长方形的周长和是33，那么原来正方形的面积是：

- A.  $\frac{121}{9}$
- B.  $\frac{121}{16}$
- C.  $\frac{9}{4}$
- D.  $\frac{3}{2}$

解析：

参考答案：C

[解析]

正方形内分割线上的每个小线段都同时属于两个长方形，正方形边上的每个小线段只属于一个长方形。

设正方形边长为a，则可列方程 $[(4+5) \times 2 + 4] \times a = 33$ ，解得  $a = \frac{3}{2}$ ，正方形的面积为  $\frac{9}{4}$ 。

42、

近日，随着敬老日的到来，在一些地区，不能回家陪伴父母的子女会买个陪聊机器人送给父母，这也让陪聊机器人一时销量增长不少。这些机器人有的做成毛绒玩具，还有的做成小朋友。有一款穿着宇航服的机器人据说能达到5岁儿童的会话能力，“体”内储存了数万种对话情景和人面部的40种表情，不仅能识别交谈者的语言，还能判断对方的感情，并通过“眨眼睛”、“转动眼球”等方式表达自己的“感情”。还能记忆10个人的面孔，因此它能够意识到自己在跟谁说话。有的机器人还能把老年人的生活情况及时发给监控中心。

这段文字未暗示的信息是：

- A.陪聊机器人是一种有自身意识、能会话的高级玩具
- B.有的陪聊机器人带有监控功能，能及时进行信息反馈
- C.陪聊机器人的会话能力十分有限，仅限于某些方面
- D.陪聊机器人的会话能力依赖于体内的存储功能和识别功能

解析：

参考答案：A

[解析]

由“还能记忆10个人的面孔，因此它能够意识到自己在跟谁说话”可知，陪聊机器人本身是没有意识的，A项错误。其他三项在文段中均有所体现。故本题答案为A。

43、

一个民族的追求与向往、历史与传承往往通过节日\_\_\_\_\_出来。传统节日期间的各种带有仪式性的活动甚至饮食，都能\_\_\_\_\_人们强烈的情感波澜，使人们深深感觉到自己是这个民族的一分子。因此，传统节日\_\_\_\_\_了民族身份认同，是区分不同民族、不同文化的一个标志。

填入画横线部分最恰当的一项是：

- A.影射 漾起 加深
- B.表达 掀动 明确
- C.彰显 引起 强化
- D.展现 激发 建立

解析：

参考答案：C

[解析]

先看第三空，“明确”与“认同”搭配不当，排除B。再看第一空，“影射”意为暗指、借此说彼，不合文意，排除A。最后看第二空，与“激发”相比，“引起”与“波澜”更搭配。故本题答案为C。

44、

A、B两地相距150公里，甲车从A地开往B地，乙车从B地开往A地。甲车于上午10点出发，乙车于上午10点半出发，最终乙车比甲车早30分钟到达目的地。已知两车的速度之比为2:3，则两车在途中相遇的时间是\_\_\_\_\_。

- A.10:50
- B.11:00
- C.11:18
- D.11:30

解析：

参考答案：D

[解析]

乙车比甲车晚半小时出发，却早半小时到达，故乙车比甲车用时少1小时。已知两车的速度之比为2:3，故两车所用时间之比为3:2，即甲车用了3小时，乙车用了2小时。两车的速度分别为50公里/小时、75公里/小时。两车相遇时恰好一起走了整个全程，从10点半开始计算，此时甲车已经出发了半小时，

$$\frac{150 - 50 \times \frac{1}{2}}{50 + 75} = 1(\text{小时})$$

，即两车在11:30相遇。

45、

只有同时兼顾公平与效率两个方面的税制才是最好的税制，这是无须证明的。但就具体的税种来说，往往不是低效率、高公平，就是高效率、低公平，高效率、高公平的最优结合是少有的。就某一具体的税种来说，往往不是以效率为主导，就是以公平为核心，二者并重并不一定是理想状态。

这段话主要支持了这样一种观点，即就某一具体税种来说，\_\_\_\_\_。

- A.是公平与效率之间的妥协
- B.兼顾高效率和高公平不是最好的
- C.兼顾高效率和高公平才是最理想的
- D.不应以效率为主导，而应以公平为核心

解析：

参考答案：A

B项错误明显。兼顾公平和效率的税制是最好的税制，这是就税制整体而言的，而不是针对某一具体税种而言的，所以C项也不正确。题干中认为具体税种往往或者以公平为核心，或者以效率为主导，这两种情况都是肯定的，没有舍掉其中一个，所以D项不正确。

46、

在人类早期的历史中，由于阅读的能力和阅读的材料都只为极少数人掌握，阅读和权力呈现出一种相互

纠结的关系。后来，随着印刷术的发明，阅读得到缓慢的普及，逐渐与权力分道扬镳，而且越来越成为权力的反面——

个人权利的护心甲。它变成了个人对抗权力的一种无声而有效的方式。在它的庇护下，人类的自我逐渐挣脱了中世纪的黑暗，终于在新的人文精神的曙光中现身。对现代社会的人们来说，阅读更是一种普遍的先于实际生活的经验：我们首先从书本上获得人生的经验，然后才在实际生活中经历它们。阅读不仅帮助我们认识自我，而且在某种程度上，它直接造就了我们自我——“我们即是我们所阅读的东西”。

这段文字的大意是\_\_\_\_\_。

- A.阅读在不断发展中得到了缓慢的普及与提高
- B.人类在阅读中挣脱了黑暗，现身于曙光之中
- C.阅读成为人类维护、认识、造就自我的工具
- D.人类在阅读中获得人生的经验

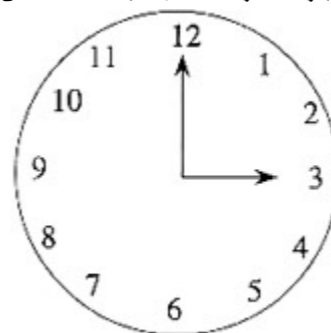
解析：

参考答案：C

题干通过论述阅读在人类历史上的发展过程来说明阅读对人类的巨大功能，论述的主体是“阅读”而非“人类”，由此排除B、D两项；题干论述的核心显然是阅读对人类的功能而非其发展状况，由此也排除A；C项全面、准确的论述了阅读对人类的功能，故选C。

47、

现在是3点，什么时候时针与分针第一次重合？



- A. 3点15分
- B. 3点16分
- C. 3点 $16\frac{4}{11}$ 分
- D. 3点 $16\frac{5}{12}$ 分

解析：

参考答案：C

[解析] 3点时分针指12，时针指3。分针在时针后 $5 \times 3 = 15$ 格，每分钟分针比时针多走 $(1 - \frac{5}{60}) = (1 - \frac{1}{12})$ 格。要使分针与时针重合，即使分针比时针多走15格，需要 $15 \div (1 - \frac{1}{12}) = 16\frac{4}{11}$ 分钟。所以，所求的时刻应为3点 $16\frac{4}{11}$ 分。

48、

甲国与乙国因领土纠纷发生争端，下列说法不符合国际法相关规定的是：

- A.甲乙两国可以派出外交使节进行谈判，这是解决争端最直接的方法
- B.甲乙两国可以约定将争端交付仲裁机构处理，但仲裁裁决不具有法律制裁性质
- C.丙国可以调停者的身份参加两国的谈判，但其提出的解决方案对甲乙两国没有约束力
- D.甲乙两国可用请求书的方式将争端提交国际法院，国际法院作出的判决交由联合国强制执行

解析：

参考答案：D

[解析]

《国际法院规约》中并无如何执行法院判决的条款。《联合国宪章》赋予了安理会作出建议和决定或采取办法执行国际法院判决的权限，联合国安理会是国际法院判决的唯一法定执行主体，但安理会并不是非采取行动不可，只有在它认为必要时，才作出建议或采取办法以执行国际法院的判决。故本题选D。

49、

已知 
$$\begin{cases} 3x + 7y + z = 32 \\ 4x + 10y + z = 43 \end{cases}$$
，求x+y+z=\_\_\_\_\_。

- A.7
- B.8
- C.9
- D.10

解析：

参考答案：D

[解析] 令y=0，则 
$$\begin{cases} 3x + z = 32 \\ 4x + z = 43 \end{cases}$$
 两式相减解得 
$$\begin{cases} x = 11 \\ z = -1 \end{cases}$$
，因此x+y+z=10。

50、

在与人的交往中，最困难的也许并不是有形的握手和外在的微笑，而是相互间内在的沟通。

最能准确复述这段话的意思的是，即在与人的交往中\_\_\_\_\_。

- A.最重要的是相互间内在的沟通
- B.最重要的是握手和微笑
- C.最困难的是有形的握手和外在的微笑
- D.最困难的是相互间内在的沟通

解析：

参考答案：D

[解析] 这句话的意思在“而是”之后。故选D。

51、

假如重力突然消失，下列情况还存在的是\_\_\_\_\_。

- A.万马奔腾
- B.川流不息
- C.五光十色
- D.短斤少两

解析：

参考答案：C

[解析] “五光十色”与物体的重力无关。

52、

某外国航空公司经理：“新开发的避撞系统，虽然还未经全面测试以发现潜在的问题，但也必须马上在客机上安装，因为这个系统的机械报警装置可以使飞行员避免撞机事故。”

该公司飞行员：“飞行员不能驾驶一架避撞系统未经全面测试的飞机，因为有故障的避撞系统将会误导飞行员，造成撞机。”

以下哪项如果为真，最能加强飞行员的反对意见?\_\_\_\_\_

- A.机械设备总是有可能出故障
- B.喷气式发动机在第一次投入使用之前也未经彻底测试，但是其性能与安全记录却是有目共睹的
- C.虽然避撞系统能使飞行员避免一些相撞事故，但是未经测试的避撞系统的潜在问题可能会造成更多的撞机事故
- D.许多撞机事故是由于飞行员过度疲劳造成的

解析：

参考答案：C

[解析]

要证明飞行员的观点正确，就须保证虽然避撞系统能避免一些事故，但若该系统未经测试则其潜在问题将带来更多事故这一情况为真。故选C。

53、

某商品的成本为240元，若按该商品标价的8折出售，利润率是15%，则该商品的标价为\_\_\_\_\_。

- A.276元
- B.331元
- C.345元
- D.360元

解析：

参考答案：C

[解析] 根据题意可知，打8折后的价格为 $240 \times (1+15\%) = 276$ 元，则标价为 $276 \div 0.8 = 345$ 元。故选C。

54、

任何文化作品都具有引导功能，只是引导的方向不同、程度不同。儿童动画是一种特殊的文化作品，其传播对象主要是未成年人这一特殊群体。鉴于未成年人的心性特点，制作方除了要遵守《音像制品管理条例》的规定，还要遵守未成年人权益保护的相关法律法规，要考虑到作品对未成年人行为认知的影响，主动审查、及时提示、修改删减不适宜面向未成年人的情节和画面。

这段文字意在说明\_\_\_\_\_。

- A.儿童动画的传播对象具有特殊性
- B.要充分重视儿童动画的引导功能
- C.儿童动画这一文化作品的特殊性
- D.文化作品的引导功能具有多样性

解析：

参考答案：B

[解析]

文段首先提出不同文化作品的引导方向和程度不同，接着强调了儿童动画这一文化作品及其传播对象的特殊性，进而通过关联词“除了……还要……要……”指出应该如何做，言外之意即告诉人们要对儿童动画的引导功能予以重视。观察四个选项，只有B项符合题意，故本题选B。

55、

某单位要选拔人才下乡挂职，符合条件的候选人有甲、乙、丙、丁、戊、己，人事部门、组织部门和办公室分别提出了自己的要求：

人事部门：丙、丁两人中只能去一人

组织部门：若丁不去，则戊也不能去

办公室：甲、丙和己三人必须留下一个

由此可以推出，能够同时满足三个部门要求的派出方案是\_\_\_\_\_。

- A.甲、乙、己
- B.甲、乙、丙、己
- C.乙、丙、戊
- D.乙、丙、丁、戊

解析：

参考答案：A

[解析]

题干都是肯定的信息，优先考虑使用排除法。题干要求同时满足三个部门给出的信息。办公室：甲、丙和己必须留下一人，即不可都参加，由此排除B；组织部门：—丁→—戊，C项中丁没有去，但戊去了，排除；人事部门：丙、丁两人中只能去一人，D项中国时出现了丙和丁，排除。故选A。

56、

甲追乙，开始追时甲，与乙相距20米，甲跑了45米后，与乙还相距8米，则甲还要跑多少米才能追上乙？

- A.20
- B.45
- C.55
- D.30

解析：

参考答案：D

[解析] 设甲还要跑x米，才能追上乙，则  $\frac{45}{45-20+8} = \frac{x}{x-8}$ ，解得x=30，故正确答案为D。

57、

\_\_\_\_\_对于烹饪相当于\_\_\_\_\_对于小提琴

- A.烹调 大提琴
- B.手艺 乐器
- C.厨师 演奏家
- D.演奏 菜肴

解析：

参考答案：B

[解析]

烹饪是一门手艺，小提琴是一种乐器。C项“演奏家”擅长的可能是钢琴等其他乐器，不一定是小提琴；D项顺序颠倒，且“演奏”的对象应该是“乐曲”。

58、

3, 4, 6, 9, \_\_, 18

- A.12
- B.13
- C.14
- D.15

解析：

参考答案：B

59、



权利和义务的根本区别是：

- A.权利是统治阶级的，义务是被统治阶级的
- B.权利可以放弃，义务不可以放弃
- C.权利不可以放弃，义务可以放弃
- D.权利是与生俱来的，义务是法律强加于人的

解析：

参考答案：B

60、

人口普查是指一个国家或地区在某一特定的时点上，对其境内的人口以及与人口相关的社会、经济、文化等状况进行登记调查，并将所得资料迅速收集、汇总、评价、分析、综合及发表等全过程。

根据上述定义，下列属于进行人口普查的是\_\_。

- A.某煤矿发生重大事故，市领导带领救护人员核查死亡人数及其详细情况
- B.秘鲁政府委托我国登记其难民数量
- C.我国于2000年11月1日对全国进行了建国以来第五次人口普查
- D.乡里进行兵役登记

解析：

参考答案：C

[解析]

A项属于在矿难事故中，有关人员调查核实死亡人数。B项是针对特定的对象即对难民进行的数量登记。D项是依法服兵役进行的登记。只有C项是国家对全国进行的第五次人口普查，故选C。

61、

肝胆相照：勾心斗角：交往

- A.文不加点：一气呵成：写作
- B.凿壁偷光：一曝十寒：学习
- C.不置可否：谈笑风生：态度
- D.画地为牢：豪放不羁：性格

解析：

参考答案：B

[解析]

“肝胆相照”和“勾心斗角”是反义词，并且是交往中的两种状态；B项，“凿壁偷光”形容勤学苦读；“一曝十寒”比喻学习、工作一时勤奋、一时散懒，没有恒心；二者是反义词，并且都是学习中的两种状态。故选B。A项中的“文不加点”与“一气呵成”是近义词。C项中的“不置可否”指不说对也不说不对，“谈笑风生”形容谈话有说有笑，兴致很高，并且很有风趣，二者不是反义词，且谈笑风生不是一种态度。D项“画地为牢”比喻只能在指定范围内活动，不得逾越；“豪放不羁”形容人性情豪迈，不爱拘束，二者不是反义词，

且画地为牢不是性格的一种。

62、

下列属于民族自治地方自治机关的是\_\_。

- A.自治区党委
- B.自治县人民代表大会
- C.民族乡人民政府
- D.自治州人民代表大会常务委员会

解析：

参考答案：B

[解析]

《宪法》第112条：“民族自治地方的自治机关是自治区、自治州、自治县的人民代表大会和人民政府。”故选B。

63、

下列诗句中描写的是我国第一大淡水湖的是\_\_\_\_\_。

- A.八月湖水平
- B.湖光秋月两相和
- C.接天莲叶无穷碧
- D.四顾无边鸟不飞

解析：

参考答案：D

[解析]

我国第一大淡水湖是鄱阳湖。“八月湖水平”出自唐代诗人孟浩然的《望洞庭湖》，描述的是洞庭美景；“湖光秋月两相和”出自唐代诗人刘禹锡的《望洞庭》，也是描写洞庭美景的诗词；“接天莲叶无穷碧”出自南宋诗人杨万里的《晓出净慈寺送林子方》，描绘的是杭州西湖夏季时的美景；“四顾无边鸟不飞”出自唐代诗人韦庄的《泛鄱阳湖》，描写的是鄱阳湖的美景。故本题答案选D。

64、

经济管理体主体，是依据宪法和行政法设立的国家机关，包括根据经济法成立，或依法授权承担一定管理职能的特殊企业或公司等组织。

下列不属于经济管理主体的是\_\_。

- A.中国长江三峡工程开发总公司
- B.中国全国供销合作总社
- C.中国石油天然气总公司

以上内容仅为本文档的试下载部分，为可阅读页数的一半内容。如要下载或阅读全文，请访问：<https://d.book118.com/238030072065006143>