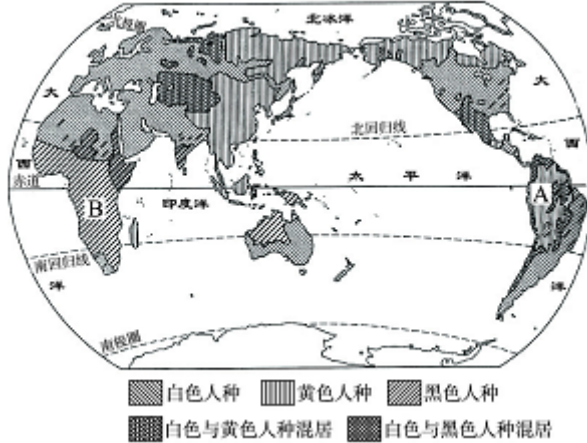




- A. 西亚—白种人—佛教  
 B. 巴西—黄种人—西班牙语  
 C. 美国—白种人—基督教  
 D. 日本—黄种人—汉语
8. 下列不属于世界人口密集地区的是（ ）。
- A. 亚洲东部  
 B. 欧洲西部  
 C. 南美洲北部  
 D. 北美洲东部
- 读“世界人种分布图”，完成第9~10题。



9. 由图可知，下列说法正确的是（ ）。
- A. 西欧是白色人种与黄色人种的混居地区  
 B. 黑色人种只分布在非洲  
 C. 西亚的人种主要是白色人种  
 D. 北美的人种只有白色人种
10. 关于图中A和B所在地区居民构成的说法，错误的是（ ）。
- A. A处居民为黄色人种，属于因纽特人  
 B. A处居民为黄色人种，属于印第安人  
 C. B处居民为黑色人种，这里是黑色人种的“故乡”  
 D. B处居民为黑色人种，美国的黑色人种是通过奴隶贸易贩卖过去的
11. 下列地区属于人口稀疏地区的是（ ）。
- ①西伯利亚 ②我国东南部沿海 ③加拿大 ④阿拉伯半岛 ⑤欧洲西部  
 ⑥亚马孙平原
- A. ①②③④  
 B. ②③④⑤  
 C. ①③④⑥  
 D. ③④⑤⑥
12. 乡村人口迁往城市的原因中错误的是（ ）。
- A. 经济水平提高，乡村有剩余劳动力  
 B. 人口增长太快，乡村居住不下  
 C. 城里有更多更好的发展机会  
 D. 城里教育、医疗、生活条件好
13. 亚洲西部、非洲北部的许多国家使用的语言主要是（ ）。
- A. 西班牙语  
 B. 阿拉伯语  
 C. 法语  
 D. 英语
14. 梅西是阿根廷足球运动员，因脚法出众，被称为“新马拉多纳”，是当今世界足坛最杰出的足球运动员之一，关于他使用的语言和信仰的宗教的说法，正确的是（ ）。
- A. 西班牙语、基督教  
 B. 英语、基督教  
 C. 葡萄牙语、基督教  
 D. 西班牙语、伊斯兰教
15. 鉴真（如图）东渡是宗教传播中的一段佳话，也促进了我国和日本文化的交流，其传播的宗教是（ ）。



鉴真

- A. 佛教
  - B. 基督教
  - C. 伊斯兰教
  - D. 道教
16. 世界上适合人类居住的地区一般分布在（ ）。
- A. 气候湿热的平原地区
  - B. 温带湿润的平原地区
  - C. 气候凉爽的高原山区
  - D. 世界著名的平原地区，如亚马孙平原
17. 奥巴马是美国总统，奥巴马为世界哪一人种？（ ）
- A. 黑种人
  - B. 白种人
  - C. 黄种人
  - D. 混血人种
18. 某地区房屋墙体厚实，屋内建有火炕，窗小且装有双层玻璃。这种民居建筑主要分布在什么地区？（ ）
- A. 炎热多雨地区
  - B. 寒冷多雪地区
  - C. 温暖多雨地区
  - D. 干旱缺水地区
19. 下列不属于目前人类面临的主要人口问题的是（ ）。
- A. 人口数量增长过快
  - B. 城市人口无计划地膨胀
  - C. 人口受教育程度不断提高
  - D. 人口老龄化越来越严重
20. “肤色黝黑，头发卷曲，嘴唇较厚，体毛很少”这是对哪一人种的描述？该人种主要集中分布在哪儿？（ ）
- A. 白色人种—欧洲
  - B. 黑色人种—非洲
  - C. 黄色人种—亚洲
  - D. 黑色人种—南极洲
21. 小雪想去英国留学，她首先应该过好的语言关是（ ）。
- A. 俄语
  - B. 英语
  - C. 法语
  - D. 阿拉伯语

九江市是一座美丽和古老的城市，古称“浔阳城”，读“九江市所处区域地图及景观图”，完成第22~23题。



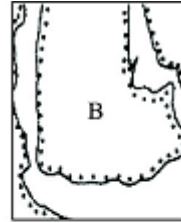
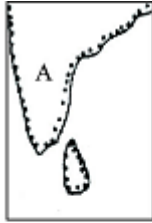
22. 九江之所以很早就成为一个城市，主要得益于（ ）。
- A. 终年炎热多雨的气候
  - B. 有山有水，风光秀美
  - C. 拥有广阔茂密的森林
  - D. 临近长江，水运便利
23. 烟水亭是九江市著名的古代建筑景观，对这些建筑我们应该（ ）。
- A. 加以改造，使之变得更为现代
  - B. 为了防洪，干脆毁掉铲平
  - C. 重点加以保护
  - D. 不断加大其旅游功能的开发与利用
24. 衡量一个国家或地区人口分布是否合理，人口密度是否适当，要看（ ）。
- A. 城市人口数量
  - B. 人口的增长率和死亡率的关系
  - C. 人口与资源、环境的协调程度
  - D. 人口数量
25. 下列关于世界三大宗教以及典型建筑和分布地区的组合，正确的是（ ）。
- A. 基督教—教堂—亚洲
  - B. 伊斯兰教—清真寺—非洲

C. 佛教—寺庙—亚洲东南部

D. 基督教—清真寺—欧洲

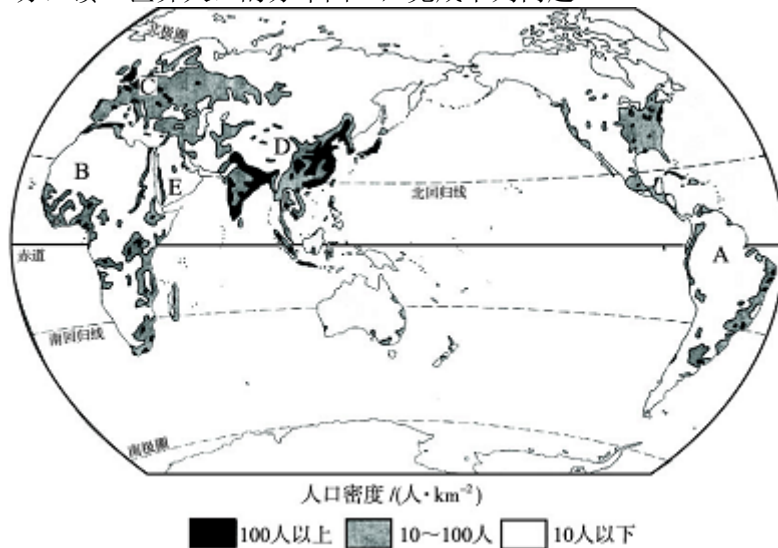
二、综合题（共50分）

26. （10分）读“亚洲南部的三大半岛图”，并完成下列问题。



- (1) 图中A所在的是印度半岛，这里分布着\_\_\_\_\_（人种），三大宗教中的\_\_\_\_\_教产生于此地。人们用英语进行交流与沟通。
- (2) 图中B所在的是\_\_\_\_\_半岛，分布着白种人，人们用\_\_\_\_\_语进行交流与沟通。\_\_\_\_\_教创始于此，\_\_\_\_\_是这里的宗教建筑物。
- (3) 图中C所在的是中南半岛，分布着\_\_\_\_\_人种，人们大多信仰\_\_\_\_\_教。
- (4) 图中D所用的语言是\_\_\_\_\_，她属\_\_\_\_\_人种，该语言和人种主要分布的地区是非洲北部和西亚。

27. （16分）读“世界人口的分布图”，完成下列问题。



- (1) 世界人口的分布很不均匀，其中人口最稠密的四个地区是\_\_\_\_\_、\_\_\_\_\_、\_\_\_\_\_、\_\_\_\_\_；四地的共性：海陆位置方面，\_\_\_\_\_，气候方面，\_\_\_\_\_，地形方面，\_\_\_\_\_。
- (2) 图中A、B两地，人口\_\_\_\_\_（“稠密”或“稀疏”）。
- (3) 有的地方人口稠密，有的地方人口稀疏，能否用人口迁移的方式使人口分布均匀？为什么？
- (4) 图中C地所处大洲的人口密度\_\_\_\_\_（“大”或“小”）。
- (5) 图中B地所处大洲的人口自然增长率\_\_\_\_\_（“高”或“低”）。
- (6) C地居民主要信仰的宗教是\_\_\_\_\_。D位于人口最\_\_\_\_\_的国家，E地居民主要信仰\_\_\_\_\_教，官方语言主要是\_\_\_\_\_。

28. （8分）读“世界三大宗教建筑物图”，完成下列问题。



(1) 图A是\_\_\_\_\_教(宗教)的建筑物。该宗教的教徒被称为\_\_\_\_\_, 该宗教起源于\_\_\_\_\_。

(2) 图B是\_\_\_\_\_教(宗教)的建筑物。该宗教主要分布在\_\_\_\_\_洲、美洲和大洋洲。

(3) 图C是\_\_\_\_\_教(宗教)的建筑物。该宗教起源于\_\_\_\_\_ (国家), 现在主要分布在\_\_\_\_\_洲(大洲)的东部和东南部。

29. (16分) 读下面“不同地区的乡村聚落景观图”, 完成下列问题。



图A



图A



图B



图B

(1) 图A所示民居是我国\_\_\_\_\_高原上的\_\_\_\_\_; 而图B所示民居是我国\_\_\_\_\_ (“北方”或“南方”)的一种民居。

(2) 分析图A所示民居的特点是\_\_\_\_\_, 与当地环境的关系是\_\_\_\_\_。

(3) 简单说说图B所示民居的显著特点: \_\_\_\_\_。之所以具有这样的特点, 是因为当地\_\_\_\_\_。

(4) 通过上面的两幅图说明, 各地的乡村聚落有明显的差异, 主要原因是\_\_\_\_\_。

## 参考答案

1. A 2. D

3. D 4. C

解析：第3题，人口自然增长率等于人口出生率减去人口死亡率。第4题，人口增长和人口密度没有必然联系。欧洲人口增长最慢，非洲人口增长最快，亚洲人口最多。

5. A

解析：由于我国沿海和内陆地区经济差别大，沿海地区就业机会多、生活条件好，出现了流向沿海的“民工潮”，也给所在城市带来许多问题。

6. A 解析：①图是佛教寺庙，②图是伊斯兰教的清真寺。

7. C 解析：西亚主要信仰伊斯兰教，巴西通用葡萄牙语，日本使用日语。

8. C 解析：南美洲北部虽然是平原，但由于湿热而人口稀疏。

9. C 10. A

解析：第9题，西欧地区主要是白色人种；黑色人种主要分布在非洲，美洲和大洋洲也有黑色人种分布；北美也有黄色人种。第10题，A处是黄色人种，属于印第安人。

11. C

解析：西伯利亚和加拿大过于寒冷，阿拉伯半岛气候干旱，亚马孙平原过于潮湿，这些地区人口稀疏。

12. B 解析：乡村人口分布较城市稀疏，不可能住不下。

13. B 解析：亚洲西部和非洲的北部主要使用阿拉伯语。

14. A 解析：阿根廷位于拉丁美洲，使用西班牙语，信仰基督教。

15. A 解析：读图可知，鉴真传播的是佛教。

16. B

解析：适合人类居住的是自然条件优越的地区，一般是地形平坦、气候温暖湿润的地区。

17. A

18. B 解析：墙厚、窗小、有火炕，都是为了保暖御寒。

19. C 解析：人口受教育程度提高是社会发展的必然趋势，不属于人口问题。

20. B 解析：“肤色黝黑”是黑种人的特征，主要分布在非洲。

21. B

22. D 23. C

解析：第22题，聚落发展的重要条件之一是交通便利。第23题，对于具有代表性的古代建筑应该加以保护，不能盲目开发。

24. C 解析：人口增长应该与社会经济发展相适应，与资源、环境相协调。

25. C

解析：基督教主要分布在欧洲、美洲和大洋洲，伊斯兰教分布在非洲北部和东部、亚洲西部和东南部。

26. 答案：（1）白种人和黑种人 佛

（2）阿拉伯 阿拉伯 伊斯兰 清真寺

（3）黄色 佛

（4）阿拉伯语 白色

解析：该题以区域图、人物图为背景材料，综合考查人种的分布、特征、衣着服饰、语言的分布地区、宗教信仰以及宗教景观。

问题解决的关键是要读图，要会根据图中海陆分布及轮廓确定区域的名称。

27. 答案：（1）亚洲东部 亚洲南部 欧洲 北美洲东部 近海，交通方便  
气候温暖湿润 地形平坦

（2）稀疏

（3）不能。因为有的地区不适合人类居住。

（4）大

（5）高

（6）基督教 多 伊斯兰 阿拉伯语

解析：人口密度在很大程度上取决于自然环境的好坏。地形平坦、气候适宜、水源充足、交通方便的地方人口密度就大。相反，不适合人类居住、生产、发展的地方人口密度就小。B是撒哈拉沙漠，A是亚马孙热带雨林，人口稀疏。C是欧洲西部，为温带海洋性气候，气候适宜，人口密度大，居民多信奉基督教。D位于中国。E为沙特阿拉伯，居民多信奉伊斯兰教，通用阿拉伯语。

28. 答案：(1) 伊斯兰 穆斯林 阿拉伯半岛  
 (2) 基督 欧  
 (3) 佛 古印度 亚

解析：从图中可以看出：图A为圆顶，应是伊斯兰教的建筑物。信仰伊斯兰教的人被称为穆斯林，该宗教起源于阿拉伯半岛。图B为基督教的教堂，一般有十字架，该宗教主要分布在欧洲、美洲和大洋洲。图C为佛教的建筑物佛塔。佛教起源于古印度，主要分布在亚洲的东部和东南部。

29. 解析及答案：

(1)	黄土 窑洞 南方	图A是在黄土高原上挖的窑洞；图B是河湖众多的水乡，应该是我国的南方民居
(2)	直接在山坡上开挖，建筑简单，冬暖夏凉 黄土具有直立性，不容易倒塌；气候干燥	窑洞是黄土高原地区的传统民居，主要是利用黄土的直立性，在山坡上开挖，建造简单，并且冬暖夏凉，非常实用
(3)	房屋高大，屋顶坡度大 夏季高温多雨	聚落的建筑特点要符合当地自然环境的特征，我国南方地区夏季高温多雨，因此房屋高大，便于通风散热，屋顶坡度大，便于雨水下泄
(4)	各地自然环境和社会经济发展差异很大	聚落的发展和分布，和当地的自然环境以及经济发展密切相关，这一点主要表现在乡村聚落上


### 一、选择题

- 某研究性学习小组对某市某自然村2010年度的人口进行调查，经统计，该村年初总人口为6 000人，当年出生72人，死亡12人，该村2009年度的人口自然增长率是( )  
 A. 1.2%      B. 0.2%      C. 1.0%      D. 0.4%
- 人口增长过快带来的问题是( )  
 A. 耕地开垦加快，粮食供应改善      B. 耕地减少，森林破坏，环境恶化  
 C. 劳动力增加，促进世界经济发展      D. 人口大量流入城市，生活水平迅速提高
- 下列关于人口增长与分布的叙述，正确的是( )  
 A. 人口密度大的地区的自然增长率也大  
 B. 用人口密度大小表示人口疏密程度  
 C. 人口自然增长率下降，必然导致人口密度减小  
 D. 人口自然增长率大的地区，城市、工业和交通都较发达
- 下列关于解决人口问题的措施，正确的是( )  
 A. 所有国家和地区都应采取经济鼓励、教育普及等方法控制人口的增长  
 B. 所有国家和地区都应该提倡一对夫妻只生一个孩子  
 C. 法国、俄罗斯等国家鼓励生育，不利于控制世界人口的增长速度  
 D. 不同国家采取的人口政策各不相同
- 有关人种的叙述，正确的是( )  
 A. 发达国家主要是白色人种，因为白种人最聪明

- B. 区别人种主要是根据人的生活习惯的差异
- C. 日本经济增长速度快，是因为日本人所属的黄种人最优秀
- D. 将人种分为“高等”和“低等”是种族歧视的表现，应坚决反对

右图表示四个国家的人口出生率和死亡率，分析回答14~16题。

- 6、人口自然增长率最高的是( )
  - A. ①
  - B. ②
  - C. ③
  - D. ④
- 7、四国人口中出现负增长的是( )
  - A. ①
  - B. ②
  - C. ③
  - D. ④
- 8、①国最有可能在( )
  - A. 欧洲
  - B. 北美洲
  - C. 亚洲
  - D. 非洲



- 9、右面漫画反映的主题是( )
  - A. 从世界范围看，人口增长速度过快、过多
  - B. 世界资源数量能够满足人类的需要
  - C. 人口的增长与环境、资源互相协调
  - D. 人口增长过快导致资源消耗过度，资源短缺



- 10、. 2008年北京奥运会前，北京市掀起了学习英语的热潮，其主要原因是( )
  - A. 英语是世界上使用人数最多的语言
  - B. 英语是世界上使用最广泛的语言
  - C. 英语是联合国的唯一工作语言
  - D. 英国参加2008奥运会的运动员最多
- 11、世界上使用人数最多的语言是( )
  - A. 法语
  - B. 俄语
  - C. 汉语
  - D. 阿拉伯语
- 12、下列建筑分别代表的宗教是( )



- A. 伊斯兰教、佛教、基督教
- B. 佛教、基督教、伊斯兰教
- C. 基督教、伊斯兰教、佛教
- D. 基督教、佛教、伊斯兰教

13、被基督教、伊斯兰教、犹太教视作圣城的是( )

- A. 麦加
- B. 麦地那
- C. 开罗
- D. 耶路撒冷

14、以下现象与佛教有关的是( )

- A. 玛丽上个星期随妈妈去教堂做了一次礼拜
- B. 丰山亭大雄宝殿前人山人海，香烟缭绕
- C. 学校附近有家回民面馆，专卖牛肉面
- D. 清真寺门口今天聚集了很多戴着白帽子的人

15、关于聚落的发展变化，下列认识中不正确的一项是( )

- A. 保护好聚落中有价值的纪念地
- B. 保护好有价值的建筑群和遗址
- C. 处理好聚落发展与保护的关系
- D. 遗址没有实用价值，应拆旧盖新

16、下列有关气候与生产、生活关系密切的事例中，你认为符合实际的是( )

- A. 东南亚的房屋多平顶，墙壁厚，窗子小
- B. 长春冬天寒冷，人们喜欢吃火锅
- C. 雨衣在新教吐鲁番盆地销售量很好
- D. 印度人穿着厚厚的羽绒服看球赛

17、下列条件中，有利于聚落形成与发展的自然条件是( )



- A. 地形崎岖，气候寒冷      B. 水源充足，土壤肥沃  
 C. 资源贫乏，气候干旱      D. 水源匮乏，地形崎岖
- 18、下列关于乡村聚落和城市聚落的对比，不正确的是(      )

- A. 乡村聚落的居民以农业为主要经济活动形式  
 B. 乡村聚落有农村、牧村、渔村、林场等不同类型  
 C. 城市聚落居民主要从事工业、服务业等工作  
 D. 城市聚落有住宅、学校、医院、影院，而乡村聚落没有

19、“蓝蓝的天上白云飘，白云下面马儿跑。挥动着鞭儿响四方，百鸟齐歌唱。”这首歌描述的乡村聚落类型是(      )

- A. 农村      B. 牧村      C. 渔村      D. 林场

20、有关聚落与环境的关系，叙述正确的是(      )


- A. 早期的聚落大都选择在经济发达的地点  
 B. 河流中下游的平原地区有利于聚落的形成  
 C. 自然环境的差异并不影响聚落民居的建筑风格  
 D. 热带沙漠地区的房屋一般墙薄窗户大，有利于散热

二、综合题

21、读“世界人口增长示意图”，回答下列问题。

(1)据图计算从1830年到1999年每增长10亿人口所需的时间，并将其填在表中。

人口 / 亿	每增长10亿所需时间 / 年	反映的规律
10~20		
20~30		
30~40		
40~50		
50~60		



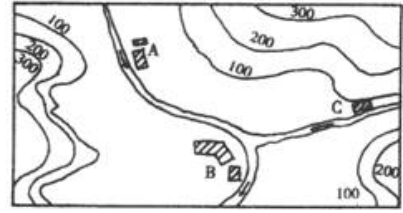
(2)20世纪50年代—70年代末，人口迅猛增长的原因是\_\_\_\_\_，80年代后人口年增长率逐渐降低，但每年净增人口仍然高达8 000万，这是因为\_\_\_\_\_。

(3)人口自然增长率= \_\_\_\_\_ - \_\_\_\_\_。当人口自然增长率<0时，表示人口数量 \_\_\_\_\_。

22、读右图，回答下列各题。

(1)聚落可以分为乡村和城市两大类，按照这种划分，图中A、B、C三处聚落属于 \_\_\_\_\_ 聚落，三处聚落的选址从交通因素分析，共同点是\_\_\_\_\_。

(2) A、B、C三地最可能优先发展为城市的是\_\_\_\_\_，理由是\_\_\_\_\_



(3) 聚落附近森林资源丰富，如果在C处建立一造纸厂是否合理？为什么？

答案：

一、选择题

1、C 2、B 3、B 4、D 5、D 6、C 7、A 8、A 9、D 10、B  
11、C 12、C 13、D 14、B 15、D 16、B 17、B 18、D 19、B 20、B

二、综合题

39、(1)

100	世界人口增长
30	
15	
12	
12	越来越快

(2) 生产力水平进一步得到提高，世界经济发展迅速 人口基数很大

(3) 人口出生率 人口死亡率 减少

40、(1) 乡村沿河分布，地势平坦

(2) B 该地处在两条河交汇处，交通便利，有利于人和物资的集散

(3) 不合理 因C地处于河流上游，造纸厂会给下游地区带来污染

以上内容仅为本文档的试下载部分，为可阅读页数的一半内容

。如要下载或阅读全文，请访问：<https://d.book118.com/238>

[113022142006104](https://d.book118.com/238)