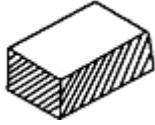


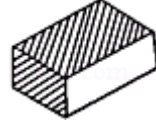
A.

B.

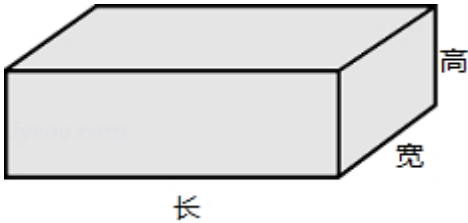


C.

D.



6. 一个长方体的棱长之和是 720cm ，左面图形的周长是 180cm ，前面图形的周长是 260cm ，它的长、宽、高是 () cm .



A. 50、90、40

B. 90、50、40

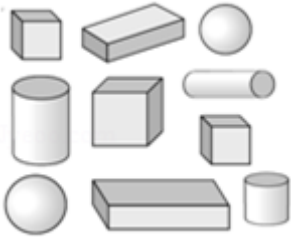
C. 60、40、90

D. 90、40、50

二、填空题 (每小题 4 分, 共 48 分)

7. 认一认, 数一数, 填一填.

长方体有 ___ 个, 正方体有 ___ 个, 圆柱有 ___ 个, 球有 ___ 个.



8. 一根长 48cm 的铁丝焊接成一个宽 4cm , 高 3cm 的长方体, 这个长方体的长是 ___ cm .

9. 一个正方体的棱长是 4 米, 这个正方体所有的棱长和是 ___ 米, 表面积是 ___ 平方米, 体积是 ___ 立方米.

10. 制作一个棱长为 3dm 的正方体框架, 共需要铁丝 ___ dm , 如果把它六个面都贴上彩纸, 至少需要彩纸 ___ dm^2 .

11. 一个长方体的棱长总和是 104 厘米, 那么这个长方体相交于一个顶点的三条棱的长度之和是 ___ 厘米.

12. 下面图形折叠后, 哪些能围成长方体? 哪些能围成正方体?

以上内容仅为本文档的试下载部分，为可阅读页数的一半内容。如要
下载或阅读全文，请访问：

<https://d.book118.com/245023323233011214>