

一年级下册数学解决问题 100 道

一. 解答题(共 100 题, 共 534 分)

1. 操场上原来有 10 个小朋友做游戏, 后来走了 4 人, 又来了 7 人。这时有多少个小朋友做游戏?
2. 小兰每天要写 16 个毛笔字, 背 2 首古诗, 今天她已经写了 9 个毛笔字, 还要写多少个毛笔字才能完成任务?
3. 停车场原来有 17 辆汽车, 现在只有 9 辆, 开走了几辆?
4. 小红有 12 个玩具, 给了小明 4 个, 小红自己还剩下多少个?
5. 看图回答。



6. 一把雨伞 16 元, 可以怎样付钱? 请写出两种付钱方法。
7. 小虎和小猴读书。



小虎比小猴多读多少页？

8. 学校体育室有足球 21 个，一年级借走 8 个，还剩下多少个足球没被借走？

9. 小红借给李军 10 本练习本，又借给王思 8 本练习本，共借出多少本？

10. 爸爸、妈妈、王明和 62 岁的奶奶到森林公园游玩，门票价格是：成人每张 5 元，儿童半价，60 岁的上老人凭老年证免票，他们购门票共用多少钱？

11. 一盒水彩笔 12 元，一个调色盘 4 元，买这两样需要多少钱？我付给售货员 20 元，还要找回多少元？

12. 一本  共 46 页，小红看了 40 页，还剩多少页没看？

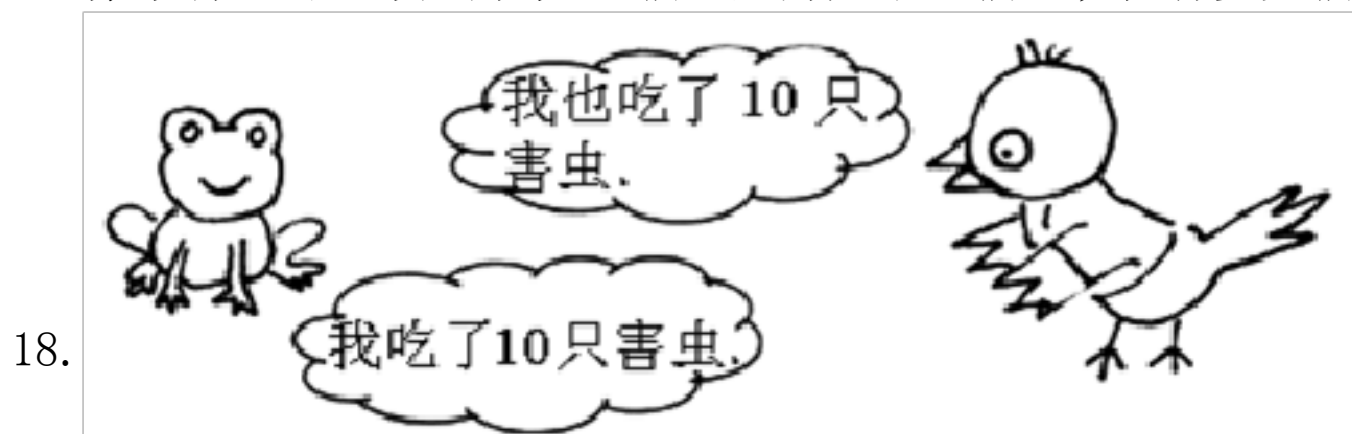
13. 一年级三班有男生 30 人，女生和男生的人数相同，这个班一共有多少人？

14. 有 20 名运动员和 6 名教练，一箱矿泉水共有 24，每人 1 瓶，够吗？

15. 果园里有桃树 16 棵，梨树 7 棵，果园里的梨树比桃树少几棵？

16. 小伟有 2 元 3 角钱，买了 1 本书用去 2 元，还剩多少钱？

17. 停车场上的汽车先开来 18 辆，又开走了 9 辆，现在有多少辆？



它们一共吃了多少只害虫？

19. 原来有 17 个气球，被吹走的 8 个，还剩下多少个？

20. 圆珠笔每支 2 元，钢笔每支 4 元，墨水每瓶 3 元，尺子每把 1.9 元。用 10 元钱买东西：

(1) 可以买 () 支圆珠笔。

(2) 可买 3 支钢笔还少 () 元。

(3) 买 2 瓶墨水可以找回 () 元。

(4) 请你估计一下，大约可以买 () 把尺子。

(5) 1 支钢笔的价钱比买 2 把尺子的钱多 () 角。

21. 小红做了多少面小旗？



22. 小兰、明明、佳佳看一本相同的书。



(1) 这本书有多少页？

(2) 小兰和明明一共看了多少页？

(3) 佳佳从头开始看这本书，第一天看了14页，第二天看了20页。她第三天要从第几页看起？

23. 全班一共有多少人？



24. 七巧板由 7 个图形构成，请观察一下组成七巧板的七个图形里最多的是什么图形？



25. 逛超市。



(1) 买①和④玩具一共需要多少元？

(2) 你还能提出其他什么数学问题，并列式解答。

26. 想一想。



还需要几把椅子才能全部配成套? _____ = _____

27. 妈妈有 100 元钱，要买一套衣服，可以怎么买?



28. 丽丽家里来客人了，妈妈拿出 12 个碗，9 双筷子。勤快的丽丽帮妈妈摆放这些碗筷，一个碗上放一双筷子，还差多少双筷子?

29. 一（2）班同学共折花 58 朵，男生折 30 朵，女生折多少朵?

30. 小青要练习写 16 个毛笔字，还剩下 8 个字没有写，他已经写了几个字?

31. 动物园里有 13 只狮子，老虎比狮子少 4 只。谁多谁少? 有几只老虎?

32. 请提出问题，并解答。



33.



(1) 唱歌的和拉琴的一共有多少人?

$$\square \bigcirc \square = \square \text{ (人)}$$

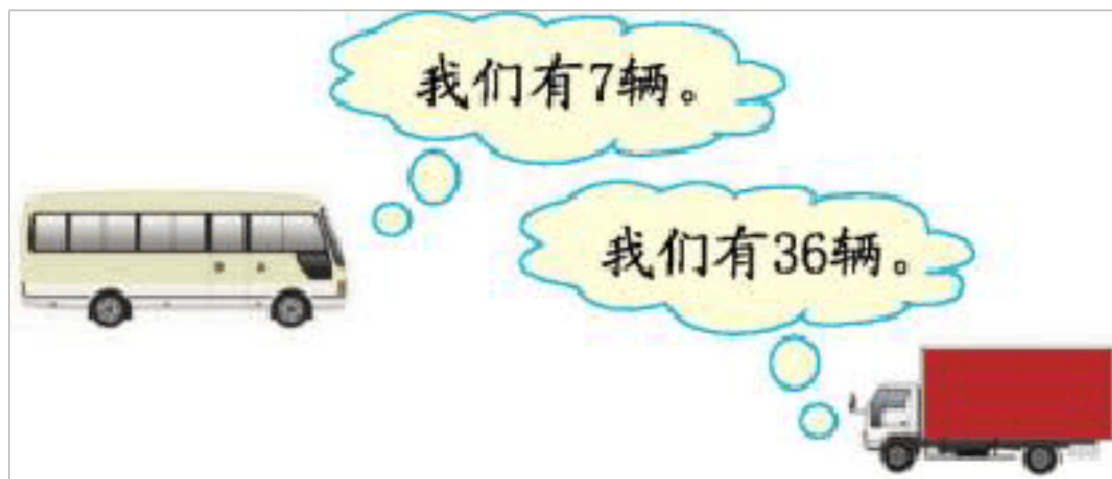
(2) 打鼓的有几人?

$$\square \bigcirc \square = \square \text{ (人)}$$

(3) 你还能提出什么数学问题? 并解答。

34. 有大汽车 32 辆, 小汽车比大汽车少 8 辆。小汽车有多少辆。

35. 货车比客车多多少辆?



36. 花花带了 56 元钱买了一个  , 用去 20 元, 应找回多少元?


37. 卖了 16 盆鲜花，还剩  盆，原来一共有多少盆花？



(1) 小光比小明大几岁？

(2) 小光比小丽大几岁？

39. 一共有 12 人去游玩，到了 9 人，还有几人没到？



列式：□○□=□（人）



(1) 有 30 元钱，买 3 盒巧克力够吗？

(2) 有 10 元钱，买一块蛋糕和一袋薯片够不够？

41. 一件背心 7 元，一条短裤 4 元，妈妈只带了 5 元，买这两样东西还差多少元？

42. 杏树有 23 棵，梨树比杏树多 7 棵。梨树有多少棵？



43. 草地上有 12 只绵羊和 8 只山羊，山羊比绵羊少几只？

44. 一辆公交车上原来有 15 人，下去了 7 人，又上来 5 人，车上现在有多少人？

45. 看图回答。




(1) 买 1 支铅笔和 1 本书一共花_____钱。

(2) 上衣比雨伞贵_____元。

(3) 红红有 10 元钱，要买一本书，应找回_____钱。

(4) 你能自己提出一些数学问题并解答吗？

46. 小丽要做 12 个五角星，做好了 7 个，还要做多少个？
 47. 小丽植了 14 棵树，小文植了 7 棵树，小丽比小文多植多少棵树？小文比小丽少植了多少棵树？
 48. 阅览室中的数学问题。



(1) 小刚看了多少页？

_____ = _____ (页)

(2) 小兰看了多少页？

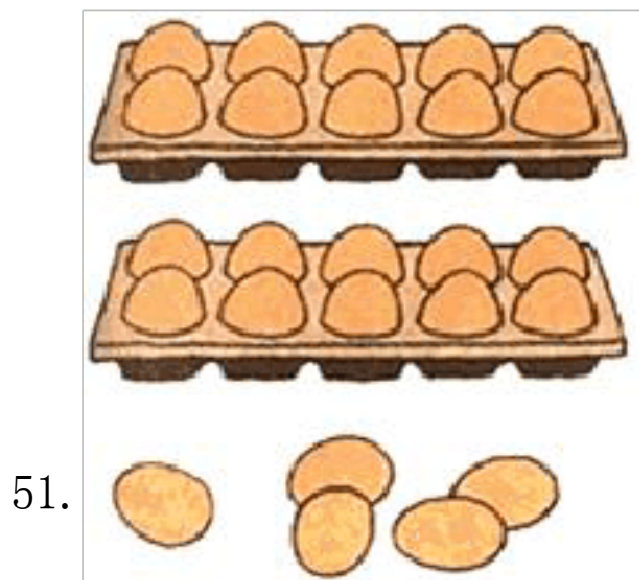
_____ = _____ (页)

(3) 你还能提出什么问题？把提出的问题写在下面，并解答出来。

提出的问题：_____？

49. 果园里有苹果树 40 棵，桃树 30 棵，梨树和桃树同样多。果园里有果树一共多少棵？

50. 小雨和小雪共画了 12 朵花，小雨画了 8 朵，小雪画了几朵？




51.

小胖的母亲烧完晚饭后剩下 21 只蛋，她用去了 4 只蛋。她一共买了多少只蛋？


52. 小明有 18 枝彩色笔，小刚借走了 9 支，小明还有几支？

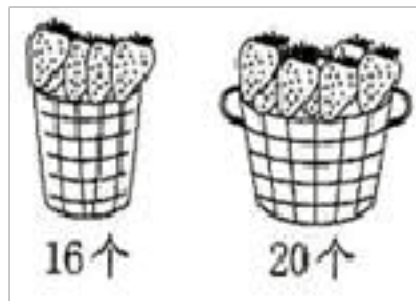
53. 草地上，有 12 头老牛和 5 头小牛在吃草。



(1) 一共有多少头牛？

(2) 老牛比小牛多几头？

54. 幼儿园小班一共有 40 个小朋友，每人发 1 个 ，够不够？




55. 小林要看一本 100 页的故事书，第一天看了 15 页，第二天看了 20 页，第三天小明要从第几页开始看起？

56. 小明家养了母鸡 15 只，公鸡 8 只，小明家的公鸡比母鸡少几只？

57. 草地上原有 10 只小白兔，跑了 3 只，又来了 2 只。草地上现在有多少只小白兔？
58. 小明家养了 76 只黑兔，养的白兔比黑兔多 8 只，白兔有多少只？
59. 小灰摘了 10 个松果，小黑摘了 8 个松果，小灰比小黑多摘了几个松果？
60. 窝里有 13 只鸽子，飞走了 9 支，请问还剩下多少只？
61. 原来草地上有 12 只兔子，现在还有 3 只，跑了几只？

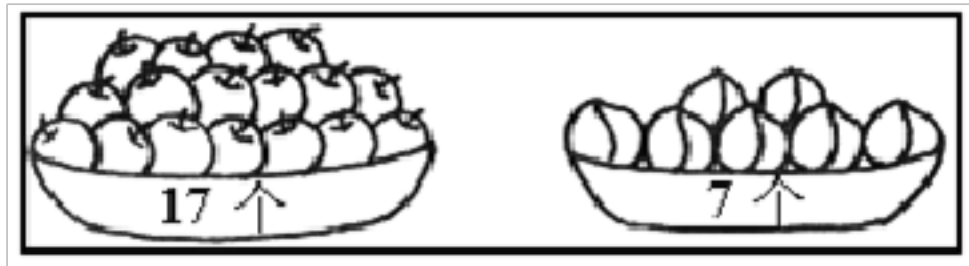


62. 这本书一共有多少页？



$$\square \bigcirc \square = \square \text{ (页)}$$

63. 比一比。



两种水果相差多少个？

$$\underline{\quad} - \underline{\quad} = \underline{\quad} \text{ ()}$$

64. 回答下面的问题。

以上内容仅为本文档的试下载部分，为可阅读页数的一半内容。如要下载或阅读全文，请访问：<https://d.book118.com/245031321101012010>