


# 第7单元综合素质达标



一、我聪明，我会填。(每空1分，共21分)

1. 钟面上有( **12** )个大格，( **60** )个小格；  
时针走1大格是( **1** )时，走1圈是( **12** )时；  
分针走1小格是( **1** )分，走1大格是( **5** )分。



2. 1 时=( 60 )分 半小时=( 30 )分 一刻钟=( 15 )分

3.(1)钟面上分针从“12”走到“4”，走了( )分。20

(2)钟面上时针从“12”走到“4”，走了( )时。4

(3)钟面上分针从“2”走到“8”，走了( )分。30

(4)钟面上时针从“1”绕了一圈又走回“1”，走了( )时。12

4. 在○里填上“>”“<”或“=”。

1 时  $\circ$  10 分

1 刻  $\circ$  10 分

半小时  $\circ$  60 分

5. 9 时，分针指向( 12 )；9 时半，分针指向( 6 )。

6. “天宫课堂”第四课下午 3 : 45 开讲，右面钟面所显示的时刻，距离“天宫课堂”开讲还有( 25 )分钟。



7. 下面是蓝蓝和典典的到校时间，( **典典** )先到学校。



蓝蓝






典典

8. 聪聪星期六上午踢足球，他已经踢了45分钟，再踢( )分15

二、我自信，我会选。(把正确答案的序号填在括号里)

(每题3分，共15分)

1. 下面哪个钟表所表示的时间是错误的？( ② )。



2. 现在是晚上8:00, 5分前是( ① )。

①



②



③





3. 华华每天中午睡40( ② )。

①时

②分

③厘米、

4. 时针在7 和8 之间，分针指着9，这时的时刻是( ① )。

① 7 : 45

② 8 : 45

③ 8 : 09

以上内容仅为本文档的试下载部分，为可阅读页数的一半内容。如要下载或阅读全文，请访问：  
<https://d.book118.com/248115124116006110>