

# 2024年03月山西吕梁文水县教科系统校园招考聘用笔

## 试历年典型考题与考点剖析含答案详解

(图片大小可自由调整)

### 一、单项选择题(共125题)

1、

从10双不同的鞋子中任取8只，若取出的鞋子中没有成对的，那么共有多少种不同的取法?\_

- A.45
- B.2300
- C.12500
- D.11520

解析：

参考答案：D

第一步，从10双鞋子中取出8只，有  $C_{10}^8$  种方法。

第二步，从选出的8双鞋子中每双拿出1只，有  $2^8$  种方法。

由乘法原理得：从10双鞋子中取出8只，且都不成对的方法总数有  $C_{10}^8 \times 2^8$  种。

$$\begin{aligned} C_{10}^8 \times 2^8 &= \frac{10!}{8! (10-8)!} \times 2^8 \\ &= \frac{10 \times 9 \times \dots \times 2 \times 1}{8 \times 7 \times \dots \times 2 \times 1 \times 2 \times 1} \times 2^8 \\ &= 45 \times 2^8 \\ &= 11520 \end{aligned}$$

故从10双鞋子中取出8只，且都不成对的方法总数是11520种。

2、

最低工资，指劳动者在法定工作时间或依法签订的劳动合同约定的工作时间内提供了正常劳动的前提下，用人单位依法应支付的最低劳动报酬。

根据定义，下列属于最低工资范畴的是：

- A.李师傅是山西一煤矿工人，每天都在井下作业，根据国家的政策规定，他每个月可以领取相应的井下作业的特殊工作环境津贴
- B.由于公司人员紧缺，国庆长假期间某商场的员工都未放假，公司支付给每位员工每天100元的加班费

C.小王到福利院义务为王大爷干了一天活，王大爷坚持要支付给小王当地1天最低工资的费用

D.某市工资标准政策由574元调升至690元，送奶工人张师傅脸上乐开了花，随着当地生活水平的增长，提高了工资待遇才能保障他的基本生活

解析：

参考答案：D

【解析】

最低工资的定义要点是：①法定工作时间；②用人单位依法应支付的最低劳动报酬。A、B两项都不符合要点②；C项不符合要点①②；D项符合定义。故答案选D。

3、

群众的眼睛是雪亮的。但如果缺乏足够的引导和约束，这种“雪亮”有可能变成一种偏执，一种自负，群众评议就有可能走进片面和褊狭的陷阱中。上级评议，工作人员面对的是“一个人”，公众评议，工作人员面对的是“一群人”，只有在“顶天”的压力和“立地”的责任互相补充下才能真正起到避免“一个人”的片面和“一群人”的片面。

这段文字的主旨是\_。

- A.怎样对工作人员进行有效监督
- B.怎样在群众和上级间达到平衡
- C.质疑群众评议的合理性
- D.群众的意志需要合理的引导和约束

解析：

参考答案：A

【解析】

文段前两句在说群众对于官员的监督是可能存在误区的，由此推导出(第三句和最后一句)：只有把群众评议和上级评议结合起来，才能保证评议的合理性和真实性。由此可见，题干主要表达的意思是怎样才能对官员进行有效的监督。故选A。

4、

一飞机上的座位分成两部分：头等舱50个座位；普通舱150个座位。如果20%的头等舱和30%的普通舱的座位是空的，那么整个飞机的座位空置率是()

- A.20.5%
- B.25.5%
- C.27.5%
- D.40.5%

解析：

参考答案：C

5、

0, -1, \_\_, 7, 28

- A.2
- B.3
- C.4
- D.5

解析：

参考答案：A

[解析] 各项分别为 $(-1)^3+1$ ,  $0^3-1$ ,  $(1^3+1)$ ,  $2^3-1$ ,  $3^3+1$ 。

6、

刚性需求，是相对于弹性需求而言，指商品供求关系中受价格影响较小的需求，具有刚性需求的商品多是生活的必需品，且不具备可替代性。

根据上述定义，下列不属于刚性需求的商品是：

- A.水果
- B.大米
- C.食盐
- D.自来水

解析：

参考答案：A

[解析] 刚性需求的商品特点是生活必需品，不具备可替代性。A项水果并非生活必需品，不满足定义特点；B、C、D三项均为生活必需品。因此选A。

7、

根据香港特别行政区基本法和澳门特别行政区基本法，下列有关特别行政区立法权的表述哪一项是不正确的？

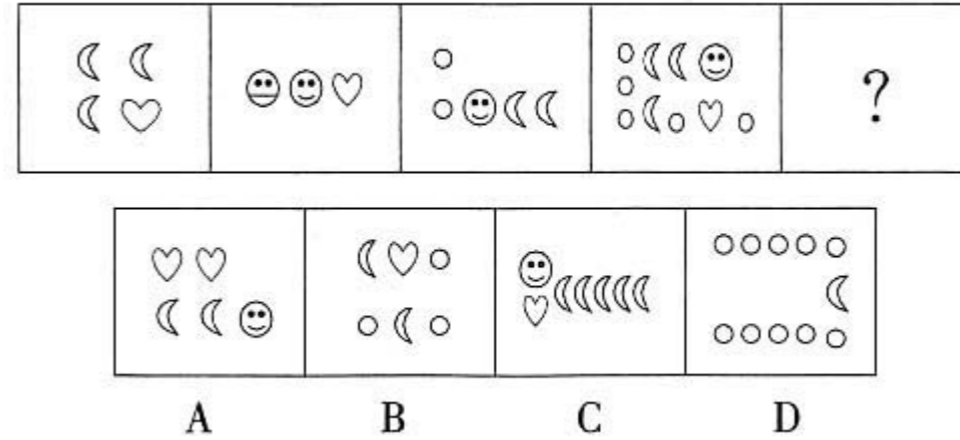
- A.特别行政区立法机关制定的法律须报全国人民代表大会常务委员会备案。备案不影响该法律的生效
- B.全国人民代表大会常务委员会在征询其所属的特别行政区基本法委员会的意见后，如认为特别行政区立法机关制定的法律不符合基本法关于中央管理的事务及中央和特别行政区关系的条款，可以将该法律发回，但不作修改
- C.经全国人民代表大会常务委员会发回的特别行政区的法律立即失效
- D.经全国人民代表大会常务委员会发回的特别行政区的法律一律具有溯及力

解析：

参考答案：D

8、

从所给四个选项中，选择最合适的一个填入问号处，使之呈现一定规律性。



解析：

参考答案：C

[解析] 题干图形依次是2列、3列、4列、5列，应选择一个6列的图形，选项中只有C符合。

9、

根据我国《个人所得税法》的规定，对下列哪一项所得可以实行加成征收？

- A.特许权使用费所得
- B.工资、薪金所得
- C.劳务报酬所得
- D.因福利彩票中奖所得

解析：

参考答案：C

10、

我们信息产业方面工作者的意思不是说汉字不能改动，不能增加，怕给自己的工作添麻烦，而是说在信息化普及的今天，对于汉字的任何改动都应经过多个部门，甚至多个国家的\_\_\_\_\_一致才能进行，不能\_\_\_\_\_，从自己的领域单一地考虑问题。我们并不是反对汉字的科学改革和演化，而是希望在这个过程中要与时俱进，站在信息社会发展和国际化的视角看待汉字改革的问题。

依次填入划横线部分最恰当的一项是\_\_\_\_\_

- A.商量 凭空捏造



- B.协调 闭门造车
- C.协商 一劳永逸
- D.沟通 自命清高

解析：


参考答案：B

[解析]

本题属于实词与成语相结合的辨析题。先看第二空，横线后的句子是对横线内容的解释，因此横线处要表达的意思是“从自己的领域单一地考虑问题”，“凭空捏造”和“闭门造车”符合题意，排除CD项；再看第一空，多个国家之间需要的不仅是商量，更需要协调，协调一致更符合题意，排除A项。故选B。

11、

请从所给的四个选项中选择最合适的一个填入问号处，使之呈现一定的规律性。 \_\_\_\_



- A.
- B.
- C.
- D.

解析：

参考答案：C

[解析]

观察可知，图中给出的图形都是封闭式的，A、B、C、D四个选项中只有C项是封闭式图形，由此排除A、B、D三项。故选C。

12、

把下面的六个图形分为两类，使每一类图形都有各自的共同特征或规律，分类正确的一项是\_\_\_\_\_。



- A. ①③④, ②⑤⑥
- B. ①②⑥, ③④⑤
- C. ①③⑤, ②④⑥
- D. ①④⑤, ②③⑥

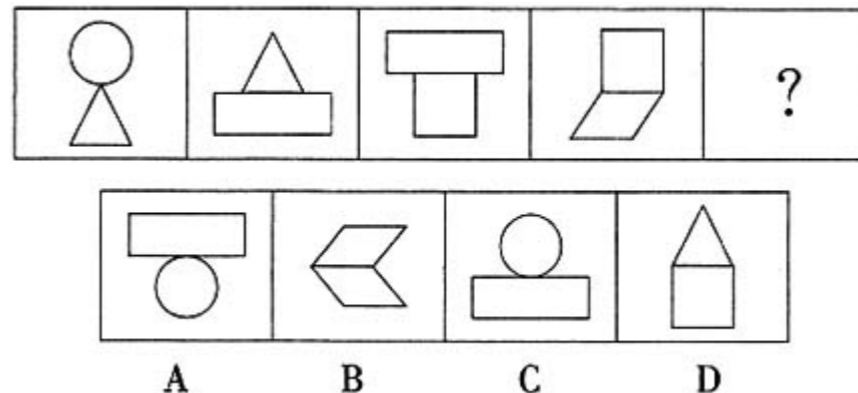
解析：

参考答案：A

[解析] 考查对称轴方向。①③④都有一条竖直对称轴，②⑤⑥都有一条水平对称轴。故选A。

13、

从所给的四个选项中，选择最合适的一个填入问号处，使之呈现一定的规律性：



解析：

参考答案：B

[解析] 前一个图形中下方的小图形为后一个图形中上方的小图形，故选B。

14、

针对党内存在的腐败现象，江泽民同志指出，党内消极腐败现象严重干扰了改革开放，群众很不满意，如果不采取坚决的措施加以克服而任其发展，就会葬送改革开放事业，最终也会危及党的执政地位。江泽民同志这段话主要说明\_

- A.腐败现象已普遍存在
- B.腐败现象违背了党的性质和宗旨
- C.腐败现象危及党和国家的前途命运，反腐败刻不容缓
- D.人民对腐败现象深恶痛绝

解析：

参考答案：C



15、

灯光：黑暗

A.财富：贫困

B.墨镜：光明

C.笤帚：卫生

D.小草：绿化

解析：

参考答案：A

[解析]“灯光”可以结束“黑暗”，在四个选项中只有A答案“财富”可以结束“贫困”。

16、

根据《行政诉讼法》规定，下列有关行政诉讼的表述不正确的是\_\_\_\_\_。

A.人民法院不受理对国防、外交等国家行为提起的行政诉讼

B.被告对做出的具体行政行为负有举证责任

C.人民法院审理行政案件，适用调解

D.因不动产提起的行政诉讼，由不动产所在地人民法院管辖

解析：

参考答案：C

[解析]

根据《行政诉讼法》的相关规定：人民法院审理行政案件，不适用调解。但是，行政赔偿、补偿以及行政机关行使法律、法规规定的自由裁量权的案件可以调解。故本题正确答案为C。

17、

责任分散效应也称为旁观者效应，是指对某一件事来说，如果是单个个体被要求单独完成任务，责任感就会很强，会作出积极的反应。但如果是要求一个群体共同完成任务，群体中的每个个体的责任感就会很弱，面对困难或遇到责任往往会退缩。因为前者独立承担责任，后者期望别人多承担点儿责任。

如果上面定义为真，则下列现象中，不属于责任分散效应的是\_\_\_\_\_。

A.事业单位的某些工作人员在上班期间就三件事：喝茶、抽烟、看报纸。上面下达任务以后，各个部门互相推脱，变成了“踢足球”的游戏

B.一个很干净的地方，人们不好意思丢垃圾，但是一旦地上有垃圾出现之后，人就会毫不犹豫地抛，丝毫不觉羞愧

C.2011年10月13日，2岁的小悦悦(本名王悦)在佛山南海黄岐广佛五金城相继被两车碾压，7分钟内，18名路人路过但都视而不见，漠然而去

D.一些政府部门在投资决策环节上出现了决策失误，但是造成的责任后果却无人分担

解析：

参考答案：B

[解析]

责任分散效应定义的关键点是群体中的个体责任感弱。A、C、D项描述的都是对于一件事而言表现出来的责任分散效应。B项表述的是环境对人的影响，而不是群体中个体的责任感问题，不满足责任分散效应定义。故本题选择B项。

18、

知觉恒常性，知觉系统能在一定范围内保持对客观事物的稳定认识，而不随知觉条件或感觉映像模式的改变而改变。

根据以上定义，下列属于知觉恒常性的是\_\_\_\_\_。

A.5岁的明明第一次坐飞机，在空中看到地面的人小的像蚂蚁，很是奇怪“人怎么变得那么小了?”

B.同样的水，由大杯子倒进了小杯子，明明觉得水变多了

C.明明坐车的时候，看到路两旁的树也在跑，感到很疑惑

D.妈妈今天换了一身衣服，头发也染了颜色，但明明还是一眼就认出了妈妈

解析：

参考答案：D

[解析]

根据定义，知觉恒常性是使人保持对事物的稳定认识，A、B、C都随着感觉条件的变化而变化了，因此不符合定义。

19、

新技术和新媒体的出现，使人的阅读内容、阅读媒介、阅读习惯发生了变化，呈现多元化、数字化、个性化的特点，读者被多样化地细分，“界面”阅读受到年轻人\_\_\_\_\_。伴随便利而来的是娱乐化的泛滥，这是一个泛娱乐化的时代，一切文化都甘心情愿地成为娱乐的\_\_\_\_\_，以分得一杯娱乐的残汁，而思考愈发远遁。

填入画横线部分最恰当的一项是：\_\_\_\_\_

A.追捧 附庸

B.认可 陪衬

C.青睐 注脚

D.欢迎 随从

解析：

参考答案：A

[解析]

第二空，由“以分得一杯娱乐的残汁”可知，此处对泛娱乐化的文化现象持强烈否定态度，四个词语中，“附庸”贬义色彩最重，故当选。第一空，用“追捧”表达年轻人对“界面”阅读的态度也恰当。本题选A。

20、

指望虐待员工的企业造福社会，无异于痴人说梦。现在是该根除“血汗工厂”的时候了，这个改变对中国来说其实也是一个促进转型的机会。我们的劳动者不应该仅依靠网络论坛和微博来伸张他们的权利，他们的权益应该得到有关部门的维护，至少他们受到不公平的待遇应该有个地方去说理。让劳动者有尊严，我们的社会才能和谐发展。

- 下列说法与原文不相符的是\_。
- A.虐待员工的企业不能做到造福社会
  - B.治理“血汗工厂”是促进中国发展的必然选择
  - C.得到有关部门的维护，劳动者的权利就能得到真正的保护
  - D.劳动者权利的保护有利于促进社会的和谐发展

解析：

参考答案：C

[解析] 从文段第一句可知A项正确；根据文段第二句可知B项正确；根据文段最后一句可知D项正确。文段第三句指出“他们的权益应该得到有关部门的维护”，可知C项前后句之间不是充分条件关系，因此C项与文意不符。本题正确答案为C。

21、

北冰洋北部的小头睡鲨的生长速度很慢，每年甚至还不到1Cm，而它们的成年体长又极大，因此它的寿命就成为一个很吸引人的话题。研究者发现，小头睡鲨几乎没有像硬骨鱼类那样可以用来测定年龄的组织，不过有其他人在研究鲸鱼年龄时用到了眼睛，因此研究者认为小头睡鲨的年龄是可以通过其眼睛来测定的。

以下哪项如果为真，最能支持上述观点?\_\_\_\_\_

- A.通过研究晶状体核，有人测出了鲸鱼的实际年龄
- B.眼睛晶状体最核心位置的晶状体核在小头睡鲨还是幼崽时就有了
- C.眼睛的晶状体是不断生长的，成年小头睡鲨的晶状体比幼年的大
- D.小头睡鲨眼睛的晶状体有结晶蛋白，在代谢上不活跃，甚至可以视为“死的”组织

解析：

参考答案：C

[解析] 题干的观点为：小头睡鲨的年龄是可以通过其眼睛来测定的。A项只是特例，支持力度较弱；B项即使眼睛晶状体核幼崽时就有了，如果一直没有变化也无法来判断其年龄；C项指出其眼睛的晶状体随着年龄不断生长，即可以以此来研究其年龄的大小，最能支持题干观点；D项削弱了题干观点。故答案选C。

22、

长期以来，人们对工业的文化内涵没有认识，文物保护的理念相对落后。事实上，每项工业遗产都在一定程度上代表了当时社会生产力的最高发展水平，推动了社会的发展进步。近代工业遗产更是如同一种超越时代的文化载体和现代设计思想的容器，凝结着社会经济、产业和工程技术等方面的历史信息，有些工业遗产，甚至代表了一个城市最基本的东西，见证着城市发展的历史。

- 对这段文字概括最为准确的是\_\_\_\_\_。
- A.文物保护理念应适应生产力发展
  - B.文化研究应以工业遗产为突破口
  - B.工业遗产记录了城市发展的历史
  - D.工业遗产是具有文化价值的文物

解析：

参考答案：D

[解析] A项的外延太大，与文段主要意思相脱离，应排除；B项曲解了原文意思，属于主观臆断，排除；“工业遗产记录了城市发展的历史”与原文“有些工业遗产，甚至代表了一个城市最基本的东西，见证着城市发展的历史”意思有差异，而且它只是文段的部分内容，并不能概括整个文段；文段着重讲述了工业遗产的文化价值，D项概括准确。故选D。

23、

- 3, 3, 6, 18, \_\_\_\_\_。
- A.24
  - B.72
  - C.36
  - D.48

解析：

参考答案：B

[解析] 做商后为等差数列。突破点在18，因为18正好是6的3倍。因此接下来的数字是4，所以答案为18×4=72，故应选B。

24、

- 2, 38, 80, 132, \_\_, 282。
- A.198
  - B.106
  - C.196
  - D.84

解析：

参考答案：A

[解析] 两两做差后可得到一个公差为4的三级等差数列，空缺项应为14+52+132=198。

25、

某公司有20%的员工在周末加班。已知周六来加班的员工数与周日来加班的员工数之比为4:3，两天都加班的员工数是周日加班员工数的 $\frac{1}{3}$ ，那么本周末未加班的员工数是只周六加班员工数的\_\_\_\_倍。

- A.4
- B.6
- C.8
- D.10

解析：

参考答案：C

[解析]

为了计算方便，设周日加班的员工数为3x，则周六加班的员工数为4x。根据“两天都加班的员工数是周日加班员工数的 $\frac{1}{3}$ ”可知，两天都加班的员工数是x，因此只周六加班的员工数是4x-x=3x，这周末加班的员工总数=4x+3x-x=6x，本周末未加班的员工数=6x÷20%×(1-20%)=24x，故本周末未加班的员工数与只周六加班员工数的比为24x:3x=8:1。答案为C项。

26、

清退保密文件时，要\_\_

- A.摘录文件内容
- B.复制原文
- C.按原文标注密级处理
- D.按平件清退

解析：

参考答案：C

27、

投保人为了达到骗取保险金的目的，故意杀害被保险人，造成被保险人死亡，法院应对投保人\_\_。

- A.以故意杀人罪定罪
- B.以保险诈骗罪定罪
- C.以故意杀人罪和保险诈骗罪定罪，按照牵连犯的处罚原则从一重罪处罚
- D.以故意杀人罪和保险诈骗罪实行数罪并罚

解析：

参考答案：D

[解析]

1995年6月30日第八届全国人民代表大会常务委员会第十四次会议通过的《关于惩治破坏金融秩序犯罪

的决定》中第16条规定：有第(四)项、第(五)项所列行为，同时构成其他犯罪的，依照刑法数罪并罚的规定处罚。即(四)投保人、被保险人故意造成财产损失的保险事故，骗取保险金的；(五)投保人、受益人故意造成被保险人死亡、伤残或者疾病，骗取保险金的。故选D。

28、

要约：凡向一个或一个以上特定的人提出的订立合同的建议，如果其内容十分确定，并且表明要约人在其要约一旦得到承诺就将受其约束的意思，即构成要约。

下列不属于要约构成要件的一项是( )。

- A.应向一个或一个以上特定的人提出
- B.要约的内容必须十分确定
- C.要约的书面表达应标准化
- D.要约人需有当其要约被对方承诺的受其约束的意思

解析：

参考答案：C

29、

体育是适应人类生产、军事和健康等需要而发展起来的一项活动。现代奥林匹克运动的兴起，使体育精神进一步国际化，但同时由于商业运作和利益驱使成分的增多，在某些方面，体育也开始背离初衷。不可否认，体育很难脱离社会背景而发展，但更为重要的是，体育是人类社会追求进步的一种象征，一旦违背了这一意愿，体育对人类的作用会减弱，最终将失去其存在和发展的必要。

这段话支持的主要观点是\_\_\_\_\_。

- A.体育是人类重要的社会活动，因而发展体育不能违背这一初衷
- B.现代体育的发展有可能导致体育自身的消亡
- C.体育的发展要为人类自身的进步做贡献
- D.体育对人类的作用因现代体育的发展而减弱

解析：

参考答案：C

[解析]

由文段中表示转折关系的短语“但更为重要的是”可知，文段的主要观点体现在最后一句，分析该句可知，体育的存在和发展应该能够促进人类社会自身的进步，故正确答案为C。

30、

武汉黄鹤楼享有“天下江山第一楼”的美誉，而黄鹤楼如此声名大噪主要源于：\_\_\_\_\_

- A.李白《望黄鹤楼》





- B.阎伯理《黄鹤楼记》
- C.崔颢《黄鹤楼》
- D.毛泽东《菩萨蛮·登黄鹤楼》

解析：

参考答案：C

[解析]唐代诗人崔颢的《黄鹤楼》，已成为千古绝唱，同时也使黄鹤楼声名大噪。故本题答案选C。

31、

根据国务院印发的《“十三五”控制温室气体排放工作方案》，下列哪些是其中提到的“十三五”控制温室气体排放的重点任务?\_\_\_\_\_

- ①低碳引领能源革命
- ②推动城镇化低碳发展
- ③强化基础能力支撑
- ④建设和运行全国碳排放权交易市场
- ⑤加强地区监控

- A.①②③⑤
- B.②③④⑤
- C.①③④⑤
- D.①②③④

解析：

参考答案：D

[解析]国务院印发的《“十三五”控制温室气体排放工作方案》从八个方面提出了“十三五”控制温室气体排放的重点任务：一是低碳引领能源革命；二是打造低碳产业体系；三是推动城镇化低碳发展；四是加快区域低碳发展；五是建设和运行全国碳排放权交易市场；六是加强低碳科技创新；七是强化基础能力支撑；八是广泛开展国际合作。①②③④均属于该《方案》提到的控制温室气体排放的重点任务。故本题答案选D。

32、

2008年5月12日，四川大地震造成了极大的破坏，但处于震中区域的都江堰水利枢纽完好无损，当时这项水利工程的主要作用是\_。

- A.沉积沙石
- B.涵养水源
- C.排除沙子
- D.灌溉、防洪

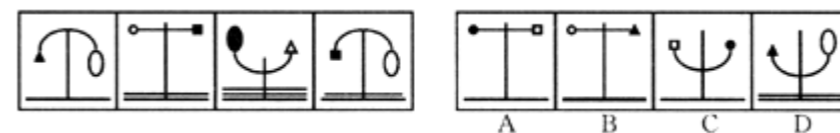
解析：

参考答案：D

都江堰水利工程是全世界至今为止年代最久、唯一留存、以无坝引水为特征的宏大水利工程。这项工程科学地解决了江水自动分流、自动排沙、控制进水量等问题，消除了水患，使川西平原成为“水旱从人

”的“天府之国”。故选D。

33、



解析：

参考答案：A

观察第一组图中的四个图形，底部的横线由1增加到3后又开始递减，再看上方的图形，左、右两边均为实心、空白交替出现，由此规律可知下一个图形底部直线应为一条，左端图形应为实心，右边为空白，因此，答案为A。

34、

①其中包括他们的肤色、相貌、身材、线条、姿态、气质、风度等许多方面②这样的美，才是广大女性更加向往、追求和渴望的③真正的女性美，应该是结实、精干、肌肉强健，富有区别于男子的特有曲线美④越来越多的人现在都倾向于认为：现代女性人体美，绝不是苗条、柔软、纤细⑤当代青年人心目中美美的典型，已不再是一个或一种人，而是一个多层次、多因素的复杂模式⑥既不失女性的妩媚，又足以承担生活竞争的压力，担当起社会责任

排列组合最连贯的是( )

- A.⑤⑥③②④①
- B.⑤④⑥②①③
- C.⑤①④③⑥②
- D.②⑤①③④⑥

解析：

参考答案：C

[解析]

首先，通读六个句子，我们可以初步确定这是一个描写现代年轻人心目中的美的，而从各种美中又着重谈了女性美，是属于一种总一分的结构。那么，第一句是一个总起句。六个句子中，⑤是一个总起句放在第一，根据⑤句内容“多层次、多因素”，我们可以推出接下来是①句。接下来就讲女性美了，同样需要一个领起句，所以应是④句。根据④句内容“绝不是.....”接下来就应点明是什么了，所以是③和⑥，为了表达的通顺③在前⑥在后，因此，本题选C。

35、

酸雨是指pH值低于5.6的大气降水，包括雨、雪、露、霜，造成酸雨的主要原因是大气中的\_。

- A.二氧化碳
- B.二氧化硫



- C.氢氧化物
- D.二氧化氯

解析：

参考答案：B

二氧化硫和氮氧化物是造成酸雨的主要原因。

36、

已知a、b、c、d都是正整数，且 $a > b > c > d$ ， $a+b+c+d=2004$ ， $2a-2b+2c-2d=2004$ ，则a+d的最小值是\_。

- A.1502
- B.1005
- C.1004
- D.999


解析：

参考答案：B

[解析] 由两个等式可以得出 $a+c=1503$ ， $b+d=501$ ， $a+d=a+c-(c-d)$ ，要使a+d最小，则必须c-d最大，当 $b=500$ ， $d=1$ ， $c=499$ 时，可得出c-d最大，为498，此时a+d最小，为1005。故正确答案为B。

37、

如右图，大圆半径为小圆的直径，已知图中，阴影部分面积为 $S_1$ ，空白部分面积为 $S_2$ 式，那么这两个部分的面积之比为\_。(π=3)

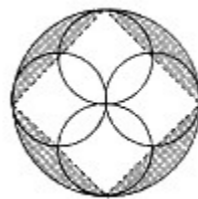


- A.1:1
- B.1:3
- C.1:2
- D.2:3

解析：

参考答案：C

[解析] 如右图添加辅助线，小圆内部的阴影部分可以填到外侧来，这样，空白部分就是一个圆的内接正方形。设大圆半径为r，则 $S_2=2r^2$ ， $S_1=\pi r^2-2r^2$ ，所以 $S_1:S_2=(\pi-2):2=1:2$ 。因此，本题正确答案为C。



38、

众所周知的是，冯式贺岁电影最大的特质是“接地气”和“雅俗共赏”，讽刺艺术和语言艺术都运用得恰到好处，总能让观众看过之后笑声连连。事实上，冯小刚早期还编过不少相声小品，《点子公司》《“面的”与“皇冠”》等作品，都曾给观众留下深刻印象。反观近几年的春晚，相声和小品“挨骂”最多，关键原因就在于它们很难让观众乐起来，总是说教大于娱乐，失掉了讽刺与幽默的灵魂。

这段文字意在说明\_\_\_\_\_。

- A.冯小刚具有较高的娱乐作品创作天赋
- B.近年相声和小品“挨骂”多的原因
- C.为什么冯氏贺岁电影会获得成功
- D.相声和小品作品要寓教于乐

解析：

参考答案：D

[解析] 文段通过对冯氏贺岁电影的肯定，引出近年春晚相声和小品节目存在的问题——“说教大于娱乐，失掉了讽刺与幽默的灵魂”，这也是文段表述的重点所在。因此，作者借此要说明的即是相声和小品作品如何创作的问题。观察四个选项，D项最为恰当，故本题选D。

39、

在一些人看来，带薪休假会对中国经济的竞争力、企业的用工成本造成一定影响，但是这不能成为违反法律、\_\_\_\_\_劳动者权利和福利的\_\_\_\_\_。

填入画横线部分最恰当的一项是：

- A.侵占 藉词
- B.侵犯 借口
- C.攻击 借端
- D.骚扰 缘由

解析：

参考答案：B

[解析] 第一空，“侵犯权利”为固定搭配，第二空填“借口”也恰当。故本题选B。

40、

稠密：稀疏

- A.宽敞：明亮
- B.词语：词汇
- C.伟大：平凡
- D.酷热：炎热

解析：

参考答案：C

题干属相对关系，ABD相近，C项符合要求。

41、

文笔流畅：当上作家

- A.喝酒太多：醉卧门前
- B.无事生非：胡作非为
- C.各尽其能：如鱼得水
- D.风光很好：气色不错

解析：

参考答案：A

42、

- (1)中场才至           (2)一人独往
- (3)久等下来           (4)约好看电影
- (5)电影已开演

- A.4-3-2-1-5
- B.5-4-2-3-1
- C.4-3-5-2-1
- D.5-2-3-4-1

解析：

参考答案：C

[解析]

这是侧重时间及逻辑分析的试题。其情境是约好和别人一起去看电影，却没有等到人，电影已经开演，只好一个人先进去看，中场时约的人才来。

43、

有三位男生张强、赵林、王刚和三位女生李华、秦珊、刘玉暑假外出旅游，可能去上海、杭州、青岛和

大连。条件是：

- ①每人只能去一个地方；
- ②凡是男生去的地方就必须有女生去；
- ③凡是有女生去的地方就必须有男生去；
- ④李华去上海或者杭州，赵林去大连。

如果上述，断定都为真，则去杭州的人中不可能同时包含：

- A.张强和王刚
- B.王刚和刘玉
- C.秦珊和刘玉
- D.张强和秦珊

解析：

参考答案：C

[解析]

男生赵林去了大连，而“男士去的地方就必须有女生去”，所以必定有女生和赵林一起去了大连，女生李华去了上海或者杭州，所以女生秦珊、刘玉必有一人去往大连，所以去杭州的人不可能同时包含秦珊和刘玉，故选C。

44、

北魏：鲜卑

- A.契丹；辽
- B.清：女真
- C.渤海郡国：室韦
- D.后金：粟靺鞨

解析：

参考答案：B

[解析]

题干中的后一项民族是前一项国家的建立者，符合这一规律的是B，清是女真人建立的，后女真又称满族。A项错在前后两项不对应；C项渤海郡国是唐代时粟末靺鞨人建立的；D项中，后金是清入关前的国家名称，所以建立民族是女真族或满族。

45、

小报文化根源于民众并不总是相信那些公众人物真如他们表面上展现的一面，但当这种小报文化过度发展，超越伦理和法律限制，就会遭到公众的唾弃。当今世界已经进入媒介化社会，媒介变得举足轻重，媒体的伦理道德问题也随之被看重。随着关于道德、法律、新闻自由与社会病的激烈争论，无论是丑闻爆发地英国，还是欧洲其他国家和美国，都有政要要求调查默多克新闻集团以及其他媒体的类似行为，而“刨垃圾桶、买消息以满足阴暗窥私癖”的小报文化也成为多国声讨的对象。

小报文化成为社会问题的主要原因是：

- A.小报文化对伦理和法律产生冲击



- B.小报文化经常揭露公众人物的丑闻
- C.小报文化使主流媒体的公信度下降
- D.小报文化对政要的形象产生负面影响

解析：

参考答案：A

[解析]

由“小报文化过度发展，超越伦理和法律限制，就会遭到公众的唾弃”可知，小报文化成为社会问题的主要原因在于对伦理和法律产生冲击。A项正确。B、C、D三项文段均未涉及。本题选A。

46、

移民即人口迁移，指那些由一个国家或区域，移动到并长期居留于另外一个国家或区域，在移居地从事生计性的经济活动，并被课以当地社会义务的个人或人群。

根据上述定义，下列选项属于移民的是\_。

- A.甲因家乡修建水库而搬到邻省居住，政府为其安排了住房，解决了工作问题，后其在邻省成家生子
- B.乙因工作需要每年需在日本居住半年，此种情况持续了10年
- C.丙是一位动物学家，她在巴西的亚马逊原始森林居住了15年，观察当地的野生猩猩的活动规律
- D.90年代，丁的父母到美国投奔亲友，后在美国生下丁，丁便在美国上学并工作

解析：

参考答案：A

[解析]

B项，乙并非长期居留于日本，不属于移民。C项，丙并非从事生计性的经济活动，而是进行科学研究，不符合定义。D项，丁一出生就在美国，并未从一个国家或地区移动到另一个国家或地区，不属于移民。A项符合定义，属于地区移民。故本题答案为A。

47、

我国的专利申请平均每年以48%的速度增长。我国的专利实施只占专利总量的20%~30%，与国外高达80%的实施率相比差距很大。在我国专利申报总量中只有15%来自于企业，而发达国家的专利申请80%来自于企业。

这段话主要支持了这样一种观点，即\_。

- A.在具体政策上对科技成果评估活动重视不够
- B.在我国，应该努力扩大对日益增长的专利技术的开发、实施
- C.在我国，多数人还没有学会使用专利武器来保护自己的知识成果
- D.与企业相比，大专院校和科研单位更重视对科研成果的开发和应用

解析：

参考答案：B

从题干中对我国专利与国外专利问题进行对比的几组数字，以及两个“只”字的运用，自然可以看出作者

认为我国在专利的实施和开发方面应该加大步伐。

48、

- A.
- B.
- C.
- D.

解析：

参考答案：D

[解析] 这是一道图形旋转题。由第一套图可以推出变化规律为：内部的图形依次呈顺时针旋转 120度。

49、

一小学买来6张桌子和几把椅子，共花了859元，已知每张桌子72元，比每把椅子贵

41.5元，问买了多少把椅子?\_

- A.11
- B.12
- C.13
- D.14

解析：

参考答案：D

[解析]  $\frac{859-72 \times 6}{72-41.5} = 14$ 。

50、

- (1)贯彻落实
- (2)调整步伐
- (3)中期检查
- (4)调查研究
- (5)制定计划

- A.5 - 4 - 3 - 1 - 2
- B.4 - 5 - 3 - 1 - 2
- C.4 - 5 - 1 - 3 - 2
- D.2 - 3 - 5 - 4 - 1

解析：

参考答案：C

51、

\_\_ 对于氯化氢相当于石灰水对于\_\_

- A.硫酸 钠
- B.盐酸 氢氧化钙
- C.氨水 氯化钙
- D.甲烷 氯化钠

解析：

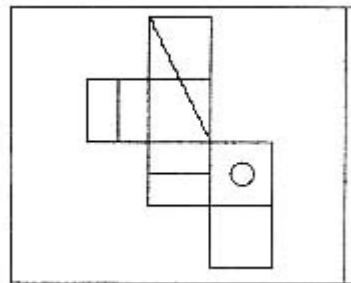
参考答案：B

[解析]

本题考查溶液与其所含的主要化学物质的对应关系。氯化氢溶于水之后得到的溶液俗称盐酸，石灰水是氢氧化钙溶于水之后得到的溶液。故选B。

52、

上边给定的是纸盒的外表面，下面哪个能由它折叠而成？



- A.
- B.
- C.
- D.

解析：

参考答案：A

[解析]

B项假设正面和顶面正确，则侧面应为含横线的面，错误；C项假设正面和顶面正确，则侧面应为含斜线

的面，错误；D项含圆圈的面必然与一个含横线的面为相对面，错误；A项可由给出图形折出，选A。

53、

枫叶：香山

- A.天安门：北京
- B.颐和园：长廊
- C.大海：北戴河
- D.鲜花：植物园

解析：

参考答案：C

香山有枫叶，但并不是只有香山才有枫叶，前一个词是泛指，后一个词是特指，且后一个词包含前一个词。符合这两个条件的只有C项。

54、

13, 26, 40, 55, 71, \_\_

- A.86
- B.87
- C.89
- D.88

解析：

参考答案：D

二级等差数列。

55、

某市发生了一起抢劫案件，侦察员拘留了A、B、C、D、E五个犯罪嫌疑人，并通过询问，掌握如下情况：如果B不是凶手，那么A也不是凶手；B只有和C在一起，才会参与作案；如果D是凶手，E一定是帮凶；A和D中至少有一个人是凶手；C没有参与这起凶杀案。

由此可以推出\_\_。

- A.D和E是凶手
- B.A和E是凶手
- C.A和D是凶手
- D.推不出谁是凶手

解析：

参考答案：A

[解析]



题于中给出了一系列条件。根据“C没有参与这起凶杀案”和“B只有和C在一起，才会参与作案”可推出B没有参与作案。根据“如果B不是凶手，那么A也不是凶手”可知A不是凶手。根据“A和D中至少有一个人是凶手”推出D是凶手。由“如果D是凶手，E一定是帮凶”可知E是帮凶。即D和E是凶手。故选A。

56、

环境污染已经成为全世界普遍关注的问题。科学家和环境保护组织不断发出警告：如果我们不从现在起就重视环境保护，那么人类总有一天将无法在地球上生存。

以下哪项解释最符合以上警告的含义?\_

- A.如果从后天而不是从明天起就重视环境保护，人类的厄运就要早一天到来
- B.只要我们从现在起就重视环境保护，人类就不至于在这个地球上无法生存下去
- C.如果从现在起开始重视环境保护，人类就可以在地球上永久地生活下去
- D.对污染问题严重性要有高度的认识，并且要尽快采取行动做好环保工作

解析：

参考答案：D

[解析]

“我们不从现在起就重视环境保护，人类总有一天将无法在地球上生存。”表示“重视环境保护”是“在地球上生存”的必要条件。只有D项表示的是这样的关系。

57、

一般来说，一个社会的监督体系是由多方面力量组成的，媒体监督不应成为其中的主要力量，更不应“一枝独秀”，因为这个体系还应该包括公众监督、制度监督等多个方面，任何一个方面的缺失，都会使整个体系出现明显漏洞。单纯依靠一种监督力量，对于任何一个社会来说都是“不安全”的，因为不同的监督力量，在整个体系中扮演的角色是不同的。媒体监督相对于制度监督等方式而言，是一种非强制性监督，不仅受制于舆论环境，而且监督效果在很大程度上取决于监督对象的态度。因此，将整个社会监督的“希望”全部寄托在媒体身上，既不科学，也不现实。

这段文字针对的主要问题是：\_\_\_\_\_

- A.目前媒体监督被赋予过多的期望
- B.社会监督未引起监督对象的足够重视
- C.媒体监督的效果尚不理想
- D.强制性监督的作用未得到充分发挥

解析：

参考答案：A

[解析]

本题属于概括类题型。文段中心句是最后一句总结性的话，即“因此，将整个社会监督的‘希望’全部寄托在媒体身上，既不科学，也不现实”，据此可概括出题干的主要内容“目前媒体监督被赋予过多的期望”。

58、

经国务院批准，撤销海南省西沙群岛、南沙群岛、中沙群岛办事处，设立地级三沙市，管辖西沙群岛、中沙群岛、南沙群岛的岛礁及其海域。三沙市人民政府驻西沙\_。

- A.西沙洲
- B.七连屿
- C.石岛
- D.永兴岛

解析：

参考答案：D

59、

记住自己很快就要死了，这是面对人生重大选择时最重要的工具。因为几乎一切——所有外界的期望，所有骄傲，所有对于困窘和失败的恐惧——这些东西在死亡面前都\_\_\_\_\_，你已是\_\_\_\_\_，没理由不追随内心。

依次填入划横线部分最恰当的一项是\_\_\_\_\_。

- A.烟消云散 一无所有
- B.微不足道 孑然一身
- C.无所遁形 背水一战
- D.不值一提 不名一文

解析：

参考答案：A

[解析]

句意说的是在面对死亡时期望、骄傲、恐惧这些束缚人们大胆抉择的因素都不存在了，则第二空所填词语应表示一身轻松的意思。“孑然一身”形容孤单无靠；“不名一文”形容极其贫穷，均不符合句意，排除B、D。第一空中，“烟消云散”比喻事物消失得无影无踪；“无所遁形”指没有地方可以隐藏形迹、身影，赤裸裸地展现在人们面前。“无所遁形”与句意相悖，排除C。本题答案为A。

60、

根据我国《专利法》的规定，下列发明创造中不能授予专利权的是\_\_\_\_\_。

- A.饮料的配方
- B.转基因大豆的生产方法
- C.疾病治疗仪的制造方法
- D.疾病的预防和治疗方法

解析：

参考答案：D

以上内容仅为本文档的试下载部分，为可阅读页数的一半内容。如要下载或阅读全文，请访问：<https://d.book118.com/256033232125010243>