



一年级下册数学解决问题 100 道

一. 解答题(共 100 题, 共 570 分)

1. 红气球和黄气球一共有 14 个, 红气球有 8 个, 黄气球有多少个?

2. 李阿姨拿了 14 个 , 分给小朋友 8 个, 阿姨还剩多少个 ?



(1) 苹果和梨一共有 17 个, 梨有多少个?

(2) 再加几个苹果, 苹果和橘子就一样多了?

4. 把 14 枝花插在 2 个花瓶里。一个花瓶插 8 枝, 另一个花瓶插几枝?

5. 小玲买一本字典用了 8 元钱, 她付给营业员 20 元, 应找回多少钱?

6. 幼儿园大班有小朋友 30 人, 小班的人数 12 人。要给他们每人分 1 个苹果, 够不够?




7. 原来有 17 个气球, 被吹走的 8 个, 还剩下多少个?

8. 第一小组有 9 个同学, 每人浇 6 棵树。

(1) 第一小组共浇了多少棵树?

(2) 第二小组浇了 50 棵树, 第一小组比第二小组多浇多少棵树。

9. 阅览室中的数学问题。



(1) 小刚看了多少页？

_____ = _____ (页)

(2) 小兰看了多少页？

_____ = _____ (页)

(3) 你还能提出什么问题？把提出的问题写在下面，并解答出来。

提出的问题：_____？

10. 奶奶今天一共要编 14 个 ，已经编好了 9 个，还要编几个？

11. 一盒水彩笔 12 元，一个调色盘 4 元，买这两样需要多少钱？我付给售货员 20 元，还要找回多少元？

12. 看图回答。



(1) 买 1 支铅笔和 1 本书一共花_____钱。

(2) 上衣比雨伞贵_____元。

(3) 红红有 10 元钱，要买一本书，应找回_____钱。


(4) 你能自己提出一些数学问题并解答吗？

13. 幼儿园小班有 20 辆玩具车，幼儿园中班有 30 辆玩具车，幼儿园大班有 52 辆玩具车。

(1) 幼儿园大班和小班一共有多少辆玩具车？

(2) 幼儿园小班几辆玩具车就和大班一样多？

14. 圈一圈，估一估，数一数。



(1) 估计大约有_____只小鸡。

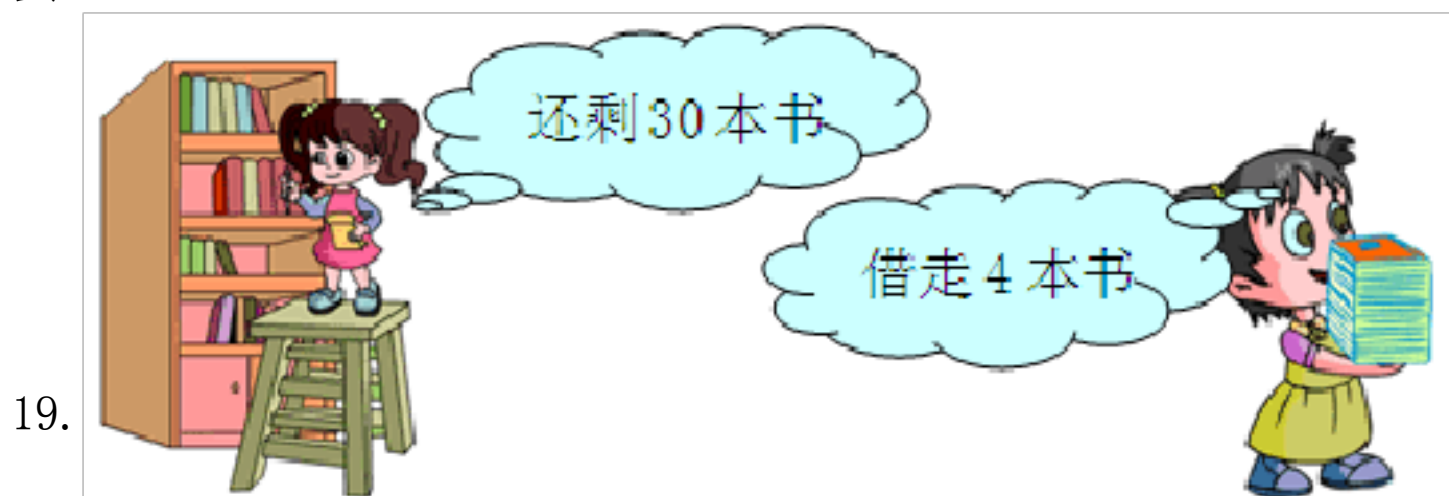
(2) 圈一圈，圈了_____个十，还多_____只，一共是_____只。

15. 一年级有 52 名同学，准备乘两辆车去公园，一辆车已经坐上了 30 名同学，另一辆车要坐多少人？

16. 老师留了 16 道计算题，小红还要做 7 道才能完成作业，猜一猜小红已经做了几道？

17. 我从图书馆借了 18 本故事书和 12 本漫画书，还了 9 本漫画书，还有几本漫画书没有还？

18. 王叔叔收了一批鸭蛋，前 3 天卖出 30 个，还剩 8 个。他一共收了多少个鸭蛋？





原来有多少本书？

$$\square \bigcirc \square = \square ()$$

20. 逛超市。



(1) 买一瓶  和一根  一共需要多少钱？

(2) 一盒  比一瓶  便宜多少钱？

(3) 买一个 ，付给售货员 10 元，应找回多少钱？

(4) 你还能提出什么数学问题？

21. 小明有 35 本书，小丽有 20 本书。

(1) 小明比小丽少多少本书？

(2) 小丽比小明多多少本书？

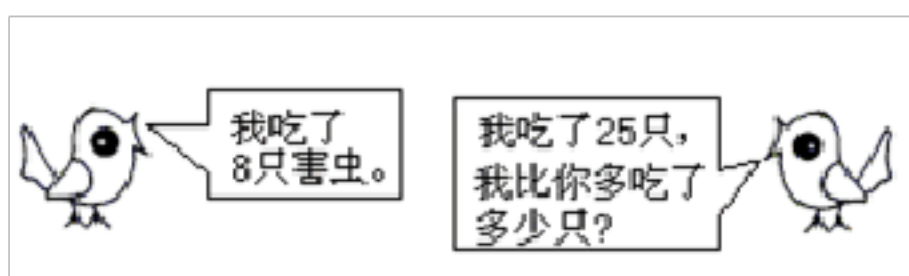
(3) 两人一共有多少本书？

22. 小雨和小雪共画了 12 朵花，小雨画了 9 朵，小雪画了几朵？

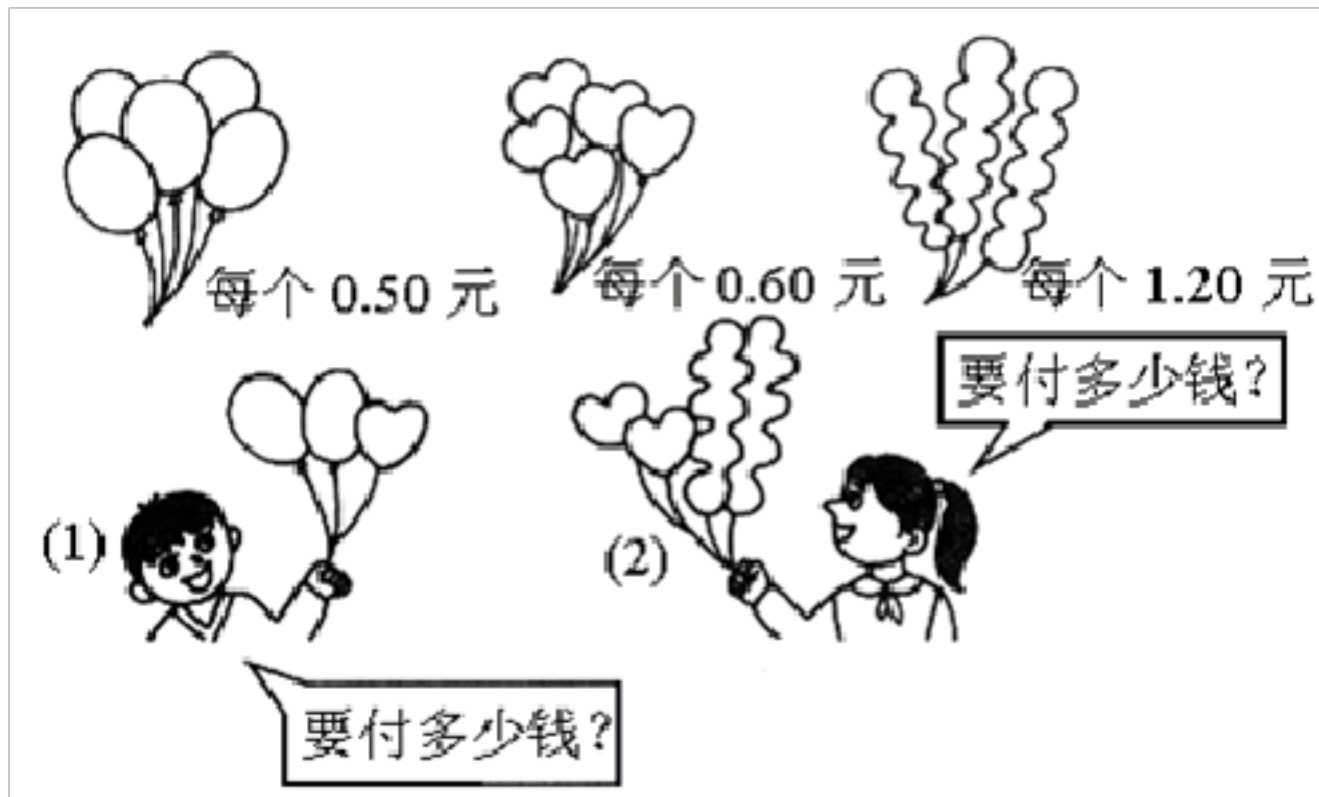
23. 草地上原有 10 只小白兔，跑了 3 只，又来了 2 只。草地上现在有多少只小白兔？

24. 一（2）班有 52 人，其中女生 20 人，男生有多少人？

25. 看图解答：



26. 看图回答。



27. 一本 12 页的画册，妹妹看了 7 页，还有多少也没看？

28. 小华用彩纸折“幸运星”，昨天和今天一共折了 15 颗，今天折了 8 颗，昨天折了多少颗？

29. 1 个打火机 8 角钱，请你在拿出人民币件数最少的情况下付款，并写出如何付款？

30. 有 58 个学生，6 位教师去春游。每人一顶凉帽，买 65 顶够吗？

31. 小红看了 60 页书，还有 30 页没有看，这本书一共有多少页？

32. 妈妈去物美超市，买了 1 箱牛奶 32 元，买了一瓶果汁 7 元，又买了 20 元水果。妈妈只带了 50 元，买这些物品够吗？

33. 到餐厅吃午饭，给你 10 元钱你可能买哪几种商品？（填序号）



(1) 我可能买_____，列式：_____



(2) 可能买_____，列式：_____


(3) 也可能买_____，列式：_____

34. 应找回多少钱？



35. 卖了 46 盆鲜花，还剩 9 盆。



36. 兰兰摘了多少个  ?



37. 一年级有 98 个同学去旅游。第一辆车只能坐 40 人，第二辆车能坐 55 人。还有多少人不能上车？

38. 操场上有 15 人踢球，跳绳的比踢球的多 8 人。跳绳的人有多少人。



39. 小明有 18 枝彩色笔，小刚借走了 9 枝，小明还有几枝？

40. 大生有 23 个气球，里面有 8 个红气球，其余的是黄气球，黄气球有多少个？

41. 停车场停了 50 辆自行车，又推来了 9 辆，一共有多少辆？

42. 看图购物。



(1) 买一个书包和一个小熊玩具需要多少元？

$$\square \bigcirc \square = \square \quad (\quad)$$

答：需要 () 元。

(2) 自己提出一个数学问题，并解答。

问题：

列式：

答：

43. 萝卜有 12 筐，土豆比萝卜少 3 筐。土豆有多少筐？

44. 购物。



- (1) 大伟有 60 元钱，可以买哪三件玩具？
- (2) 一把玩具手枪比一个洋娃娃便宜多少钱？
- (3) 大明买一辆玩具汽车，售货员找回 5 元枪，大明付了多少元？
- (4) 小军的钱正好买一辆汽车，你猜猜，他最多有多少张 10 元的？

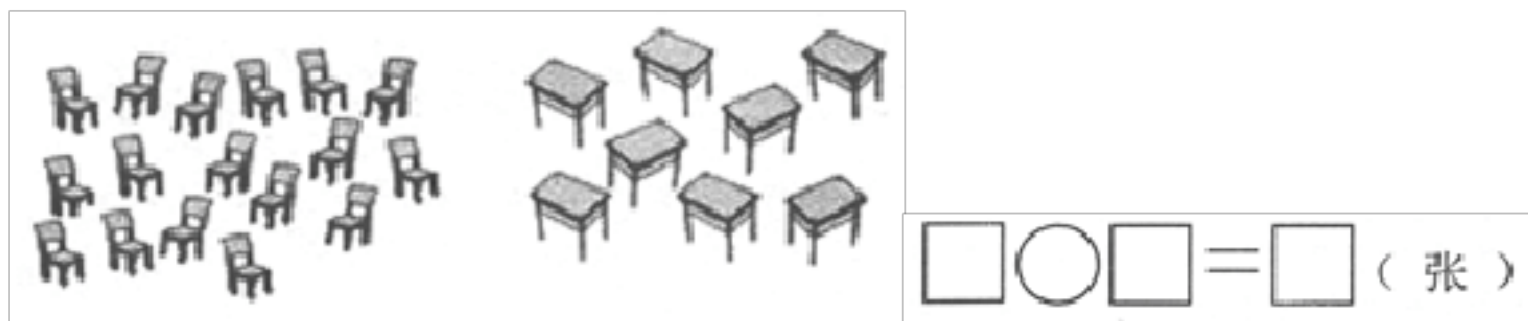
45. 学校体育室有足球 21 个，一年级借走 8 个，还剩下多少个足球没被借走？

46. 解答题。



- (1) 一辆小汽车和一个羽毛球一共多少钱？
- (2) 一支铅笔和一个布娃娃一共多少钱？
- (3) 一辆小汽车比一支铅笔贵多少钱？
- (4) 你还能提出其他数学问题并解答吗？

47. 一把椅子配一张桌子，现有 17 把椅子，还缺几张桌子？



48. 请提出问题，并解答。



49. 一年级有 20 人，其中女生 10 人，男生多少人？

50. 果园里有 68 筐苹果，运走了一些，还剩 20 筐。运走了多少筐？

51. 一共有 12 个西瓜，卖掉一些后还剩 5 个，已经卖掉了多少个？

52. 下面是洋洋、小春和小敏在运动会上得到的分数。

| | |
|----|-----|
| 洋洋 | 9分 |
| 小春 | 15分 |
| 小敏 | 10分 |


(1) 洋洋比小春少多少分？

(2) 小春比小敏多多少分？

(3) 洋洋比小敏少多少分？

53. 一个加数是 45，另一个加数比它多 5，另一个加数是多少？

54. 草地上，有 12 头老牛和 5 头小牛在吃草。



(1) 一共有多少头牛？

(2) 老牛比小牛多几头？

55. 看图回答问题。



$\square \bigcirc \square = \square$ (张)

答：我们一共要擦 () 张课桌。

56. 看图回答下列问题。



(1) 小猴比狮子多几只？

以上内容仅为本文档的试下载部分，为可阅读页数的一半内容。如要下载或阅读全文，请访问：<https://d.book118.com/276024242042011005>