

2024 届黑龙江省哈尔滨市道外区科目一模拟考试 100 题附答案版

1、不得驾驶具有安全隐患的机动车上道路行驶

A、正确

B、错误

正确答案：A

分析：常识题。开个病车，你敢上路吗？

2、机动车驾驶人造成事故后逃逸构成犯罪的，吊销驾驶证且终生不得重新取得机动车驾驶证。

A、正确

B、错误

正确答案：A

分析：《道路交通安全法》第一百零一条规定：造成交通事故后逃逸的且构成犯罪的，由公安机关交通管理部门吊销机动车驾驶证，且终生不得重新取得机动车驾驶证。

3、在冰雪路面上行车，必须降低车速、加大安全距离。

A、正确

B、错误

正确答案：A

分析：冰雪路面行驶时，制动距离比平时要大。因此要考虑到紧急状况。如果出现紧急情况，需要有足够的制动距离。

4、前方路口这种信号灯亮表示什么意思？



- A、路口警示
- B、加速直行
- C、加速左转
- D、禁止右转

正确答案：A

分析：黄灯为警示灯，所以是路口警示。

5、雨天驾驶机动车需要超车时，应开启前照灯，连续鸣喇叭迅速超越。

- A、正确
- B、错误

正确答案：B

分析：雨天行驶路面湿滑，跟车行驶，要增大与前车的安全距离，尽量避免超车，降低事故发生的风险。“连续鸣喇叭”“迅速超越”安全行车禁忌。

6、机动车驾驶人请他人代为接受交通违法行为处罚和记分，并支付经济利益的，会被处以所支付经济利益三倍以下的罚款，但最高不得超过多少元？

- A、8万
- B、2万
- C、3万
- D、5万

正确答案：D

分析：《道路交通安全违法行为记分管理办法》规定，机动车驾驶人请他人代为接受交通违法行为处罚和记分并支付经济利益的，由公安机关交通管理部门处所支付经济利益三倍以下罚款，但最高不超过五万元；同时，依法对原交通违法行为作出处罚。

7、驾驶机动车在高速公路或者城市快速路以外的道路上行驶时，未按规定系安全带的，一次记多少分？

A、12分

B、3分

C、6分

D、1分

正确答案：D

分析：《道路交通安全违法行为记分管理办法》规定，机动车驾驶人有下列交通违法行为之一，一次记1分：（一）驾驶校车、中型以上载客载货汽车、危险物品运输车辆在高速公路、城市快速路以外的道路上行驶超过规定时速百分之十以上未达到百分之二十的；（二）驾驶机动车不按规定会车，或者在高速公路、城市快速路以外的道路上不按规定倒车、掉头的；（三）驾驶机动车不按规定使用灯光的；（四）驾驶机动车违反禁令标志、禁止标线指示的；（五）驾驶机动车载货长度、宽度、高度超过规定的；（六）驾驶载货汽车载物超过最大允许总质量未达到百分之三十的；（七）驾驶未按规定定期进行安全技术检验的公路客运汽车、旅游客运汽车、危险物品运输车辆以外的机动车上道路行驶的；（八）驾驶擅自改变已登记的结构、构造或者特征的载货汽车上道路行驶的；（九）驾驶机动车在道路上行驶时，机动车驾驶人未按规定系安全带的；（十）驾驶摩托车，不戴安全头盔的。

8、行车中遇到执行紧急任务的消防车、救护车、工程抢险车时要及时让行。

A、正确

B、错误

正确答案：A

分析：看题干，都说是执行紧急任务了，当然是应当让行啦！

9、大雾天行车，多鸣喇叭是为了引起对方注意，避免发生危险。

A、正确

B、错误

正确答案：A

分析：雾天能见度低，驾驶人的视线模糊、视距变短、视野变窄，在道路上行车，多鸣喇叭引起行人和车辆注意，避免发生交通事故。

10、饮酒后驾驶机动车的，处暂扣六个月机动车驾驶证，并处一千元以上二千元以下罚款。

A、正确

B、错误

正确答案：A

分析：《道路交通安全法》第九十一条 饮酒后驾驶机动车的，处暂扣六个月机动车驾驶证，并处一千元以上二千元以下罚款。因饮酒后驾驶机动车被处罚，再次饮酒后驾驶机动车的，处十日以下拘留，并处一千元以上二千元以下罚款，吊销机动车驾驶证。醉酒驾驶机动车的，由公安机关交通管理部门约束至酒醒，吊销机动车驾驶证，依法追究刑事责任；五年内不得重新取得机动车驾驶证。

11、驾驶人驾驶机动车在道路上行驶，未按规定系安全带的，一次记多少分？

A、12分

B、1分

C、6分

D、3分

正确答案：B

分析：《道路交通安全违法行为记分管理办法》规定，机动车驾驶人有下列交通违法行为之一，一次记1分：（一）驾驶校车、中型以上载客载货汽车、危险物品运输车辆在高速公路、城市快速路以外的道路上行驶超过规定时速百分之十以上未达到百分之二十的；（二）驾驶机动车不按规定会车，或者在高速公路、城市快速路以外的道路上不按规定倒车、掉头的；（三）驾驶机动车不按规定使用灯光的；（四）驾驶机动车违反禁令标志、禁止标线指示的；（五）驾驶机动车载货长度、宽度、高度超过规定的；（六）驾驶载货汽车载物超过最大允许总质量未达到百分之三十的；（七）驾驶未按规定定期进行安全技术检验的公路客运汽车、旅游客运汽车、危险物品运输车辆以外的机动车上道路行驶的；（八）驾驶擅自改变已登记的结构、构造或者特征的载货汽车上道路行驶的；（九）驾驶机动车在道路上行驶时，机动车驾驶人未按规定系安全带的；（十）驾驶摩托车，不戴安全头盔的。

12、这是什么操纵装置？

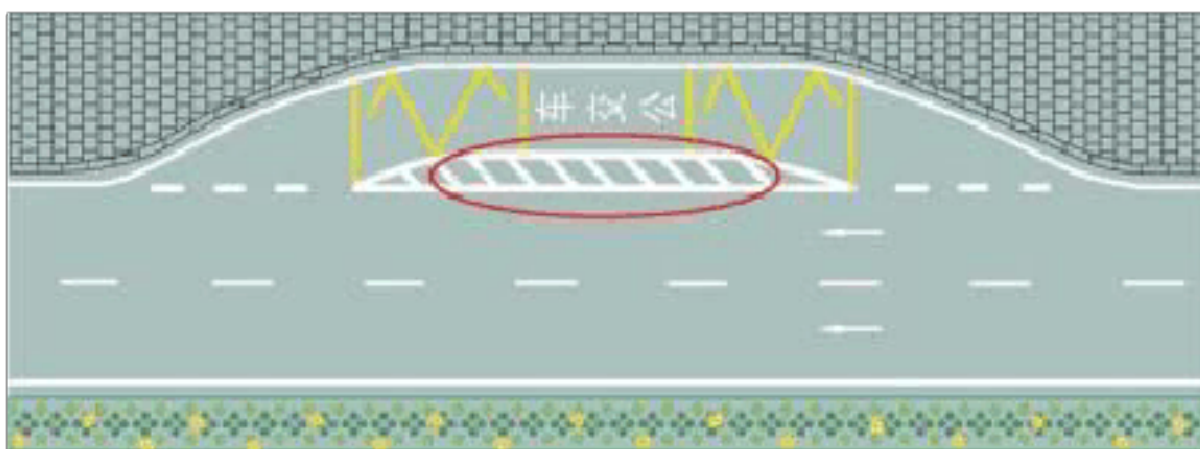


- A、除雾器开关
- B、转向灯开关
- C、前照灯开关
- D、刮水器开关

正确答案：A

分析：你看那些曲线，代表的就是雾气。题目扩展：上边的按钮是前挡风除雾，下边的按钮是后挡风除雾。

13、红色圆圈内标线含义是什么？



- A、临时停靠站
- B、大客车停靠站
- C、公交车停靠站
- D、应急停车带

正确答案：C

分析：都写了公交站了，不许选错了

14、在这样的情况下可以加速超车。



A、正确

B、错误

正确答案：B

分析：看到绿车前边那个老人家没，而且前边就是人行横道，要慢行啊

15、这个标志是何含义？



A、十字交叉路口预告

B、互通式立体交叉预告

C、Y型交叉路口预告

D、环行交叉路口预告

正确答案：B

分析：互通式立体交叉由直行车道、匝道、匝道连接部、立体交叉跨线桥和其他交通设施等组成。。。可分为一般互通式立体交叉和枢纽互通式立体交叉。。。可分为三岔交叉、四岔交叉和多岔交叉。

16、驾驶校车在高速公路上行驶超过规定时速未达 20% 的，对驾驶人处以（ ）的处罚。

- A、罚款 100 元、驾驶证记 3 分
- B、罚款 200 元、驾驶证记 3 分
- C、罚款 100 元、驾驶证记 6 分
- D、罚款 200 元、驾驶证记 6 分

正确答案：D

分析：驾驶校车、中型以上载客载货汽车、危险物品运输车辆在高速公路、城市快速路上行驶超过规定时速未达到 20%，一次记 6 分，罚款 200 元；超过规定时速 20% 的，一次记 12 分，罚款 200 元。

17、驾驶车辆进入交叉路口前，应降低行驶速度，注意观察，确认安全。

- A、正确
- B、错误

正确答案：A

分析：常识题，必须遵守的安全行车准则。

18、机动车之间发生交通事故造成轻微财产损失，当事人对事实及成因无争议时，在确保安全的原则下，对现场拍照或标划事故车辆现场位置后，可自行撤离现场处理损害赔偿事宜，主要目的是什么？

- A、双方互有损失
- B、找现场证人就行了，不必报警
- C、为了及时恢复交通，避免造成交通拥堵
- D、事故后果很小，无需赔偿

正确答案：C

分析：当事人对事实及成因都没有争议了，如果继续在路中逗留，不仅不利于事故解决，还会造成交通拥堵。因此应该在对现场拍照或标划事故车辆现场位置后，及时撤离现场。

19、装有 ABS 系统的机动车在冰雪路面上会最大限度缩短制动距离。

A、正确

B、错误

正确答案：B

分析：我来仔细说一下，ABS 是防抱死系统，轮胎不会抱死侧滑。现在的车基本上 ABS 是标配。这个问题的后面是错的，最大限度的缩短距离应该是手刹拉，脚刹踩，是这个错

20、交通肇事致一人以上重伤，负事故全部或者主要责任，并具有下列哪种行为的，构成交通肇事罪？

A、未带驾驶证

B、酒后、吸食毒品后驾驶机动车辆的

C、未报警

D、未抢救受伤人员

正确答案：B

分析：酒驾之类的情节更严重，所以选这个，另外 2014 年 7 月新增的有 4 道类似的题目，一般都是选无证驾驶、酒驾、超载之类的选项。

21、驾驶机动车遇到非机动车违法在机动车道上行驶，并阻碍机动车前进时，以下做法错误的是什么？

A、注意非机动车辆的动向，减速行驶

B、谨慎驾驶低速通过

C、持续鸣喇叭警告非机动车避让

D、保持与非机动车安全车距

正确答案：C

分析：驾驶机动车遇到非机动车违法在机动车道上行驶，并阻碍机动车前进时，应该注意非机动车辆的动向减速行驶；谨慎驾驶低速通过；保持与非机动车安全车距；避让非机动车。请注意！题目要求选出做法错误的选项，因此“持续鸣喇叭警告非机动车避让”做法错误。

22、在路口遇这种情形怎样通行？



- A、鸣喇叭告知让行
- B、直接加速转弯
- C、让左方来车先行
- D、减速缓慢转弯

正确答案：C

分析：右侧有减速让行的标志，况且人家都到路口了，你还差那么远，要让。

23、路面上的白色标线是何含义？



- A、车行道横向减速标线
- B、道路施工提示标线
- C、车行道纵向减速标线
- D、车道变少提示标线

正确答案：A

分析：车行道纵向减速标线为一组平行于车行道分界线的菱形块虚线。通常设在上下桥位、转弯位，它的主要作用是通过车道视觉上变窄形成压迫感，使驾驶员在需要减速的弯道、坡道等位置自动减速。其次，你要知道什么是纵速，什么是横速。

24、安装防抱死制动装置（ABS）的机动车在紧急制动时，制动距离会大大缩短，因此不必保持安全车距

A、正确

B、错误

正确答案：B

分析：这种错误认识是由于不了解 ABS 的工作原理导致的。ABS 可以兼顾车辆行驶中的最大的纵向制动力和横向抓地力，有效地保证车辆不会发生失控状况，但不是所有配置了 ABS 的车辆都会缩短制动距离，如冰雪、潮湿路面上的制动距离比车轮抱死时短一些，但在一般路面上的制动距离反而更长。

25、机动车驾驶人在实习期内驾驶机动车上高速公路行驶，无相应或者包含其准驾车型驾驶证三年以上的驾驶人陪同的，对驾驶人处以（ ）的处罚。

A、罚款 50 元

B、罚款 100 元

C、罚款 200 元

D、罚款 150 元

正确答案：C

分析：《机动车驾驶证申领和使用规定》规定：驾驶人在实习期内驾驶机动车上高速公路行驶，应当由持相应或者包含其准驾车型驾驶证三年以上的驾驶人陪同。其中，驾驶残疾人专用小型自动挡载客汽车的，可以由持有小型自动挡载客汽车以上准驾车型驾驶证的驾驶人陪同。

26、这个标志的含义是前方即将行驶至 Y 型交叉路口？



A、正确

B、错误

正确答案：B

分析：警告标志 T 型交叉路口。用以警告车辆驾驶人谨慎慢行，注意横向来车。设在平面交叉路口驶入路段的适当位置。

27、这个标志是何含义？



A、禁止向右转弯

B、禁止向左转弯

C、向左和向右转弯

D、禁止向左右转弯

正确答案：C

分析：向左和向右转弯：表示只准一切车辆向左和向右转弯。此标志设在车辆必须向左和向右转弯的路口以前适当位置。

28、驾驶机动车发生交通事故未造成人身伤亡的，责任明确双方无争议时，应当如何处置？

A、保护好现场再协商

B、不要移动车辆

C、疏导其他车辆绕行

D、撤离现场自行协商

正确答案：D

分析：《中华人民共和国道路交通安全法》第七十条明确规定在道路上发生交通事故，未造成人身伤亡，当事人对事实及成因无争议的，可以即行撤离现场，恢复交通，自行协商处理损害赔偿事宜；不即行撤离现场的，应当迅速报告执勤的交通警察或者公安机关交通管理部门。

29、在路口直行看到图中这种情况，要在停止线以外停车，等待对面直行车通过后再起步。




A、正确

B、错误

正确答案：B

分析：图中为绿灯，可以直行，不用等待对面直行车通过后再起步。

30、这个路面标记是什么标线？



A、禁驶区

B、网状线


C、中心圈

D、导流线

正确答案：C

分析：中心圈，设置在交叉路口中心的白色圆形或菱形区域，用以区分车辆大、小转弯，及交叉路口车辆左右转弯的指示，车辆不得压线行驶。 机动车向左转弯时，必须紧靠中心圈小转弯。

31、在这段道路上不能掉头。



A、正确

B、错误

正确答案：A

分析：黄色实线是不可以压的，况且是弯道不能掉头。

32、为什么规定辅路车让主路车先行？

A、主路车流量大、速度快

B、辅路车便于观察

C、主路车流量小、速度快

D、辅路车速度快

正确答案：A

分析：当然辅路让主路。

33、机动车达到国家规定的强制报废标准的不能办理注册登记。

A、正确

B、错误

正确答案：A

分析：2012《机动车登记规定》第九条 有下列情形之一的，不予办理注册登记：（七）机动车达到国家规定的强制报废标准的；

34、交通信号灯由红灯、绿灯和黄灯组成

A、正确

B、错误

正确答案：A

分析：嗯，目前我还没见到过其他颜色的灯。

35、路口转弯过程中，持续开启转向灯，主要是因为什么？

A、完成转弯动作前，关闭转向灯是习惯动作

B、让其他驾驶人知道您正在转弯

C、让其他驾驶人知道您正在超车

D、完成转弯动作前，关闭转向灯会对车辆造成损害

正确答案：B

分析：A 错误，完成转弯前，要一直开着转向灯，C 错误，正在路口转弯，不是超车。D 错误，关转向灯怎么会造成车辆损害，乱说。只有 B 正确。

36、驾驶人在驾驶证核发地车辆管理所管辖区以外地方居住的，可以向政务大厅申请换证。

A、正确

B、错误

正确答案：B

分析：《机动车驾驶证申领和使用规定》第六十四条，机动车驾驶人户籍迁出原车辆管理所管辖区的，应当向迁入地车辆管理所申请换证。机动车驾驶人在核发地车辆管理所管辖区以外居住的，可以向居住地车辆管理所申请换证。申请时应当确认申请信息，提交机动车驾驶人的身份证明和机动车驾驶证，并申报身体条件情况。

37、驾驶机动车有拨打、接听手持电话行为的，一次记多少分？

A、2分

B、3分

C、6分

D、12分

正确答案：A

分析：驾驶机动车时有拨打、接听手持电话、观看电视等妨碍安全驾驶的行为的，一次应记2分。判断开车打电话主要依据是“手持电话”，即手离开了方向盘。在驾车过程中，一定不要接打电话，这是遵守交通法规的行为，也是避免事故的表现，更是为自己、为他人生命安全负责的一种态度和担当。

38、会车中遇到对方来车行进有困难需借道时，应怎样做？

A、不侵占对方道路，正常行驶

B、示意对方停车让行

C、靠右侧加速行驶

D、尽量礼让对方先行

正确答案：D

分析：尽量礼让一下吧，我们也会遇到这样的困难。

39、驾驶机动车遇到这种信号灯不断闪烁时怎样行驶？



A、尽快加速通过

B、靠边停车等待

C、注意观望安全通过

D、禁止通行

正确答案：C

分析：路口只有一个黄灯，并持续闪烁，警示驾驶人要注意瞭望，确认安全通过。

40、图中车辆存在什么违法行为？



- A、没开启远光灯
- B、没有及时让行
- C、占用内侧车道
- D、没开启信号灯

正确答案：D

分析：夜间驾驶，灯光有照明和信号两方面的作用，应根据行驶中的实际情况正确使用。

41、这个标志的作用是用以警告车辆驾驶人谨慎慢行，注意横向来车。



- A、正确
- B、错误

正确答案：A

分析：本题答案:正确，图片分析，警告标志十字路口，驾驶人谨慎慢行，注意横向来车。

42、行车中水温报警灯亮，下列可能是其原因的是？

- A、缺少润滑油
- B、指示灯损坏
- C、.缺少冷却液
- D、冷却液过多

正确答案：C

分析：冷却液过少才会导致发动机水温过高

43、行车中当驾驶人意识到车辆爆胎时，应在控制住方向的情况下采取紧急制动，迫使车辆迅速停住。

- A、正确
- B、错误

正确答案：B

分析：不要紧急刹车，容易出现侧翻事故的，应该是握紧方向，同时控制车速，慢慢停车。

44、有吸食、注射毒品后驾驶驾车行为的机动车驾驶人，不会被注销驾驶证。

- A、正确
- B、错误

正确答案：B

分析：本题答案：错误，此题错误在【不会被注销驾驶证】；应该是吊销驾驶证，3年内不得申请驾照。

45、直线行驶时，车速越快，转向盘操作量应越小，转动转向盘的速度也应越慢。

- A、正确
- B、错误

正确答案：A

分析：直线行驶时，转向盘的操作量应与汽车行驶速度成反比。车速越快，转向盘操作量应

越小，转动转向盘的速度也应越慢。

46、驾驶机动车在铁路道口、桥梁、陡坡、隧道或者容易发生危险的路段不能掉头。

A、正确

B、错误

正确答案：A

分析：《中华人民共和国道路交通安全法实施条例》第四十九条第一款 机动车在有禁止掉头或者禁止左转弯标志、标线的地点以及在铁路道口、人行横道、桥梁、急弯、陡坡、隧道或者容易发生危险的路段,不得掉头。”

47、机动车在道路上发生轻微交通事故且妨碍交通时，不需移动。

A、正确

B、错误

正确答案：B

分析：机动车在道路上发生轻微交通事故就赶紧协商一下花不了几百块，不要挡着路了就，不然大家都过不去堵在一起了。

48、交叉路口不得倒车的原因是什么？

A、交通情况复杂，容易造成交通堵塞甚至引发事故

B、交通监控设备多

C、交通警察多

D、车道数量少

正确答案：A

分析：当然是选A，交叉路口情况复杂，倒车容易引发危险。

49、通过人行横道应减速慢行，遇到行人则需停车让行。



A、正确

B、错误

正确答案：A

分析：驾驶机动车通过人行横道时，应减速慢行；遇行人或非机动车通过人行横道时，及时停车让行，不得抢行或绕行。因此，题干表述正确。

50、机动车仪表板上（如图所示）亮，表示驻车制动器操纵杆可能没松到底



A、正确

B、错误

正确答案：B

分析：这个中间是个“！”的，且字中间是红色的表示制动系统出现异常；这个中间要是个“P”的，表示驻车制动器制动状态。

51、驾驶人行车中看到注意儿童标志的时候，应怎样做？

A、加速行驶

B、绕道行驶

C、谨慎选择行车速度

以上内容仅为本文档的试下载部分，为可阅读页数的一半内容。如要下载或阅读全文，请访问：<https://d.book118.com/277156020024010004>