

# 期末质量监测真题精选（六）

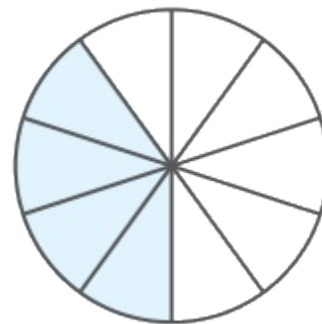

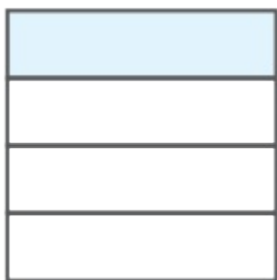
时间:70分钟 满分:100分



一 仔细推敲，选一选。（将正确答案的序号填在括号里）  
（每题1分，共12分）

1.三位同学分别画图用阴影部分表示0.4，正确的是( C )。

A.



2.下面和面积有关的是( A )。

A.粉刷自己房间的墙壁

B.家到学校的距离

C.给茶几贴一圈防撞棉条



3.2009年第63届联合国大会决议将每年的4月22日定为“世界地球日”，到2024年4月22日正好是( **B** )整年。

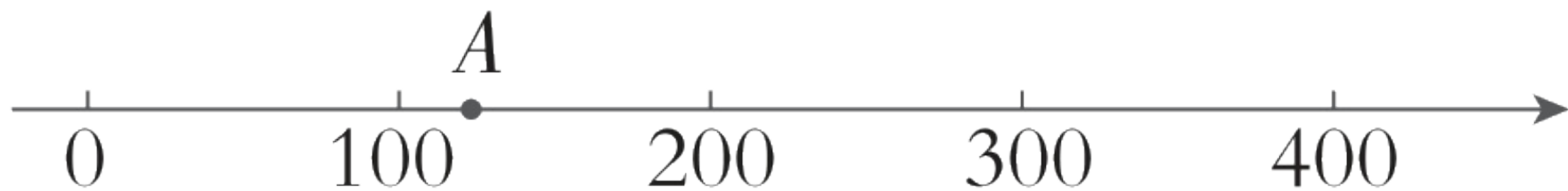
A.14

B.15

C.16



4.估一估，图中点A表示的数可能是下面算式( **B** )的得数。



A.  $261 + 102$

B.  $728 \div 6$

C.  $72 \times 47$



5.下面说法正确的有( C )个。

① $754 \div 8$ 的商的最高位是十位。

② $37 \times 48$ 的积是三位数。

③小数2.75读作：二点七十五。

A.3

B.2

C.1



6.小琪一步长约40厘米，她沿着长方形客厅的长走了15步，沿着宽走了10步，客厅的面积约为( B )平方米。

A.20

B.24

C.240

**【点拨】**这个客厅的长为 $(15 \times 40)$ 厘米，宽为 $(10 \times 40)$ 厘米，根据“长方形的面积=长 $\times$ 宽”计算即可。



7.下面的算式中，积最大的是( C )。

A.  $30 \times 30$

B.  $31 \times 29$

C.  $38 \times 27$

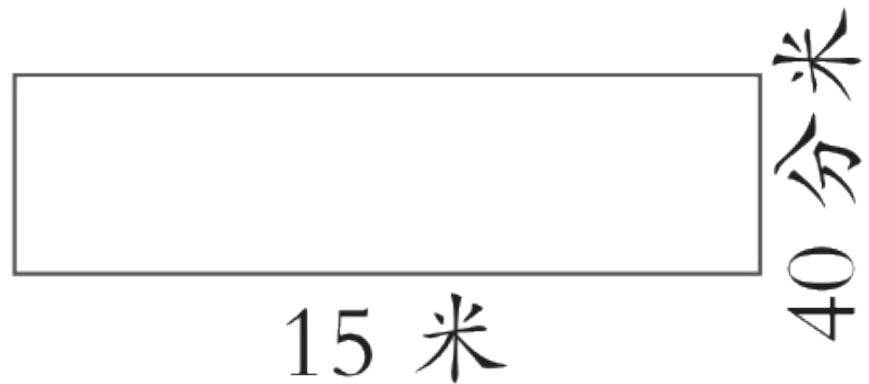




8.奶奶家有一块长方形空地（如下图）。

奶奶平均每分钟锄地2平方米，

锄完这块空地需要( A )分钟。



A.30

B.35

C.60

**【点拨】**先根据“长方形的面积=长×宽”求出这块空地的面积，再用这块空地的面积除以奶奶每分钟锄地的面积，即可求出锄地的时间。注意单位要统一。



9.天天超市今天卖出13箱某品牌的矿泉水，每箱24瓶，每瓶售价2元。在解决“一共卖了多少钱？”这个问题时，小刚的思路是：“先计算每箱卖了多少钱，再计算一共卖了多少钱。”下面符合这一思路的算式是( **B** )。

A.  $13 \times 24 \times 2$

B.  $24 \times 2 \times 13$

C.  $13 \times 2 \times 24$



10.端午节又叫端阳节，传说是为了纪念楚国诗人屈原而设。今年端午节前某商店举办为期7天的“端午品香粽”活动，5月28日（星期三）开始，结束的最后一天是星期( C )。

A.一

B.六

C.二

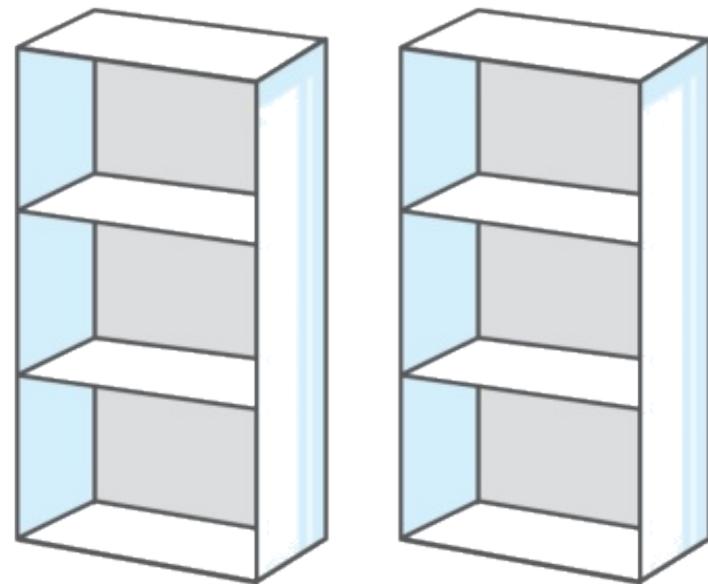


11.丽丽要把192本书放在如下图的2个书架上，平均每个书架每层放( C )本。

A.96

B.64

C.32



**【点拨】**根据题意可知，每个书架有3层，可以先求平均每个书架放多少本书，再求平均每个书架每层放多少本书，列式为 $192 \div 2 \div 3 = 32$ （本）。



12.甜甜参加了学校的书法社团，她5小时写了239个字。估计一下甜甜平均每小时大约写多少个字？下面是三位同学的估算过程，( **B** )估算的更精确些。

A.聪聪：239接近300,  $239 \div 5 \approx 60$ ，甜甜平均每小时大约写60个字

B.奇奇：239接近250,  $239 \div 5 \approx 50$ ，甜甜平均每小时大约写50个字

C.妙妙：239接近200,  $239 \div 5 \approx 40$ ，甜甜平均每小时大约写40个字



 认真审题，填一填。（每空1分，共16分）

1.在括号里填上合适的数或单位名称。

9平方米=( 900 )平方分米

200厘米=( 20 )分米

48个月=( 4 )年

5元6角=( 5.6 )元

手机屏幕的大小约80( 平方厘米 )

一支钢笔的长约1.5

( 分米 )

小华家房子的面积约140( 平方米 )



2. 在  里填上“>”“<”或“=”。

$60 \text{ cm}^2$    $6 \text{ dm}^2$        $30 \text{ dm}$    $3 \text{ m}$        $16.7$    $18$



3.新郑市博物馆位于黄帝故里西侧300米处，是河南省县（市）级规模最大、馆藏文物最多的博物馆。下面是它全天的开放时间，上午( 8 : 30 )开始，下午( 18 : 00 )结束，每天共开放( 6 )小时( 30 )分钟。





4.妈妈想买一些洗衣液，一桶48元，妈妈用150元买3桶，钱够吗？  
( 够 ) ( 填“够”或“不够” )。理由是： $48 \times 3 = 144$  (元)，小于150元，所以钱够 (理由不唯一，合理即可)。



 细心的你，算一算。（共21分）

1.直接写出得数。（6分）

$84 \div 2 = ( 42 )$

$140 \times 20 = ( 2800 )$

$26 \times 300 = ( 7800 )$

$50 \div 5 = ( 10 )$

$2.1 + 4.8 = ( 6.9 )$

$8.7 - 3 = ( 5.7 )$

$360 \div 9 = ( 40 )$

$81 + 47 \approx ( 130 )$

$0 \div 70 = ( 0 )$

$82 - 65 = ( 17 )$

$1 - 0.8 = ( 0.2 )$

$38 \times 32 \approx ( 1200 )$



2.列竖式计算。（带☆的要验算）（每题3分，带☆的4分，共13分）

$$78 \times 82 = ( 6396 )$$

$$\begin{array}{r} 78 \\ \times 82 \\ \hline 156 \\ 624 \\ \hline 6396 \end{array}$$



$$24.6 + 15.7 = ( 40.3 )$$

$$\begin{array}{r} 24.6 \\ + 15.7 \\ \hline 40.3 \end{array}$$



$$183 \div 4 = ( 45 \dots\dots\dots 3 )$$

$$\begin{array}{r} 45 \\ 4 \overline{) 183} \\ \underline{16} \phantom{0} \\ 23 \\ \underline{20} \\ 3 \end{array}$$



$$\star 654 \div 6 = ( 109 )$$

$$\begin{array}{r} 109 \\ 6 \overline{) 654} \\ \underline{6} \phantom{0} \\ 54 \\ \underline{54} \\ 0 \end{array}$$

$$\begin{array}{r} 109 \\ \times 6 \\ \hline 654 \end{array}$$



以上内容仅为本文档的试下载部分，为可阅读页数的一半内容。如要下载或阅读全文，请访问：  
<https://d.book118.com/278032101040007007>