

# 2024 年湖南省衡阳市初中毕业学业水平考试试卷

## 历史

考生注意：

1、本试卷分试题卷、答题卡两局部，试题卷 6 页，答题卡 2 页。答案必须写入答题卡，否则不计分。

2、本卷共三道大题，29 个小题。总分值 100 分。考试时量 90 分钟。

3、考议结束后，考生将试题卷、答题卡全部交回。

### 一、选择题〔每题 2 分，共 20 小题 40 分。每题只有一个正确答案〕

1. “稻花香里话丰年”。据考古发现，以下原始居民中最早栽培水稻的是〔 〕

A. 北京人    B. 河姆渡人    C. 半坡人    D. 山顶洞人

2. 中共中央发布了改良工作作风的八项规定，大力提倡“例行勤俭节约、严守廉洁从政”。古时候即有“居安思危，戒奢以俭”的皇帝，他在魏征劝谏后，即能身体力行、持之以恒，这位皇帝是〔 〕

A. 隋炀帝    B. 汉武帝    C. 唐太宗    D. 唐玄宗

3. 以下的三幅图片最能直接地反映了宋代哪一方面的繁荣？〔 〕



宋代货币图



北宋“交子”铜版拓片



南宋纸币铜版拓片

A. 农业繁荣    B. 手工业繁荣    C. 商业繁荣    D. 文化繁荣

4. 康有为在诗中写道：“海东龙泣舰沉波，上相锚轩〔古代使臣乘坐的一种轻车〕出议和…台人号泣秦桧歌，九城谣谍遍网罗。”该诗中的“议和”与以下哪一条约的签订有关〔 〕

A. ?南京条约?    B. ?北京条约?    C. ?马关条约?    D. ?辛丑条约?

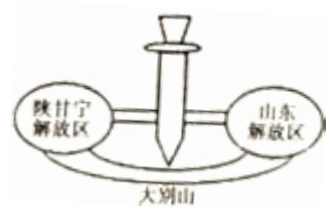
5. 19 世纪 80 年代，一位住在天津的高官要与在上海的亲友取得联系，以下可以选择的最正确手段是〔 〕

A. 拍电报    B. 写封书信    C. 上网    D. 打移动电话

6. 为迎接中国共产党的生日，某校学生决定编排历史情境剧《红旗飘扬》。其中有一场景与历史史实不符，请帮助找出来（ ）

- A. 南昌起义—创立人民军队，独立领导武装斗争
- B. 井冈山会师—成立中国工农红军，稳固了井冈山革命根据地
- C. 遵义会议—毛泽东思想写进中国共产党党章，成为指导思想
- D. 红军长征—使中国革命转危为安，为开创中国革命的新局面奠定了根底

7. 右图描绘的是解放战争期间某一军事行动的战略态势，揭开了人民解放军全国性战略反攻的序幕，以下描述与其相符合的是（ ）



- A. “千里跃进，逐鹿中原”
- B. “攻占锦州，关门打狗”
- C. “分割包围，瓮中捉鳖”
- D. “百万雄师，三路渡江”

8. 《人民日报》1958年8月13日消息：麻城建国一社出现天下第一田，早稻亩产三万六千九百多斤。这一报道出现于（ ）



- A. 土地改革时期
- B. 农业合作化时期
- C. 大跃进时期
- D. 改革开放时期

9. 以下遗址和文物代表着不同国家和地区的古代文明，其中代表非洲文明成就的是（ ）

- A. 克里特白王宫遗址
- B. 狮身人面像和金字塔
- C. 空中花园想象图
- D. 罗马广场

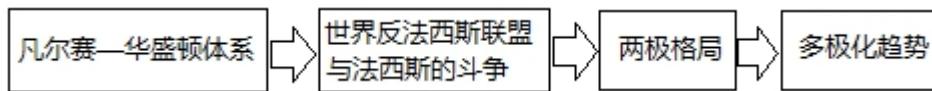
10. 英国人富勒在《西洋世界军事史》中说：“随着这一战，我们也就站在了西方世界的门坎上面，在这个世界之内，希腊人的智慧为后来的诸国，奠定了立国的根底。”文中“这一战”发生在公元前5世纪后期，它是东西两大古文明的碰撞，在世界古代史上产生了重要的影响。请你判断，“这一战”是（ ）

- A. 希波战争
- B. 布匿战争
- C. 罗马内战
- D. 十字军东征

11. 一位美国史学家描述道：“……乘船在悲惨的‘中段航程’中横渡大西洋。这些黑色‘货物’上了镣铐，锁在甲板上，没有卫生设备，他们忍受着可怕的待遇……”这里所说的“黑色货物”主要来自于（ ）

- A. 欧洲
- B. 非洲
- C. 南美洲
- D. 北美洲

12. 在苏联社会主义建设道路的探索中，最能开展商品经济，改善人民生活的是（ ）  
 A. 新经济政策      B. 斯大林模式      C. 赫鲁晓夫改革      D. 戈尔巴乔夫改革
13. 李老师出示了以下三个信息，与之相符合的史实是（ ）  
 信息一：经济大危机  
 信息二：?国家工业复兴法?  
 信息三：资本主义国家对经济的宏观控制与管理得到了加强。  
 A. 美国南北战争      B. 罗斯福新政      C. 杜鲁门主义      D. 马歇尔方案
14. 1995 年，被誉为“经济领域的联合国”的国际组织成立，该组织是（ ）  
 A. 欧洲联盟      B. 世界贸易组织      C. 联合国      D. 北大西洋公约组织
15. 观察下面的结构示意图，你认为反映的主题是（ ）



- A. 国际经济格局的演变      B. 殖民地反对列强侵略的斗争  
 C. 国际政治格局的演变      D. 社会主义与资本主义的对抗
16. 战国后期，秦国占领楚国黔中部，在湘江流域设立的地方行政管理机构是（ ）  
 A. 南郡      B. 长沙郡      C. 衡山郡      D. 九江郡
17. 以下不属于北伐战争在湖南进军中的重大战役地点的是（ ）  
 A. 衡阳      B. 平江      C. 长沙      D. 桑植
18. 国民党正面战场由防御到反攻的转折点是（ ）  
 A. 长沙会战      B. 常德会战      C. 湘西会战      D. 长衡战役
19. 他是湖南湘潭人，建国后被授予元帅军衔，曾任国务院副总理和国防部长，他是（ ）  
 A. 彭德怀      B. 贺龙      C. 刘少奇      D. 罗荣桓
20. 以下湘籍著名艺术家中，被新中国文化部授予“中国人民杰出的艺术家”称号的是（ ）  
 A. 贺绿汀      B. 齐白石      C. 田汉      D. 欧阳予倩

## 二、填空题（每题 2 分，共 5 小题 10 分）

21. 世界上现存的第一部比拟完备的成文法典是?\_\_\_\_\_?，我国现存的第一部内容完整的农书是?\_\_\_\_\_?。

22. 北宋大画家\_\_\_\_\_的《清明上河图》是风俗画的代表作，英国伟大的戏剧家\_\_\_\_\_通过《哈姆雷特》等作品宣扬人文主义精神。
23. 抗战以来，李宗仁指挥中国军队在正面战场取得的最大胜利是\_\_\_\_\_战役，二战中，开辟了打击法西斯第二战场的重大事件是\_\_\_\_\_登陆战。
24. \_\_\_\_\_年，苏联成立，\_\_\_\_\_年，中国恢复在联合国的合法席位。
25. 鸦片战争使中国开始沦为\_\_\_\_\_社会，欧盟的性质是由区域性经济合作组织向\_\_\_\_\_目标迈进。

### 三、探究题（共4小题50分）

26. 君主专制中央集权是中国古代政治制度的重要特点，阅读以下材料，答复以下问题。

材料一 秦朝行政管理系统示意图



- (1) 根据材料一，秦始皇为建立君主专制中央集权制度，采取了什么措施？

材料二 “臣愚以为诸不在六艺（六经）之科、孔子之术者，皆绝其道，勿使并进。邪辟之说灭息，然后统纪可一，民之所从矣。”

——《汉书·董仲舒传》

- (2) 材料二中董仲舒向汉武帝提出了怎样的建议？这一建议被采纳后对儒家思想产生了什么影响？

材料三 罢丞相不设，析中书省政要归六部，以尚书任天下事…而殿阁大学士只备参谋。帝方自操权柄，学士鲜所参决。

- (3) 材料三反映了我国那一朝代官制的变化？

材料四 故宫导游说：“这个不起眼的‘偏房’（右图），



在雍正时代及以后的清朝政治生活中，成为了这个王朝的权力中心。”

- (4) 导游所说的“偏房”指的是哪一机构？

- (5) 以上材料反映了中国古代君主专制制度怎样的开展趋势？

27. 弘扬民族精神，践行社会主义核心价值观，既是现实要求，也是历史赋予我们的使命。阅读以下材料，答复以下问题。

**【民主】**

材料一孙中山先生说“我们革命的目的，是为了中国谋幸福，因不愿少数满洲人专制，故要民族革命；不愿君主一人专制，故要政治革命；不愿少数富人专制，故要社会革命”。

(1) 根据材料一概括孙中山领导辛亥革命指导思想的主要内容。结合所学知识分析辛亥革命对我国近代民主政治建设的主要奉献是什么？

**【爱国】**

材料二 1919年5月4日，北京学生高呼“外争国权，内惩国贼”、“拒绝在合约上签字”等口号，发表宣言，揭露帝国主义的强盗行为，举行示威游行，火烧曹宅…6月5日，为支援学生的爱国行为，上海工人首先举行罢工。无产阶级登上政治舞台…五四爱国运动取得初步胜利。

(2) 根据材料二归纳五四精神的核心。结合所学知识指出五四运动再近代中国民主革命进程中的地位。

**【富强】**

材料三“20世纪的最后20年，在世界的东方，中国进行了一场卓有成效的社会变革，解放了思想的中国人焕发出蓬勃的创造力，书写了一个时代最为传奇的一页”——《复兴之路》解说词

(3) 请写出“书写了一个时代最为传奇的一页”的总设计师是谁？20世纪的最后20年，他领导中国人民对民族复兴之路进行过哪些探索？

(4) 作为一名中学生，在生活学习中你打算如何践行社会主义核心价值观？

28. 五百年来，在人类现代化进程的大舞台上，相继出现了九个世界性大国。他们的强国历程为世界关注。阅读以下材料，答复以下问题。

**【从地区史到全球史】**

材料一 1500年以前，人类基本上生活在彼此隔绝的地区中。…直到1500年前后，各种族集团之间才第一次有了直接的交往。…

因此，1500 年是人类历史上的一个重要转折点。

—（美）斯塔夫里阿诺斯《全球通史》

（1）试根据材料一并结合所学知识判断，1500 年左右世界史上发生了什么大事？试说明“1500 年是人类历史上的一个重要转折点”的依据。

### 【百年维新】

材料二美国黑船压境的傲慢和强势，凸现出幕府的软弱无能，来自外部的压力终于演变为内部变革的动力。最终，武士们以王政复古的名义推翻了幕府，扶持刚刚登基的明治天皇，建立起合法的新政府。14 岁的明治天皇成为日本国的最高领袖。年轻的天皇所要领导的，是一个内忧外患、危机四伏的日本。

—《大国崛起》解说词

（2）请说出日本摆脱“内忧外患”的事件性质如何？（1 分）这一事件对日本历史的开展有何积极影响？（2 分）

### 【走向现代】

材料三此时的英国，正在孕育人类历史上一种崭新的生产方式，后世称之为“工业革命”。持续的海外扩张和殖民贸易，带动了对商品的需求；科学意识和市场意识，提高了英国人普遍的认识水准。在各种合力下，英国成为世界上第一个工业化国家，开创了影响深远的自由主义经济模式，并建立起一个地跨全球的“日不落帝国”，在 18 世纪中期到 19 世纪中期，引领着世界的开展。

（3）历史是奔腾不息的洪流，事件就是影响沧浪前进的砂石。根据材料三并结合所学知识说出对英国崛起产生深远影响的两件大事。

### 【新国新梦】

材料四电视专题片《大国的崛起》有这样一段解说词：“在美国首都华盛顿，林肯纪念堂和华盛顿纪念碑遥遥相望。有人说，是华盛顿创立了美国，是林肯拯救了美国。”

（4）你认为林肯对美国最大的奉献是什么？他用什么方式拯救了美国？

（5）现在我们正走在实现“中国梦”的伟大征途上，以上材料中大国的崛起过程对我们实现“中国梦”留下了什么启示？

29. 科技创新是  
的重要动  
答复以下问




推动社会进步与开展  
力。阅读以下材料，  
题：

材料一



(1) 根据材料一并结合所学知识写出中国古代四大创造的名称，并任选其中一项创造分析其对世界文明开展所起的重要作用。

材料二



(2) 上列图片中哪些属于第二次科技革命的成果？（只需填写序号）

(3) 根据材料二，指出第一次和第二次科技革命为工业生产提供的动力有何不同？

材料三



(4) 根据材料三并结合所学知识，说出第三次科技革命主要在哪些领域展开？



# 2024 年湖南省衡阳市中考历史试卷

参考答案与试题解析

## 一、选择题（共 20 小题，每题 2 分，总分值 40 分）

1. “稻花香里话丰年”。据考古发现，以下原始居民中最早栽培水稻的是（ ）

A. 北京人 B. 河姆渡人 C. 半坡人 D. 山顶洞人

**【考点】**河姆渡的原始农耕。

**【分析】**此题考查河姆渡原始居民。

**【解答】**半坡原始居民种植粟，河姆渡原始居民种植水稻，中国是世界上最早培植水稻和粟的国家。

应选 B。

**【点评】**掌握河姆渡原始居民的相关知识。

2. 中共中央发布了改良工作作风的八项规定，大力提倡“例行勤俭节约、严守廉洁从政”。古时候即有“居安思危，戒奢以俭”的皇帝，他在魏征劝谏后，即能身体力行、持之以恒，这位皇帝是（ ）

A. 隋炀帝 B. 汉武帝 C. 唐太宗 D. 唐玄宗

**【考点】**唐太宗的纳谏和用人。

**【分析】**此题考查学生对唐太宗用人的认识。

**【解答】**注意抓住题干中的关键信息“居安思危，戒奢以俭”“魏征劝谏”，根据所学可知，唐太宗注意吸取隋朝灭亡的教训，居安思危，重用魏征等，出现了著名的盛世“贞观之治”。

应选 C。

**【点评】**此题难度不大，注意扎实掌握唐太宗的主要统治措施。

3. 以下的三幅图片最能直接地反映了宋代哪一方面的繁荣？（ ）



宋代货币图



北宋“交子”铜版拓片



南宋纸币铜版拓片

A. 农业繁荣 B. 手工业繁荣 C. 商业繁荣 D. 文化繁荣

**【考点】**宋代的社会生活；宋代南方经济的开展。

**【分析】**此题考查了宋代商业繁荣的表现。

**【解答】**题干给出的货郎、两宋纸币图片都属于商业领域，它们反映了宋代商业的繁荣。

应选 C。

**【点评】**此题主要考查学生的综合归纳能力，需要全面分析题干相关内容，寻找共同之处，确定主题。

4. 康有为在诗中写道：“海东龙泣舰沉波，上相锚轩〔古代使臣乘坐的一种轻车〕出议和…台人号泣秦桧歌，九城谣谍遍网罗。”该诗中的“议和”与以下哪一条约的签订有关（ ）

A. ?南京条约? B. ?北京条约? C. ?马关条约? D. ?辛丑条约?

**【考点】**?马关条约?。

**【分析】**此题考查?马关条约?及其影响。

**【解答】**“海东龙泣舰沉波”指的是甲午中日战争中北洋舰队全军覆没，“上相锚轩〔古代使臣乘坐的一种轻车〕出议和…台人号泣秦桧歌，九城谣谍遍网罗。”指的是清政府战败后，李鸿章远赴日本签订?马关条约?，割让台湾给日本。

应选 C。

**【点评】**熟记?马关条约?的内容及影响。

5. 19 世纪 80 年代，一位住在天津的高官要与在上海的亲友取得联系，以下可以选择的最正确手段是（ ）

A. 拍电报 B. 写封书信 C. 上网 D. 打移动电话

**【考点】**近代生活的变迁和社会习俗的变化。

**【分析】**此题考查了我国近代生活的变化。

**【解答】**根据题目所给时间，结合所学知识可知这时正处于第二次工业革命以后，期间的通讯工具电报也已经传入中国。写书信自古有之，但速度慢，不合题意；C、D 分别出现于第三次科技革命和第二次工业革命中，此时并没有创造。

应选 A。

**【点评】**掌握三次科技革命的时间及其主要创造。

6. 为迎接中国共产党的生日，某校学生决定编排历史情境剧“红旗飘扬”。其中有一场景与历史史实不符，请帮助找出来（ ）

- A. 南昌起义—创立人民军队，独立领导武装斗争 B. 井冈山会师—成立中国工农红军，稳固了井冈山革命根据地 C. 遵义会议—毛泽东思想写进中国共产党党章，成为指导思想 D. 红军长征—使中国革命转危为安，为开创中国革命的新局面奠定了根底

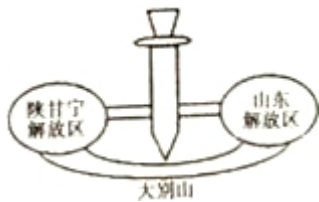
**【考点】**遵义会议。

**【分析】**此题考查了遵义会议的相关知识。

**【解答】**据所学知，遵义会议确立了以毛泽东为代表的党中央的正确领导，是中国共产党历史上生死攸关的转折点。毛泽东思想被写入党章是在 1945 年的中共七大上。ABD 三项表述都正确。

应选 C。

**【点评】**识记遵义会议的内容及意义。



7.

如图描绘的是解放战争期间某一军事行动的战略态势，揭开了人民解放军全国性战略反攻的序幕，以下描述与其相符合的是（ ）

- A. “千里跃进，逐鹿中原” B. “攻占锦州，关门打狗” C. “分割包围，瓮中捉鳖” D. “百万雄师，三路渡江”

**【考点】**刘邓大军挺进大别山。

**【分析】**此题考查 1947 年 6 月刘邓大军千里跃进大别山的史实，重点掌握其历史意义。

**【解答】**1947 年夏，刘伯承、邓小平率领晋冀鲁豫解放军，千里跃进大别山，开辟了大别山根据地，牵制了国民党军队，揭开了人民解放军全国性战略进攻的序幕。

应选 A。

**【点评】**要熟记解放战争中刘邓大军千里跃进大别山的史实，深切感受老一代党的领导人的智慧。

8. 《人民日报》1958年8月13日消息：麻城建国一社出现天下第一田，早稻亩产三万六千九百多斤。这一报道出现于（ ）

A. 土地改革时期 B. 农业合作化时期 C. 大跃进时期 D. 改革开放时期

**【考点】**大跃进和人民公社化运动。

**【分析】**通过读取题干知识可获取到有效信息“1958年、早稻亩产三万六千九百多斤”，于是联系到课本所学知识20世纪50年代，党和政府错误发动了“大跃进”和人民公社化运动，主要标志是高指标、瞎指挥、浮夸风、“共产”风，这就使得“左”的错误在全国各地严重泛滥开来。

**【解答】**A. 土地改革时期是1950年-1952年底。

B. 农业合作社于1955年-1956年底。

C. 1958年党中央发动了“大跃进”和人民公社化运动。

D. 改革开放开始与十一届三中全会后即1978年后。

应选C。

**【点评】**此题将新中国成立后的几件重大事件如：土地改革、三大改造、大跃进运动、改革开放整合到一起考查，覆盖面广；需要学生熟练掌握各个历史事件的具体时间。

9. 以下遗址和文物代表着不同国家和地区的古代文明，其中代表非洲文明成就的是（ ）

A. 克里特白王宫遗址 B. 狮身人面像和金字塔 C. 空中花园想象图 D. 罗马广场

**【考点】**金字塔和埃及文明。

**【分析】**此题考查上古亚非文明。

**【解答】**A. 狮身人面像和金字塔。

以上内容仅为本文档的试下载部分，为可阅读页数的一半内容。如要下载或阅读全文，请访问：

<https://d.book118.com/278114037047006126>

