

9

# 总复习

## 100以内的加法和减法





# 一、复习“100以内的加法和减法”



$72+6=$



$82-40=$



$41-7=$



$14+50=$



$38+27=$



$30-16=$



$36+19=$



$59-46=$



# 一、复习“100以内的加法和减法”

加法：



$36+19=$



$38+27=$



$14+50=$



$72+6=$

减法：



$59-46=$



$41-7=$



$82-40=$



$30-16=$



# 一、复习“100以内的加法和减法”

进位加



$36+19=$



$38+27=$



$14+50=$



$72+6=$

不进位加

不退位减



$59-46=$



$41-7=$



$82-40=$



$30-16=$

退位减



# 一、复习“100以内的加法和减法”

**笔算加、减法时应注意：**

- ①相同数位对齐，从个位算起；
- ②加法个位上的数相加满十，要向十位进1；减法个位上的数不够减时，要从十位退1当十再减。



# 一、复习“100以内的加法和减法”



$$72+6=78$$



$$82-40=42$$



$$41-7=$$



$$14+50=64$$



$$38+27=$$



$$30-16=$$



$$36+19=$$




$$59-46=13$$




# 一、复习“100以内的加法和减法”

## 列竖式计算。


 $36+19=$

$$\begin{array}{r} 36 \\ +19 \\ \hline 55 \end{array}$$


个位相加满十，  
向十位进1。

 $41-7=$

$$\begin{array}{r} 41 \\ -7 \\ \hline 34 \end{array}$$

 $38+27=65$

$$\begin{array}{r} 38 \\ +27 \\ \hline 65 \end{array}$$

 $30-16=$

$$\begin{array}{r} 30 \\ -16 \\ \hline 14 \end{array}$$

个位不够减，从十  
位退1当10再减。





# 一、复习“100以内的加法和减法”


说说小海星后面躲着数字几？

$47+25=72$


$23+37=60$

$96-39=57$


$70-24=46$

$$\begin{array}{r} 47 \\ +25 \\ \hline \end{array}$$



2

$$\begin{array}{r} 23 \\ +37 \\ \hline \end{array}$$


0

$$\begin{array}{r} 96 \\ -39 \\ \hline \end{array}$$


7

$$\begin{array}{r} 70 \\ -24 \\ \hline \end{array}$$


6





# 一、复习“100以内的加法和减法”

海洋馆里有13条黄金神仙鱼，花面神仙鱼比黄金神仙鱼多9条，透红小丑鱼比黄金神仙鱼少8条。 【教材P103 练习二十五 第3题】



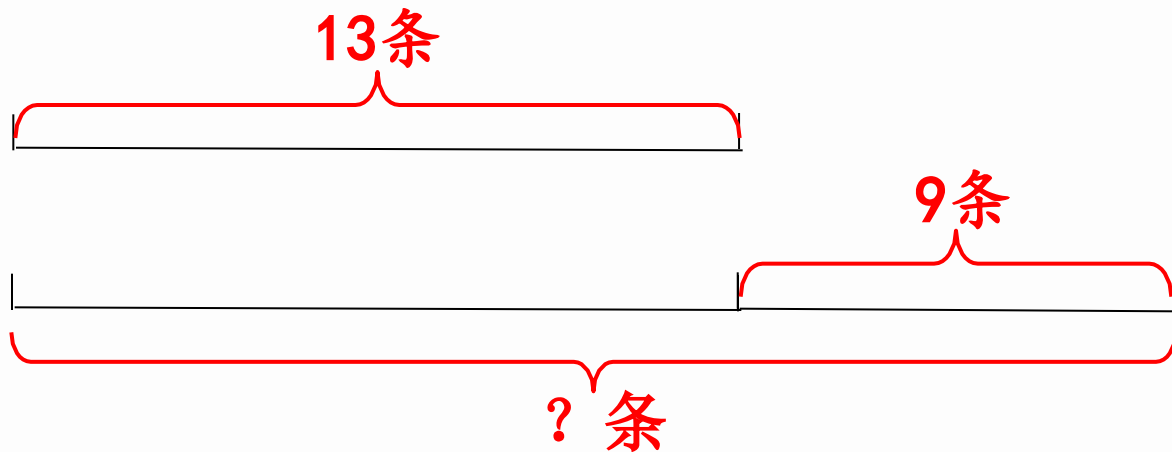
(1) 花面神仙鱼有多少条 两种神仙鱼共有多少条?  
?



# 一、复习“100以内的加法和减法”

海洋馆里有13条黄金神仙鱼，花面神仙鱼比黄金神仙鱼多9条，

花面神仙鱼有多少条？



$$13+9=22 \text{ (条)}$$

答：花面神仙鱼有22条。

以上内容仅为本文档的试下载部分，为可阅读页数的一半内容。如要下载或阅读全文，请访问：<https://d.book118.com/285003131114012010>