

新人教版小学二年级数学上册期末测试卷 1

时间：60 分钟

满分：100 分

一、算一算。(28 分)

1、口算。(每小题 1 分，共 16 分)

$$\begin{array}{cccc}
 8 \times 8 = & 5 \times 7 = & 70 - 6 = & 38 + 2 = \\
 8 + 45 = & 72 + 5 = & 9 \times 7 = & 4 \times 8 = \\
 7 \times 4 = & 17 - 9 = & 7 + 5 = & 6 \times 5 = \\
 43 - 30 = & 82 - 9 = & 12 - 3 = & 5 \times 9 =
 \end{array}$$

2、用竖式计算。(每小题 3 分，共 12 分)

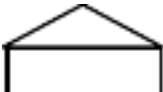
$$8 + 57 + 29 = \qquad 82 - 53 - 19 =$$

$$78 - 24 + 35 =$$

$$61 + 15 - 37 =$$

二、填一填。(每 5 题 4 分，第 7 题 2 分，其余每空 1 分，共 20 分)

- 1、1 米 = () 厘米 200 厘米 = () 米
 42 米 - 18 米 = () 米 25 厘米 + 6 厘米 = () 厘米

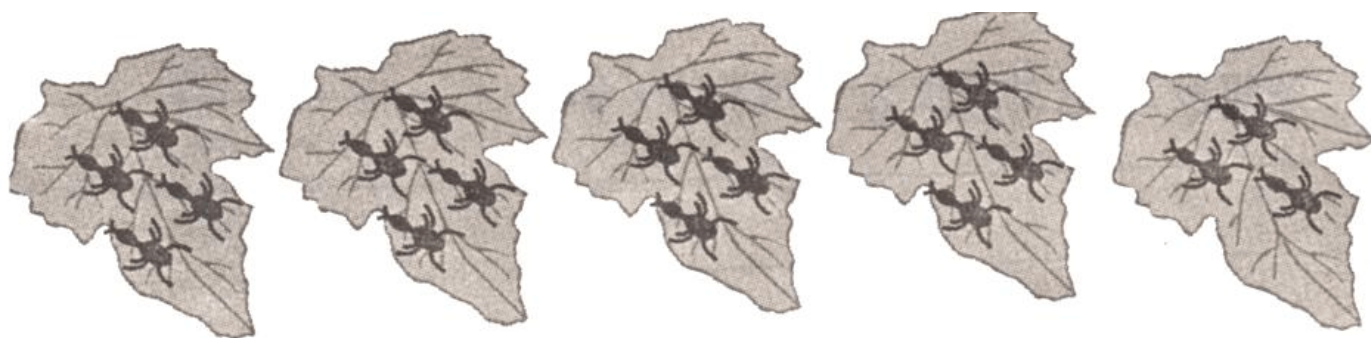
2、 左图中有 () 条线段，有 () 个直角。

3、8 的 5 倍是 ()，6 的 7 倍是 ()。

4、根据“六八四十八”这句口诀，写出两道乘法算式是：

() 和 ()。

5、看图填算式：



$$\square \times \square \bigcirc \square = \square$$

6、在○里填上“+”、“-”或“×”。

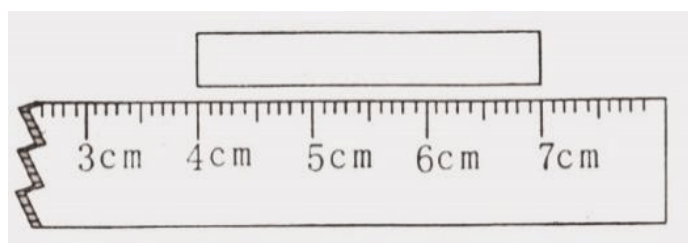
$4 \bigcirc 9 = 36$

$36 \bigcirc 8 = 44$

$30 \bigcirc 8 = 22$

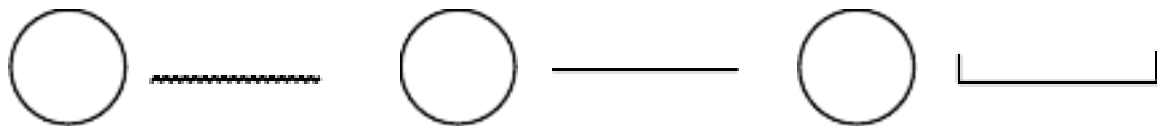
$5 \bigcirc 7 > 33$

7、纸条长（ ）厘米

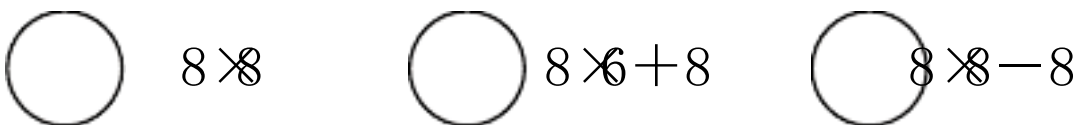


三、选一选。（在正确答案前面的○里涂上你喜欢的颜色）（10分）

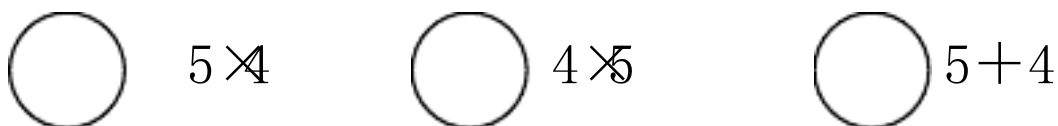
1、线段是：



2、与 $8 \times 7 + 8$ 得数相等的算式是：



3、计算结果与 5 的 4 倍不相等的算式是：




4、 $6 + 6 + 6 + 6 + 5$ 可以改写成：



5、下面的角比直角大的角是：



1、以给出的点为顶点，画一个直角。(6分)



2、画一条长4厘米的线段。(6分)

3、画出的○是△的4倍。(6分)



五、用数学。(14分)

1、欢欢和她的4位同学做红花，每人做6朵，一共做了多少朵？(5分)

2、(4分)



数学本有多少本？

3、一辆公共汽车上有64人，到站先下去28人，又上来15人，这时车上有多少人？

4、王老师带着他的5名学生到动物园游玩，一共需要多少钱的门票？

售票处 | 成人：7元，学生：5元。

新人教版小学二年级数学上册期末测试卷 2

学校：_____ 班别：_____ 姓名：_____ 号码：_____

一、知识根据地。(第 10 题每空 1 分，其余每空 0.5 分，共 27 分)

1. 把口诀补充完整。

七八 () 八九 () () 二十

二四 () 四七 () () 五十四

2. 在 () 里填上“米”或“厘米”。

数学书长 21 () 黑板长 4 ()

旗杆高 10 () 图钉约长 ()

大树高 6 () 小明身高 1 () 30 ()

3. 在 () 里填上“<”、“>”或“=”。

1 米 () 100 厘米 $49+37$ () 90 8×6 () 4×4

8 米 () 80 厘米 6×9 () 45 7×4 () 3×8

4. $7 \times 8 =$ ()，读作：()；口诀：()；表示

() 个 () 相加是 ()，也表示 () 的 () 倍是 ()。

5. 7 个 6 连加得 ()，5 和 4 相加得 ()。

6. 根据口诀“六七四十二”写出两道乘法算式。

7. 在 () 里填上“+”、“-”或“ \times ”。

2 () 2 = 4 3 () 3 = 9 49 () 18 = 67

80 () 14 = 66 75 () 18 = 57 25 () 37 = 62

8. 用数字 2、5、8 能组成 () 个不同的两位数。

9. 一个角有 () 个顶点，() 条边。

10. () 里最大能填几?


$$() \times 4 < 30 \quad 34 > 5 \times () \quad 60 > () \times 8$$

$$7 \times () < 29 \quad () \times 6 < 37 \quad () \times 8 < 36$$

11. 方方买一个台灯 51 元, 买一双鞋 38 元, 大约需要 () 元。

二、火眼金睛。把正确答案前面的序号填在括号里。(共 8 分)

1. 下面的图形, 第 () 是角。



①



②



③

2. 求 5 个 4 相加的和是多少? 正确的列式是 ()。

① $5+9$ ② $5+5+5+5$ ③ 5×4

3. 每两个人握一次手, 三人一共握 () 次手。

① 2 ② 3 ③ 6

4. 用尺子量一条线段应从 () 刻度开始量。

① 0 ② 1 ③ 尺子的顶端开始

三、数学高速路。(共 35 分)

1. 口算。(10 分)

$5 \times 8 =$

$8 \times 7 =$

$29 + 2 =$

$92 - 2 =$

$3 + 4 =$

$9 \times 9 =$

$88 - 35 =$

$83 - 70 =$

$7 \times 7 =$

$1 + 1 =$

$30 + 46 =$

$34 + 8 =$

$3 \times 8 =$

$5 \times 9 =$

$56 + 8 =$

$43 + 21 =$

$8 \times 7 - 30 =$

$4 \times 8 + 28 =$

$65 + 16 - 53 =$

$72 - 18 + 9 =$

2. 笔算下面各题。(17 分)

$43 + 38 =$

$85 - 34 =$

$23 + 54 =$

$90 - 82 =$

$15 + 18 + 48 =$

$42 - 19 + 28 =$

$72 - 18 + 9 =$

4. 列式计算。(8分)

1. 两个因数都是6, 积是多少?

2. 8个5相加, 和是多少?

3. 6和8相乘, 积是多少?

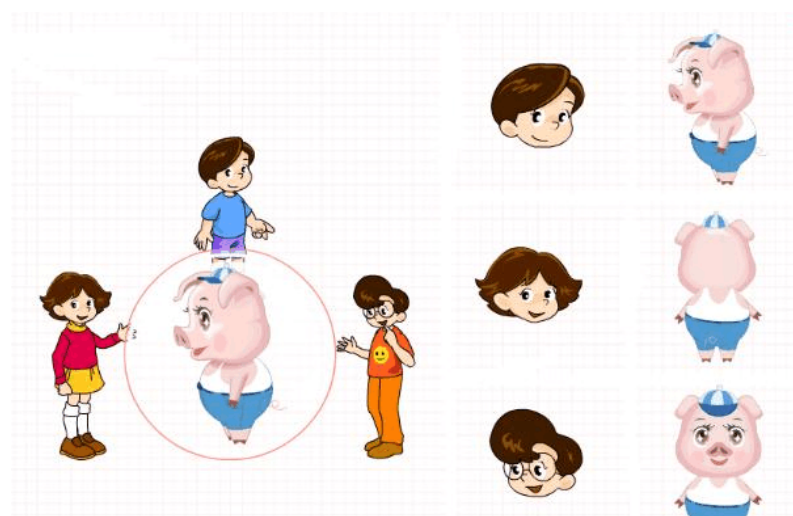
4. 9和7相加, 和是多少?

四、我是小画家。(7分)

1. 画一条比8厘米短3厘米的线段。

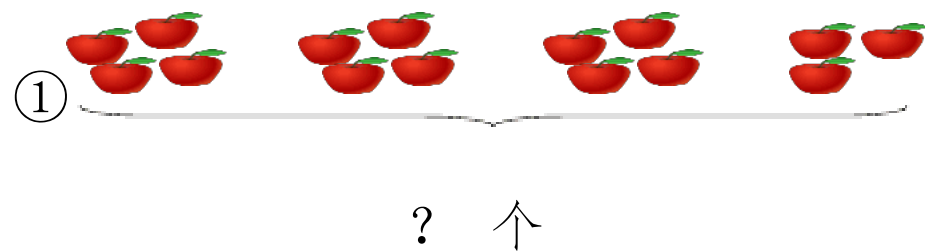
2. 请画一个直角。

3. 右边的图分别是谁看到的? 连一连。



五、解决问题。(共23分)

1. 看图列计算。(6分)



$\square \bigcirc \square \bigcirc \square = \square \text{ (个)}$



? 只

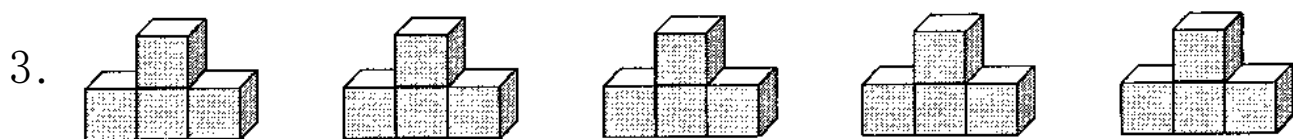
$$\square \bigcirc \square = \square \text{ (只)}$$

新人教版小学二年级数学上册期末测试卷 3

一、知识根据地。(28分)

1. 3米-100厘米=()米 6米+49米=()米

2. 你喜欢的乘法口诀是(), 你能根据这个口诀写出两个不同算式吗?(,)()。



(1) 上面一共有()个。

(2) 根据图写成加法算式是(), 写成乘法算式是()。

4. 一个因数是8, 另一个因数是7, 列成算式是(), 读作()。

5. 小丽在图画本上画了☆☆☆和一些○和△, 其中○的个数是☆的5倍, ○有()个, △的个数是☆的9倍, △有()个。

6. 在○里填上“+、-、×、>、<或=”

4○9=36 34○4×5 16+20○35

40○4=36 2×2○2+2 2×8+8○8×8-8

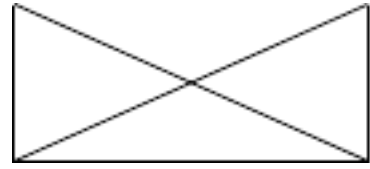
7. ()里最大能填几?

() × 8 < 65 () < 5 × 9 30 > 5 × ()

8. 填上合适的单位名称。

一支彩笔长 10 () 妈妈身高 1 () 62 ()

9. 数一数，试一试。(2分)



右图中有 () 条线段， 一共有

() 个角，其中有 () 个直角。

10. 小明昨天写了 29 个大字，今天写了 47 个大字，两天大约写了 () 个大字。


二、是非审判庭。对的在 () 里画“√”，错的画“×”。(5分)

1、 $8+8+8=3 \times 8=8 \times 3$ ()

2、有三个同学，每两人握一次手，一共要握 6 次手。 ()

3、钟表上显示 3 时，时针和分针成一直角。 ()

4、最小的两位数和最大的两位数相差 90。 ()

5、“”这是一条线段。 ()

三、火眼金睛。把正确答案前面的序号填在括号里。(3分)

1. 角的大小和两条边的长短 ()。

①有关 ②无关 ③不能确定

2. 一个三角板上有 () 个直角。

①1 ②2 ③3

3. () 是你在镜子里看到的 F 的样子。

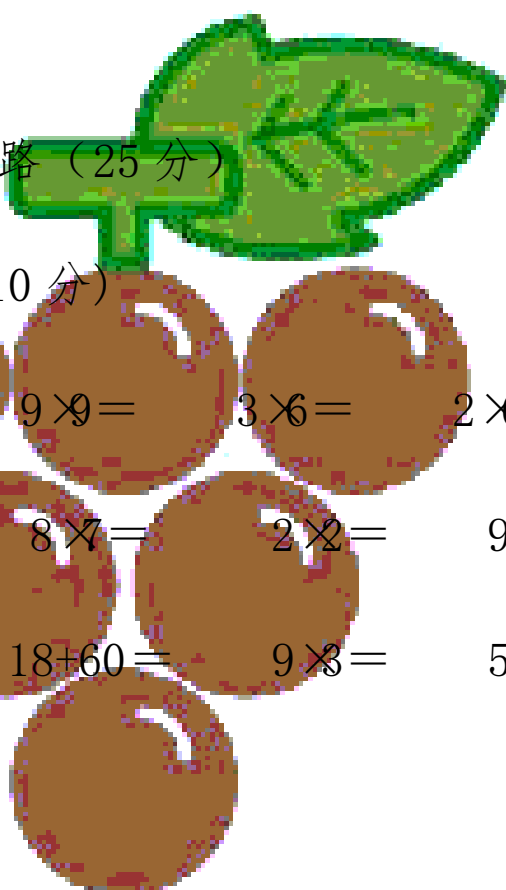
四、数学高速公路 (25分)

1. 口算。(10分)

$6 \times 7 =$ $9 \times 9 =$ $3 \times 6 =$ $2 \times 6 =$ $8 \times 3 + 4 =$

$36 + 4 =$ $8 \times 7 =$ $2 \times 2 =$ $9 + 57 =$ $3 \times 4 + 9 =$

$5 \times 6 =$ $18 + 60 =$ $9 \times 3 =$ $5 \times 5 =$ $38 - 18 + 25 =$



$$41-2= \quad 6 \times 9= \quad 8 \times 5= \quad 7 \times 2= \quad 7 \times 5-3=$$

2. 用竖式计算。(12分)

$$67+32=$$

$$46+28+23=$$

$$96-54=$$

$$82-37-12=$$

3. 估一估，下面哪些算式的得数比 50 大，在它下面画“ $\bar{\quad}$ ”。(3分)

$$12+49$$

$$78-29$$

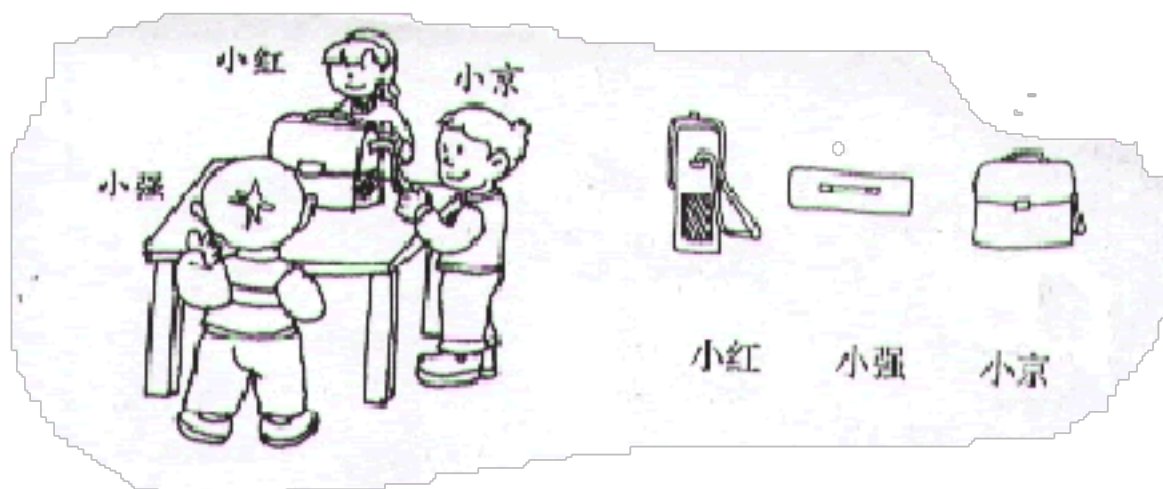
$$13+28+15$$

五、我是小画家。(7分)

1. 画出比 6 厘米短 2 厘米的线段。

2. 用给出的一点画直角，并写出角的各部分的名称。


六、我会观察,我会猜。(3分)



八、生活万花筒。认真审题，仔细分析，下面各题你一定不觉得困难。

100 元钱，她在下面的衣服中买了一件上衣和一条裤子，她应该付多少钱？

2. 周日，小
带 30 元去



卡花了多少元？

3. 小明今年
(1) 爸爸
(2) 爷爷

4.




38 元



11 元



5 元



8 元



我买 5 个杯子。



我买 1 个茶壶
和 7 把剪刀。



(1) 请你估计一下，大约要付多少元？

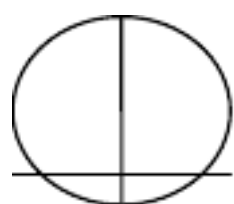
2)  该付多少钱?

(3) 如果  付 100 元给营业员, 应该找回多少钱?

3、自己提出一个数学问题并解答。

七、我来露一手 (附加题)

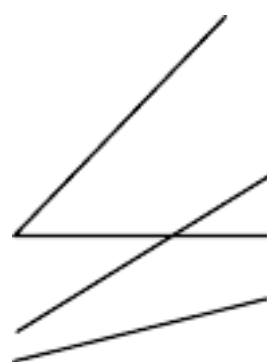
1. 数一数, 算一算有几个角。



()



()



()

2. () 个面，每个面有 () 个直角，正方体一共有 () 个直角。

新人教版小学二年级数学上册期末测试卷 4

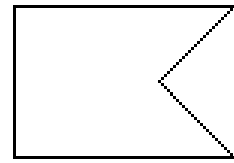
一、填空。(1-8 题每空 1 分，9-10 题每题 2 分，共 22 分)

- 1、把 20 个☆平均分成 4 份，每份是 () 个；

20 个☆，每 4 个分成一份，可以分成 () 份。

- 2、100 厘米 = () 米 27 米 - 9 米 = () 米

- 3、画一条 3 厘米长的线段，一般应从尺的 () 刻度开始画起，画到 () 厘米的地方。



- 4、右面的图形中有 () 个角，其中有 () 个直角。

- 5、() 里最大能填几？

() \times 4 < 26 6 \times () < 32 68 > 9 \times ()

- 6、在○里填上“>”、“<”或“=”。

8 \times 6 ○ 48 7 \times 7 ○ 47 5 \times 9 ○ 46

- 7、小芳走一步的距离是 48 () 小东的身高是 123 ()

课室大约长 10 ()

- 8、三个好朋友握手，每两人握一次，要握 () 次手。

- 9、


$\square \times \square \bigcirc \square = \square$

10

5 米 50 厘米 5 米 50 厘米 5 厘米
() < () < () < ()

二、你认为下面的说法对吗？对的打“√”，错的打“×”。（10分）

- 1、一条直线长 100 米。 ()
- 2、长方形和正方形都有两条对称轴。 ()
- 3、5 米和 50 厘米一样长。 ()
- 4、用数字 2、4、6 能排成六个不同的两位数。 ()
- 5、直线一定比射线长。 ()

三、计算。（1 题 12 分，2 题 12 分，共 24 分）

1、直接写出得数。

$$5 \times 9 = \quad 9 \times 7 = \quad 3 \times 4 = \quad 7 \times 7 - 7 =$$

$$8 \times 6 = \quad 5 \times 9 = \quad 5 \times 8 = \quad 3 \times 9 + 9 =$$

$$32 - 7 = \quad 30 + 38 = \quad 55 + 9 = \quad 67 - 30 + 22 =$$

2、笔算下面各题。

$$19 + 58$$

$$90 - 45$$

$$29 + 35 + 9$$


$$75 - 46 + 31$$

(每题 2 分, 共 6 分)

1、画一条 5 厘米长的线段。

2、画一个直角。

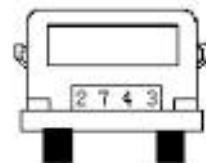
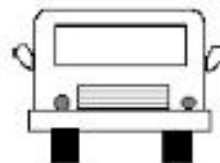
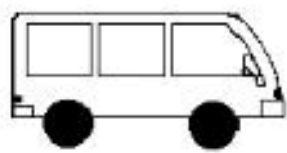
五、观察物体。(6 分)



小东

小明

请你连一连, 下面分别是谁看到的?





小红

小东

小明

七、解决问题 (1、2 题 4 分, 3 题 16 分, 共 24 分)

1、二年一班有 6 支 , 铅笔的数量是  的 4 倍, 铅笔有多少支?

$$\square \bigcirc \square = \square \text{ (支)}$$

) 支。

2、



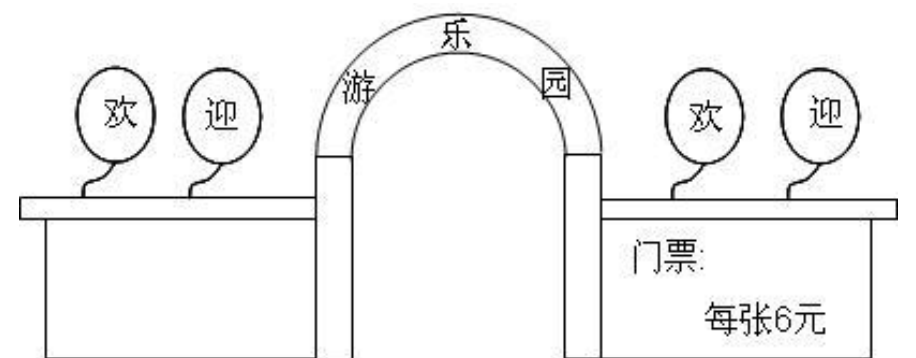
小刚得了多少朵小红花？

$$\square \bigcirc \square = \square \text{ (朵)}$$

答：小刚得了 () 朵小红花。

3、星期日同学们去游乐园。

(1) 买8张门票用多少元？



(2) 小莉拿50元，买9张门票够吗？

(3) 小红买了3张门票，还剩2元钱，小明带了多少钱？

(4) 请你再提出一个问题并解答。

新人教版小学二年级数学上册期末测试卷 5

班别：_____ 姓名：_____ 学号：_____ 评分：_____

一、填空。(28分)

1、1米=()厘米

45厘米-6厘米=()厘米

37厘米+5厘米=()厘米

23米-8米=()米

2、6个3相加，写成乘法算式是()，这个式子读作()。

3、在下面的()里最大能填几？

() $\times 6 < 27$

() $< 3 \times 7$

$4 \times () < 15$

$35 > 7 \times ()$

4、在算式 $4 \times 7 = 28$ 中，4是()，7是()，28是()。

5、先把下面的口诀补充完整，再根据口诀写出两道乘法算式。

八九()

()二十四

6、小芳和的小伙伴们计划两天做100颗星，昨天做了58颗，今天他们大约要做()颗。

7、算得积是18的口诀有()和()。

8、在○里填上“+”、“-”、“ \times ”或“ $<$ ”、“ $>$ ”、“ $=$ ”。

$8 \bigcirc 6 = 48$

$36 \bigcirc 73 - 37$

$9 \times 7 \bigcirc 65$

$2 \bigcirc 2 = 4$

$43 \bigcirc 6 \times 7$

$18 \bigcirc 9 = 9$

二、判断。(5分)

- 1、9个相加的和是13。 ()
- 2、小强身高大约是137厘米。 ()
- 3、计算 $48+29$ ，得数大约是70。 ()
- 4、1米和100厘米一样长。 ()

三、选择题。(把正确答案的序号填在括号里，5分)

- 1、5个3相加是多少？正确的列式是 ()
A、 $5+5+5=15$ B、 $5+3=8$ C、 $5\times 3=15$
- 2、用2、6、0三个数字组成的两位数有 () 个。
A、2 B、4 C、6
- 3、小明有50元钱，买故事书花了28元，他大约还剩 () 元。
A、22 B、30 C、20
- 4、 $5+5+5+4$ ，不可以改写成算式 ()。
A、 5×4 B、 $5\times 3+4$ C、 $4\times 5-1$
- 5、4个好朋友见面互相拥抱一次，共要拥抱 () 次。
A、3次 B、4次 C、6次

四、计算。(26分)

- 1、用竖式计算。(15分)

$90-47=$

$59+26=$

$63-28=$

以上内容仅为本文档的试下载部分，为可阅读页数的一半内容。如要下载或阅读全文，请访问：<https://d.book118.com/285322312142011212>