

期末综合素质达标



一、我聪明，我会填。(每空1分，共20分)

1.60 比(**96**)少36，34 比(**26**)多8。

2. 5个9相加写成加法算式是(**$9+9+9+9+9=45$**)，写成乘法算式是(**$5\times 9=45$**)或(**$9\times 5=45$**)。

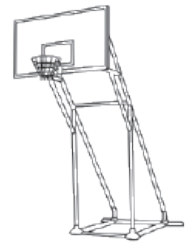
3. 在括号里填上合适的长度单位。



手宽约 10 (**厘米**)。

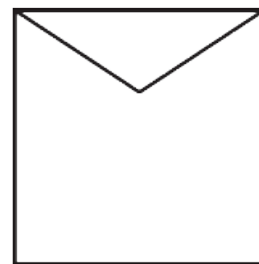


教室黑板长约 4 (**米**)。



篮球架高约 3 (**米**)。

4. 右图中有(**6**)条线段, (**4**)个锐角,
(**4**)个直角, (**1**)个钝角。



5. 梦梦和6个好朋友, 每人栽了3棵树, 一共栽了(**21**)棵树。点拨: 共有 $6+1=7$ (人)。

6. 有白、红、黄三种颜色的气球, 同同要买两种不同颜色的各1个, 有(**3**)种不同的买法。

7. (**1**)时=60 分

(**2**)米=200 厘米

1 刻=(**15**)分

1 米-30 厘米=(**70**)厘米

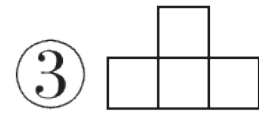
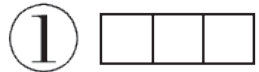
8. 右图钟面上的时刻是(**2:55**), 最少再过
(**5**)分, 时针和分针就可以构成一个
直角。



二、我自信，我会选。(把正确答案的序号填在括号里)

(每题2分，共10分)

1. 观察 ，从上面看到的形状是(①)。



2. 下面算式的结果大于80 的是(③)。

① $36+43$

② $100-29$

③ 9×9

3. 典典有3件不同的衬衣，2条不同的裤子，一共有()种不同的穿法。

① 5

② 3

③ 6




4. 分针从“3”走到“6”，走了()。

① 3时

② 30分

③ 一刻

5. 下图中不能用 $4 \times 5 - 2$ 计算的是(③)。



三、我细心，我会算。(共26分)

1. 看谁算得又对又快。(8分)

$4 \times 7 = 28$

$75 - 50 = 25$

$3 \times 8 = 24$

$80 - 8 = 72$

$32 + 15 = 47$

$6 \times 9 = 54$

$54 + 30 = 84$

$63 - 56 = 7$

2. 列竖式计算。(18分)

$$27 + 58 = 85$$

$$\begin{array}{r} 27 \\ + 58 \\ \hline 85 \end{array}$$

$$34 + 49 = 83$$

$$\begin{array}{r} 34 \\ + 49 \\ \hline 83 \end{array}$$

$$73 - 47 = 26$$

$$\begin{array}{r} \overset{\bullet}{7}3 \\ - 47 \\ \hline 26 \end{array}$$

$$100 - (26 + 18) = 56 \quad 32 + 35 + 28 = 95 \quad 90 - 27 + 35 = 98$$

$$\begin{array}{r} 26 \\ +18 \\ \hline 44 \end{array} \quad \begin{array}{r} \overset{\bullet}{1} \overset{\bullet}{0} 0 \\ -44 \\ \hline 56 \end{array}$$

$$\begin{array}{r} 32 \\ +35 \\ \hline 67 \\ +28 \\ \hline 95 \end{array}$$

$$\begin{array}{r} \overset{\bullet}{9} 0 \\ -27 \\ \hline 63 \\ +35 \\ \hline 98 \end{array}$$

四、我机灵，我会动。(共9分)

1. 画出一条和下面同样长的线段。(2分)



以上内容仅为本文档的试下载部分，为可阅读页数的一半内容。如要下载或阅读全文，请访问：
<https://d.book118.com/295302331303011242>