


# 表内除法的复习





怎样分这12个苹果呢？




我吃10个，喜羊羊和沸羊羊各吃1个

喜羊羊5个，我4个，懒羊羊3个



每只羊分到4个

平均分： 每份分得同样多



把12个苹果，平均分给3只小羊，每只小羊分几个？

总数÷份数=每份个数

$$12 \div 3 = 4 \text{ (个)}$$

把12个苹果，每只小羊分2个，可以分给几只小羊？

总数÷每份个数=份数


$$12 \div 2 = 6 \text{ (只)}$$

写作:  $12 \div 3 = 4$

被除数      除号      除数      商

读作: 12除以3等于4。

$$\begin{array}{r} 4 \\ 3 \overline{) 12} \\ \underline{12} \\ 0 \end{array}$$



<sup>8</sup>  
第一行的个数是第二行的<sup>4</sup>几倍？

8里面有（ ）个4。  $8 \div 4 = 2$

求一个数是另一个数的几倍，就用这个数除以另一个数。

# 计算关



# 1、看口诀写乘法和除法算式。

七八五十六

$$7 \times 8 = 56$$

$$8 \times 7 = 56$$

$$56 \div 7 = 8$$

$$56 \div 8 = 7$$

九九八十一

$$9 \times 9 = 81$$

$$81 \div 9 = 9$$





## 2、看谁口算得又对又快。

$$32 \div 4 = 8$$

$$81 \div 9 = 9$$

$$15 \div 5 = 3$$

$$24 \div 6 = 4$$

$$42 \div 7 = 6$$

$$40 \div 8 = 5$$

$$24 \div 3 = 8$$

$$14 \div 2 = 7$$

### 3、看谁填得又对又快。

$$4 \times ( 9 ) = 36$$

$$6 \times ( ) 8 = 48$$

$$63 \div ( 7 ) = 9$$

$$( 6 ) \times 7 = 42$$

$$32 \div ( 8 ) = 4$$

$$( 63 ) \div 7 = 9$$

$$5 \times ( 8 ) < 42$$



# 小小裁判员



以上内容仅为本文档的试下载部分，为可阅读页数的一半内容。如要下载或阅读全文，请访问：<https://d.book118.com/296233231235010132>