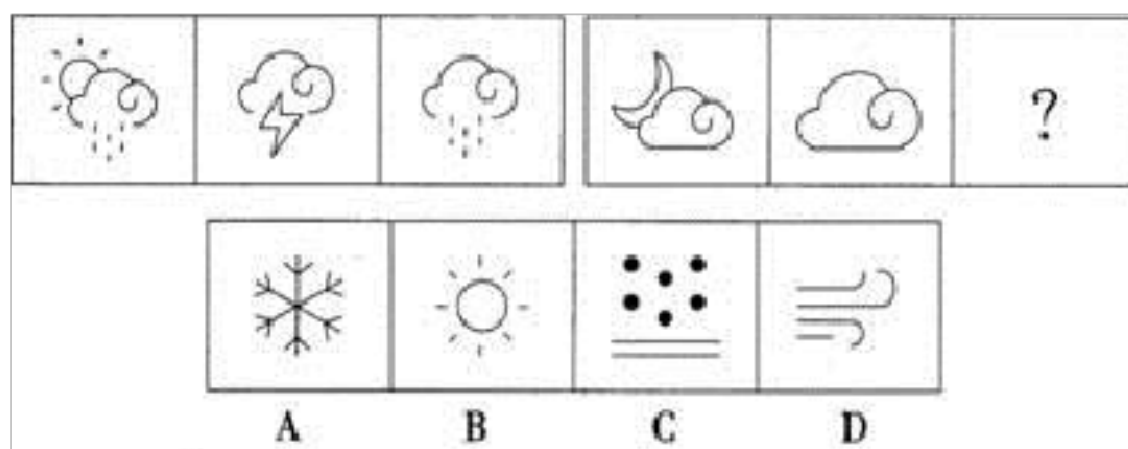


【备考 2023 年】海南省三亚市公务员省考 行政职业能力测验真题二卷(含答案)

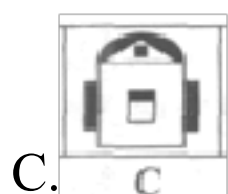

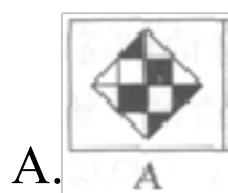
学校:_____ 班级:_____ 姓名:_____ 考号:_____

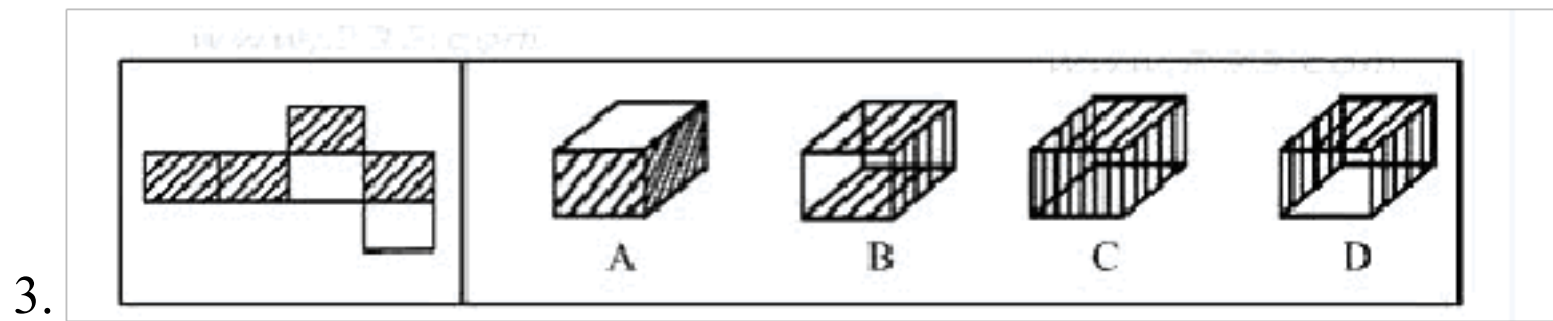

一、图形推理(6 题)

1.从所给的四个选项中, 选择最合适的一个填入问号处, 使之呈现一定的规律性:

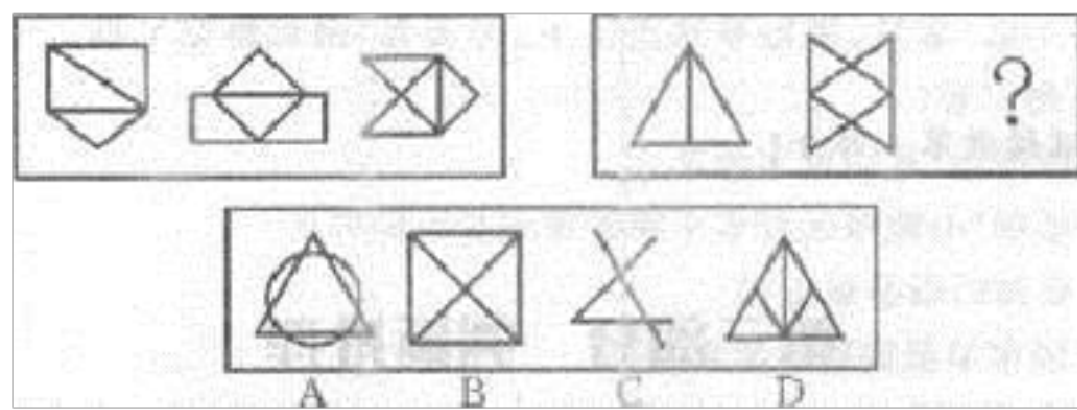


2. 从所给的四个选项中, 选择最合适的一个填入问号处, 使之呈现一定的规律性。()

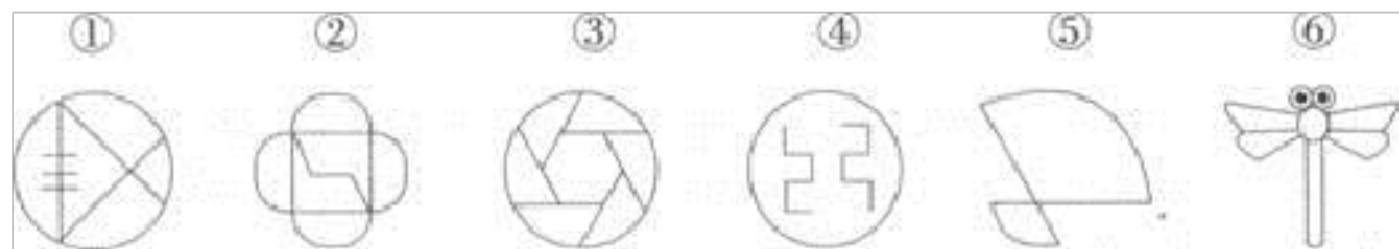




4.从所给的四个选项中，选择最合通的一个填入问号处，使之呈现一定的规律性：



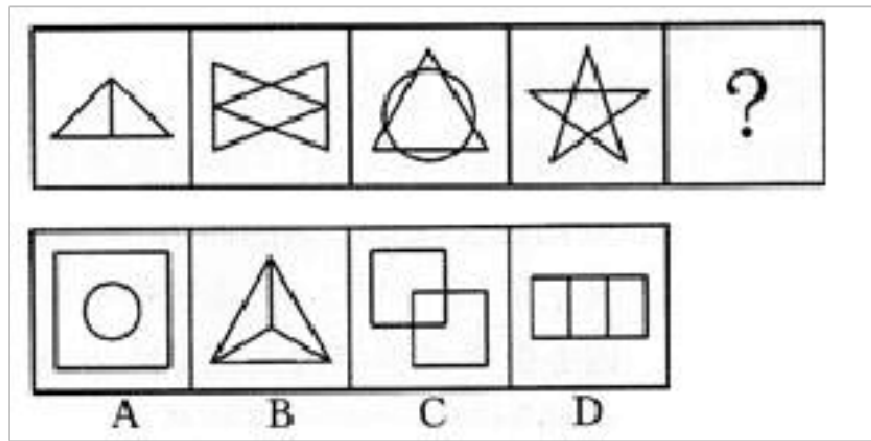
5. 把下面的六个图形分为两类，使每一类图形都有各自的共同特征或规律，分类正确的一项是：



- A.①②③, ④⑤⑥ B.①②⑤, ③④⑥ C.①③⑤, ②④⑥ D.①⑤⑥, ②③④

6.从所给的四个选项中，选择最合适的一个填入问号处，使之呈现一定

的规律性：



二、定义判断(10 题)

7. 失范行为是与教育规范不相一致、不协调甚至是冲突的行为。可以划分为：目的取向型失范行为、价值取向型失范行为、情感型失范行为、传统型失范行为这四类理想类型。其中情感型失范行为，主要指为了满足生理、心理或情感上的需要而做出的失范行为。

根据上述定义，下列属于情感型失范行为的是：

- A. 两名职校学生受李某之邀，一起为其被欺负的女友找对方“理论”，引发了一场殴斗
- B. 某校 4 名无聊的中学生为寻找乐趣，用烟头烫同学小明，甚至强迫其吞下他们的痰
- C. 一群未满 16 周岁的学生组成盗窃团伙，趁自己不会被判刑抓紧时间进行“无罪偷窃”
- D. 中学生杨某发现网吧服务器存在漏洞后，多次利用该漏洞修改上网卡的账号金额数据

8. 滞婚,是指某种条件限制使得原本可以结婚的人无法拿到结婚证的现象。根据上述定义,下列属于滞婚的是()。

A.赵某与钱某从小青梅竹马。但由于钱某年龄较小,两人虽已同居却迟迟未领取结婚证

B.周某与吴某商定毕业后结婚,但由于周某突然选择出国留学而不得不推迟了结婚计划

C.孙某与李某是大学同学,毕业后两人本计划结婚。但由于两人均是集体户口而不能办理结婚证

D.郑某与王某本是夫妻,后王某与石某相恋。想与郑某离婚,郑某不同意,导致王某和石某迟迟未办理结婚证

9.“经济人”就是以完全追求物质利益为目的而进行经济活动的主体。“生态人”是与“经济人”相对应的,指具备生态意识,并在经济与社会活动中能够做到尊重自然生态规律,约束个人与集体行为,实现人与自然共生的个人或群体。

根据上述定义。下列符合“生态人”假设的是:

A.在一个企业里,只有金钱和地位才能鼓励其员工努力工作

B.随着经济发展,农村能源需求量不断增加,森林资源的保护直接受到威胁

C.企业管理中不仅要给予员工物质激励,同时要给予精神激励,使员工对企业产生归属感

D.我国实行可持续发展。既要发展经济,又要保护好人类赖以生存的大

气、淡水、海洋、土地和森林等自然资源和环境

10.

环境权是指公民享有在不被污染和破坏的环境中生存及利用环境资源的权利。

根据上述定义，下列各项中不属于环境权的是：

A.某开发商将在一住宅区附近建一幢 30 层的高楼，一些居民家可能会因此终年不见阳光，有几户居民把该公司告到人民法院，要求该公司保障他们的阳光照射权

B.小徐将自己的车停在停车场内，一场暴风雨将旁边的树刮倒，砸坏了小徐的车，小徐将该停车场管理方告上法院，要求停车场管理方赔偿自己的损失

C.老陈新安装了一个服饰广告牌，不久就被邻居告到法院，说老陈的广告牌越过了阳台，遮挡了他家的视线。要求老陈移一移广告牌，恢复其视线权

D.有一户居民在公用楼道口搭建了一个小棚，使整个楼道的通风受到了严重影响，于是，同楼道多户居民一起把该户告到人民法院，要求该用户拆除小棚。恢复良好的通风条件

11.权力制约，是指人类社会通过各种方式和途径，对权力主体行使权力的行为形成的特定限制与约束关系，以使权力的运用真正符合人类社会的目的

根据上述定义，下列没有体现权力制约的是（ ）。

- A.海关。是代表国家在进出关境环节实施监督管理的机关
- B.历朝历代都设有谏官制度，谏官的职责之一是以儒家道德规劝皇帝
- C.《宪法》规定，公民有选举权和被选举权，言论、出版、集会、结社、示威和游行的自由
- D.许多西方国家都采取三权分立，即行政权、司法权和立法权分属三个地位平等的不同政府机构

12.休闲体育，是指在相对自由的社会生活环境和条件下，人们自愿选择并从事的各种形式的体育活动的统称，它是体育的一种社会现象，也是体育的一种存在形态，是社会休闲活动的主要方式之一。根据上述定义，下列属于休闲体育的是（ ）。

- A.马拉松运动员小李在假期陪朋友打球
- B.作为私人保镖的小王每天接受4个小时的擒拿格斗训练
- C.某高中全体学生按照学校要求每天下午完成半小时的长跑锻炼
- D.受过腿伤.正处于恢复期的赵先生应医生要求，每天由护士指导到户外散步15分钟

13. 舌尖现象：在问题解决过程中通常会遇见的体验是所谓的“舌尖现象”，这是一种“几乎就有了”的感受，答案就在嘴边，我们能够清晰地感觉到，却没有办法把它说出口，或加以具体的描述。这是因为大脑对记忆内容的暂时性抑制所造成的，这种抑制受多方面因素影响。根据上述定义，以下现象属于“舌尖现象”的是（ ）。

- A.小欣做了一份非常漂亮的策划方案纸稿，却在展示时没法运用恰当的语言表述出方案中的精华部分，最后还是同事帮忙才得以过关
- B.老林在逛街时遇到多年前的同学，由于时间太过久远，印象模糊，导致他怎么也叫不出该同学的名字
- C.小轩为了准备即将到来的 GRE 考试，突击强记英语词汇，但早晨刚记忆的 200 个词汇，到了晚上就忘记大半
- D.小茜参加数学竞赛时，有道很熟悉的大题，记得老师辅导时讲过，但就是想不起来怎么做，交了卷刚出考场，就回忆起老师讲过的解法

14. 企业健康管理是指企业管理者结合健康医疗服务和信息技术，从社会、生理、心理等各个角度来系统地关注和维持企业员工的健康状态。同时，针对企业员工及企业集体人群的健康危险因素。进行全方位的管理与服务。

根据上述定义，下列属于企业健康管理的一项是：

- A.为员工办理医疗保险和工伤保险
- B.对拟录取的新员工进行健康检查
- C.三八妇女节时为女员工发放蜂蜜等保健食品
- D.每三个月组织全体员工去医院进行一次体检

15. 寒蝉效应是一个法律用语，特别在讨论言论自由或集会自由时，指人民害怕因为言论遭到国家的刑罚，或是必须面对高额的赔偿，不敢发表言论，如同蝉在寒冷天气中噤声一般。寒蝉效应的发生，将导致公共

事务乏人关心，被视为过度限制言论或集会自由的不良后果。

根据上述定义，下列属于寒蝉效应的一项是：

A.老王在开会时一直心不在焉。结果当领导询问他的意见时，只能说：“我同意大家的说法。”

B.大学教授李某在一次学术会议上因自己的观点和国家政策相抵触，虽然知道很多同事也有相同的观点，但是还是没敢说出来

C.某杂志记者小刘想要报导当地一房地产商勾结政府和黑社会对民房进行强拆的新闻，但因为房地产商是杂志的广告客户，主编没有通过

D.小张不喜欢与人争辩，每次自己的意见在会议上被否决，他都是闭口不言

16.

代币券，具有替代现金货币并有等额购买权利的替代券。一般是商业单位定向发行的隐蔽促销方式。根据上述定义，下列不属于代币券的是：

A.电信行业的电话费充值卡 B.华联商场的购物卡 C.新人校的学生办理的借书卡 D.某品牌蛋糕店发行的价值 500 元的提货卡

三、常识判断(10 题)

17. 中国共产党领导的革命和建设的实践，是()形成的实践基础。

A.毛泽东思想 B.邓小平理论 C.“三个代表”重要思想 D.科学发展观

18. 关于低碳经济，下列表述不正确的一项是：

A.温室气体排放量尽可能低的经济发展方式

- B.尤其是二氧化硫这一主要温室气体的排放量要有效控制
- C.实质是能源高效利用、清洁能源开发、追求绿色 GDP
- D.核心是能源技术和减排技术创新、产业结构和制度创新以及人类生存发展观念的根本性转变

19.

第 74 题 既包含政府的行政职责，也包含政府的行政功能的是（ ）。

- A. 行政计划
- B. 行政领导
- C. 行政职能
- D. 机关管理

20.第 72 题 近年来，网吧呈高速发展之态势，让人欢喜让人忧。喜的是网吧出现是我国经济快速发展的产物，是开放社会的一个象征；忧的是一些网吧无序发展，唯利是图，衍生社会公害。网吧发展的“让人欢喜让人忧”表明（ ）。

- A. 矛盾包含着既对立又统一的关系
- B. 矛盾是普遍存在的
- C. 不同的矛盾具有不同的特点
- D. 两点论和重点论是统一的

21. 下列哪一战役是第二次世界大战的转折点，使德国法西斯军队被迫转入战略防御？

- A.不列颠之战 B.莫斯科保卫战 C.斯大林格勒保卫战 D.空袭珍珠港

22. 加强党的执政能力建设，必须坚持的核心是：

- A.保持党同人民群众的血肉联系

- B.建设高素质的干部队伍
- C.改革和完善党的领导体制和工作机制
- D.加强党的基层组织和党员队伍建设

23.第 5 题 深秋初冬时节，是大雾的多发期，这其中的道理是（ ）。

- A. 气温过低，水汽易凝结，但风力微弱，水汽不易扩散
- B. 昼夜温差减小，水汽不易凝结，直接悬浮于大气中
- C. 突然降温，水汽不易凝结，直接附着在地面上
- D. 昼夜温差加大，水汽凝结，晴好天气又提供了足够的扬尘颗粒

24.下列关于“缓刑”的说法中，不适当的一项是（ ）

- A . 累犯不适用缓刑
- B . 缓刑只适用于被判处 5 年以下有期徒刑的犯罪分子
- C . 被宣告缓刑的犯罪分子，在缓刑考验期限内，由公安机关考察
- D . 如果没有法定的应当撤销缓刑的情形，缓刑考验期满，原判的刑罚就不再执行，并公开予以宣告

25. 声音在哪个介质中传播最快（ ）。

- A.空气 B.金属 C.玻璃 D.水

26.在百花齐放的季节到花丛中散步，如果我们闭上眼睛可以听到蜜蜂在花间飞来飞去，但却无法听到蝴蝶的动静，其中的原因在于（ ）。

- A.蜜蜂翅膀振动的频率要高于蝴蝶的频率，而人的听觉有一定的限度，

只能够接收到蜜蜂的频率，却无法感觉到蝴蝶的频率。

B.蜜蜂口器发出的声音要高于蝴蝶口器所发出的声音，而且蜜蜂是群居性昆虫，彼此之间交流频繁，所以人能够经常性地听到蜜蜂的声音。

C.蜜蜂的腹部具有称作“蜂鸣器”的器官，可以以人耳能够察觉的高频发出声波，而蝴蝶不具备有发声器官，所以人能够听到蜜蜂的声音，而听不到蝴蝶的声音。

D.蜜蜂在运动时，其腹部坚硬的角质层与其腿部摩擦，借以向同伴传递讯息，所以能发出声音，而蝴蝶的腹部则非常柔软，且没有发声器官，所以飞行时没有声音。

四、数量关系(10 题)

27. 某月的日历上，用正方形圈出四个数，其和为 76，则这四个数中最小的数是 ()。

A.14 B.15 C.16 D.18

28.

某公司每年新增的专利数量呈等比数列，其中第一年获得的专利数量是后两年新增专利数量的六分之一。该公司 4 个部门每年均有新增专利，且每个部门获得的专利数不相同，则 4 年间该公司至少新增多少专利？

A.70 项 B.90 项 C.150 项 D.180 项

29. 3 颗气象卫星与地心距离相等，并可同时覆盖全球地表，现假设地球半径为 R，这 3 颗卫星距地球最短距离为 ()。

A. $\frac{1}{2}R$

以上内容仅为本文档的试下载部分，为可阅读页数的一半内容。如要下载或阅读全文，请访问：<https://d.book118.com/298064003056006027>