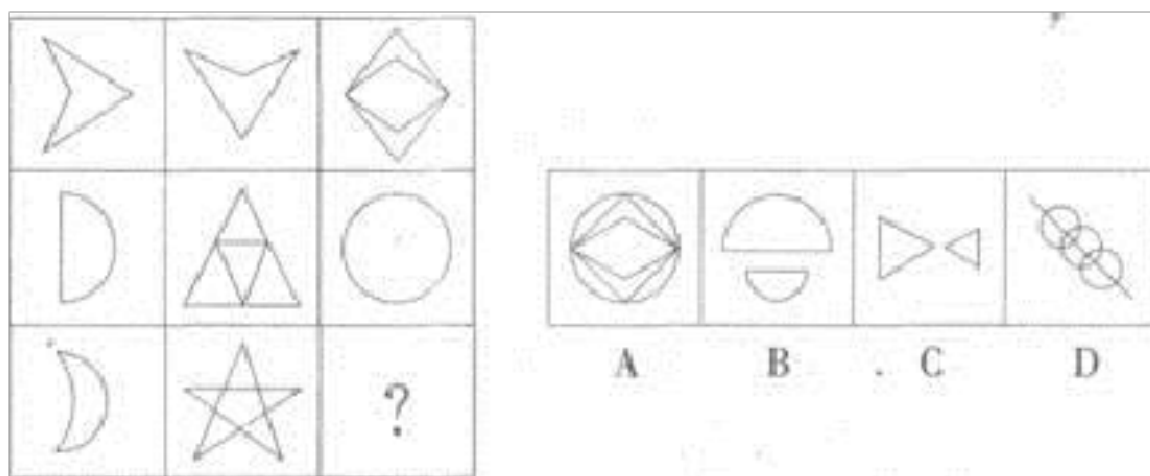


# 2021-2022 学年广东省广州市公务员省考行政职业能力测验真题(含答案)

学校:\_\_\_\_\_ 班级:\_\_\_\_\_ 姓名:\_\_\_\_\_ 考号:\_\_\_\_\_

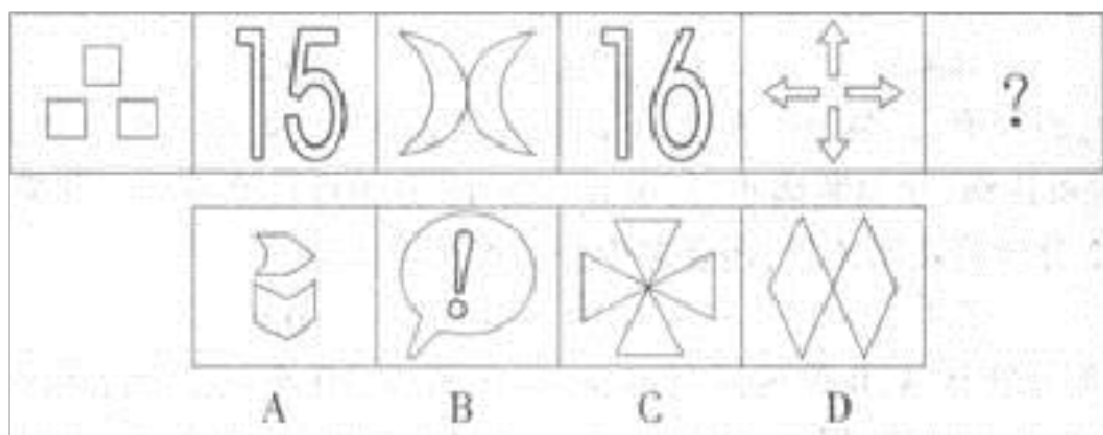
## 一、图形推理(6题)

1. 从所给的四个选项中, 选择最合适的一个填入问号处, 使之呈现一定的规律性:



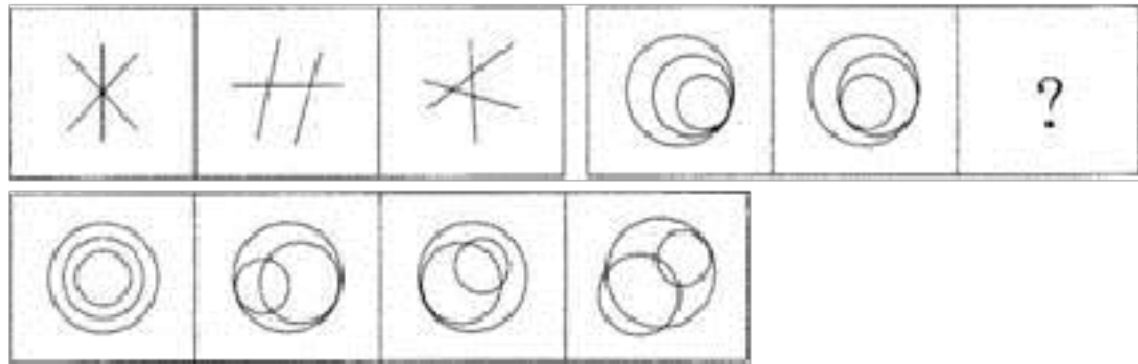
- A. ①②③, ④⑤⑥ B. ①②④, ③⑤⑥ C. ①④⑥, ②③⑤ D. ①③⑥, ②④⑤

2. 从所给的四个选项中, 选择最合适的一个填入问号处, 使之呈现一定的规律性。



3. 从所给的四个选项中, 选择最合适的一个填入问号处, 使之呈现一定

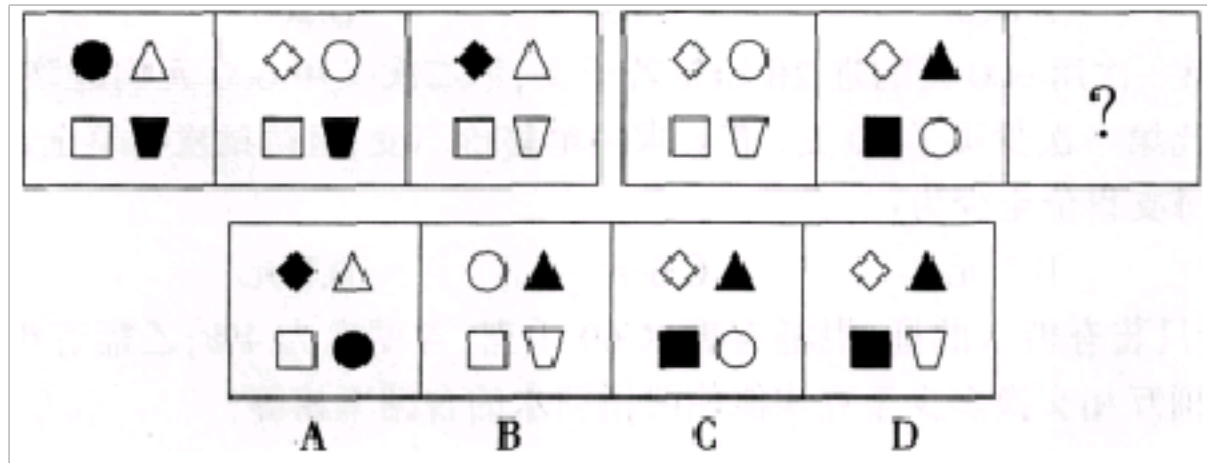
的规律性：



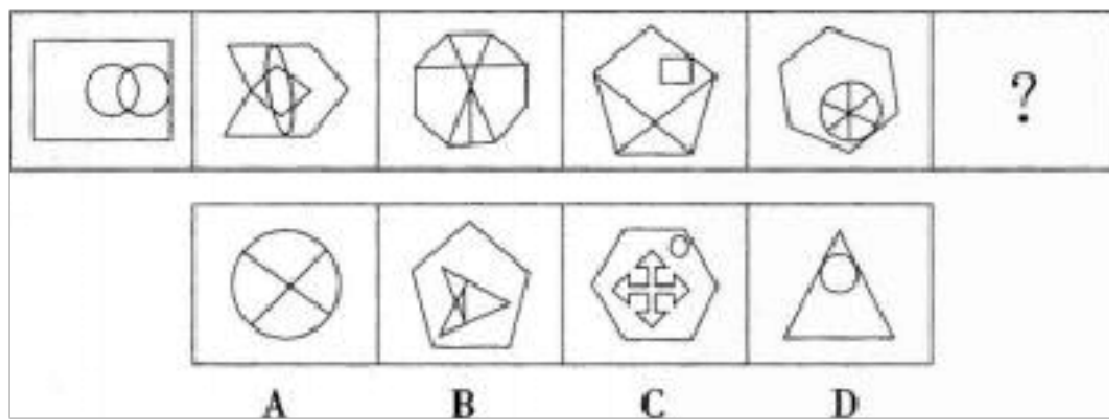
ABCD

A. 如上图所示 B. 如上图示 C. 如上图 D. 如图所示

4.从所给的四个选项中，选择最合适的一个填入问号处，使之呈现一定的规律性：



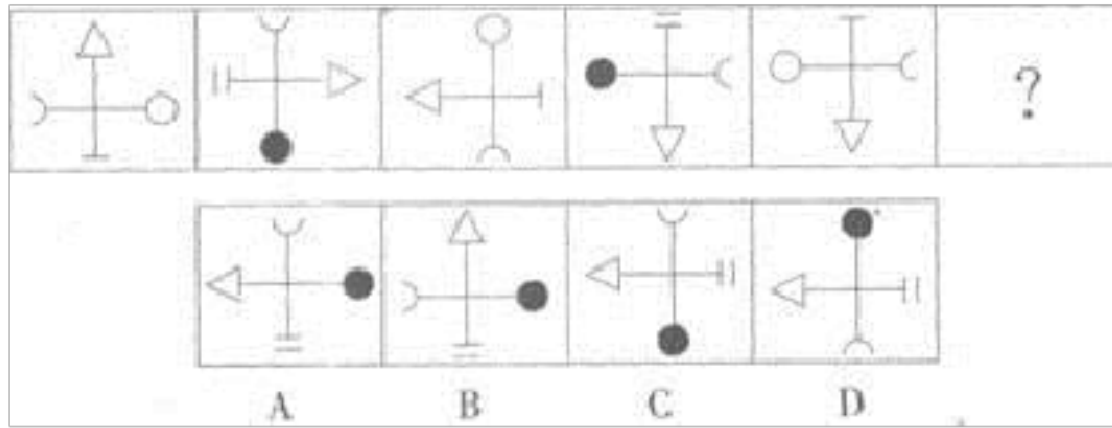
5.从所给的四个选项中，选择最合适的一个填入问号处，使之呈现一定的规律性：



A. 如上图所示 B. 如图所示 C. 如上图 D. 如图

6.从所给的四个选项中，选择最合适的一个填入问号处，使之呈现一定

的规律性：



- A. ①③⑤, ②④⑥ B. ①②③, ④⑤⑥ C. ①⑤⑥, ②③④ D. ①④⑤, ②③⑥

## 二、定义判断(10题)

7.

企业再造：是对企业业务流程进行根本的再思考和彻底的再设计，以显著提高企业的效率，企业再造的对象是企业流程。

根据上述定义，下列不属于企业再造的是：

- A. 重新设计和安排海信彩电企业的整个生产、服务和经营过程，使之合理化
- B. 对海尔空调原有生产流程进行全面的功能和效率分析，发现问题，进行改进
- C. 开发绿源电动车新品种新市场，为企业创造更大的经济效益
- D. 设计大众汽车新的生产流程改进方案，并进行评估和实施

8. 通常所说的噪声污染是指人为造成的。从生理学观点来看，凡是干扰人们休息、学习和工作的声音，即不需要的声音，统称为噪声。当噪声对人及周围环境造成不良影响时，就形成噪声污染。

根据以上定义，下列所述属于噪声污染的是：

- A. 韩庄农户有几十辆农用大卡车废弃在稻田里，影响了春耕时间
- B. 钢琴家正在弹奏《命运交响曲》
- C. 兰州市上空布满了驱之不去的“乌云”，那是市郊工厂的废气
- D. 汽车轰鸣声弄得老王整夜没有睡好觉

9.

病毒式营销，是指发起人把产品的最初信息发送到用户，再依靠用户自发进行口碑宣传的一种营销方法。这种战略像病毒一样。利用快速复制的方式将信息传向数以千计、乃至百万计的受众。根据上述定义，下列属于病毒式营销的是：

- A. 某公司通过发展客户作为销售渠道，鼓励他们向更多人推销该公司产品
- B. 某企业举办广告创意设计大赛活动，让消费者自己设计相关产品的广告
- C. 某公司通过电子邮箱随机发送产品广告，并告知转发该广告可参与抽奖
- D. 某商家用标新立异的广告词宣传，网友纷纷转发使其迅速成为流行语

10. 社交恐惧症：是一种对任何社交或公开场合感到强烈恐惧或忧虑的精神疾病。患者对于在陌生人面前或可能被别人仔细观察的社交或表演场合，有一种显著且持久的恐惧，害怕自己的行为或紧张的表现会引起

羞辱或难堪。

下列各项中，属于社交恐惧症的是（ ）。

- A. 小辛参加公务员考试时，因担心得不到理想的成绩而十分焦虑，甚至开始不停发抖，最终不得不提前退出考场
- B. 小贺总是担心与陌生人接触会被各种各样的病菌感染，因而不敢去人员密集的地方，甚至一度把自己关在家里
- C. 小玲个性十分害羞，参加宴会时从不敢和陌生人主动交谈，甚至在被动与人交流时还会脸红
- D. 小鹏胆子很小，对于面试这种正式场合更是排斥，因此毕业两年了一直没有找到工作

11. 双趋冲突，是指两种对个体都具有吸引力的目标同时出现，而由于条件限制，个体无法同时采取两种行动所表现的动机冲突。

根据上述定义，下列属于双趋冲突表现的是（ ）。

- A. 小月挪用公司的 500 万元公款被盗了，她不敢报案，怕罪行暴露
- B. 王大铭上个月被公司炒了鱿鱼，这个月没钱花了，他既不想问父母要钱，又不想借朋友的钱，搞得非常彷徨
- C. 世界杯足球赛在 6 月底举行，小强非常喜欢看足球赛，但这段时间恰恰是接近学校期末考试的时间，他既想看高水平的球赛，又不想影响考试
- D. 大宝非常爱喝红酒，最近，他看了法国一种红酒的广告，异常着迷，非常想买，又怕被老婆骂

12.

末位淘汰法则就是企业为满足竞争的需要，通过科学的评价手段，对员工进行合理排序，并在一定的范围内，实行奖优罚劣，对排名在后面的员工，以一定的比例予以调岗、降

职、降薪或下岗、辞退的行为。其目的是促进在岗者激发工作潜力，为企业获得竞争力。

根据上述定义，下列属于末位淘汰法则的是：

A. 上五年级的小明因为期末考试成绩排名在班里倒数第一而被学校要求留级

B. 许倩在一次应聘过程中由于专业能力笔试排名未进前三而没有得到面试的资格

C. 销售专员张枫两个月的绩效考核均不合格，被公司要求参加销售培训或者调岗

D. 淘宝客服李林虽然能力不错，但相较公司的其他客服业务量最低，最终被辞退

13.所谓“撇脂定价法”又称高价法，即将产品的价格定得较高，尽可能在产品生命初期，在竞争者研制出相似的产品以前，尽快的收回投资，并且取得相当的利润。然后随着时间的推移，再逐步降低价格使新产品进入弹性大的市场。

根据上述定义，下列不属于撇脂定价法的是：

A. 中国电信在九十年代初正是通过收取较高的电话初装费而获得了成功

B. 戴尔和盖特惠公司通过低成本的邮购渠道销售高质量的电脑产品，它们的销售量直线上升，而此时通过零售店销售的 IBM、康柏、苹果和其他竞争对手根本无法和它们的价格相比

C. 苹果公司的 iPod 产品一推出就获得成功，第一款 iPod 零售价高达 399 美元，但是有很多“苹果迷”既有钱又愿意花钱，还是纷纷购买

D. 英特尔公司开发出一种电脑芯片时，如果该芯片明显优于竞争芯片，那么英特尔就会设定它能够设定的最高价格。当销售量下降时，或者受到竞争对手开发出类似芯片的威胁时，就会降低芯片价格

14. 医疗事故是指医疗机构及其医务人员在医疗活动中，违反医疗卫生管理法律、行政法规、部门规章和诊疗护理规范、常规，过失造成患者人身损害的事故。

根据上述定义，下列选项属于医疗事故的是（ ）。

A. 实习生林某在给一位病人换液体时错把装在葡萄瓶中的煤油当作已加入抗生素的液体给病人换上。导致病人抽搐死亡

B. 王某因感冒去某医院看病，在挂号处因故换了三次科室，挂号员不耐烦了，就在挂号单上写了三个字：老混蛋。老人候诊时看到这三个字，气得当场心脏病发作，最后因抢救无效死亡

C. 刘某因低热在家属陪同下去医院就诊，接诊医师为他静脉输液，2 小时后，该病员气喘、抽搐，病员家属呼叫医生、护士，但该医生已不在

位(不到下班时间), 10 分钟后, 病员死亡

D. 周某在高速公路上发生了车祸, 被大货车挤压到护栏上已经达到两个多小时, 120 急救医生到达现场后, 并没有采取任何救援措施就返回急救车上。最终, 韩某因失血过多而死亡

15. 犯错误效应, 也称“白璧微瑕”效应, 是指小小的错误反而会使有才能的人人际吸引力提高。根据上述定义, 下列属于犯错误效应的是:

A. 大物理学家爱因斯坦有一举动让我们感到非常可爱, 就是他帮助邻家小姑娘做算术题, 并且津津有味地吃小姑娘给他的甜饼

B. 小李是某大型外资企业的职员, 他能力超群, 为公司赢得了很多的客户, 获得了巨大的利润。然而他在同事中并不受欢迎, 很多人都有意无意地躲避他, 甚至还有人私底下挖苦他

C. 1961 年, 美国总统肯尼迪试图在猪湾侵入古巴, 结果计划惨遭失败。消息传来, 全国一片哗然。令人不解的是, “猪湾事件”非但没有使肯尼迪的声望降低, 相反, 他的声望却大大提高了

D. 2009 年著名高尔夫运动员伍兹的一次车祸, 在短短的几周内。引出了多达十几位的情妇队伍, 舆论哗然, 多家著名赞助商撤掉了由伍兹代言的广告

16. 食盐效应: 做菜时没有其他任何调料都勉强可以吃, 惟独没有盐, 手艺再高的厨师任其怎么调和其他调料都没法食用——盐, 不可或缺; 但是放得太多, 更没法吃; 舀一勺往人嘴里送, 只能使人反胃呕吐; 想吃



甜食端来咸菜，同样让人皱眉。所以，好东西也应适度、适时，“需要的才是最好的”。

根据上述定义，下列体现了食盐效应的是：

- A. 现在有些父母为了培养子女的独立生活能力，从中学开始就让子女住校，有些孩子刚开始时不适应，在学校宿舍偷偷地流泪
- B. 小李从小就被父亲要求背诵四书五经，小李觉得背起来很痛苦，长大后发现这些知识对自己的帮助很大
- C. 小庄是一名中学老师，经常当众指出学生的缺点，批评学生之后说：“我是为了你好！”但学生并不怎么领情，依然我行我素
- D. 吴某特别喜欢运动，经常在周末和朋友一起踢足球，有一次在踢球时不慎受伤，休息了一个礼拜。耽误了工作

### 三、常识判断(10题)

17.海关负责人陈某，在负责查处一起案值巨大的走私案件时，本应移送检察机关追究行为人的刑事责任，但陈某由于接受行为人贿赂人民币2万元，便大事化小，以行政处罚代替了刑事处罚，陈某的行为应定性为（ ）

- A. 已构成受贿罪
- B. 已构成放纵走私罪
- C. 已构成徇私舞弊不移交刑事案件罪
- D. 已构成受贿罪，徇私舞弊不移交刑事案件罪，应实行数罪并罚

18.派出机关是指由县级以上地方人民政府经有权机关批准,在特定行政区划内设立的行政机关。下列不属于派出机关的组织是( )。

A. 区公所 公安派出所 B. 街道办事处 C. 地区行政公署

19.网民个人信息及隐私泄露近年来成为热议话题,尤其是2013年3·15期间媒体曝光Cookie可能导致的用户隐私被窃取等问题,再次引发公众广泛关注。关于Cookie,下列说法错误的是( )。

A. 一种能让网站服务器把少量数据储存到客户端的硬盘或内存,或是从客户端的硬盘读取数据的技术

B. 可以用来判定注册用户是否已登录网站,从而免去用户再次登录网站重复输入的繁琐

C. 借助Cookie可以跟踪、收集、分析用户上网习惯,从而帮助企业实现广告的精准投放

D. 由于Cookie可能导致用户隐私被窃取等问题,应当对其进行限制使用

20.在行政诉讼中,人民法院认为规章之间不一致的,应报请( )作出解释或者裁决( )

A. 最高人民法院 B. 最高国家权力机关 C. 最高人民检察院 D. 国务院

21.第5题 下列属于不可以提起复议的行为的是( )。

- A. 国务院某部门的《关于提高食盐出厂(场)价格的通知》
- B. 某市政府的《××市农村社会基本养老保险实施细则》
- C. 某镇政府的《关于出生人口性别比升高专项整治活动的意见》
- D. 某省人大的《××省实施(中华人民共和国消费者权益保护法)办法》

22.下列关于日食的表述不正确的是（ ）。

- A. 一次完整的日全食过程的顺序是：初亏、食既、食甚、生光、复圆
- B. 中国的《尚书》上有世界上最早的日食记录
- C. 日食主要有日全食、日偏食和日环食
- D. 日全食是因为地球挡住了太阳光线

23.关于宇宙的起源，最具代表性、影响最大的理论是（ ）。

- A. 黑洞理论
- B. 大爆炸理论
- C. 暗物质学说
- D. 能量守恒定律

24.

某律师同为甲、乙两公司的常年法律顾问，而且在其顾问服务项目中均包括诉讼案件的代理，现甲、乙两公司之间因合同纠纷起诉至法院，两公司均要求该律师担任其代理律师。对此该律师应该怎么办？（ ）

- A. 代理 A 公司，不代理 B 公司
- B. 代理 B 公司，不代理 A 公司
- C. 不代理任何一方，推荐其他律师代理
- D. 同时为双方代理

25. 和谐社会可以理解为：

- A. 西方社会的“福利社会”
- B. 社会主义的治国思想
- C. 我国古代社会描写的“田园牧歌”
- D. 大同社会

26.第 88 题 甲公司因乙公司未在约定期限内支付货款而催告其在一个月内存清，否则将解除买卖合同。一个月后乙公司仍未付款。对此，下

列判断不正确的有（ ）。

- A. 甲公司可以单方解除合同
- B. 甲公司解除合同必须经乙公司同意
- C. 甲公司在向法院申请合同无效后才可以解除合同
- D. 甲公司在向法院申请撤销合同后才可以解除合同

#### 四、数量关系(10题)

27. 某人买钢笔和铅笔合计 18 支，共用 30 元，钢笔每支 8 元，铅笔每支 0.4 元，钢笔和铅笔各多少支？

- A. 3, 15 B. 4, 14 C. 6, 12 D. 8, 10

28. 某学校组织一批学生乘坐汽车出去参观，要求每辆车上乘坐的学生人数相同。如果每辆车乘 20 人，结果多 3 人；如果少派一辆车，则所有学生正好能平均分乘到各车上，已知每辆汽车最多能乘坐 25 人，则该批学生人数是（ ）

- A. 583 B. 483 C. 324 D. 256

29. 一只船发现漏水时，已经进了一些水，水匀速进入船内。如果 10 人淘水，3 小时淘完；如 5 人淘水，8 小时淘完。如果要求 2 小时淘完，要安排（ ）淘水。

- A. 15 人 B. 12 人 C. 14 人 D. 16 人

30.

有两个相同的正方体，每个正方体的六个面上分别标有数字 1、2、3、4、5、6。将两个正方体放到桌面上，向上的一面数字之和为偶数的有多少种情形？（ ）

以上内容仅为本文档的试下载部分，为可阅读页数的一半内容。如要下载或阅读全文，请访问：<https://d.book118.com/305203000221012010>