

南海区 2027 届高一级初高中衔接学习素养测试

历史试题

注意事项：





1. 本试卷分第 I 卷（选择题）和第 II 卷（非选择题）两部分。答卷前，考生务必将自己的姓名、准考证号填写在答题卡上。
2. 回答第 I 卷时，选出每小题答案后，用铅笔把答题卡上对应题目的答案标号涂黑。如需改动，用橡皮擦干净后，再选涂其它答案标号。写在本试卷上无效。
3. 回答第 II 卷时，将答案写在答题卡的指定区域上。写在本试卷上无效。

第 I 卷选择题（60 分）

一、选择题：满分 60 分。本大题共 20 小题，每小题 3 分。在每小题给出的四个选项中，只有一项符合题目要求。

1. 据题下表信息可知，当时两地（ ）

深圳、台湾地区出土新石器时代文物

遗址及文物名称	出土文物	花纹样式
深圳咸头岭遗址彩陶		
台湾圆山文化遗址陶罐		

- A. 过着群居生活
B. 存在必然的联系
C. 农业生产发达
D. 陶艺具有相似性
2. 西周晚期中原地区兴起一种宽大的长“深衣”，上衣下裳相连；春秋晚期逐渐发展成为短款的“深衣”，其外形与西北地区人们着装相似。该变化主要得益于（ ）
- A. 民族交融的加强
B. 早期国家的建立
C. 中央集权的确立
D. 等级观念的强化
- 3.

公元前 111 年，汉武帝“分威武、酒泉地置张掖、敦煌郡，徙民以实之”；到西汉末年时，威武郡“户万七千五百八十一”、张掖郡“户二万四千三百五十二”。这表明，当时（ ）

- A. 休养生息初见成效
- B. 中央机构不断完善
- C. 地方建设取得发展
- D. 专制皇权高度强化

4. 南北朝时期货币铸造方面发明了翻砂工艺，省去做模制范所必须花费的人力物力，只需母钱与砂型即可实现循环往复的铸造作业，既节省成本又提高效率。这（ ）

- A. 源于当时政权分立
- B. 有利于商业发展
- C. 推动了冶铁业发明
- D. 加速了人口南迁

5. 日本奈良正仓院藏有一“鸟毛立女屏风”，其多种绘画要素均带有唐朝特征；日本学者根据屏风所贴的鸟羽及背面的日本文书，判断其为日本制品。由此可见（ ）

- A. 立场影响价值判断
- B. 唐朝经济非常繁荣
- C. 屏风产地无法确认
- D. 唐朝文化惠及日本

6. 下图为明朝政府颁发给西北各少数民族的“金牌信符”。各少数民族需根据“信符”数量向明朝提供相应数量的马匹，并可获得茶叶作为补偿。明朝此举旨在（ ）



- A. 推行对外贸易
- B. 强化国家治理
- C. 维护丝绸之路
- D. 监察地方吏治

7. 《清实录》记载，乾隆六年全国人口总数为 1.43 亿，到乾隆五十九年，人口增长至 3.13 亿。《清实录》采取的纪年方式是（ ）

- A. 年号
- B. 庙号
- C. 谥号
- D. 公元

8. 1880 年，上海创设自来水公司，为中国引用自来水之始；1882 年，建立了第一个电话交换所并开放通电话。据此可知，当时上海（ ）

- A. 实业救国思潮盛行
- B. 全面实行对外开放
- C. 近代化建设已展开
- D. 成为全国贸易中心

9. 下表为武昌起义前夕在华外国人对中国时局的见解。他们认为（ ）

以上内容仅为本文档的试下载部分，为可阅读页数的一半内容。如要下载或阅读全文，请访问：<https://d.book118.com/308115130127007004>