

高中学 水平 (必修科目)抽

地理

注意事 ：

考生在答 前 真 本注意事 及各 答 定

1.本 卷共 10 ,包括 (第 1 一第 30 ,共 30 60 分)、  
判断 (第 31 ~第 40 ,共 10 10 分)、 合 (第 41 一第 44 。  
共 4 30 分)共三部分。考生答 所有答在答 卡上,答在本 卷上无  
效。本次考 75 分 。考 束后, 将本 卷和答 卡一并  
放在桌面,等待 考 收回

2.答 前, 必将自己 姓名、准考 号用 写黑色字迹 0.5 毫米  
字笔填写在本 卷及答 卡上。

3. 真 考 在答 卡右上角所粘 条形 上 姓名、准考  
号与否与本人 相符合。

4.作答 和判断 ,必 用 2B 笔将答 卡上 目 答  
案 号涂黑。如需改 , 用橡皮擦 后,再 涂其他答案。作答  
合 ,必 用 写黑色字迹 0.5 毫米 字笔写在答 卡上 指定位  
置,在其他位置答 一律无效

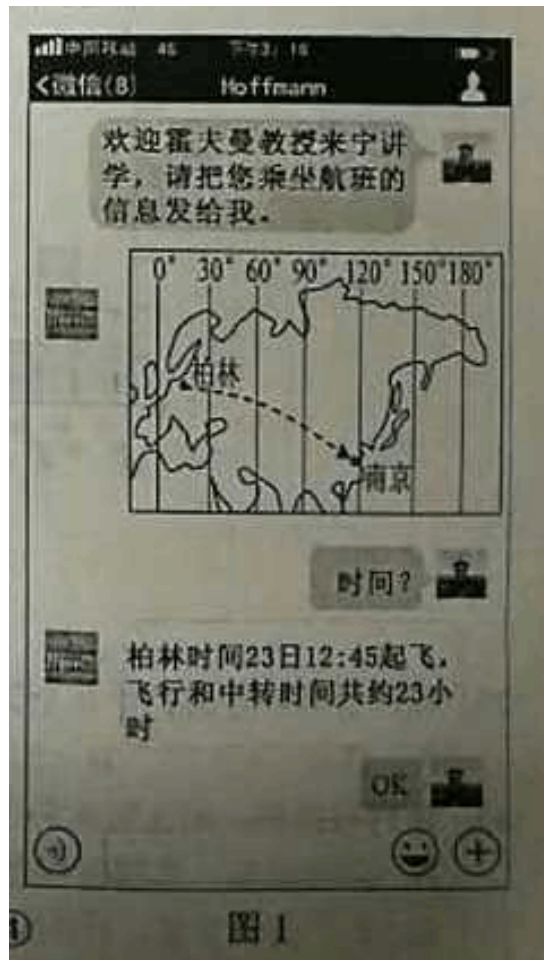
一、 :在下列各 四个 中,只有一种 是量符合

目 定 。 在答 卡上 方框内填涂(本部分共 30 ,每 2 分,

共 60 分)

1 月,南京王 家邀 德国柏林 霍夫曼 家来 授天文学, 1

霍夫曼 家通 微信与王 家 接机事宜 截 。 回答 1-2 。



1、根据霍夫曼 家与王 家 聊天信息可推知,霍夫曼 家 抵南京禄口机

A.23 日 18:45      B.24 日 4:45      C.24 日 18:45      D.24 日 19:45

2、霍夫曼 家在 学中 到巨蟹座 55e 是一 着巨蟹座 55A

太阳系外行星。 行星直径达 21 万公里, 量是地球 8 倍,公 周期

18 小 ,表面温度靠近  $2700^{\circ}\text{C}$ , 被称 “地 星球”。如下有关其被称

“地 星球” 推 符合 是 天体

①离恒星极近      ②引力极小      ③公 速度极快      ④

不存在液 水

A、①②③

B、①②④

C、①③④

D、

②③④

2 某地区地 剖面 。 因回答 3-4 。

3. 中各岩 形成 先后次序最


也 是

A. ⑤-④-③-②-①

B. ①-②-③-⑤-④

C. ①-②-③-④-⑤

D. ④-⑤-③-②-①



4. 示区域曾 生

A.褶 运

B.断 活

C.火山

D.地壳升降

泉水是从地下深 自然涌出 或 人工揭 ,未受 染 地下 水,  
高海拔冰川 泉水是宝 高品 用 泉水。 3 我国某高海拔  
冰川 泉水 地示意 , 回答 5-6 。

5. 泉水水源地 最佳位置是

- A、①
- B、②
- C、③
- D、④

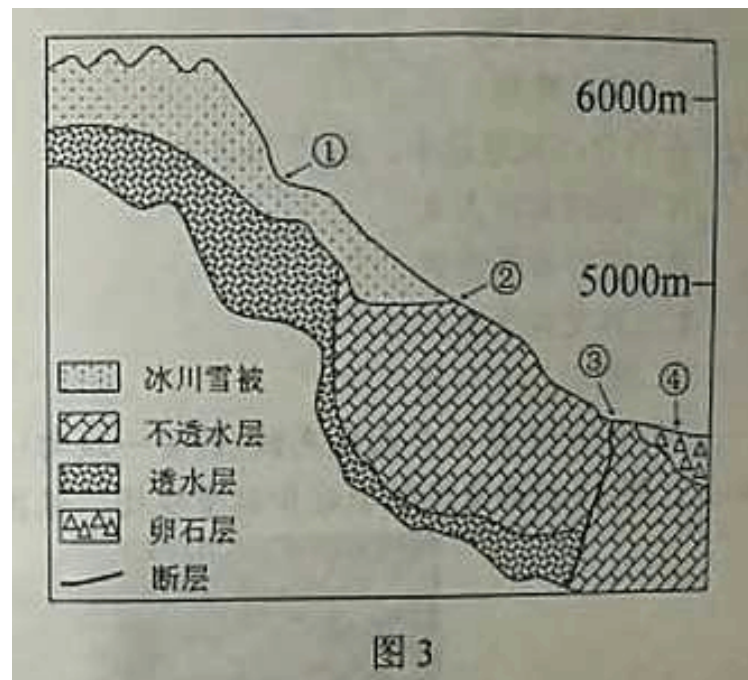


图3

6. 决定 泉水品 水循 是

- A. 蒸
- B. 降水
- C. 地下径流
- D. 水汽 送

4 我国某地 1 月 1 日-8 日天气状况 化示意 。 回答 7-8 。

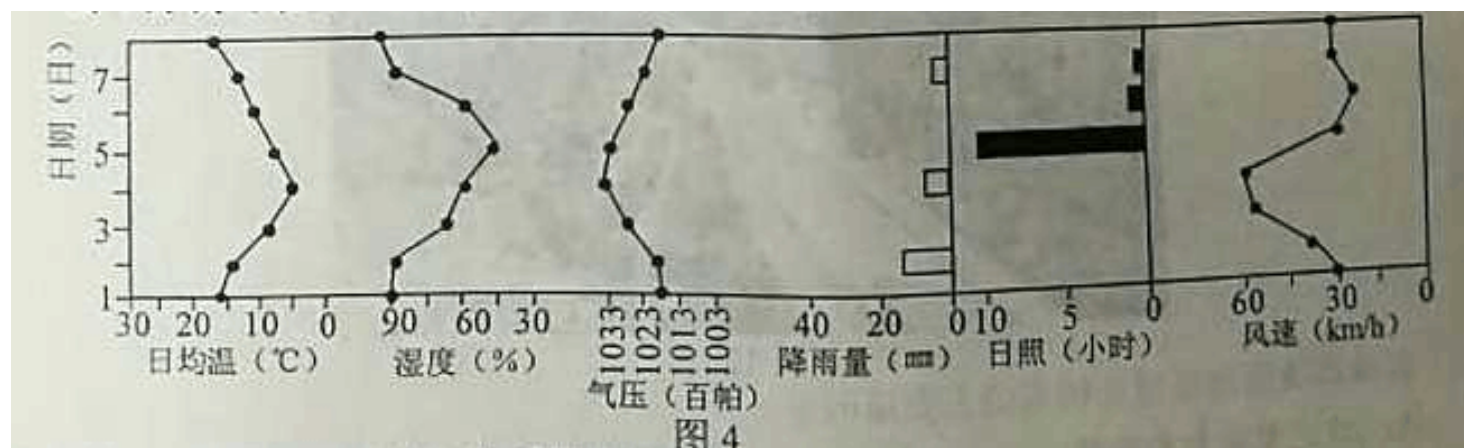


图4

7. 1 月 1-4 日影响 地 天气系 最也 是

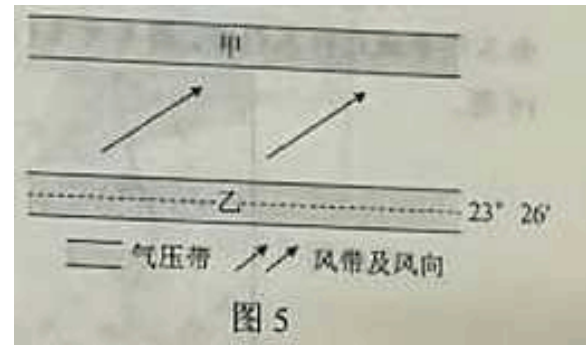
- A、暖
- B、冷
- C、准静止
- D、反气旋

8. 地昼夜温差最大 是

- A. 1 月 4 日
- B. 1 月 5 日
- C. 1 月 6 日
- D. 1 月 7 日

5 某半球气 压带、风带分布局部示意，回答 9-10。

9 中气 压带成因及其气流垂直运 动方向是



A,甲: 力原因 下沉

B.乙: 力原因 下沉

C,甲: 力原因 上升

D.乙: 力原因 上升

10.从气候角度考 虑,整年都受到 中 国 影响 大 西部地区,最 合适种植

A、甘蔗 B、牧草 C、水稻 D、柑橘

6 1月11日9 时 亚洲部分地区海平面气 压形势 ( 单位:hPa)。

回答 11-12。

11.此 时,最也 出 现 暴雪天气

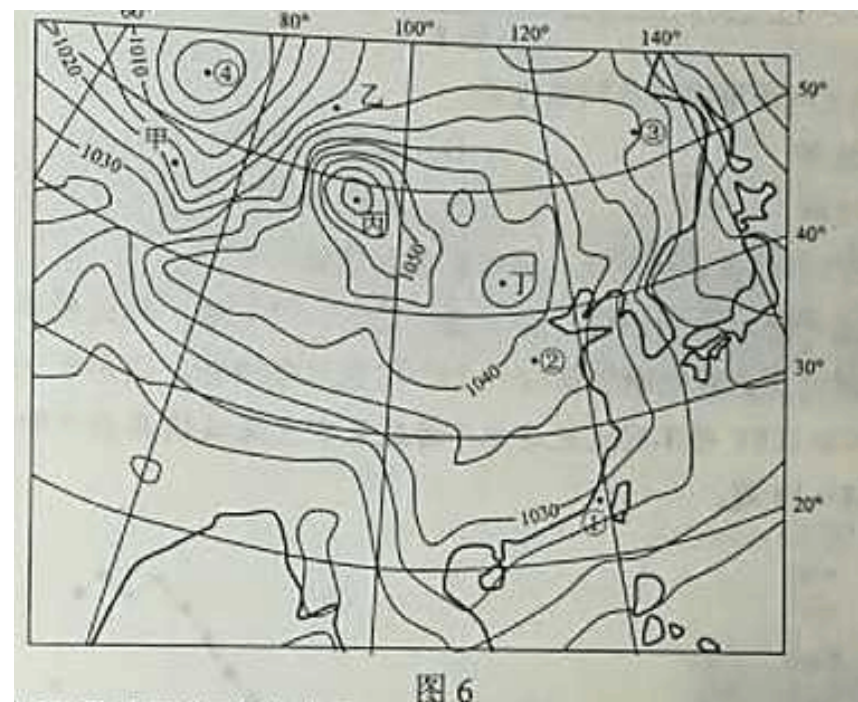
地点是

A、甲

B、乙

C、丙

D、丁



12、此 时,下列地点 天气状况是

- A. ①-阴雨,西南
- B. ②-晴朗,微
- C. ③-高脊附近,温暖
- D. ④-反气旋控制,寒冷

7 洲中部某山地自然 分布示意 . 回答 13-14

13. 致甲、乙自然 差异 重要原因 是

- A,水分
- B. 量
- C.光照
- D.坡度

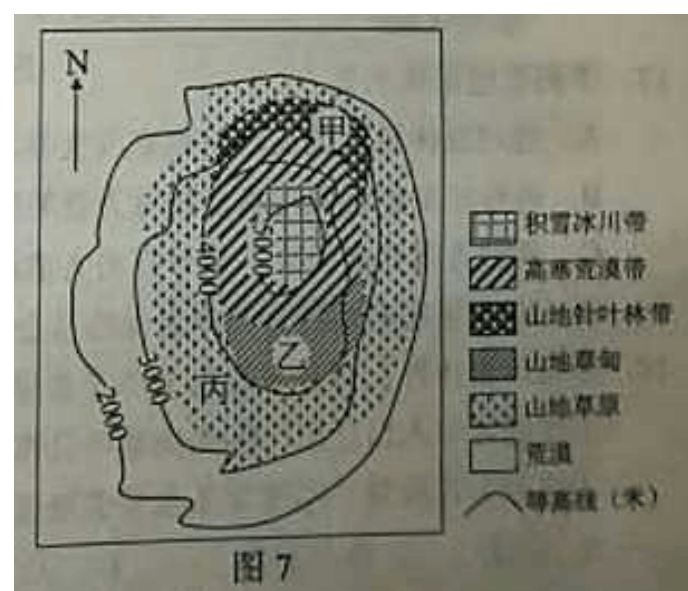


图 7

14.非洲赤道附近地区广泛分布丙自然植被

重要原因是

- A. 度 低
- B. 海洋
- C.海拔 高
- D.寒流减湿

玉 是我国第一种石油工 基地,被列 我国 源枯竭型都市,政府所

在地由玉 老城迁往玉 市, 8 玉 地区位置和光伏 配套

景。 回答 15-16。

15.嘉峪关市和玉门市形成共同条件是

- A.交通和地形
- B.水源和地形
- C.河流和气候
- D. 和交通

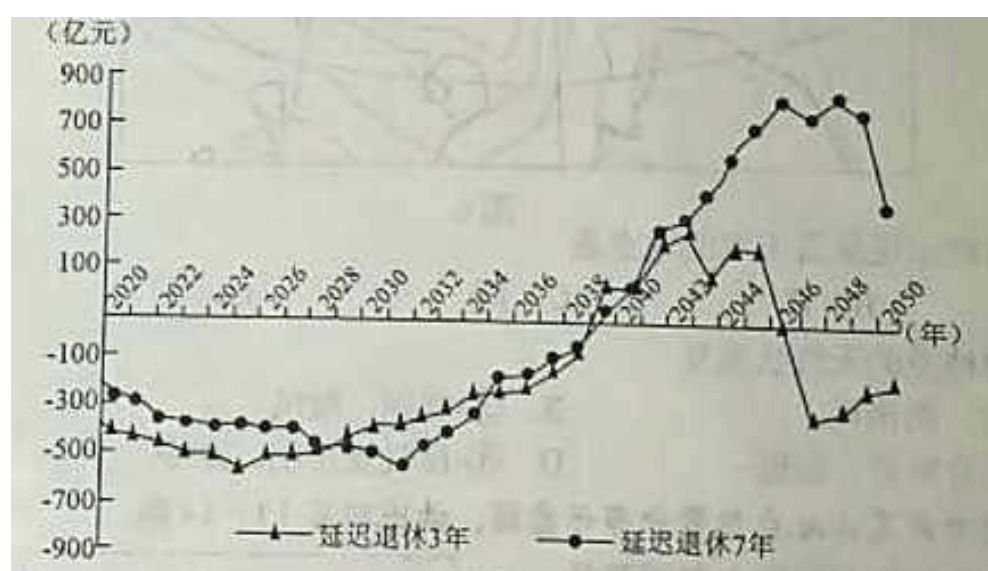


16.近年来,玉门市光伏与

配套建,可以

- A.提高力量,全面替代石油
- B.集运用土地,减少成本
- C.使力更定,增供
- D.增能,足市需求

9 -2050年不一延退休年政策下上海城养老保基金收支盈示意。 回答 17-18。



17.下列述是

A.延 退休政策 行将 底 化养老保 基金 局面

B.两种方案养老保 基金扭 盈 差异 大

C.两种方案养老保 基金 最大 出 相差

D.2047 年左右两种方案养老保 基金收支盈 相差最大

18.除延 退休外,有助于改善上海养老保 基金 状况 合理措施

尚有

①增 老年人口迁出②加 老年公寓建

③ 整生育政策④建立基金保 增 运行机制

A.①②

B.③④

C.①④

D.②③

“卧城”是指大都市周 承担居住 能 星城。 10 某都市 昼

夜人口 化 。

回答 19-20 。

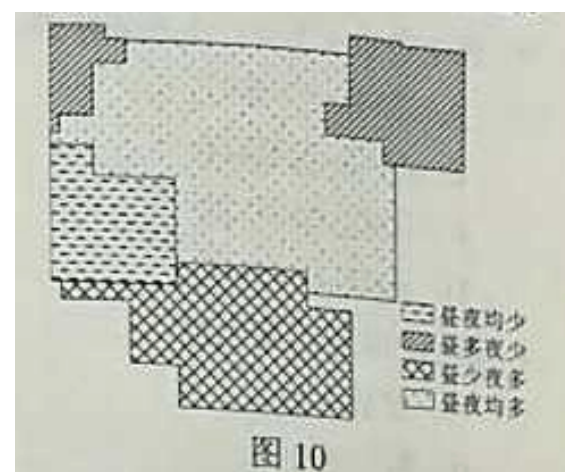
19. 市“卧城”重要位于 都市

A.北部

B.南部

C. 南部

D. 北部



20.“卧城”具有 重要特点是

A.第二 、第三 达

B.可以有效控制大都市人口

C.自成体系, 母城依附性 小



D.分布在通往母城 交通干 附近

特色小镇 源于浙江,是一种新型行政建制 . 11 浙江部分特色

小 分布 。 回答 21-22 。



图 11

D.特色建筑

21. 中特色小镇 建 关 是

A、特色

B.生 旅游

C. 史文化

22.在特色小镇 建 中,政府 首先

A、引 高端人才

B、 行市

C、开 房 地

D、配套基 施

12月6日西成高 (西安—成都)全 开通运行,高 沿 隧比例高

达 85%以上。

12 西成高 新 街站景 。 回答 23-24 。



23、西成高 沿途 隧比例高 重要原因是

- A、沿途聚落分布密集      B、保留野生 物迁徙通道  
C、沿途山区面 广大      D、 省有限 土地 源

24、西成高 建 与运行 重要条件是

- A.自然条件 越      B. 金条件充足      C.科学技 步  
D、消 市 需求

以来,有西方 达国家大力推 “ 回迁” 略,鼓励在国外 行生

本国企 回迁,底,该国一家 子 品 装企 欲从我国沿海地区回  
迁本国 行生 。据此回答 25-26 。

25.近年来,在我国 行生 子 品 装企 区位条件 生了很  
大 化,下列区位条件 化 其生 有利 是

- ① 力成本②土地价格③集聚和 作程度④市 模  
A.①②      B.②③      C.③④      D.②④

26.若 企 回迁后生 品与 模均保持不 , 其

- A、 售市 大      B. 离企 部      C、运送成本增

以上内容仅为本文档的试下载部分，为可阅读页数的一半内容。如要下载或阅读全文，请访问：<https://d.book118.com/308141040103006031>