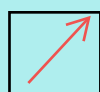







SOLD

@备考首选

通关无忧 轻松拿下考试

-  基础阶段—专业知识
-  刷题阶段—重点题库
-  冲刺阶段—押题点睛
-  考点覆盖—精编习题
-  紧扣考纲—直击考点
-  历年真题—押题抢分

本封面内容仅供参考，实际内容请认真预览本电子文本

祝您考试顺利

# 江苏省淮安市 2022 年初中毕业暨中等学校招生文化统一 考试 物理试题



欢迎参加中考，相信你能成功！请先阅读以下几点注意事项：

1. 试卷分为第I卷和第II卷，共 6 页。全卷满分 80 分，考试时间 80 分钟。
2. 第I卷每小题选出答案后，用 2B 铅笔把答题卡上对应题目的答案标号涂黑，如需要改动，先用橡皮擦干净后，再选涂其它答案，答案写在本试卷上无效。
3. 答第II卷时，用 0.5 毫米黑色墨水签字笔，将答案写在答题卡上指定的位置，答案写在试卷上或答题卡上规定的区域以外无效。
4. 作图要用 2B 铅笔，加黑加粗，描写清楚。
5. 答题前务必将自己的姓名、准考证号用 0.5 毫米黑色墨水签字笔填写在答题卡上。
6. 考试结束，将本试卷和答题卡一并交回。

## 第I卷（选择题 共 16 分）


一、选择题（本题共 8 小题，每小题 2 分，共 16 分。每小题给出的四个选项中，只有一个选项是符合题意的）

1. 如图所示，湖北出土的一套战国时期的编钟，依大小排列共 65 件，能演奏古今乐曲、音域宽广。“音域”描述的是声音的（ ）



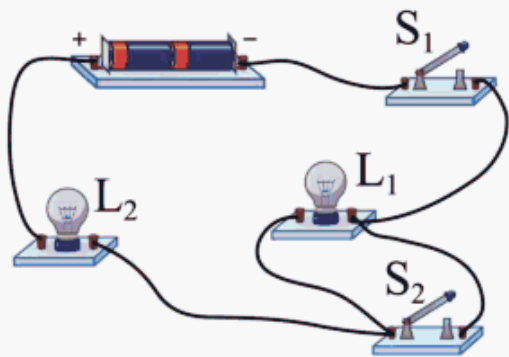
- A. 响度                      B. 音色                      C. 音调                      D. 速度

2. 如图所示，北京冬奥会开幕式采用 24 节气倒计时，向世界展示中国文化。“霜降”节气到来，路边草木附着一层白色的霜，霜形成过程中发生的物态变化是（ ）



- A. 升华                      B. 凝华                      C. 熔化                      D. 液化

3. 如图所示, 闭合开关  $S_1$ , 电灯  $L_1$ 、 $L_2$  都能发光。再闭合开关  $S_2$ , 观察到灯泡的发光情况是 ( )



- A.  $L_1$ 、 $L_2$  都变亮                      B.  $L_1$  变亮、 $L_2$  不亮  
C.  $L_1$ 、 $L_2$  都变暗                      D.  $L_1$  不亮、 $L_2$  变亮

4. 如图所示, 滑雪运动员穿着有较大底面积的滑雪板, 可有效 ( )




- A. 增大自身的重力                      B. 增大对雪地压力  
C. 减小对雪地压强                      D. 减小雪地摩擦力

5. 日常生活中, 物体内能的改变, 通过做功方式实现的是 ( )

- A. 照晒取暖                      B. 摩擦生热                      C. 冰敷降温                      D. 炉火加热

6. 如图所示, 用力打开夹子过程中, 标注的夹子支点、动力、阻力正确的是 ( )



以上内容仅为本文档的试下载部分，为可阅读页数的一半内容。如要下载或阅读全文，请访问：<https://d.book118.com/325121214210011244>