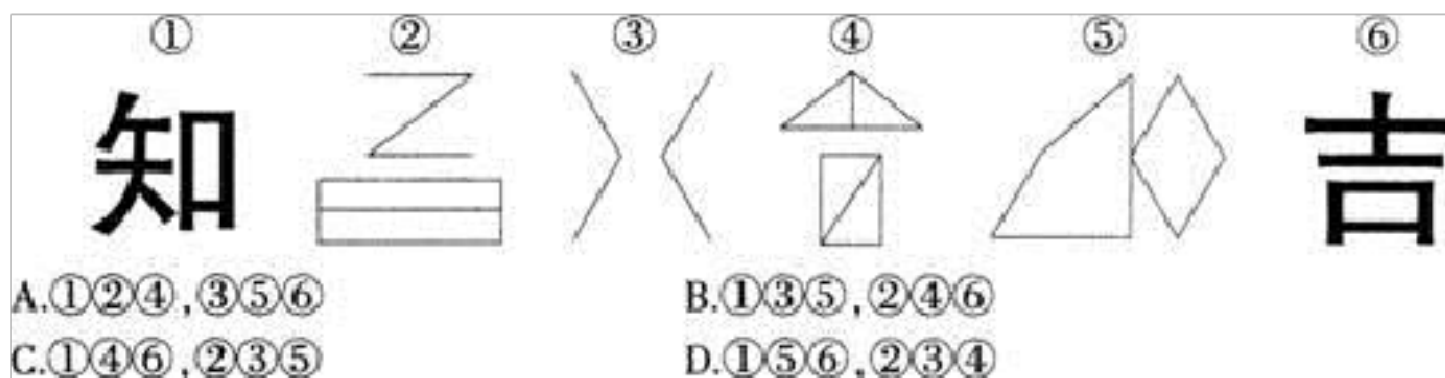


备考 2023 年广东省深圳市公务员省考行政 职业能力测验真题(含答案)

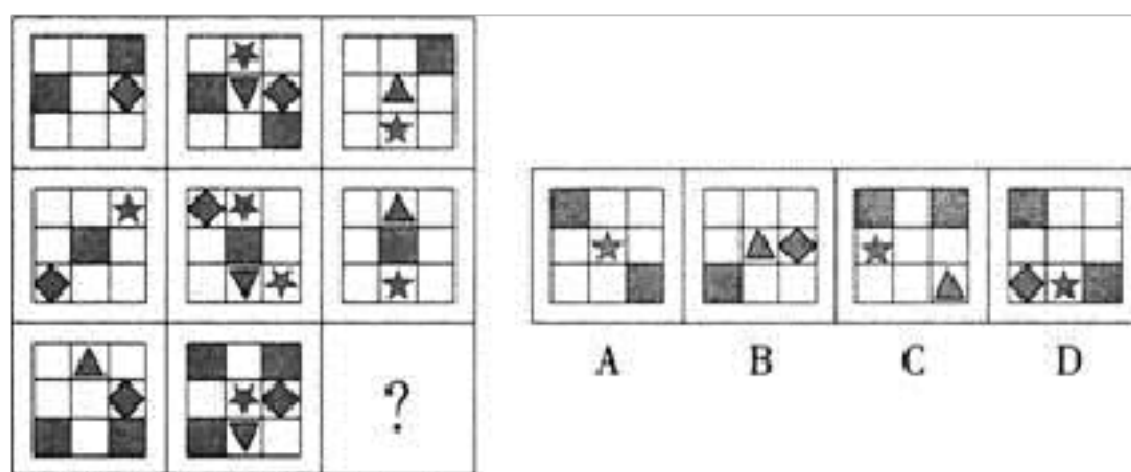
学校:_____ 班级:_____ 姓名:_____ 考号:_____

一、图形推理(6 题)

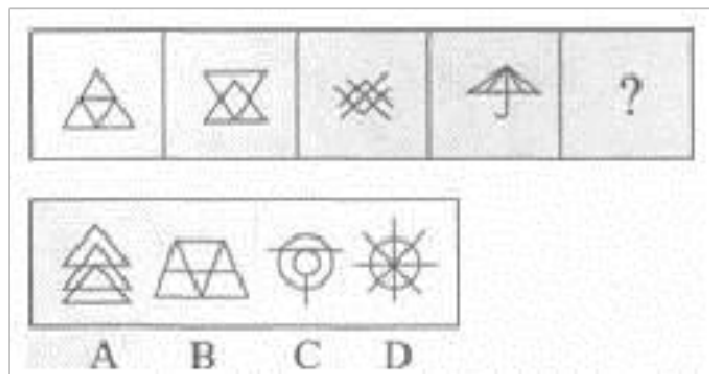
1.把下面的六个图形分为两类，使每一类图形都有各自的共同特征或规律，分类正确的一项是：



2.从所给的四个选项中，选择最合适的一个填入问号处，使之呈现一定的规律性：




3. 请从所给的四个选项中，选择最适合的一个填入问号处，使之呈现一定的规律性。()

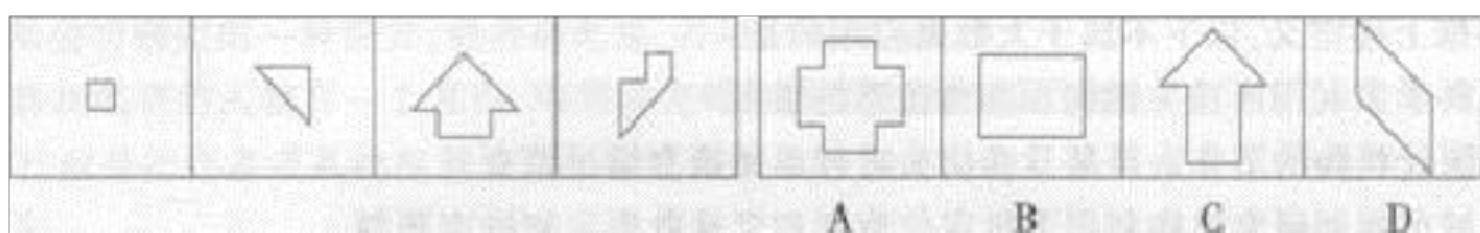


- A. ①③④, ②⑤⑥ B. ①②⑤, ③④⑥ C. ①⑤⑥, ②③④ D. ①②⑥, ③④⑤

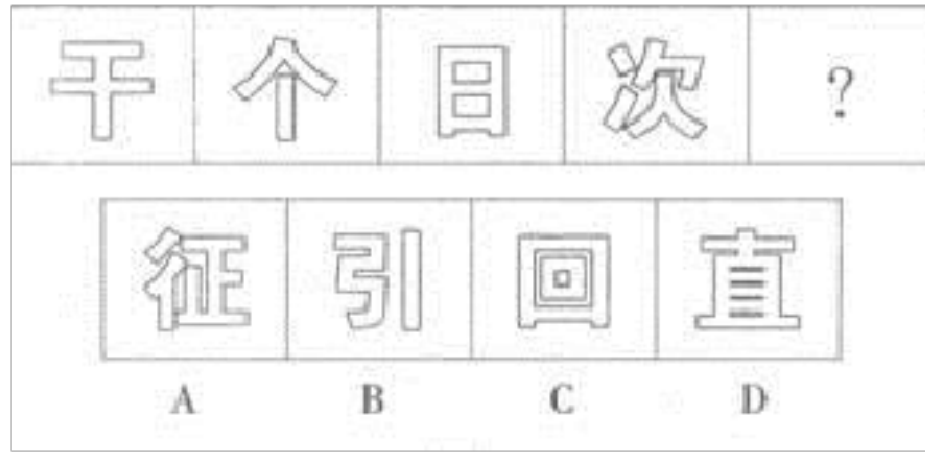
4. 从所给的四个选项中, 选择最合适的一个填入问号处, 使之呈现一定的规律性:



5. 右边四个图形中, 只有一个是 由左边的四个图形拼合 (只能通过上、下、左、右平移) 而成的. 请把它找出来。



6. 从所给的四个选项中, 选择最合适的一个填入问号处, 使之呈现一定的规律性:



二、定义判断(10 题)

7. 民法上的特定物是指具有独立特征或被权利人指定, 不能以他物替代的转让物。下列选项中列有特定物的是 ()。

A.单位里桌上的电脑 B.曹雪芹的《红楼梦》手稿 C.街上的一座造型别致的路灯 D.橱窗里挂的时装

8.人的性格按其倾向性可以划分为内倾型与外倾型两大极端类型。内倾型的基本特点是心理活动倾向于内部世界, 情感内隐, 只对自己感兴趣, 以自我作为行为的出发点 ;外倾型的基本特点是心理活动倾向于外部世界, 情感外露, 对人对物均感兴趣, 以环境作为行为的出发点。

根据上述定义, 下列最可能属于内倾型的是 :

A.小红看上去很文静, 平时上班总是埋头工作, 但如果有事请她帮忙的话, 她也会乐意相助

B.赵某沉迷于网络游戏, 每天除了吃饭、睡觉就是玩游戏, 很少与家人交流, 也不外出工作

C.小李小时候说话略有 E1 吃, 其他小孩都嫌弃他, 上学后在班主任的

帮助下终于交到了朋友

D.小吴平日开朗活泼，但最近为了准备考试，已经有很长时间不出席同学或同事间的聚会

9. 鲁迅先生曾在《无声的中国》中写道：“中国人的性情总是喜欢调和、折中的，譬如你说，这屋子太暗，说在这里开一个天窗，大家一定是不允许的。但如果你主张拆掉屋顶，他们就会来调和，愿意开天窗了。”这种先提出很大的要求来，接着提出较小、较少的要求，在心理学上被称为“拆屋效应”。

根据上述定义，下列不属于“拆屋效应”的一项是：

A.老师在布置作业的时候先给学生比平时多的题目。等学生有所反应的时候，再说可以选做里面的一些题目

B.书店里，萧红首先要求爸爸买一套价值近千元的诗集，爸爸不同意，转而要求买另外两本较便宜的书，最终如愿以偿

C.请各家家庭主妇在一份呼吁安全驾驶的请愿书上签名。两周后，问这些主妇能否在她们的前院立一块写着“谨慎驾驶”的告示牌。结果，先前签过名的55%以上都会同意。而没有签名的只有不足17%的接受这一要求

D.谈判桌上，为了使对方接受自己的500万的赔偿要求，小张在此之前先提出一个800万的赔偿数额，最终使其接受该要求

10.

认知干预，是指通过改变或影响个体已有的认知思维模式来影响个体的

行为水平的各种主动措施。下列属于认知干预的是：

- A.妈妈不同意儿子的婚事，认为他应该找一个踏实可靠的农村姑娘
- B.对于渴望进步的学生，老师应该进一步指导他们，以满足学生的求知欲望
- C.在手术前，医生以正确的医学知识告诉病人不要害怕，消除病人的焦虑
- D.比赛前学生很紧张，老师在旁边给学生加油、鼓气

11.体验营销是指通过看、听、用、参与等手段，充分刺激和调动消费者的感官、情感、思考、行动、关联等感性因素和理性因素的一种思考方式的营销方法。它认为消费者消费时是理性与感性兼具的，消费者在消费前、消费中和消费后的体验才是购买行为与品牌经营的关键。

根据上述定义，下列不属于体验营销的是（ ）。

- A.海尔集团在推广热水器时，专门为顾客设立了一个“体验中心”，除了有热水器的展示，顾客还可体验各种供暖、供水方式的效果
- B.某蛋糕店专门为特殊节日、庆典制作了一系列个性蛋糕
- C.某休闲农庄经常开展摘菜、摘果、抓泥鳅等活动，吸引了越来越多的游客
- D.某餐厅设置了仿真森林、瀑布等装饰景观，使就餐者宛若身处野外

12.线性指量与量之间按比例、成直线的关系，在空间和时间上代表规则和光滑的运动。根据上述定义，以下属于线性关系的是（ ）。

- A.王老师的健康状况随年龄的增大每况愈下
- B.商品的价格围绕其价值上下波动
- C.做匀加速直线运动的火箭升空的高度随所用时间的推移逐步增加
- D.小刘参加考试的时候，心跳速度在考试开始前后先快后慢

13. 基层群众性自治组织是指我国依照宪法和法律有关规定，以城乡居民或村民一定居住地为纽带和范围设立的，并由居民或村民选举产生的成员组成的，实行自我管理、自我教育、自我服务的社会组织。依据上述定义，下列组织属于基层群众性自治组织的是()

- A.仙霞东区物业业主委员会和仙霞西区物业业主委员会
- B.仙霞村村民委员会和仙霞路居民委员会
- C.仙霞东区物业管理委员会和仙霞西区物业管理委员会
- D.仙霞东区街道办事处和仙霞西区街道办事处

14. 操作性定义，又称操作定义，是根据可观察、可测量、可操作的特征来界定变量含义的方法。即从具体的行为、特征、指标上对变量的操作进行描述，将抽象的概念转换成可观测、可检验的项目。

根据上述定义，下列属于操作性定义的是：

- A.光的折射是指光由一种介质斜射入另一种介质或在同一种不均匀介质中传播时，方向发生偏折的现象
- B.E-mail 营销有三个基本要素：基于用户许可、通过电子邮件传递信息、信息对用户是有价值的。三个要素缺少一个，都不能称之为有效的 E-

mail 营销

C.文化集丛是指功能上互相整合的一组文化特质，它存在于一定的时空之中并作为一个文化单位发挥功用

D.城市化是人类生产与生活方式由农村型向城市型转化的历史过程。表现为乡村人口向城市人口转化以及城市不断发展和完善的过程

15.皮格马利翁效应是一种心理学现象，指当一个人获得另一个人期望与信任时，他便感觉到获得了支持，从而变得自信与自尊，获得一种积极向上的动力，希望达到对方的期望。

下列属于皮格马利翁效应的一项是（ ）。

A.罗杰·罗尔斯在校长“你会成为纽约州州长”的激励下，从嬉皮顽童成长为纽约第一个黑人州长

B.王教授在教学过程中采用多媒体等现代教学手段，提高了学生掌握知识的效率

C.郎老太太在 60 岁时不顾别人的看法，学习法律，顺利通过司法考试

D.西方有句俗语，你的未来基于你的梦想，对于人生有良好规划，有远大理想的人，其工作往往更有动力，生活也是丰富多彩的

16. 企业健康管理是指企业管理者结合健康医疗服务和信息技术，从社会、生理、心理等各个角度来系统地关注和维护企业员工的健康状态。同时，针对企业员工及企业集体人群的健康危险因素。进行全方位的管理与服务。

根据上述定义，下列属于企业健康管理的一项是：

- A.为员工办理医疗保险和工伤保险
- B.对拟录取的新员工进行健康检查
- C.三八妇女节时为女员工发放蜂蜜等保健食品
- D.每三个月组织全体员工去医院进行一次体检

三、常识判断(10 题)

17.

“三个代表”重要思想坚持马克思主义关于无产阶级政党必须植根于人民的政治立场，注重从人民群众的实践中吸取养分，为我们（ ）。

- A.在新的时代条件下运用辩证唯物主义和历史唯物主义认识 and 把握社会发展规律、更好地推进我国社会主义事业做出了新的理论概括
- B.坚持马克思主义的最终奋斗目标、根据实际制定和实施推动我国社会主义发展的科学战略提供了新的理论基础
- C.坚持马克思主义的群众观点、不断实现最广大人民的根本利益提出了新的理论要求
- D.坚持马克思主义基本原理、不断在实践中推进理论创新打开了新的理论视野

18.

法律规范生效的时间，如无明文规定，依照惯例应该是（ ）。

- A.通过三个月后
- B.批准之
- C.公布之
- D.公布三个月后

19.深化公司住所地在长春，因业务经营需要该公司在北京设立了一家分

公司。该分公司以自己的名义与北京国安公司签订了一份房屋租赁合同，租赁国安公司的楼房一栋，年租金为300万元。现分公司因拖欠租金而与国安公司发生纠纷。下列说法正确的是（ ）。

- A.该分公司不具有民事主体资格，又无深化公司的授权，租赁合同无效
- B.房屋租赁合同有效，法律责任由合同的当事人独立承担
- C.合同有效，依该合同产生的法律责任由深化公司承担
- D.合同有效，依该合同产生的法律责任由深化公司及其分公司承担连带责任

20.

雷达是依照某种动物的回声定位原理发明的，这种动物是：

- A.蝙蝠 B.海豚 C.长颈鹿 D.乌龟

21.历法是推算年月日，使其与相关天象对应并协调时间的方法。现行历法主要有三种：阳历即太阳历，主要依据为回归年；阴历或称太阴历，主要依据为朔望月；阴阳历的平均历年为回归年，历月为朔望月。那么，我国农历属于()。

- A.阴历 B.阳历 C.阴阳历 D.以上都不是

22.第83题 著名的意大利比萨斜塔倾斜的主要原因（ ）。

- A. 塔底地层下陷的缘故
- B. 受到地震的影响
- C. 常年遭受飓风吹袭的结果
- D. 钟塔的木料砖石年久破损失

23.

海关负责人陈某，在负责查处一起案值巨大的走私案件时，本应移送检察机关追究行为人的刑事责任，但陈某由于接受行为人贿赂人民币 2 万元，便大事化小，以行政处罚代替了刑事处罚，陈某的行为应定性为（ ）

- A.已构成受贿罪
- B.已构成放纵走私罪
- C.已构成徇私舞弊不移交刑事案件罪
- D.已构成受贿罪，徇私舞弊不移交刑事案件罪，应实行数罪并罚

24.下列对应关系正确的是：

- A.白令海峡-沟通太平洋和大西洋-北美洲和亚洲的分界线
- B.德雷克海峡-沟通太平洋和北冰洋-南美洲和南极洲的分界线
- C.丹麦海峡—沟通北冰洋和大西洋-欧洲和北美洲的分界线
- D.直布罗陀海峡-沟通大西洋和地中海-欧洲和亚洲的分界线

25. 在管理者应具备的技能中，运用管理者所监督的专业领域中的过程、惯例、技术和工具的能力是（ ）。

- A.技术技能 B.控制技能 C.人际技能 D.概念技能

26.关于 2012 年通过的《民事诉讼法修正案》，下列说法正确的是（ ）。

- A.邻里纠纷可以先找人民调解委员会，不愿调解时可以直接向人民法院提起诉讼
- B.合同纠纷应该选择合同签订地的人民法院管辖

C.经查证属实的电子数据可以作为证据

D.双方当事人已达成书面仲裁协议的，若不是出于自愿，依然可以向人民法院起诉

四、数量关系(10 题)

27.

第 79 题 在 1992 后面补上三个数字,组成一个七位数,使它分别能被 2、3、5、11 整除,这个七位数最小是 ()。

- A. 1992330
- B. 1992210
- C. 1992235
- D. 1992110

28.一个班有 50 名学生,他们的名字都是由 2 个或 3 个字组成的。将他们平均分为两组之后,两组的学生名字字数之差为 10。此时两组学生中名字字数为 2 的学生数量之差为()。

A.5 B.8 C.10 D.12

29.

今年王先生的年龄是他父亲年龄的一半,他父亲的年龄又是他儿子的 15 倍,两年后他们三人的年龄之和恰好是 100 岁,那么王先生今年的岁数是多少?

A.40 岁 B.30 岁 C.50 岁 D.20 岁

30.

第 16 题 某人驾驶一辆小轿车要作 32000 千米的长途旅行(路面基本相同)。除车上装着四只轮胎,又带了一只备用胎,为了使五只轮胎磨损程

以上内容仅为本文档的试下载部分，为可阅读页数的一半内容。如要下载或阅读全文，请访问：<https://d.book118.com/326240240235010035>